



- ← نوروز
- ← نوروز
- ← نوروز
- ← نوروز
- ← نوروز
- ← نوروز

- ریاضی
- علوم
- فارسی
- مطالعات اجتماعی
- دیده‌های آسمان
- قرآن

ریاضی



پسته	۱	z
فندق	۳	y
تخمه	۴	x
آجیل	۸	۴۸۰۰

$\Rightarrow$  پسته = ۶۰۰ گرم

$\Rightarrow$  پسته = ۱۸۰۰ گرم

$\times 600 \Rightarrow$  پسته = ۲۴۰۰ گرم

قرمز	۵	x
کل	۷	۴۲

$x = 30$

$\times 6$

۳۰	y
۴۲	۱۰۰

$$y = \frac{30 \times 100}{42} = \frac{500}{7} \approx 71\%$$



درصد ماهی‌های قرمز تقریباً ۷۱٪ خواهد شد.



در مسائل تخفیف باید درصد تخفیف از کل کسر شود، بنابراین:

پرداختی	۷۰	x	$100\% - 30\% = 70\%$
کل	۱۰۰	۸۷۰۰۰	$x = 870 \times 70 = 60900$



$$S_1 = 0.7 \times 0.5 = 0.35$$

$$S_2 = 0.4 \times 0.5 = 0.20$$

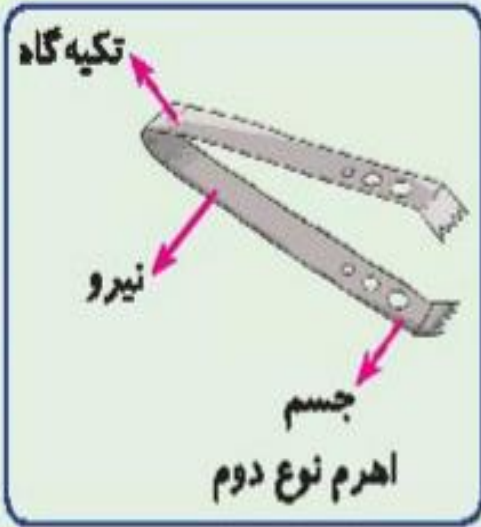
$$S_3 = 0.7 \times 0.4 = 0.28$$

$$S_{\text{کل}} = (S_1 + S_2 + S_3) \times 2 = (0.20 + 0.28 + 0.35) \times 2 = 1.66 \text{ متر مربع} \xrightarrow{\times 10000} 16600 \text{ سانتی متر مربع}$$

# علوم



با افزایش نیرو یعنی با نیروی کمتری می‌توانیم کار را انجام دهیم.....



چرخ و محور

سطح شیب‌دار

چرخ و محور

گوه

پیچ

قرفره



با حس بویایی، بینی اندام حس بویایی است. سلول‌ها (گیرنده‌های) حس بویایی در قسمت بالای بینی (سقف بینی) قرار دارند. ذرات بو با چشم دیده نمی‌شوند و با هوا وارد بینی شده و سلول‌های بینی را که در قسمت بالای بینی قرار دارد تحریک می‌کنند. پیام بویایی ایجاد شده توسط عصب بویایی به مغز فرستاده می‌شود و ما می‌توانیم بوی گل‌ها را تشخیص دهیم.



الف) شستن پوست - کرم ضد آفتاب - مرطوب نگه داشتن پوست

ب) تشخیص دمای محیط

پ) حس بویایی و چشایی

### فارسی

۱ پاسخ به عهده‌ی دانش‌آموز (واگرا)



وسایل لازم: دانش‌آموز می‌تواند با یک بشقاب پلاستیکی و تکه‌های کاغذ رنگی ماهی درست کند و داخل بشقاب بچسباند و با مرورید تزیین کند؛ مانند یک آکواریوم.



پیام: سرود ملی هر کشور به‌صورت کوتاه بیانگر نتایج درخشان و تصمیمات و سربلندی‌های مردم است.

پیام: صدای خواندن پرنده‌های زاغ آرامش‌کویر را از بین برد.

نواحی قطبی



نواحی بیابانی



جنگل‌های استوایی





بندرعباس - سیرجان - بلفق - یزد - میبد - اردکان - بادرود - کاشان - قم - تهران - فیروزکوه - ساری - بندر ترکمن

## هدیه‌های آسمان - قرآن



نور	معارج	اعلی	صف	حشر	حدید	اسراء
-----	-------	------	----	-----	------	-------



و بشارت ده کسانی را که ایمان آوردند و کارهای خوب انجام دادند که برای آنها بهشت‌هایی است.

# پنجم دبستان ارمغان هفته



شماره‌ی

۲۶



نام و نام خانوادگی:

تاریخ:

پایه:

نام آموزگار:

نوروز

ریاضی

نوروز

علوم

نوروز

فارسی

نوروز

مطالعات اجتماعی

نوروز

هدیه‌های آسمان

نوروز

قرآن

## ریاضی



$$۸ \times ۱۰۰۰۰ = ۸۰۰۰۰ \text{ مترمربع}$$

$$\text{عرض} \times \text{طول} = \text{مساحت مستطیل}$$

$$۸۰۰۰۰ = ۲۰۰ \times x$$

$$\text{طول} = \frac{۸۰۰۰۰}{۲۰۰} = ۴۰۰ \text{ متر (طول پارک)}$$

نیازمندان	۱۰	x
کل	۱۰۰	۳۶۰۰۰۰

$\times 36000$

x = ۳۶۰۰۰ کمک به نیازمندان

خرید لباس	۲۰	y
کل	۱۰۰	۳۶۰۰۰۰

$\times 36000$

y = ۷۲۰۰۰ خرید لباس

عیدی	۳۰	z
کل	۱۰۰	۲۵۲۰۰۰

z = ۷۵۶۰۰ عیدی

۲۵۲۰۰۰

— ۷۵۶۰۰

۱۷۶۴۰۰

باقی مانده

۳۶۰۰۰۰

— ۱۰۸۰۰۰

۲۵۲۰۰۰

باقی مانده

$$360000 + 720000 = 1080000$$

گل رز	گل مریم		

هر قسمت ۲ مترمربع است.  $40 \div 20 = 2$

مترمربع ۱۰:  $5 \times 2 = 10$  رز

مترمربع ۲: مریم

مترمربع ۸:  $4 \times 2 = 8$  کاشته نشده

گل آفتابگردان






$\frac{\text{سیب سالم}}{\text{کل میوه‌ها}} = \frac{10}{15}$	$\frac{\text{سیب خراب}}{\text{سیب سالم}} = \frac{5}{10}$	$\frac{\text{سنجد سالم}}{\text{کل میوه‌ها}} = \frac{6}{9}$	$\frac{\text{سنجد خراب}}{\text{سنجد سالم}} = \frac{3}{6}$
---	--	--	---

$\frac{1}{2} = \frac{3}{6} = \frac{5}{10} = \frac{1}{2}$  (ب) بله

$\frac{2}{3} = \frac{6}{9} = \frac{10}{15} = \frac{2}{3}$

علوم

(بخش حلزونی گوش)		(پ)	(لاله‌ی گوش)		(ب)	(سمعک)		(الف)
------------------	---	-----	--------------	---	-----	--------	---	-------

گوش میانی	●	●	محل تشکیل تصویر در چشم افراد سالم است.
استخوان‌های کوچک	●	●	بخشی از گوش که دقیقاً در پشت پرده‌ی گوش قرار دارد.
با عصب بینایی و مستقیم	●	●	لرزش پرده‌ی گوش ابتدا به این قسمت می‌رسد.
شبکیه	●	●	نوع تصویر ایجاد شده توسط چشم در شبکیه می‌باشد.
تصویر کوچک و وارونه	●	●	



انجام حرکات بدن توسط دستگاه حرکتی در بدن صورت می‌گیرد، دستگاه حرکتی انسان از دو بخش استخوان‌ها و ماهیچه‌ها تشکیل شده است، ماهیچه‌ها قسمت نرم زیر پوست هستند، ماهیچه‌ها باعث حرکت بدن می‌شوند و دو دسته ارادی و غیرارادی دارند. استخوان‌ها بخش‌های سخت زیر پوست هستند.

---



دستگاه عصبی مسئول هماهنگ کردن کار اندام‌های داخلی با هم و هماهنگ کردن بدن با محیط اطراف است. دستگاه عصبی بدن از دو بخش مرکزی و محیطی تشکیل شده است. بخش مرکزی شامل مغز و نخاع و بخش محیطی شامل رشته‌های عصبی است.

---



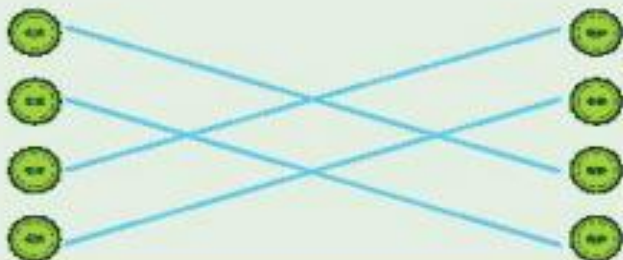
الف) گزینه‌ی «۲»

ب) گزینه‌ی «۱»

# فارسی



توی کفش کسی کردن  
در هاون کوبیدن  
از گوش در آوردن  
در دل کسی آب شدن



پنبه را  
قند  
پا  
آب



کارگر: کسی که کاری را انجام می دهد.

آهنگر: کسی که با آهن کار می کند.



نسیم: باد ملایم

زیباست: قشنگ است

وسیع: پهناور

مراقب: مواظب

جانوران: حیوانات

شنیده می شود: به گوش می رسد

داستان هایی: قصه هایی

مواظبت: محافظت

از بین نروند: نابود نشوند

آغاز: شروع

جنگل پهناور و قشنگ است. صدای آرام باد ملایم در همه جای جنگل به گوش می رسد، گاه نیز غرش و زوزه ی حیوانات، سکوت و آرامش جنگل را می شکند. باید جنگل ها را حفظ کنیم و مواظب باشیم که درختان نابود نشوند. اگر از جنگل محافظت نکنیم شاید دیگر نتوانیم قصه هایی بخوانیم که به این صورت شروع می شوند.

# مطالعات اجتماعی



		ت	ا	ن	ق
		م	ا	ل	ی
	ن	و	ت	ی	ز
ت	ا	ر	د	ا	ص
			گ	ن	ج
	ت	ی	ع	م	ج
				م	غ
			م	ظ	ن
				ر	ی
			ه	ا	ر
		ه	م	ش	چ

- ۱- میزان تبخیر و آلودگی آب آن بسیار کم است. ← ۱
- ۲- مهم ترین راه ارتباط انسان ها با یکدیگر ← ۲
- ۳- از گیلان صادر می شود. ← ۳
- ۴- کالاهایی که تولید شده و به جای دیگر فرستاده می شود را ..... می گویند. ← ۴
- ۵- از عوامل دورکننده ی جمعیت. ← ۵
- ۶- اگر ..... زیاد باشد نیروی زیادی برای دفاع داریم. ← ۶
- ۷- هیچ کس این احساس را دوست ندارد. ← ۷
- ۸- یکی از نکته های مهمی که در هر گروه باید رعایت شود. ← ۸
- ۹- به دریاچه ی بختگان می ریزد. ← ۹
- ۱۰- برای جابه جایی مردم از جایی به جای دیگر لازم است. ← ۱۰
- ۱۱- آب هایی که خود به خود به سطح زمین راه پیدا می کنند. ← ۱۱

# هدیه‌های آسمان - قرآن



کربلا

امام حسین (ع)

کاظمین

امام موسی کاظم (ع)

امام جواد (ع)

سامرا

امام هادی (ع)

امام حسن عسگری (ع)

نجف

امام علی (ع)



به عهد خود وفا کنید.