

ارمغان هفته - پنجم دبستان

نام و نام خانوادگی: تاریخ: نام آموزگار:

ریاضی < فصل ۳: درصد
 مطالعات اجتماعی < درس ۱۰: کشور ما چگونه اداره می‌شود؟
 علوم < درس ۶: چه خبر؟ (۱) (۲)
 هدیه‌های آسمان < درس ۹: یک جهان جشن! (۱)
 فارسی < درس ۹: نام آوران دیروز، امروز، فردا
 قرآن < درس ۶: جلسه اول و دوم

ریاضی

۱ کامل کنید.

الف) خمس یک شکل، در حقیقت ۲۰ درصد است.
 ب) هر کسر با مخرج ۱۰۰، درصد نام دارد.
 $\frac{1}{5} = \frac{20}{100}$
 $\times 20$

۲

کتاب‌فروشی کتاب‌های خود را با ۳۰ درصد تخفیف می‌فروشد. اگر قیمت یک کتاب ۷۰۰۰۰ تومان باشد.
 الف) چند تومان تخفیف می‌گیریم؟ ۲۱۰۰۰
 ب) چند تومان باید پردازیم؟ ۴۹۰۰۰

۳۰ تخفیف	۲۱۰۰۰
۷۰ پرداخت	۴۹۰۰۰
۱۰۰	۷۰۰۰۰

 $\times 70$

۳

نسرین ۵۰۰۰ تومان داشت و ۲۰٪ پولش را خرج کرد. چقدر برایش باقی مانده است؟
 ۱۰۰۰ تومان باقی ماند.

۲۰ خرج	۱۰۰۰۰
۸۰ باقی	۴۰۰۰
۱۰۰	۱۰۰۰۰

 $\times 80$

۴

لباسی را با ۳۰٪ تخفیف به قیمت ۲۱۰۰۰۰ خریدیم. اگر این لباس را با ۵۰٪ تخفیف می‌دادند، ما باید چقدر برای خرید آن پرداخت می‌کردیم؟

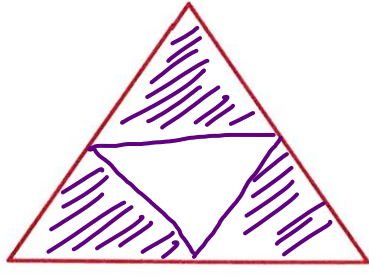
۳۰ تخفیف	۹۰۰۰۰
۷۰ پرداخت	۲۱۰۰۰۰
۱۰۰ کل	۳۰۰۰۰۰

۱۵۰۰۰	۱۵۰۰۰
۱۵۰۰۰	۱۵۰۰۰
۱۰۰ کل	۳۰۰۰۰۰

۵

کل دارایی او ۳۰۰۰۰۰ تومان است.

۷۵٪ از شکل زیر را رنگ کنید.



$$\frac{75 \div 25}{100 \div 25} = \frac{3}{4}$$

علوم

۱ چشم افراد نزدیک بین با چشم افراد دور بین چه تفاوتی دارد؟

افراد نزدیک بین، اجسام نزدیک را خوب می بینند.
افراد دور بین، اجسام دور را خوب می بینند.

۲ افراد نزدیک بین یا دور بین، برای رفع مشکل بینایی خود، باید چه کاری انجام دهند؟

لازم است از عین مناسب استفاده کنند.

۳ وظیفوی پلک در حس بینایی چیست؟

مانع از خشک شدن چشم و جلوگیری از ورود گرد و غبار می شود.

۴ بر حسب راه های مراقبت از چشم را در جای مناسب بچسبان.

دست آلوده به چشم نزنند
از عین شنا استفاده کنند
از عین آفتابی در زمان آفتاب تابیدن.

فارسی

۱ املای کدام عبارت درست است؟ کلمات نادرست را به صورت درست بنویسید.

(۱) تهویل گرفتم

(۲) سپاسگزاری

(۳) دلم نمی خاست

(۴) قرق فکر

تحویل

مغز خواست

۲ با توجه به بیت داده شده، سوالات خواسته شده را بنویسید.

ایران، ای سرای امید بر بامت، سپیده دمید،

معنی: ایران - ای خاندی امید و آرزو بر بام تو سپیده پروزی طلوع کرد.

تعداد جمله: ۳

منادا: ایران - سرای امید

آرایه ادبی

تسبیح

۳ برای هر یک از واژگان داده شده دو هم خانوادم بنویسید.

حضرمآ

مخصوصاً

مخصوصاً

مشارکت

شرکت

شرکت

مشهد

شهید

شهید

جمله‌های کوتاه زیر را گسترش دهید.

کتاب را خواندم. **کتاب زیبا و جذاب اهدایی مادرم را خواندم.**
پدرش به سفر رفت. **پدرش به سفر دور و درازی در قاره آفریقا رفت.**

کدام عبارت «جمله امری» است؟

(۱) مرا به خود آورد

(۲) بلند شو

(۳) کتاب را بستم

(۴) سر خیابان برویم

مطالعات اجتماعی

کامل کنید.

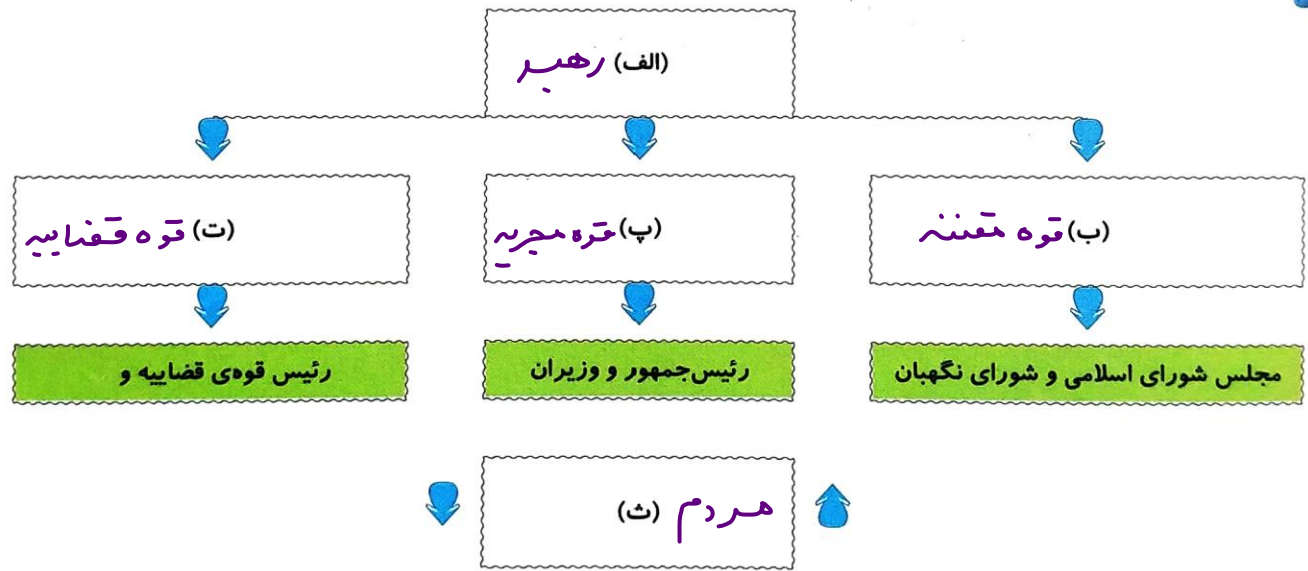
نمایندگان مجلس شورای اسلامی از اعضای قوه **مقننه** هستند که هر سال یک بار توسط **مردم** انتخاب می‌شوند.

هر یک از وظایف زیر، بر عهده‌ی کدام یک از قوای سه گانه کشورمان است؟

الف) صادرات و واردات. **قوه مجریه**

ب) رسیدگی به شکایات مردم. **قوه مقننه**

با انتخاب برچسب مناسب نمودار را کامل کنید.

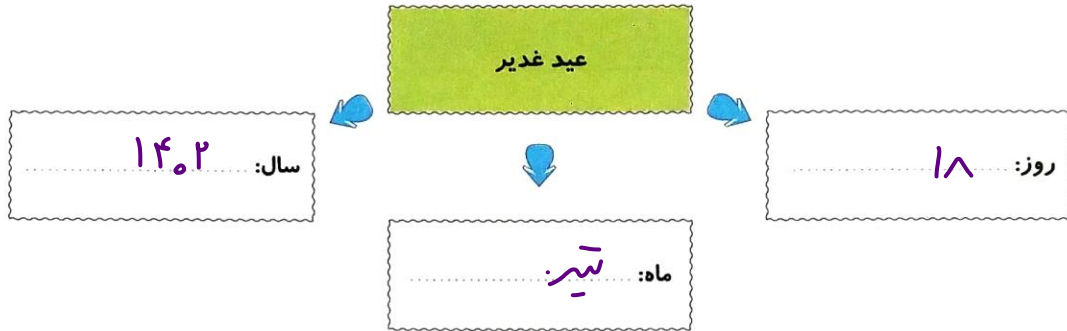


مهم‌ترین وظایف حکومت‌ها چیست؟ (چهار مورد)

۱- تأمین رفاه و آسایش مردم
۲- تأمین امنیت
۳- رسیدگی به شکایات و واخترانات
۴- اجرای قوانین

هدیه‌های آسمان - قرآن

۱ به تقویم نگاه کنید، امسال روز عید غدیر مطابق چه تاریخی از تاریخ شمسی می‌باشد؟



۲ جاهای خالی را کامل نمایید.

الف) حضرت علی (ع) در **لحیه** به دنیا آمد.

ب) پیامبر در روز غدیر فرمودند: «هر کس من **رحیب** و **سیریت** او هستم، این علی **رحیب** و **سیریت** اوست.»

۳ کلمات هم معنی را مانند هم رنگ کنید.

نازل کردیم	مبین	اندیشه کنید	آیات
تعقلون	نشانه‌ها	روشن	آنزَلْنَا

- ◀ کاربرد علائم نگارشی
- ◀ شناخت اداره کنندگان جمهوری اسلامی
- ◀ شناخت وظایف حکومت‌ها
- ◀ علت نام‌گذاری عید غدیر
- ◀ تشخیص معنای کلمات قرآنی

- ◀ حل مسائل درصد
- ◀ شناخت اندام‌های حس بینایی
- ◀ شناخت مشکلات بینایی
- ◀ تشخیص اجزای جمله
- ◀ توانایی گسترش جملات

شاخص‌ها

- خیلی خوب
- خوب
- قابل قبول
- نیاز به تلاش بیشتر