

# ارمغان هفته - پنجم دبستان

شماره‌ی  
۱۵

نام و نام خانوادگی: ..... تاریخ: ..... نام آموزگار: .....

مطالعات اجتماعی < فصل ۳: درصد < درس ۱۰: کشور ما چگونه اداره می‌شود؟

ریاضی < علوم < فارسی <

هدیه‌های آسمان < قرآن <

چه خبر؟ (۱) (۲) < درس ۹: نام آوران دیروز، امروز، فردا

درس ۶: جلسه اول و دوم

## ریاضی

$$\frac{1 \times 20}{5 \times 20} = \frac{20}{100} = 20\%$$

کامل کنید. ۱

الف) خمس یک شکل، در حقیقت ۲۰ درصد است.

ب) هر کسز با مخرج ۱۰۰، درصد نام دارد.

واقعی درصد عبارت

عبارت	درصد	واقعی
تخفیف	۳۰	۲۱۰۰۰۰
پرداخت	۷۰	۴۹۰۰۰۰
کل	۱۰۰	۷۰۰۰۰۰

کتاب‌فروشی کتاب‌های خود را با ۳۰ درصد تخفیف می‌فروشد. اگر قیمت یک کتاب ۷۰۰۰۰۰ تومان باشد.

الف) چند تومان تخفیف می‌گیریم؟ ۲۱۰۰۰۰

ب) چند تومان باید پردازیم؟ ۴۹۰۰۰۰

۲

۳ نسرین ۵۰۰۰ تومان داشت و ۲۰٪ پولش را خرج کرد. چقدر برایش باقی مانده است؟

باقی مانده ۸۰٪ = ۱۰۰٪ - ۲۰٪

برایش باقی مانده ۴۰۰۰ =  $\frac{80}{100} \times 5000$

۳

۴ لباسی را با ۳۰٪ تخفیف به قیمت ۲۱۰۰۰۰ خریدیم. اگر این لباس را با ۵۰٪ تخفیف می‌دادند، ما باید چقدر برای خرید آن پرداخت می‌کردیم؟

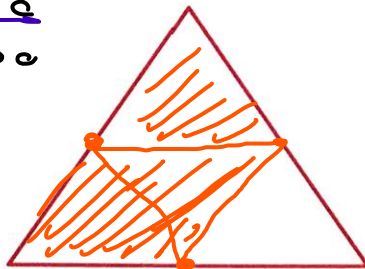
عبارت	درصد	واقعی
تخفیف	۳۰	۹۰۰۰۰۰
پرداخت	۷۰	۲۱۰۰۰۰
تخفیف	۵۰	۱۰۵۰۰۰۰
پرداخت	۵۰	۱۰۵۰۰۰۰
کل	۱۰۰	۲۱۰۰۰۰۰

$\times 210000$

۱۵۰۰۰۰ تومان باید پردازیم.

۴

۵ ۷۵٪ از شکل زیر را رنگ کنید.



$$\frac{75 \div 25}{100 \div 25} = \frac{3}{4}$$

۵

## علوم

۱ چشم افراد نزدیک بین با چشم افراد دور بین چه تفاوتی دارد؟

دور بین: نزدیک را خوب نمی بیند ، لقویر بیست شبلیه تبدیل می شود  
نزدیک: دور را خوب نمی بیند در جلوی " " " "

۲ افراد نزدیک بین یا دور بین، برای رفع مشکل بینایی خود، باید چه کاری انجام دهند؟

نزدیک بین: عینک دور بین  
دور بین: عینک نزدیک بین  
عدسی واکرا (فرفرفه) عدسی محدرا (برآمده)

۳ وظیفه ی پلک در حس بینایی چیست؟

۱- مراقبت از چشم ۲- استنشاق چشم را بروی قرینه پخش می کند

۴ بر حسب راه های مراقبت از چشم را در جای مناسب بچسبان.

--	--	--

## فارسی

۱ املای کدام عبارت درست است؟ کلمات نادرست را به صورت درست بنویسید.

عرق

(۴) قرق فکر

(۳) دلم نمی خاست

نی خواست

(۲) سپاسگزاری

(۱) تهویل گرفتم

تحویل

۲ با توجه به بیت داده شده، سوالات خواسته شده را بنویسید.

دایران، ای سرای امید بر بامت، سپیده دمید

معنی: ای ایران ای خانه ی امید بر بلندای تو، خورشید پیروزی طلوع کرد

تعداد جمله: ۳ جمله

منادا: سرای امید

آرایه ادبی

تشبیه

۳ برای هر یک از واژگان داده شده دو هم خانواده بنویسید.

خاص

مفصّل

تفصّل

مخصوصاً

مشارکت

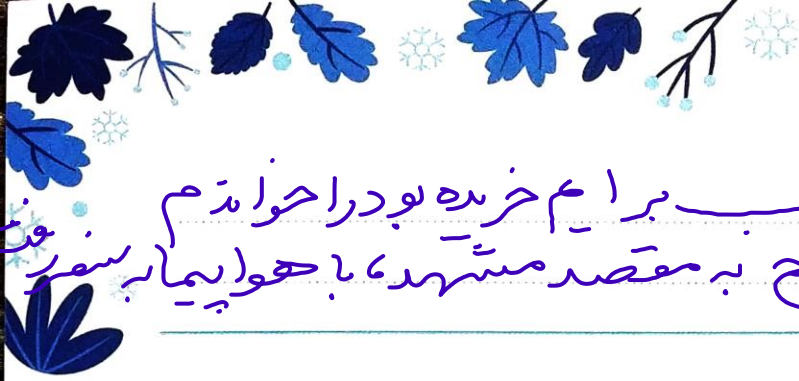
سهرات

شریک

ساهد

شرکت

شهید



۴

جمله‌های کوتاه زیر را گسترش دهید.  
کتاب را خواندم.  
پدرش به سفر رفت.

کتابی که حاله ام از شهر کتاب برایم خریده بود را خواندم.  
پدرش ساعت ۵ صبح به مقصد می‌شهرت، با هواپیمای سفر

۵

کدام عبارت «جمله امری» است؟

(۴) سر خیابان برویم

(۳) کتاب را بستم

(۲) بلند شو

(۱) مرا به خود آورد

### مطالعات اجتماعی

۱

کامل کنید.

نمایندگان مجلس شورای اسلامی از اعضای قوه‌ی مقتنه هستند که هر ۴ سال یک بار توسط مردم انتخاب می‌شوند.

۲

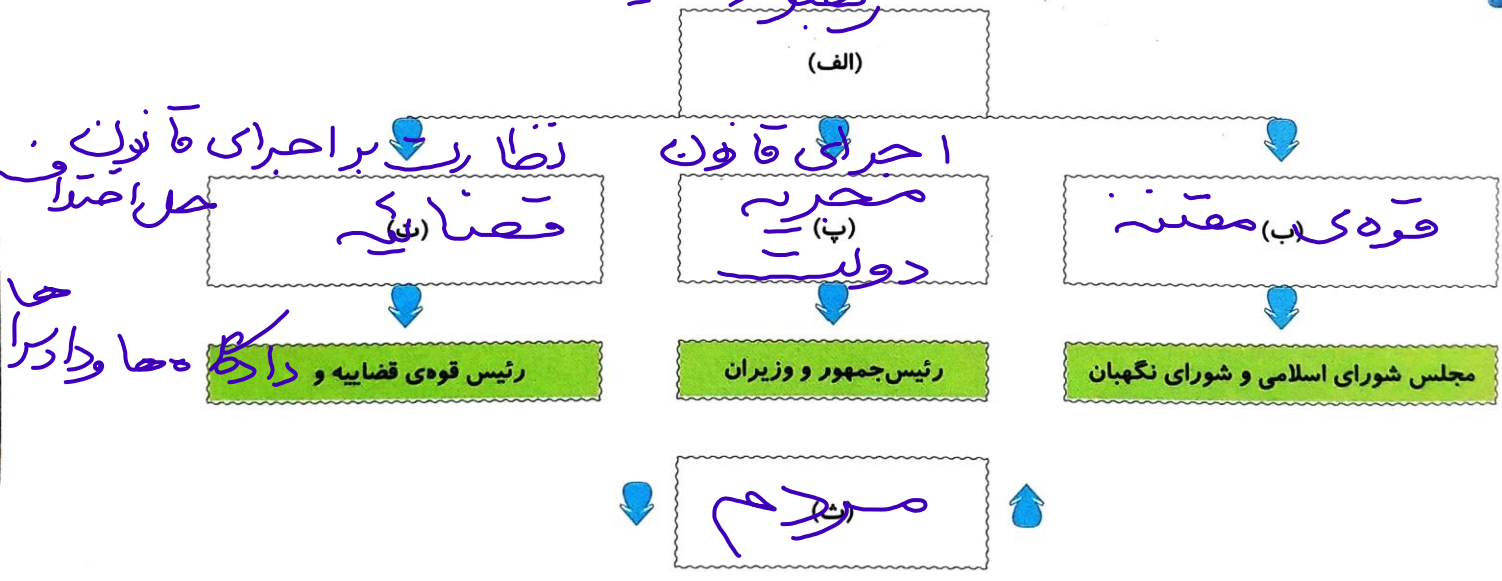
هر یک از وظایف زیر، بر عهده‌ی کدام یک از قوای سه گانه کشورمان است؟

الف) صادرات و واردات مجریه  
ب) رسیدگی به شکایات مردم قضائیه

۳

با انتخاب برچسب مناسب نمودار را کامل کنید.

### هجو (هدایت و نظارت - مقون)




۴

مهم‌ترین وظایف حکومت‌ها چیست؟ (چهار مورد)  
وضع قوانین و مقررات

تعمیر و پیشرفت کشور  
امنیت کشور

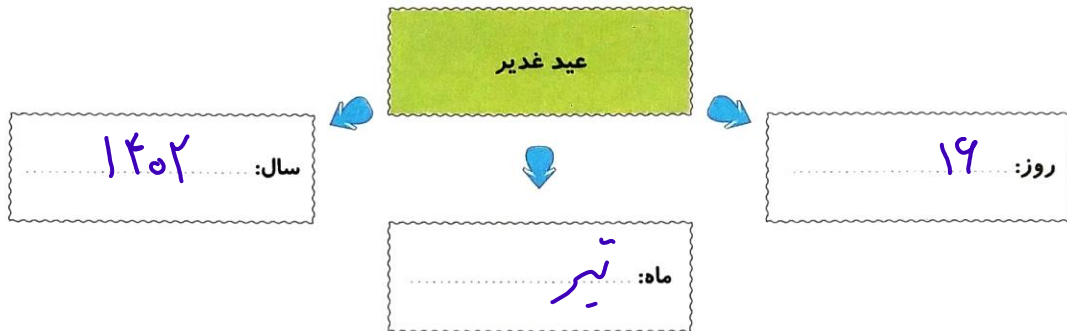
رسیدی به شگفتی مردم و حل اختلافات

۳



## هدیه‌های آسمان - قرآن

۱ به تقویم نگاه کنید، امسال روز عید غدیر مطابق چه تاریخی از تاریخ شمسی می‌باشد؟



۲ جاهای خالی را کامل نمایید.

الف) حضرت علی (ع) در **کhanjari Khab** به دنیا آمد.

ب) پیامبر در روز غدیر فرمودند: «هر کس من **رحم** و **سرپرست** او هستم، این **رحم** و **سرپرست** اوست.»

۳ کلمات هم معنی را مانند هم رنگ کنید.

نازل کردیم	مبین	اندیشه کنید	آیات
تعقلون	نشانه‌ها	روشن	آنزَلْنَا

- کاربرد علائم نگارشی
- شناخت اداره کنندگان جمهوری اسلامی
- شناخت وظایف حکومت‌ها
- علت نام‌گذاری عید غدیر
- تشخیص معنای کلمات قرآنی

- حل مسائل درصد
- شناخت اندام‌های حس بینایی
- شناخت مشکلات بینایی
- تشخیص اجزای جمله
- توانایی گسترش جملات

شاخص‌ها

- خیلی خوب
- خوب
- قابل قبول
- نیاز به تلاش بیشتر