

نام و نام خانوادگی: تاریخ: نام آموزگار:

مطالعات اجتماعی < درس ۱۶: مدینه شهر پیامبر (ص)
هدیه‌های آسمان < خورشید پشت ابر
قرآن < درس ۹: جلسه اول و دوم

ریاضی < فصل ۵: تفریق اعداد اعشاری
علوم < درس ۸: کارها آسان می‌شود. (۲) (۲)
فارسی < درس ۱۴: شجاعت

ریاضی

تفریق‌های زیر را با روش خواسته شده به دست آورید.

الف) $9 - 2/986 = 9,014$

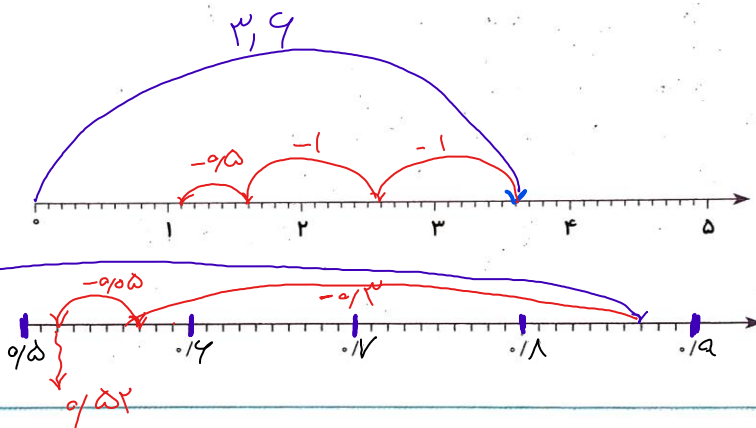
(محاسبه عادی)

ب) $3/6 - 2/5 = 1/10$

(محور)

پ) $0/87 - 0/35 = 0/52$

(محور)



الگو عددی زیر را ادامه دهید.

$4/75$ و $4/5$ و $4/25$ و 4 و $3/75$ و $3/5$

$12/34$ و $12/22$ و $12/10$ و $11/98$ و $11/86$ و $11/74$

$12/09 + \boxed{57,915} = 70/005$

$58/702 - \boxed{} = 49$

$$\begin{array}{r} 499 \\ 12,090 \\ - 57,915 \\ \hline 57,915 \end{array}$$

در جاهای خالی عدد مناسب قرار دهید.

هر دو عددی که اختلافشان برابر عدد $1/2$ می‌شود را هم‌رنگ کنید.



محیط مثلثی $9/7$ متر است. اگر اندازه‌ی دو ضلع آن $2/9$ و $3/5$ متر باشد، اندازه‌ی ضلع سوم را بیابید.

$$\begin{array}{r} 2/9 \\ + 3/5 \\ \hline 9/4 \end{array}$$

مجموع دو ضلع $9/4$

$$\begin{array}{r} 9/7 \\ - 9/4 \\ \hline 3/28 \end{array}$$

اندازه‌ی ضلع سوم $3/28$ m



علوم

در کدام گروه از وسایل زیر از گوه استفاده شده است؟


(۲) پیچ - کلنگ - مفار

(۱) مفار - فرغون - چاقو

(۴) مفار - کلنگ - چاقو

(۳) پیچ - فرغون - چاقو

هر وسیله را به ماشین مربوط به آن وصل کنید.




تفاوت گوه و سطح شیب‌دار چیست؟

۱- کارایی گوه: بریدن، قطع، قطع کردن، کندن، تراشیدن
 ۲- سطح شیب‌دار: ثابت گوه سه متحرک
 سطح شیب‌دار سه جایابی

کدام پیچ در سطح سخت‌تر بهتر فرو می‌رود؟

در صورتی که اندازه پیچ شماره ① تیز باشد، این پیچ در سطح سخت‌تر فرو می‌رود



ولی اگر اندازه پیچ بزرگ‌تر باشد، پیچ شماره ② بهتر فرو می‌رود زیرا ماصدای می‌کند

کدام عضو بدن انسان مانند گوه عمل می‌کند؟ برجسب تصویر این عضو را در جای مخصوص بچسبانید.

دندان شیش - ناخن

فارسی

معنی واژه‌های زیر را در جای مناسب بنویسید.

ناپسند

نکوهیده

وقار

متانت

چاره‌اندیشی

تدبیر

اضافه کردن

افزودن

کلمه‌های به هم ریخته را مرتب کنید و جمله بنویسید.

«ترس‌های / ریشه‌ی / در / است / جهل / اصلی / نادانی / نادرست / و»

ریشه‌ی اصلی ترس‌های نادرست، در جهل و نادانی است.

معنی و مفهوم عبارت را ساده و روان بنویسید.

«سردار لشکری که با تدبیر و مهارت، فرمان عقب‌نشینی می‌دهد و سپاه خود را از خطر می‌رهاند، شجاع است.»

سردار لشکری که با چاره‌اندیشی و مهارت فرمان عقب‌نشینی می‌دهد و سپاه خود را از خطرهای نجات می‌دهد، شجاع است.

با انتخاب واژه‌ای از میان کمانک، جاهای خالی را پر کنید.

الف) قدرت تصمیم‌گیری ... (تصمیم‌گیری - تصمیم‌گیری) و تفکر خوب است.

ب) ترس آن‌گاه ... (نکوهیده - نکوهیده) است که از ترس حوادث، حرکت نکنیم.

برای هر کلمه یک مخالف بنویسید.

شجاع: \neq ترسو

افزون \neq کاهش

امن \neq ناامن

جدید \neq کهنه قدیمی

مطالعات اجتماعی

از داخل کمانک کلمه‌ی درست را انتخاب کنید.

الف) دومین مسجد مهم مسلمانان (مسجدالنبی - مسجدالحرام) است.

ب) نخستین کار پیامبر در شهر مدینه، (ساختن مسجد - هجرت) است.

پاسخ پرسش‌های زیر را بنویسید.

الف) نام قدیم شهر مدینه: پاسخ: (ی): \leftarrow یثرب

ب) آرامگاه پیامبر اسلام در این مکان است: پاسخ: (م): \leftarrow مسجدالنبی

جملات درست را با و نادرست را با مشخص کنید.

الف) ابوسفیان سر دسته‌ی مخالفان پیامبر (ص) در مکه بودند.

ب) پیامبر اسلام (ص) در جنگ بدر شرکت نداشتند.

کدام مورد از اقدامات پیامبر (ص) پس از فتح مکه نبود؟

۱) شکستن بت‌ها
۲) جنگ با افراد داخل کعبه
۳) بیرون ریختن بت‌ها از داخل کعبه
۴) دستور خواندن اذان بر بام کعبه

هدیه‌های آسمان - قرآن

کامل کنید.

الف) رسول خدا (ص) مژده داده است که روزی حضرت مهدی (عج) ظهور می‌کند و دنیا را پر از عدالت خواهد کرد.

ب) حضرت مهدی (عج) دوازدهمین امام و چهاردهمین حجج هستند.

با استفاده از کلمات زیر، جاهای خالی را کامل کنید.


حضرت موسی (ع) - ماه - خورشید - قائم - ولی عصر،

الف) مشهورترین لقب امام زمان (عج) قائم است.

ب) داستان تولد امام زمان (عج) شبیه داستان تولد حضرت موسی است.

پ) امام مهدی (عج) مانند خورشید درخشان است.

موارد مرتبط را به هم وصل کنید.



- آشنایی با شهر مدینه
- آشنایی با جنگ‌های پیامبر
- شناخت امام دوازدهم
- تشخیص معنای کلمات قرآنی

- محاسبه‌ی تفریق اعشاری
- کاربرد محاسبات اعشار در مسائل
- شناخت گوه
- کاربرد گوه
- تشخیص کلمات متضاد و مترادف

شاخص‌ها

- خیلی خوب
- خوب
- قابل قبول
- نیاز به تلاش بیشتر