



شماره‌ی
۲۶

ارمغان هفته - پنجم دبستان

نام و نام خانوادگی: تاریخ: نام آموزگار:

- ریاضی < نوروژ
- علوم < نوروژ
- فارسی < نوروژ
- مطالعات اجتماعی < نوروژ
- هدیه‌های آسمان < نوروژ
- قرآن < نوروژ

ریاضی

۱ علی با خانواده‌اش برای تفریح به پارکی رفته است که روی تابلوی آن نوشته ۸ هکتار. اگر عرض پارک ۲۰۰ متر باشد، طول پارک را بیابید. (بر حسب متر)

$۱۰۰۰۰ m^2 = ۱ \text{ هکتار}$
 $۸۰۰۰۰ m^2 = ۸ \text{ هکتار}$

$۲۰۰ m \times \text{طول} = ۸۰۰۰۰$
 $\text{طول} = \frac{۸۰۰۰۰}{۲۰۰} = ۴۰۰ \text{ متر}$

۲ حاصل جمع و ضرب زیر را به دست آورید.

الف) $۲\frac{۴}{۵} + ۳\frac{۲}{۱۰} = (\frac{۲}{۵} + \frac{۳}{۱۰}) + (\frac{۸}{۵} + \frac{۲}{۱۰}) = ۱ + ۲ = ۳$

ب) $۲\frac{۳}{۴} \times ۳\frac{۴}{۵} = \frac{۱۱}{۴} \times \frac{۱۹}{۵} = \frac{۲۰۹}{۲۰} = ۱۰\frac{۹}{۲۰}$

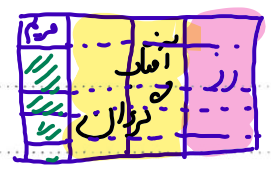
۳ مساحت بادبادک زهرا چقدر است؟

قطر کوچک لوزی: ۱۰ سانتی‌متر

قطر بزرگ لوزی: ۱۸ سانتی‌متر

$\text{مساحت لوزی} = \frac{۱۸ \times ۱۰}{۲} = ۹۰ \text{ cm}^2$

۴ کیوان می‌خواهد برای عید نوروز باغچه‌ی خانه‌شان را گل کاری کند. او $\frac{۱}{۳}$ باغچه را گل رز، $\frac{۲}{۳}$ باقی‌مانده را گل آفتابگردان و $\frac{۱}{۵}$ باقی‌مانده را گل مریم می‌کارد. اگر مساحت کل باغچه ۴۰ متر مربع باشد، چند متر مربع گل رز کاشته شده است؟ چند متر مربع گل مریم کاشته است؟ چند متر مربع چیزی کاشته نشده است؟



$\frac{\text{رز}}{\text{کل}} = \frac{۵ \times ۲}{۲۰ \times ۲} = \frac{۱۰}{۴۰} = \frac{۱}{۴}$
 $\frac{\text{مریم}}{\text{کل}} = \frac{۱ \times ۲}{۲۰ \times ۲} = \frac{۲}{۴۰} = \frac{۱}{۲۰}$
 $\frac{\text{باقی‌مانده}}{\text{کل}} = \frac{۴ \times ۲}{۲۰ \times ۲} = \frac{۸}{۴۰} = \frac{۱}{۵}$



برچسب مربوط به هر جمله را روبه‌روی آن بچسبانید.

سمعک

الف) وسیله‌ای که به افراد کم‌شنوا کمک می‌کند تا صداها را بهتر بشنوند.

لاله‌ی کوس

ب) وظیفه‌ی جمع‌آوری امواج صوتی را دارد.

حلزونی

پ) در این قسمت گیرنده‌های شنوایی قرار دارند.

چرا ماهی‌های قرمز درون تنگ شیشه بزرگ‌تر از اندازه واقعی خود به نظر می‌رسند؟

زیر آب ویست مانند ذره بین عمل می‌کند.

یگانه در عید نوروز به همراه خانوادش‌اش از موزه بازدید کرد. او در یکی از قسمت‌های موزه فسیل زیر را دید.

الف) تصویر روی فسیل مربوط به چه موجودی است؟



ماهی

ب) چگونه تشکیل شده است؟

- ۱- بعد از آنکه موجود زنده می‌میرد، قسمت‌های نرم بدن او از بین می‌رود.
- ۲- قسمت‌های سخت تحت فشار لایه‌های رسوبی سخت و سنگلی می‌شود.
- ۳- ممکن است با تبخیر آب یا زلزله به قسمت‌های قابل مشاهده بیایند.

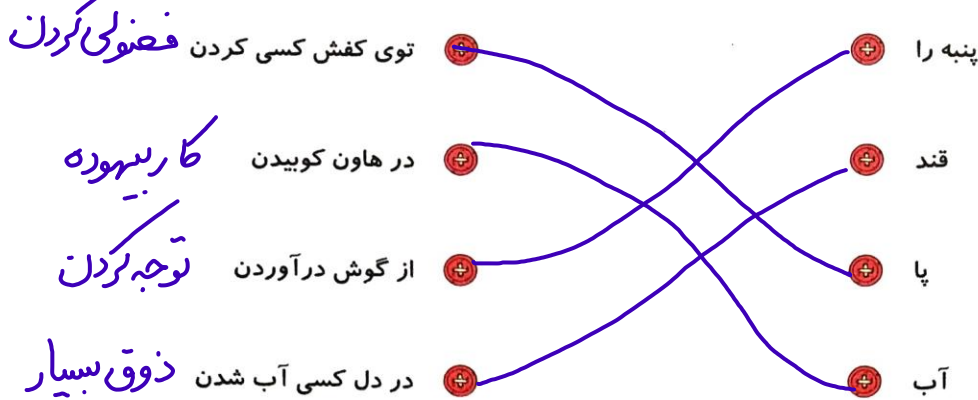
دستگاه عصبی چه وظیفه‌ای دارد و از چه بخش‌هایی تشکیل شده است؟

هماهنگی دستگاه‌های بدن از طریق انتقال و دریافت پیام‌ها (مغز ← سایر اندام‌ها)

مغز - نخاع - رشته‌های عصبی

فارسی

کتابهای زیر را به عبارت‌های کامل کننده خود وصل کنید.



فصلی کردن

کار بسته‌بندی

توجه کردن

ذوق بسیار

۲ میترا به همراه مادرش به بازار رفت. در بازار چند مغازه وجود داشت که صدای بلندی از داخل آن‌ها می‌آمد. میترا از مادرش پرسید شغل آن‌ها چیست؟ مادرش گفت مسگر یعنی کسی که روی مس کاری انجام می‌دهد و چند کار مس به او نشان داد. مادرش گفت شغل‌های دیگری هم وجود دارد که مانند مسگر باشند. اکنون چند شغل پیدا کنید که این‌گونه تعریف شوند.

حال ما ضد میترا کلماتی که با پسوند «گر» ساخته می‌شوند پیدا کنید و معنی آن‌ها را بنویسید.

کارگر کسی که کاری کند

زرگر کسی که با فلز طلا، دستبند و مثل آن را می‌سازند

زنگار کسی که مسئول نظافت خیابان‌ها است

جمله‌ی زیر را گسترش دهید.

خواهرم کتاب من را آورد X در یک شماره ۲۵ نوشته شده است.

۴ متن را با دقت بخوانید و به جای کلماتی که زیر آن‌ها خط کشیده شده از کادر کلماتی را انتخاب و جایگذاری کنید که معنی عبارت تغییر نکرده سپس متن را مجدد بازنویسی کنید.

جنگل وسیع و زیباست. صدای آرام نسیم در همه جای جنگل شنیده می‌شود گاه نیز غرش و زوزه‌ی جانوران سکوت و آرامش جنگل را می‌شکند. باید جنگل‌ها را حفظ کنیم و مراقب باشیم که درختان از بین نروند. اگر از جنگل مواظبت نکنیم شاید دیگر نتوانیم داستان‌هایی بخوانیم که به این صورت آغاز می‌شوند.

شروع قشنگ است نبودنشوند

پهناور باد ملایم دوست

مواظبت جانوران قصه‌هایی

مواظبت به گوش می‌رسد

باز نویسی بر عهده دانش آموز

مطالعات اجتماعی

۱ جدول را کامل کنید.

ق	ن	ا	ت	← ۱
ک	ل	ا	م	← ۲
ز	ی	ت	و	← ۳
ص	ا	د	ر	← ۴
ج	ن	گ		← ۵
ج	م	ع	ی	← ۶
غ	م			← ۷
ن	ظ	م		← ۸
ک	ر			← ۹
ر	ا	ه		← ۱۰
ج	ش	م	ه	← ۱۱

۱- میزان تبخیر و آلودگی آب آن بسیار کم است.

۲- مهم ترین راه ارتباط انسان ها با یکدیگر

۳- از گیلان صادر می شود.

۴- کالاهایی که تولید شده و به جای دیگر فرستاده می شود را می گویند.

۵- از عوامل دورکننده جمعیت.

۶- اگر زیاد باشد نیروی زیادی برای دفاع داریم.

۷- هیچ کس این احساس را دوست ندارد.

۸- یکی از نکته های مهمی که در هر گروه باید رعایت شود.


۹- به دریاچه ی بختگان می ریزد.

۱۰- برای جابه جایی مردم از جایی به جای دیگر لازم است.

۱۱- آب هایی که خود به خود به سطح زمین راه پیدا می کنند.

هدیه های آسمان - قرآن

۱ در عید نوروز سهیل همراه خانواده اش به کشور عراق سفر کرد. آن ها در هر یک از شهرهای زیر به زیارت کدام امام رفتند؟ نام هر امام را جلوی آن بنویسید.



۲ معنی پیام قرآنی زیر را بنویسید.

«وَأَوْفُوا بِالْعَهْدِ»

به عهد خود وفا کنید

	تشخیص معنی واژگان
	ساخت واژه های جدید
	کامل کردن جدول اجتماعی
	آشنایی با شهرهای زیارتی

	توانایی حل مسئله
	محاسبه ی کسرها
	وظایف اندامها
	کاربرد دستگاه عصبی
	تشخیص ضرب المثل

شاخص ها

- خیلی خوب
- خوب
- قابل قبول
- نیاز به تلاش بیشتر