



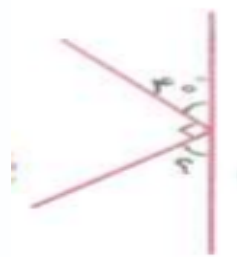
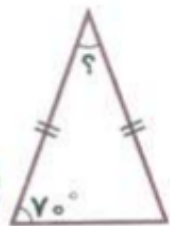
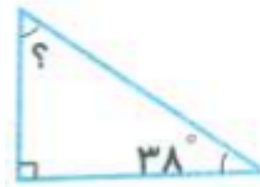
نام و نام خانوادگی

تاریخ

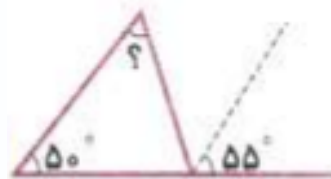
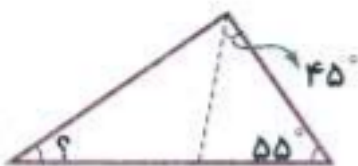
موضوع: مبحث زاویه و نیمساز

هدف: مرور مبحث زاویه و نیمساز

۱- اندازه زوایای مشخص شده را به دست آورید.



۲- در هر یک از شکل های زیر خط چین ها نیمساز هستند. اندازه زوایای مشخص شده را به دست آورید.



بازخورد:

Handwritten feedback area with a dashed border and horizontal lines.

