

کتاب کار صفحه ۱۳۳



در جای خالی عدد مناسب بگذار.



الف: حاصل ضرب $۰/۳ \times ۰/۹$ برابر است با $۰/۲۷$ $۰/۳ \times ۰/۹ = ۰/۲۷$

ب: حاصل ضرب $\frac{۶}{۱۰۰} \times \frac{۴}{۱۰}$ برابر است با $\frac{۲۴}{۱۰۰۰} = ۰/۰۲۴$ $\frac{۶}{۱۰۰} \times \frac{۴}{۱۰} = \frac{۲۴}{۱۰۰۰} = ۰/۰۲۴$

پ: عدد $۱۶/۷۳$ تقریباً برابر است با ۱۷



کتاب کار صفحه ۱۳۳



حاصل ضرب‌های زیر را بدست بیاور.



الف: $0.04 \times 5000 = 200$

پ: $9000 \times 0.05 = 450$

ب: $0.2 \times 0.8 = 0.16$

ت: $0.3 \times 800 \times 0.2 = 480$



کتاب کار صفحه ۱۳۳



قاعده‌ی متوازی الاضلاعی $۱۰/۵۳$ است. اگر ارتفاع این متوازی الاضلاع $۲/۷$ متر باشد، مساحت متوازی الاضلاع چند متر مربع می‌باشد؟

ارتفاع \times قاعده = مساحت متوازی الاضلاع

$$۱۰/۵۳ \times ۲/۷ = ۲۸/۴۳۱$$




کتاب کار صفحه ۱۳۳



اتاقی با ۳۰۰ موزاییک مربعی شکلی به ابعاد ۰/۴ متر پوشانده شده است. مساحت کف اتاق چند متر مربع است؟

$$\text{مساحت موزاییک} \quad ۰/۴ \times ۰/۴ = ۰/۱۶$$

$$\text{مساحت اتاق} \quad ۳۰۰ \times ۰/۱۶ = ۴۸$$



کتاب کار صفحہ ۱۳۳



حاصل عبارات زیر را به دست بیاور.

$$2/5 \times 0/4 + 1 + (0/2 \times 0/5) = 1 + 1 + 0/1 = 2/1$$

$$3/5 \times 0/2 + ((1/0 \cdot 1) + 2) = 0/7 + 3/0 \cdot 1 = 3/71$$

$$0/2 \times 0/0 \cdot 8 \times 6 \dots = 0/0 \cdot 16 \times 6 \dots = 96$$



کتاب کار صفحه ۱۳۳



یک سیمی به طول $\frac{2}{5}$ از $\frac{9}{10}$ متر چقدر است؟

$$\frac{2}{5} \times \frac{9}{10} = \frac{9}{25}$$

$$\frac{9}{25} \times 10 = \frac{18}{5}$$

$$\frac{18 \times 2}{5 \times 2} = \frac{36}{10} = 3 \frac{3}{5}$$



کتاب کار صفحه ۱۳۳



جمع چهار عدد $\frac{۲۷}{۴۲}$ است. عدد اول $\frac{۵}{۲۲}$ و عدد دوم دو برابر عدد اول و عدد سوم جمع عدد اول و دوم است. عدد



چهارم چند است؟

عدد اول $\frac{۵}{۲۳}$

عدد دوم $\frac{۵}{۲۳} \times ۲ = \frac{۱۰}{۴۶}$

عدد سوم $\frac{۵}{۲۳} + \frac{۱۰}{۴۶} = \frac{۱۵}{۶۹}$

مجموع عدد اول و دوم و سوم $\frac{۵}{۲۳} + \frac{۱۰}{۴۶} + \frac{۱۵}{۶۹} = \frac{۳۱}{۳۸}$

عدد چهارم سوم $\frac{۳۷}{۴۲} - \frac{۳۱}{۳۸} = \frac{۶}{۰۴}$



کتاب کار صفحہ ۱۲۶ و ۱۲۷

فعالیت کلاسی



$$\frac{3}{49} - \frac{1}{28} =$$

حاصل تفریق زیر را با رسم شکل به دست بیاور.


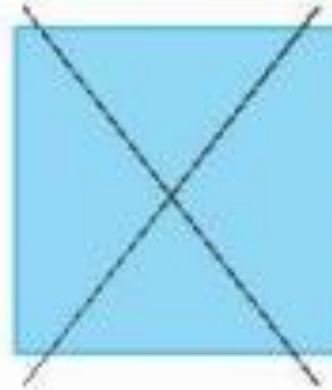


کتاب کار صفحه ۱۲۶ و ۱۲۷

فعالیت کلاسی



$$\frac{3}{49} - \frac{1}{28} = \frac{2}{21}$$



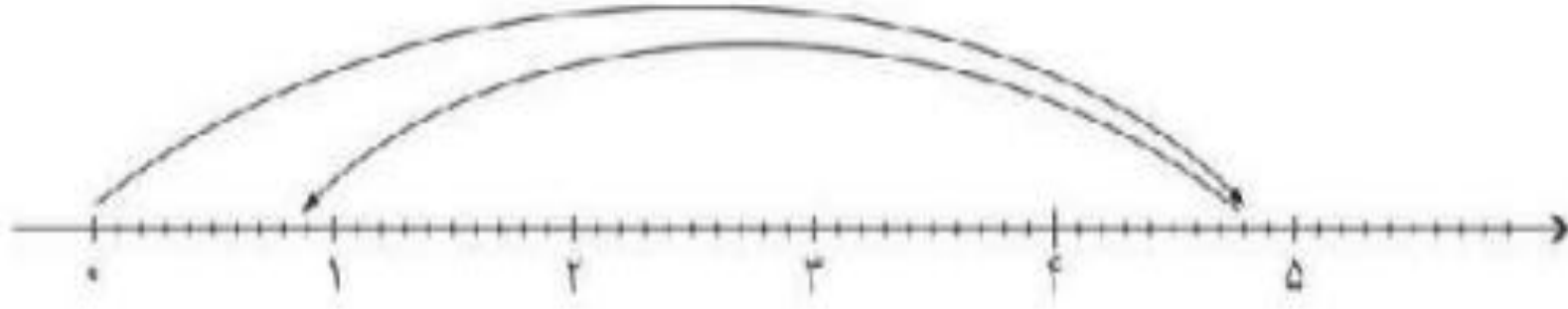
کتاب کار صفحہ ۱۳۳



حاصل تفریق زیر را با کمک رسم محور به دست بیاور.

۲

$$4/8 - 3/9 = 0/9$$



کتاب کار صفحه ۱۲۶ و ۱۲۷



حاصل تفریق‌های زیر را به دست بیاور.



الف: $5/726 - 2/304 = 3/422$

ب: $8/26 - 3/452 = 4/808$

پ: $9 - 3/627 = 5/273$



کتاب کار صفحه ۱۲۶ و ۱۲۷



جای خالی را با عدد مناسب کامل کن.



$$\begin{array}{r} 17 / 6 \square \\ - \square / \square 9 \\ \hline \square / 78 \end{array}$$

الف:

$$\begin{array}{r} 3 / \square 62 \\ - \square / 7 \square \square \\ \hline 0 / 773 \end{array}$$

ب:

$$\begin{array}{r} 10 / \square \square \\ - \square / 27 \\ \hline 4 / 18 \end{array}$$

پ:



کتاب کار صفحه ۱۲۶ و ۱۲۷



جاهای خالی را با عدد مناسب کامل کن.



$$\begin{array}{r} ۱۷ / ۶۷ \\ - ۱۶ / ۸۹ \\ \hline ۰۰ / ۷۸ \end{array}$$

$$\begin{array}{r} ۳ / ۵۶۲ \\ - ۲ / ۷۸۹ \\ \hline ۰ / ۷۷۳ \end{array}$$

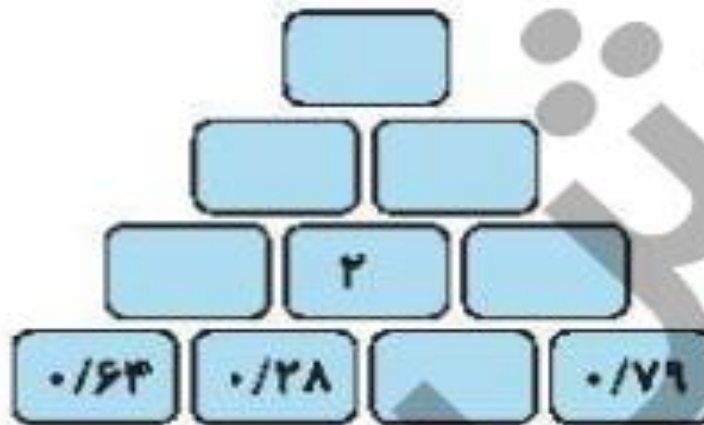
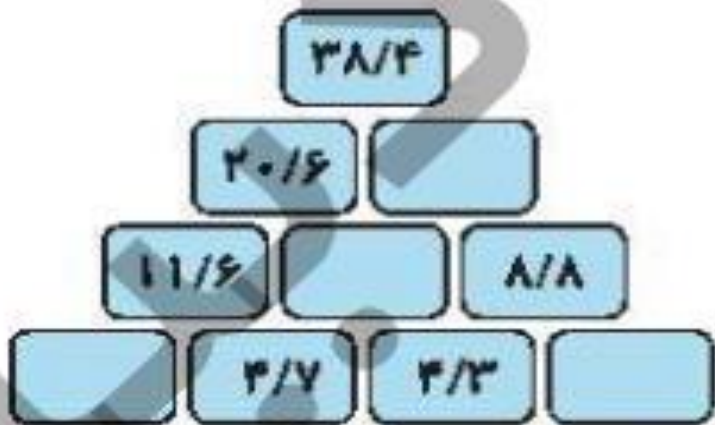
$$\begin{array}{r} ۱۰ / ۴۵ \\ - ۶ / ۲۷ \\ \hline ۴ / ۱۸ \end{array}$$



کتاب کار صفحه ۱۲۶ و ۱۲۷



هر خانه‌ی بالایی حاصل جمع دو خانه‌ی پایینی است. جدول را کامل کن.



کتاب کار صفحہ ۱۲۶

