



شماره ی

۲۴

ارمغان هفته پنجم دبستان

نام و نام خانوادگی: تاریخ: نام آموزگار:

- ریاضی < فصل ۵- محاسبات اعداد اعشاری
 علوم < درس ۱۰- خاک با ارزش
 فارسی < درس ۱۳- شجاعت
 مطالعات اجتماعی < درس ۱۸- سفر به کربلا (۲)
 هدیه‌های آسمان < کوچک‌های بزرگ (۲)
 قرآن < درس ۱۰- جلسه‌ی اول و دوم

ریاضی

۱- اتاقی با ۳۰۰ موزائیک با ابعاد ۰/۵ متر پوشانده شده است. مساحت کف اتاق چند متر مربع است؟

مساحت اتاق ۷۵ متر مربع است

$$\begin{array}{r} 300 \\ \times 0.5 \\ \hline 1500 \end{array}$$

$$\begin{array}{r} 300 \\ \times 0.5 \\ \hline 1500 \end{array}$$

۲- ربع ثلث خمس ۰/۱۲ عدد ۱۰ را محاسبه کنید.

$$\frac{1}{100} \times \frac{1}{5} \times \frac{1}{4} \times \frac{1}{5} = \frac{1}{5000}$$

$$\frac{1}{5000} \times 10 = \frac{1}{500} = \frac{2}{1000} = 0.002$$

۳- با تبدیل هر عدد اعشاری به کسر، حاصل هریک را به دست آورید و سپس پاسخ را به صورت عدد اعشاری بنویسید.

$$7/2 \times 0.4 = \frac{72}{10} \times \frac{4}{10} = \frac{72 \times 4}{100} = \frac{288}{100} = 2.88$$

$$0.15 \times 0.3 = \frac{15}{100} \times \frac{3}{10} = \frac{45}{1000} = 0.045$$

۴- حاصل ضرب‌های زیر را به دست آورید.

$$\begin{array}{r} 3/75 \\ \times 4/12 \\ \hline 15/45 \end{array}$$

$$\begin{array}{r} 375 \\ \times 412 \\ \hline 1545 \end{array}$$

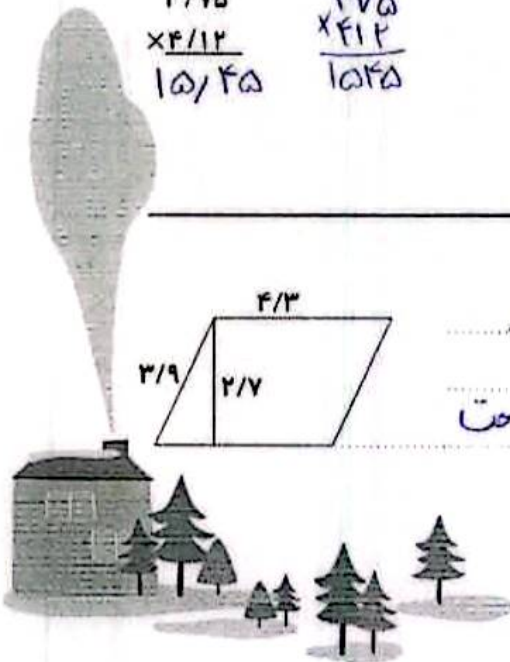
$$\begin{array}{r} 7/14 \\ \times 1/1 \\ \hline 7/14 \end{array}$$

$$\begin{array}{r} 714 \\ \times 11 \\ \hline 7854 \end{array}$$

$$\begin{array}{r} 2/525 \\ \times 3/8 \\ \hline 7875 \end{array}$$

$$\begin{array}{r} 2525 \\ \times 38 \\ \hline 95950 \end{array}$$

۵- اختلاف محیط و مساحت شکل زیر را بیابید.



$$\text{محیط} = 2 \times \left(\frac{3}{9} + \frac{4}{3} \right) = 19/9$$

$$\text{مساحت} = \frac{3}{9} \times \frac{2}{7} = \frac{11}{63}$$

$$\begin{array}{r} 19/9 \\ - 11/63 \\ \hline 4/79 \end{array}$$





علوم

۱ خاک چگونه تشکیل می شود؟ چقدر زمان لازم است؟

سنگ ها در طول سالها دراز، بر روش های مختلف فرود می شوند. سپس، تغییر

سیماس پیدا می کنند و به خاک تبدیل می شوند. هر ۲ سال لایه ای خاک به ضخامت یک سانتی متر تشکیل می شود.

۲ از داخل کمانک کلمه درست را انتخاب کنید.

الف) در مناطق (سردسیر - گرمسیر) آب داخل سنگ یخ می زند و حجم آن افزایش می یابد.

ب) جانوران با (حفر زمین - فشار) باعث خرد شدن سنگ ها می شوند.

۳ هوازدگی سنگ ها را تعریف کنید.

به مجموع تغییرات فیزیکی و شیمیایی سنگ ها که باعث فرود آمدن آن ها می شود

هوازدگی می گویند

لطفاً سؤال جایگزین شود.

۴ در بنا و بر بنا مقداری خاک باغچه را در آب می ریزند، آن ها مخلوط آب و خاک را خوب هم می زنند، به نظر شما آن ها از این

آزمایش چه نتیجه ای می گیرند؟ ۲ عامل برای جلوگیری از ریزش در یک منطقه را بیان کنید.

۱ - کاشت گیاهان در منطقه برای جلوگیری از ریزش خاک. ۲ - حتماً ضخیم زدن زمین از گیاه های افتر استفاده کنید.

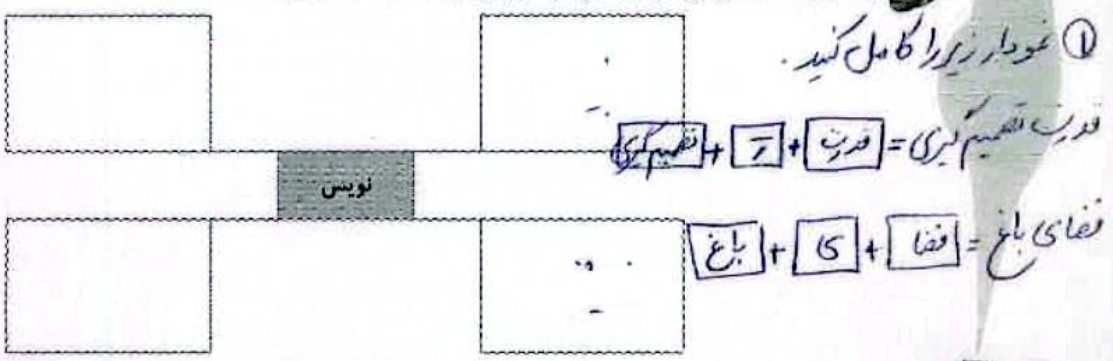
۵ فکر کنید و پاسخ بدهید. لطفاً سؤال جایگزین شود.

اگر سرعت نفوذ آب در همه خاک ها برابر باشد آن گاه:

آیا اجزای همی خاک ها مساوی اند؟ خیر، نوع آب و هوای منطقه در ساختمان و ترکیب سنگ ها، خاک های متنوعی ایجاد می کند.

فارسی

۱ لطفاً سؤال ۱ جایگزین شود. سؤال: چند واژه که با نویس، ترکیب می شود را بنویسید. (موضوع درس ۱۳ است)





۲ کلمات زیر را به ترتیب حروف الفبا بنویسید.

تفکر - مشغول - شاهنامه - آگاهی - حصار - احساس - غلام - لرزه - هنرمند

آگاهی، احساس، تفکر، حصار، آگاهی، حصار، غلام، لرزه، مشغول، هنرمند

۳ در متن زیر کلماتی که از نظر املائی صحیح نمی‌باشند را پیدا کرده و صحیح آن‌ها را بنویسید.

در آسمان علم و فرهنگ ایران، ستاره‌های پرفروغی مانند خواجه نظام الملک و خواجه نصیر توسی می‌توان یافت. این دانشمندان با تکیه بر لطف پرورده گار، در سخت‌ترین شرایط کوشیدند ایران را به عوج عظمت و سربلندی برسانند.

خواجه نظام الملک، خواجه نصیر، لطف، پرورده گار، شرایط، اوج عظمت

۴ متن زیر را بخوانید و به جای نشانه‌های نگارشی مناسب بنویسید.

حاکم پس از شنیدن سخنان آن‌ها علت شکست آن عده‌ی زیاد را از آن دو راهزن جویا شد

مطالعات اجتماعی

۱ از داخل کمانک کلمه‌ی درست را انتخاب کنید.

الف) پایتخت کشور عراق بغداد است. (نجف - بغداد)

ب) آرامگاه مقدس حضرت علی (ع) در شهر کربلا (نجف - سامرا) قرار دارد.

۲ کلمات مرتبط ستون الف، را به ستون ب، وصل کنید.

ب

الف

ولادت پیامبر اکرم (ص)

۲۷ رجب

میثت پیامبر (ص)

۱۷ ربیع الاول

۱۰ محرم ۶۱ هجری

شهادت امام حسین (ع)

۳ سخن امام حسین (ع) در مورد قیامشان چه بود؟

من برای زنده نگه داشتن دین اسلام در این معروف و زمین از ستر قیام کرده‌ام

۴ پس از شکست خوارج در کدام جنگ، یکی از آن‌ها مأمور کشتن حضرت علی (ع) شد؟


۴ بدر

۳ احد

۲ صفین

۱ نهروان

۳





هدیه‌های آسمان - قرآن


جاهای خالی را پر کنید.

الف) اسراف نکردن یعنی درست مصرف کردن.
 ب) پیامبر (ص) فرمودند: هرگز آب را اسراف نکنید هر چند در کنار رودخانه جاری باشد.
 پ) درست مصرف کردن یعنی به جا و به اندازه مصرف کردن.

واژگانی که ترجمه‌ی آن‌ها درست نوشته شده است را با رنگ سبز رنگ آمیزی کنید.

مبارکة = با برکت ✓	لیل = شب ✓	أنزل = نازل کرد
تیل = ماه	مبین = روشن ✓	آنزلنا = نازل کردیم ✓

یک نقاشی با موضوع صرفه‌جویی در مصرف آب بکشید. به نگاه دانش آموز



- تشخیص کلمات هم معنی علامت فارسی
- تشخیص مضاد کلمات نوشتن علامت برترتیب
- آشنایی با واژه عاشورا اسراف
- تشخیص معنای صحیح واژگان قرآنی

- کاربرد محاسبات اعشاری در مسائل
- انجام ضرب اعشاری به صورت ذهنی
- اهمیت خاک در زندگی
- تغییرات خاک
- اصلاح واژگان نادرست

شاخص‌ها

عربی خوبه
 خوبه
 کامل قبوله
 نیاز به تلاش بیشتر

