



# ارمغان هفته پنجم دبستان


نام و نام خانوادگی: ..... تاریخ: ..... نام آموزگار: .....

ریاضی < فصل ۵، اعداد اعشاری و جمع آن‌ها  
 علوم < درس ۹: کارها آسان می‌شود، ۱  
 فارسی < درس ۱۳، بال در بال پرستوها  
 مطالعات اجتماعی < درس ۱۵: بازگشت از سفر حج  
 هدیه‌های آسمان < درس ۱۲: خورشید پشت ابر  
 قرآن < درس ۸: جلسه‌ی سوم و چهارم

## ریاضی

۱ جمع‌های زیر را روی محور نشان دهید.

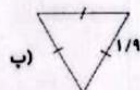
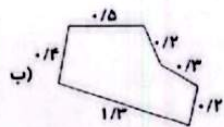
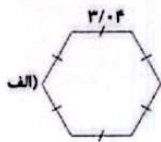
الف)  $3/1 + 1/2 = 4/3$



ب)  $0/8 + 3/6 = 4/4$



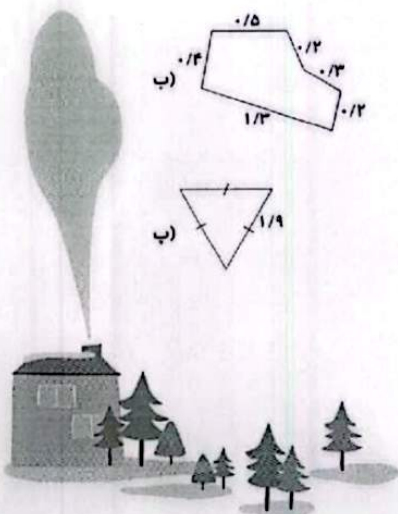
۲ محیط هریک از شکل‌ها را به دست آورید.



الف) 
$$\begin{array}{r} 3/4 \\ + 3/4 \\ + 3/4 \\ + 3/4 \\ + 3/4 \\ + 3/4 \\ \hline 18/4 \end{array}$$

ب) 
$$\begin{array}{r} 1/3 \\ + 0/4 \\ + 0/5 \\ + 0/2 \\ + 0/3 \\ + 0/2 \\ \hline 2/9 \end{array}$$

ب) 
$$\begin{array}{r} 1/9 \\ + 1/9 \\ + 1/9 \\ \hline 3/9 \end{array}$$



۱۳۸/۸۱

$$\begin{array}{r} 14/18 \\ + 14/18 \\ + 9/593 \\ \hline 39/193 \end{array}$$

۳ محیط مثلث متساوی‌الساقینی به طول ساق‌های ۱۴/۸ و قاعده ۹/۵۹۳ را حساب کنید.

۴ با کارت‌های ۰، ۴، ۵، ۸ و ۲ بزرگ‌ترین و کوچک‌ترین عدد اعشاری بین ۸۰ تا ۳۰ را بنویسید و سپس مجموع آن‌ها را حساب کنید.

کوچک‌ترین:  $40/258$

$$\begin{array}{r} 40/258 \\ + 58/420 \\ \hline 98/678 \end{array}$$

بزرگ‌ترین:  $58/420$

$$\begin{array}{r} 1418 \\ + 1418 \\ + 91593 \\ \hline 39193 \end{array}$$

محیط مثلث متساوی الساقینی به طول ساق‌های  $14/8$  و قاعده  $9/593$  را حساب کنید.

بزرگ‌ترین و کوچک‌ترین عدد اعشاری بین  $80$  تا  $30$  را بنویسید و سپس مجموع آن‌ها را حساب کنید.

$$\begin{array}{r} 40/258 \\ + 58/420 \\ \hline 98/678 \end{array}$$

بزرگ‌ترین:  $40/258$   
کوچک‌ترین:  $58/420$

مقایسه کنید و علامت  $< = >$  بگذارید.

$$\begin{array}{l} 3/2 + 2/1 > 5/2 \\ 2 + 1/4 + 2/3 < 6/6 \\ 0/0001 + 0/001 < 1 + 0/0001 \\ 3/2 = 1 + 1/1 + 1/1 \end{array}$$

### علوم

جاهای خالی را کامل کنید.

الف) سطح شیب‌دار باعث می‌شود که نیروی کمتری مورد نیاز باشد.  
ب) هرچه ارتفاع سطح شیب‌دار بیشتر باشد، کار ما سخت‌تر می‌شود.

بالا رفتن از کدام طرف کوه آسان‌تر است؟ چرا؟

الف) چون میزان شیب سمت الف کمتر است.



چرا کف آشپزخانه، حمام، پارکینگ و سطح خیابان‌ها را کمی شیب‌دار درست می‌کنند؟

چون در این مکان‌ها امکان جمع شدن آب وجود دارد. سطح شیب‌دار آب را به سمت خروجی هدایت می‌کند.

جملات درست را با  و نادرست را با  مشخص کنید.

الف) هرچه طول سطح شیب‌دار بیشتر باشد، نیروی کمتری لازم است.

ب) هرچه طول سطح شیب‌دار بیشتر باشد، نیروی بیشتری لازم است.

### فارسی

بیت زیر را به صورت جمله‌ای ساده و روان بنویسید.

هر کجا سرگرم صحبت می‌شوند شاخه‌ها دربارهی گنجشک‌ها


در جایی ساخرگی دربارهی گنجشک‌ها مٌغول صحبت می‌شوند.



۲ املاي درست هر كلمه را بنويسيد.

|        |        |             |             |        |        |
|--------|--------|-------------|-------------|--------|--------|
| عود    | اود    | عطر         | عتر         | فضا    | فضا    |
| باغبان | باقبان | سوار سبزپوش | سوار سبزپوش | پيشواز | پيشواز |

۳ واژه‌های هم‌معنی را به هم وصل کنید.



۴ جاهای خالی در شعر را کامل کنید.

تامي آيد ... برده جا ... از خانه ها  
 باز مي پيچد ميان ... خانها ...  
 در فضاي باغها پر مي شود  
 باز توي ... کوچه ها ... سر مي کشند  
 بوي ... انگد و گلاب ... و بوي عود  
 باز هم ... فواره ي گلشنک جا ...

مطالعات اجتماعي

۱ جمله‌های زیر را با استفاده از کلمه‌های زیر کامل کنید.


مسجدالحرام - خانه کعبه - قبله‌ی - طواف،

الف) خانه کعبه ... قبله‌ی ... مسلمانان جهان است.  
 ب) خانم‌ی کعبه در مسجدالحرام قرار دارد.  
 پ) در هنگام حج، ما خانه‌ی کعبه را ... طواف ... مي‌کنيم.  
 ت) بزرگ‌ترین و مهم‌ترین مسجد دنيا ... مسجدالحرام ... است.

۲ کلمه‌ی صحیح را از داخل کمانک انتخاب کنید و در جای خالی قرار دهید.

الف) مهم‌ترین و بزرگ‌ترین مسجد دنيا که خانه‌ی کعبه در آن قرار دارد، ... مسجدالحرام ... است. (مسجد الحرام - بيت المقدس)  
 ب) به سرزمینی که از سه طرف به آب و یک طرف به خشکی راه دارد، ... جزیره ... مي‌گویند. (جزیره - شبه جزیره)  
 پ) در زمان ظهور اسلام مهم‌ترین شهر عربستان ... مکه ... بوده است. (مکه - مدینه)  
 ت) قبله‌ی مسلمان جهان ... خانم‌ی کعبه ... است. (بيت المقدس - خانه‌ی کعبه)

۳





کامل کنید.

الف) حضرت محمد (ص) پس از **نخبت** مأموریت یافتند که مردم را پنهانی به **دین اسلام** دعوت کنند.  
ب) پیامبر و یارانش مجبور شدند سه سال در یکی از دره‌های مکه به نام **شعب ابن طالب** در کمال سختی زندگی کنند.

۴ در زمان ظهور اسلام مهم‌ترین شهر عربستان کجا بود؟ چرا؟  
**مکه، زیرا این شهر سر راه کاروان‌های بازرگانی قرار داشت و خانگی کعبه نیز در آن جا بود.**

هدیه‌های آسمان - قرآن

کامل کنید.

الف) نرجس، **همسر** و حکیمه خاتون، **عمری** امام حسن عسکری (ع) هستند.  
ب) همسر امام حسن عسکری (ع) زیر نظر **حکیمه خاتون** تربیت شده بود.

۲ امام حسن عسکری (ع) هنگام به دنیا آمدن فرزندشان به عمه‌ی خود، چه فرمودند؟  
**عمر جان به خانی ما بیا و در کنار من بمان زیرا انسب جانشین من به دنیا خواهد آمد و خدا تو را یار دین او بسازد خواه کرد.**

۳ با توجه به آیه‌ی ۷ سوره‌ی ابراهیم، چگونه نعمت‌های ما افزایش می‌یابد؟  
**شکر نعمت : نعمت افزون کند**

- تکمیل شعر
- آشنایی با سرزمین عربستان
- آشنایی با مراسم حج
- شناخت امام دوازدهم

- محاسبه‌ی جمع اعشاری با استفاده از محورها
- مقایسه‌ی اعداد اعشاری
- مفهوم سطح شیب‌دار و کاربرد آن
- اصلاح کلمات نادرست (املاء)
- تشخیص کلمات هم معنی

شاخص‌ها

- خوب
- خوب
- قابل قبول
- نیاز به تلاش بیشتر

۱۴

