

نام و نام خانوادگی: حسینا سادات تاریخ: ۱۴۰۲/۱۲/۲۵ نام آموزگار: سرکار خانم بنگلی

ریاضی < فصل ۶ شکل‌های هندسی: عمود، موازی < مطالعات اجتماعی < درس ۱۸: پوشش گیاهی و زندگی جانوری در ایران (۳)  
 علوم < درس ۱۰: بدن ما (۲) هدیه‌های آسمان < درس ۱۸: چشمان همیشه باز (۱)  
 فارسی < درس ۱۵: شیر و موش (۲) قرآن < درس ۱۳: جلسه‌ی دوم و سوم

## ریاضی

۱ جاهای خالی را با استفاده از عدد یا کلمه‌ی داخل پرانتز کامل کنید. ✓

الف) اگر خطی به‌طور عمود، دو خط موازی را قطع کند، زاویه‌ی مساوی در محل تقاطع ایجاد می‌شود. (۳ - ۸)

ب) از یک نقطه خارج از یک خط ریک خط عمود می‌توان بر آن خط رسم کرد. (بی‌نهایت)

پ) هرگاه دو خط باهم زاویه‌ی راست بسازند، آن دو خط عمودند (موازی‌اند - عمودند)

ت) دو خط عمود بر یک خط باهم موازی هستند. (موازی - عمود)

۲ درستی ✓ و نادرستی ✗ هر عبارت را مشخص کنید. ✓

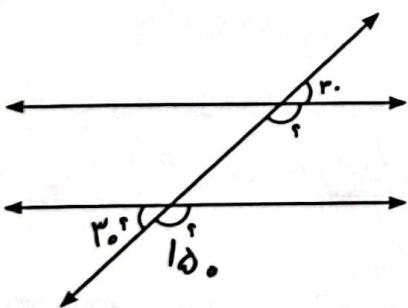
الف) از پرگار برای تشخیص خطوط عمود استفاده می‌کنیم. ✗

ب) خطی که بر یک خط عمود باشد، با خط‌های موازی با آن خط موازی است. ✗

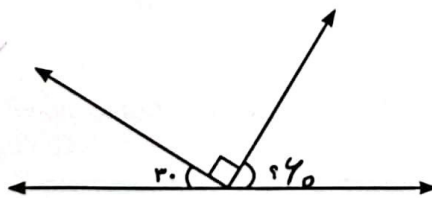
پ) فاصله‌ی دو خط موازی، در تمام نقاط از یکدیگر به یک اندازه هستند. ✓

ت) دو خط موازی، در یک نقطه یکدیگر را قطع می‌کنند. ✗

۳ اندازه‌ی زاویه‌های خواسته شده را به دست آورید. ✓

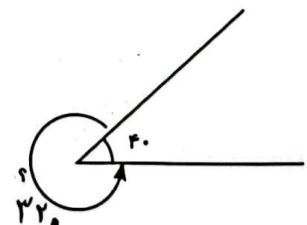


$$110 - 30 = 150$$

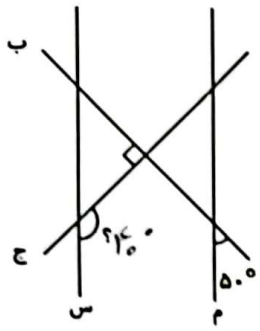


$$30 + 90 = 120$$

$$110 - 120 = 40$$



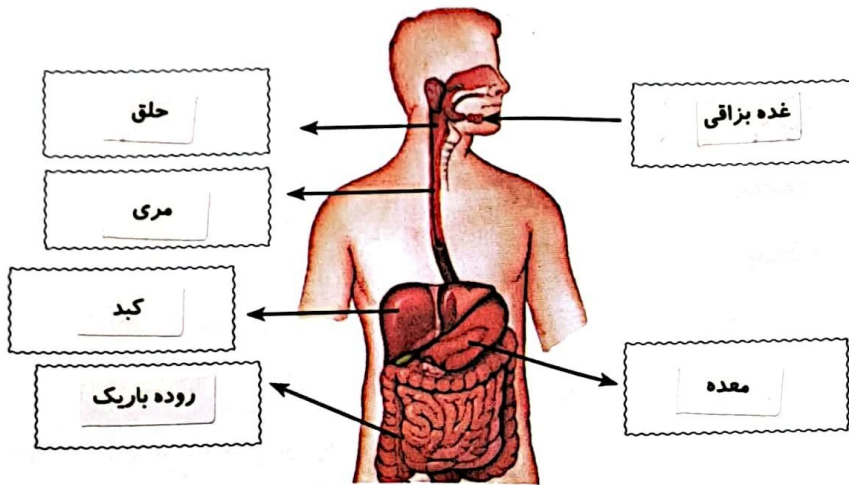
$$320 - 40 = 320$$



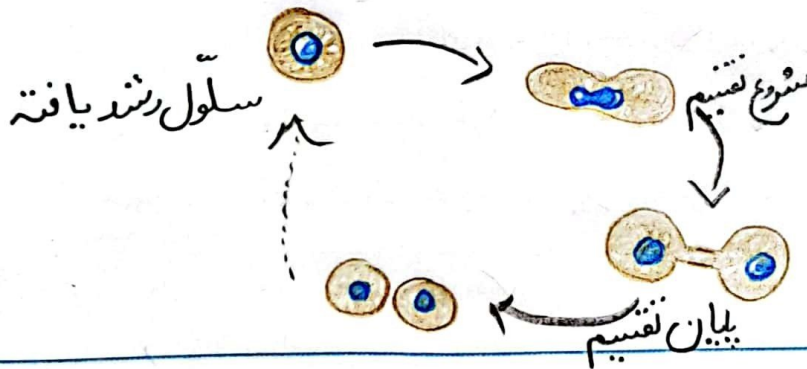
خط‌های (س) و (م) با هم موازی‌اند. با توجه به شکل به سؤالات پاسخ دهید. ✓  
 الف) زاویه‌ی مشخص شده چند درجه است؟  $40^\circ$   
 ب) کدام یک از خطوط زیر برهم عمودند؟  $س$

### علوم

برچسب‌ها را در جای مناسب قرار دهید. ✓



چگونگی تقسیم سلول‌ها را بکشید. ✓



وظیفه‌ی قلب در بدن انسان چیست؟ ✓

قلب مانند یک تلمبه خون را با فشار به درون رگ‌ها می‌فرستد.

سیاهرگ‌ها در کدام قسمت بدن هستند و وظیفه‌ی آن‌ها چیست؟ ✓

سیاهرگ‌ها معمولاً در نزدیکی سطح بدن و زیر پوست هستند و وظیفه‌ی آنها خون را از اندام‌ها به قلب برمی‌گردانند.

برچسب هریک از مکان‌های زیر را روی نقشه قرار دهید. ✓



- دریای خزر
- رشته کوه زاگرس
- دشت کویر
- دشت لوت
- خلیج فارس



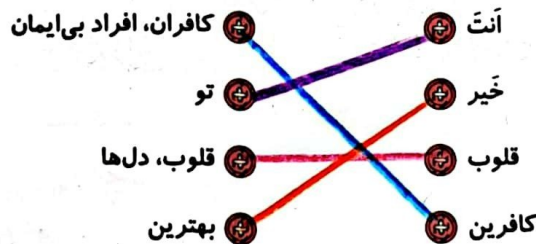
### هدیه‌های آسمان - قرآن

دوربین و فرشتگان خدا را با هم مقایسه کنید. ✓



دوربین: حافظه‌ی محدود برای ثبت عکس  
فرشتگان: همه اتفاقات را ثبت و ضبط می‌کنند و هیچ محدودیتی برای اعمال ندارند.

با توجه به معنای صحیح واژگان، به هم وصل کنید. ✓



◀ مفرد کلمات جمع	◀ رسم خطوط عمود
◀ شناخت انواع جمله	◀ تأثیر خطوط عمود و موازی در اندازه‌ی زوایا
◀ معنی ابیات شعر «شیر و موش»	◀ ساخت زاویه‌ی درست
◀ پوشش گیاهی مناطق مختلف	◀ مراحل مختلف گوارش
◀ پوشش جانوری مناطق مختلف	◀ مراحل تقسیم سلولی
◀ خداوند ناظر بر اعمال ما انسان‌هاست.	◀ وظیفه‌ی قلب
◀ ترجمه‌ی عبارات قرآنی	◀ سیاهرگ



## فارسی

### باستان‌شناسی

در متن زیر کلمات جمع را پیدا کنید و مفرد آن‌ها را در زیر هر کلمه بنویسید. ✓  
 بچه‌ها با اشتیاق به سکه‌ها، ظروف قدیمی، مجسمه‌ها و وسایلی که کاوشگران و باستان‌شناسان به دست آورده بودند، نگاه می‌کردند.  
 مجسمه‌ها: مجسمه، بچه‌ها: بچه، سکه‌ها: سکه، ظروف: ظرف، کاوشگران: کاوشگر، باستان‌شناسان: باستان‌شناس

جملات زیر را کامل کنید و نوع جمله را بنویسید. ✓

(الف) آرش با گام‌های بلند، از کوه بالا رفت. ( خبری )  
 (ب) بچگی دلاوران. ( امری )  
 (پ) این، چرا کرم؟ چرا دادم پیام؟ ( پرسشی )

معنی هر بیت را بنویسید. ✓

(الف) گفت: ای موش لوس یک غازی  
 (ب) از پی صید گرگ یک صیاد

با دم شیر می‌کنی بازی شیرگفت ای موش لوس بی ارزش ایام شربابی  
 در همان حول و حوش دام نهادیک صیادی ای نگارگرت در بجان اطراف گذاشته

شعر «شیر و موش» از کدام شاعر است؟ ✓

(۴) فردوسی


(۳) ایرج میرزا

(۲) پروین اعتصامی

(۱) سعدی

## مطالعات اجتماعی

هر یک از تصاویر زیر مربوط به کدام ناحیه‌ی آب و هوایی ایران است؟ ✓



جنگل‌های انبوه راش و افرا

جنگل‌های وسیع بلوط و پسته کوهی

↓  
 ناحیه معتدل خزری

↓  
 ناحیه‌ی کوهستانی

به سوالات زیر پاسخ دهید. ✓

(الف) چرا در قله‌های بلند کوه‌ها، گیاهان نمی‌رویند؟  
 به خاطر آب و هوای نامطلوب و حاصلخیز نبودن خاک. (به خاطر سرما)  
 (ب) چند نمونه از جانوران ناحیه‌ی معتدل خزری را نام ببرید.  
 (سراز، خرگوش، شغال، مار، قورباغه، لاک‌پشت)

# ارمغان هفته - چهارم دبستان

نام و نام خانوادگی: ..... تاریخ: ۱۳۸۶/۰۱/۰۴ ..... نام آموزگار: سرکار خانم نوری پور

مطالعات اجتماعی < نوروژ

ریاضی < نوروژ

هدیه‌های آسمان < نوروژ

علوم < نوروژ

قرآن < نوروژ

فارسی < نوروژ

## ریاضی

$$(1 \times 2) + 1 = 3$$



(۱)

$$(2 \times 2) + 1 = 5$$



(۲)

$$(3 \times 2) + 1 = 7$$



(۳)

تعداد تخم مرغ‌های رنگی در شکل دهم چندتا است؟ ✓





$$(10 \times 2) + 1 = 21$$

۲ پدر بزرگ سعید ۱۲ نوه دارد. او می‌خواهد در روز اول عید نوروژ به هر کدام از نوه‌های خود ۱۵۰۰۰ تومان عیدی بدهد. او باید روی هم چند تومان برای عیدی دادن آماده کند؟ ✓

$$150,000 \times 12 = 1,800,000$$

او باید ۱,۸۰۰,۰۰۰ تومان عیدی آماده کند.

۳ گل‌های برابر را هم رنگ کنید. ✓



۴ مادر درسا ۵ متر روبان خرید و سفره‌ی هفت‌سین را با ۳ تکه روبان ۰/۳ متری و یک تکه روبان ۰/۴ متری تزئین کرد. چند متر از روبان باقی‌ماند؟ ✓

$$(3 \times 0.4) + (1 \times 0.4) = 1.6$$

$$5 - 1.6 = 3.4$$

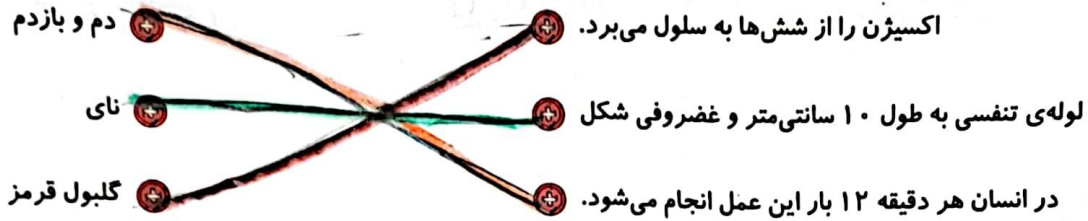
$$3 \times \frac{3}{10} = \frac{9}{10}$$

$$1 \times \frac{4}{10} = \frac{4}{10}$$



## علوم

عبارات مرتبط را به هم وصل کنید.



برچسب شکل مدار موازی و مدار متوالی را در جای خود قرار دهید.



با توجه به ۲ مدار بالا به سؤالات زیر پاسخ دهید.


در کدام مدار با افزودن لامپ‌ها، روشنایی آن‌ها کم‌تر نمی‌شود؟

موازی

در کدام مدار اگر یکی از لامپ‌ها بسوزد، بقیه‌ی لامپ‌ها خاموش می‌شوند؟

متوالی

اسم سیاره‌ها را به ترتیب در جای خود بنویسید.   
 ۱ - عطارد   
 ۲ - زحل   
 ۳ - زمین   
 ۴ - مریخ   
 ۵ - مشتری   
 ۶ - زحل   
 ۷ - زحل   
 ۸ - زحل



درستی  و نادرستی  هر عبارت را مشخص کنید.

(الف) مهم‌ترین اندام دستگاه تنفسی شش‌ها هستند.

(ب) ورود هوا به دستگاه تنفسی را دم و خروج آن را بازدم می‌گویند.

(پ) وجود مو داخل بینی تأثیری در هوای ورودی به آن ندارد.

(ت) ورود هوا ابتدا به دهان و بینی به علت عدم ورود مستقیم هوای سرد به دستگاه تنفسی می‌باشد.

(ث) نایزک‌ها از کیسه‌های هوایی تشکیل شده‌اند.

## فارسی

\* متن زیر را با دقت بخوانید و به سوالات پاسخ دهید.

مردی در بازارچه‌ی شهر حجره‌ای داشت و پارچه می‌فروخت. شاگرد او پسر خوب و مؤدبی بود ولیکن کمی خجالتی بود. مرد تاجر همسری کدبانو داشت که دستپخت خوبی داشت و آش‌های خوش‌مزه‌ی او دهان هر کس را آب می‌انداخت. روزی مرد بیمار شد و نتوانست به دکانش برود. شاگرد در دکان را باز کرده بود و جلوی آن را آب و جارو کرده بود ولی هرچه منتظر ماند از تاجر خبری نشد.

قبل از ظهر به او خبر رسید که حال تاجر خوب نیست و باید دنبال دکتر برود. پسرک در دکان را بست و دنبال دکتر رفت. دکتر به منزل تاجر رفت و او را معاینه کرد و برایش دارو نوشت.

پسر بیرون رفت و دارو را خرید و وقتی به خانه برگشت، دیگر ظهر شده بود. پسرک خواست دارو را بدهد و برود، ولی همسر

تاجر خیلی اصرار کرد و او را برای ناهار به خانه آمد. همسر تاجر برای ناهار آش پخته بود سفره را انداخته و کاسه‌های آش را

گذاشتند. تاجر برای شستن دست‌هایش به حیاط زیبای خانه رفت و همسرش به آشپزخانه بازگشت تا قاشق‌ها را بیاورد.

پسرک خیلی خجالت می‌کشید و فکر کرد تا بهانه‌ای بیاورد و ناهار را آن‌جا نخورد. فکر کرد بهتر است بگوید دندانش درد می‌کند.

پسرک دستش را جلوی دهانش گذاشت و در آن هنگام تاجر به اتاق برگشت و تا او را دید، گفت: دهانت سوخت؟ حالا چرا انقدر

عجله کردی؟ صبر می‌کردی تا آش سرد شود آن وقت می‌خوردی!

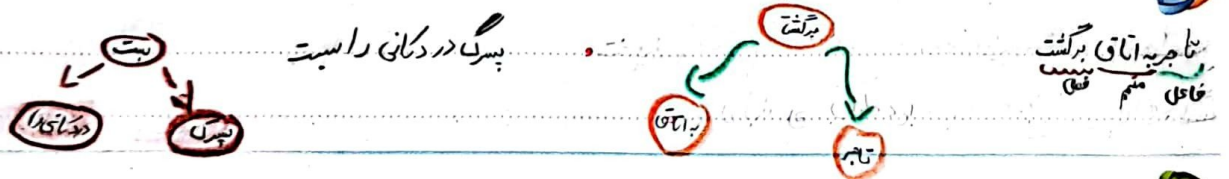
زن تاجر که با قاشق‌ها از راه رسیده بود به تاجر گفت: «این چه حرفی است که می‌زنی؟ من که تازه قاشق‌ها را آورده‌ام. او که آش

نخورده که دهانش بسوزد؟» داستان برگرفته شده از مثل‌ها و مثل‌ها،

۱ این داستان بیان‌کننده‌ی کدام ضرب‌المثل است؟

آتش بخورد و دهان سوخته

۲ دو جمله از داستان انتخاب کنید و نمودار آن را بکشید.



۳ یک جمله‌ی خبری و یک جمله‌ی پرسشی را انتخاب کنید و بنویسید.

پرسشی: این چه حرفی است که می‌زنی؟

خبری: همسر تاجر برای ناهار آش پخته بود.

۴ چرا مرد تاجر فکر کرد پسرک آش خورده است؟

چون دستش جلوی دهانش بود.

## مطالعات اجتماعی

۱) فرزندم در ایام نوروز دوست دارید به کدام یک از شهرهای ایران مسافرت کنید؟ ...

الف) سوغاتی‌های این شهر را بنویسید.

نعمان - نبات

ب) این شهر در کدام ناحیه‌ی آب و هوایی قرار دارد؟

معتدل

پ) آیا در این شهر آثار باستانی و تاریخی قرار دارد؟

بله

## هدیه‌های آسمان - قرآن

۱) روز دوم فروردین روز جهانی آب است. از قرآن کریم آیه‌ای در این باره پیدا کنید و با معنی آن را بنویسید.

«و جعلنا من السماء سماء سائلة تسقي ارضنا و ما من دابة الا عندها ماء و ما من قرية الا عندها ماء و ما من قرية الا عندها ماء»

وما هم الا عندها ماء و ما من قرية الا عندها ماء و ما من قرية الا عندها ماء و ما من قرية الا عندها ماء

۲) معنای عبارت قرآنی زیر را بنویسید.

يَا مُقَلَّبَ الْقُلُوبِ وَ الْأَبْصَارِ يَا مُدَبِّرَ اللَّيْلِ وَ النَّهَارِ يَا مُحَوِّلَ الْحَوَالِ وَ الْأَخْوَالِ حَوِّلْ خَالَنا إلی أَحْسَنِ الْحَالِ

ای یغف دهنده‌ی دل‌ها و دیدره‌ها، ای مدبّر شب و روز، ای گرداننده‌ی منزلت‌ها، بگردان حال ما را به نیلوتین

حال ع

	تشخیص ضرب المثل‌ها		تشخیص الگوی هندسی
	نمودار جمله		ضرب اعداد چند رقمی
	جمله‌ی خبری و پرسشی		کسرها
	درک مطلب		محاسبات اعداد اعشاری
	آشنایی با ناحیه‌ی آب و هوایی و آثار باستانی هر منطقه		آشنایی با دستگاه تنفسی
	ارزش آب در اسلام		انواع مدارها و نحوه‌ی کار هر کدام
	معنای عبارت دعایی لحظه‌ی سال تحویل		ترتیب سیاره‌ها

شاخص‌ها

خیلی خوب  
خوب  
قابل قبول  
نیاز به تلاش بیشتر



نام و نام خانوادگی: ..... حینا سادات ..... تاریخ: ۱۴۰۲/۱۱/۰۳ ..... نام آموزگار: ..... سرکار خانم فاطمه

مطالعات اجتماعی &lt; نوروژ

هدیه‌های آسمان &lt; نوروژ

قرآن &lt; نوروژ

ریاضی &lt; نوروژ

علوم &lt; نوروژ

فارسی &lt; نوروژ

## ریاضی

۱ کسر  $\frac{3}{4}$  را روی شکل نشان دهید و ۲ کسر مساوی بنویسید. ✓

$$\frac{3}{4} = \frac{6}{8} = \frac{12}{16} = \frac{24}{32}$$

۲ الگوهای زیر را ادامه دهید ✓

الف) ۱، ۲، ۳، ۴، ۵، ۶، ۷، ۸، ۹، ۱۰، ۱۱، ۱۲، ۱۳، ۱۴، ۱۵، ۱۶، ۱۷، ۱۸، ۱۹، ۲۰، ۲۱، ۲۲، ۲۳، ۲۴، ۲۵، ۲۶، ۲۷، ۲۸، ۲۹، ۳۰، ۳۱، ۳۲، ۳۳، ۳۴، ۳۵، ۳۶، ۳۷، ۳۸، ۳۹، ۴۰، ۴۱، ۴۲، ۴۳، ۴۴، ۴۵، ۴۶، ۴۷، ۴۸، ۴۹، ۵۰، ۵۱، ۵۲، ۵۳، ۵۴، ۵۵، ۵۶، ۵۷، ۵۸، ۵۹، ۶۰، ۶۱، ۶۲، ۶۳، ۶۴، ۶۵، ۶۶، ۶۷، ۶۸، ۶۹، ۷۰، ۷۱، ۷۲، ۷۳، ۷۴، ۷۵، ۷۶، ۷۷، ۷۸، ۷۹، ۸۰، ۸۱، ۸۲، ۸۳، ۸۴، ۸۵، ۸۶، ۸۷، ۸۸، ۸۹، ۹۰، ۹۱، ۹۲، ۹۳، ۹۴، ۹۵، ۹۶، ۹۷، ۹۸، ۹۹، ۱۰۰

ب) ۱، ۲، ۳، ۴، ۵، ۶، ۷، ۸، ۹، ۱۰، ۱۱، ۱۲، ۱۳، ۱۴، ۱۵، ۱۶، ۱۷، ۱۸، ۱۹، ۲۰، ۲۱، ۲۲، ۲۳، ۲۴، ۲۵، ۲۶، ۲۷، ۲۸، ۲۹، ۳۰، ۳۱، ۳۲، ۳۳، ۳۴، ۳۵، ۳۶، ۳۷، ۳۸، ۳۹، ۴۰، ۴۱، ۴۲، ۴۳، ۴۴، ۴۵، ۴۶، ۴۷، ۴۸، ۴۹، ۵۰، ۵۱، ۵۲، ۵۳، ۵۴، ۵۵، ۵۶، ۵۷، ۵۸، ۵۹، ۶۰، ۶۱، ۶۲، ۶۳، ۶۴، ۶۵، ۶۶، ۶۷، ۶۸، ۶۹، ۷۰، ۷۱، ۷۲، ۷۳، ۷۴، ۷۵، ۷۶، ۷۷، ۷۸، ۷۹، ۸۰، ۸۱، ۸۲، ۸۳، ۸۴، ۸۵، ۸۶، ۸۷، ۸۸، ۸۹، ۹۰، ۹۱، ۹۲، ۹۳، ۹۴، ۹۵، ۹۶، ۹۷، ۹۸، ۹۹، ۱۰۰

پ) ۱، ۲، ۳، ۴، ۵، ۶، ۷، ۸، ۹، ۱۰، ۱۱، ۱۲، ۱۳، ۱۴، ۱۵، ۱۶، ۱۷، ۱۸، ۱۹، ۲۰، ۲۱، ۲۲، ۲۳، ۲۴، ۲۵، ۲۶، ۲۷، ۲۸، ۲۹، ۳۰، ۳۱، ۳۲، ۳۳، ۳۴، ۳۵، ۳۶، ۳۷، ۳۸، ۳۹، ۴۰، ۴۱، ۴۲، ۴۳، ۴۴، ۴۵، ۴۶، ۴۷، ۴۸، ۴۹، ۵۰، ۵۱، ۵۲، ۵۳، ۵۴، ۵۵، ۵۶، ۵۷، ۵۸، ۵۹، ۶۰، ۶۱، ۶۲، ۶۳، ۶۴، ۶۵، ۶۶، ۶۷، ۶۸، ۶۹، ۷۰، ۷۱، ۷۲، ۷۳، ۷۴، ۷۵، ۷۶، ۷۷، ۷۸، ۷۹، ۸۰، ۸۱، ۸۲، ۸۳، ۸۴، ۸۵، ۸۶، ۸۷، ۸۸، ۸۹، ۹۰، ۹۱، ۹۲، ۹۳، ۹۴، ۹۵، ۹۶، ۹۷، ۹۸، ۹۹، ۱۰۰

۳ در هر ردیف از جدول زیر یک کسر با بقیه مساوی نیست. آن را رنگ بزنید و سپس حرف مربوط به آن کسر را در پایین جدول در جای مناسب بنویسید تا رمز جدول به دست آید. ✓

س	$\frac{4}{8}$	ب	$\frac{4}{7}$	پ	$\frac{1}{2}$	س	$\frac{8}{16}$	۱
ق	$\frac{15}{21}$	ج	$\frac{10}{14}$	د	$\frac{9}{21}$	د	$\frac{5}{7}$	۲
ه	$\frac{18}{24}$	س	$\frac{6}{8}$	ا	$\frac{5}{8}$	و	$\frac{12}{16}$	۳
ر	$\frac{12}{18}$	ا	$\frac{18}{24}$	د	$\frac{15}{20}$	ن	$\frac{9}{12}$	۴
ه	$\frac{8}{40}$	م	$\frac{6}{30}$	ا	$\frac{10}{25}$	ر	$\frac{5}{25}$	۵
ع	$\frac{12}{18}$	ن	$\frac{17}{36}$	ب	$\frac{24}{36}$	ی	$\frac{4}{6}$	۶

ب    ه    ا    ر    ا    ن

۱    ۲    ۳    ۴    ۵    ۶



## علوم

برچسب تبدیل‌های انرژی مربوط به هر تصویر را در جای خود قرار دهید. ✓



شیمیایی به نورانی



الکتریکی به نورانی



الکتریکی به حرکتی



الکتریکی به صوتی

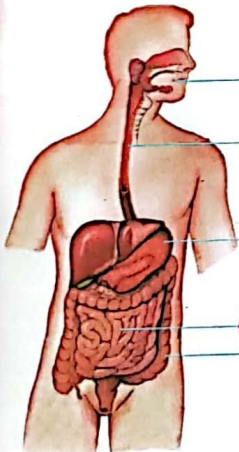


الکتریکی به گرمایی



حرکتی به گرمایی

نام اجزای مشخص شده در شکل را نوشته و وظیفه‌ی هر قسمت را بنویسید. ✓



۱. غذا را از دهان به معده می‌کند.

۲. این لوله غذا را به معده هدایت می‌کند.

۳. معده غذا را به شکل باغچه‌خانی درمی‌آورد. روده کوچک هدایت می‌کند.

۴. روده کوچک زره‌های غذا آماده شده را به سلول‌های بدن می‌فرستد.

۵. روده بزرگ مواد گوارش نیافتنه مانند پوست و دانه‌ها را دفع می‌کند.

۶. و مواد گوارش نیافتنه را به روده بزرگ می‌فرستد.

۲ با توجه به تصویر منطقه‌ی آب و هوایی هر گیاه را در زیر آن بنویسید.



گرم و خشک      معتدل، خری      کوهستانی      گرم و خشک      سطل خری

### هدیه‌های آسمان - قرآن

۱ جواب سؤالات را از جدول پیدا کنید و رنگ کنید.

م	د	ا	و	ج	د
د	ت	ث	ع	ب	ش
ی	ش	ا	ض	ر	خ
ن	ه	م	ق	ئ	د
ه	ن	ا	ر	ی	ا
ف	د	ع	ب	ل	م

۱ شبی که حضرت محمد (ص) به پیامبری رسید. بعثت

۲ فرشته‌ای که اولین پیام خدا را برای حضرت محمد (ص) آورد. جبرئیل

۳ یکی از لقب‌های امام نهم. حواری

۴ محل تولد امام نهم. ورنید

۵ سن به امامت رسیدن امام نهم. هشت

۶ هشتمین امام ما. رضا

۷ نام شهری که حرم حضرت معصومه (س) در آن قرار دارد. قم

۸ نام یکی از شاعران زمان امام رضا (ع). دخیل

۹ ترجمه «الله» به فارسی خدا

- ◀ آشنایی با مناطق آب و هوایی
- ◀ آشنایی با جدول بودجه بندی
- ◀ عید مبعث
- ◀ مشخصات امام نهم
- ◀ مشخصات امام هشتم
- ◀ محل حرم حضرت معصومه (س)
- ◀ معنای واژه‌ی «الله»

- ◀ نمایش کسرهای مساوی
- ◀ الگوهای عددی
- ◀ تبدیل انرژی
- ◀ وظیفه‌ی اندام‌های بدن
- ◀ تشخیص قافیه
- ◀ تشخیص جمله‌های خبری و عاطفی
- ◀ کلمات هم خانواده
- ◀ درک مطلب

شاخص‌ها

- خوبی خوب
- خوب
- قابل قبول
- نیاز به تلاش بیشتر

## فارسی

**\*\* دانش آموزان عزیزم، حکایت زیر را با دقت بخوانید.**

دفتر فکرت بشوی، گفته سعدی بگوی دامن گوهر بیار، بر سر مجلس بیار

دو شاهزاده در مصر بودند، یکی علم اندوخت و دیگری مال اندوخت، عاقبت آن یکی علامه عصر گشت و این یکی سلطان مصر شد. پس از آن توانگر با چشم حقارت در فقیه نظر کرد و گفت: «من به سلطنت رسیدم و تو همچنان در مسکنت بماندی.» عالم گفت: «ای برادر، شکر نعمت حضرت باری تعالی بر من واجب است که میراث پیغمبران یافته‌م و تو میراث فرعون و هامون که در حدیث نبوی (ص) آمده: «العلماء مرثه الانبیاء»

من آن مورم که پایم بمالند نه زبورم که از دستم بنالند

کجا خود شکر این نعمت گزارم که زور مردم آزاری ندارم گلستان سعدی

۱ قافیه‌ها را در بیت‌های زیر مشخص کنید. ✓

من آن مورم که پایم بمالند نه زبورم که از دستم بنالند

کجا خود شکر این نعمت گزارم که زور مردم آزاری ندارم

شکر و این یکی سلطان مصر شد.

۲ در حکایتی که خواندید یک جمله‌ی خبری و یک جمله‌ی عاطفی بنویسید. ✓  
 خبری: دو شاهزاده در مصر بودند یکی علم اندوخت دیگری مال اندوخت عاقبت آن یکی علامه عصر  
 عاطفی: ای برادر! شکر نعمت حضرت باری تعالی بر من واجب است.

۳ عالم در پاسخ سلطان که به او گفته بود «من به سلطنت رسیدم و تو همچنان در مسکنت بماندی»، چه جوابی داد؟ ✓

گفت: ای برادر! شکر نعمت حضرت باری تعالی بر من واجب است. (ادامه در متن) که میراث

### پیغمبر یافته‌م و تو میراث فرعون گزیده‌ای

### مطالعات اجتماعی

۱ با شروع طرح، یکی از اجناس مورد علاقه‌ی خود را در نظر گرفته و مبالغی را که در هر روز عیدی گرفتید در جدول وارد کنید و با یک برنامه‌ریزی دقیق برای خرید آن اقدام کنید. (جدول زیر می‌تواند شما را هدایت کند.)

روز	درآمد یا پول توجیبی	هزینه (پولی که خرج می‌کنی)	پس‌انداز (پولی که ذخیره می‌کنی)
۱ فروردین	۳۰۰,۰۰۰ تومان	۵۰,۰۰۰ تومان	۳۵۰,۰۰۰ تومان
۲ فروردین	۳۷۰,۰۰۰ تومان	۹۰,۰۰۰ تومان	۲۸۰,۰۰۰ تومان
۳ فروردین	۵۵۰,۰۰۰ تومان	۱۵۰,۰۰۰ تومان	۴۰۰,۰۰۰ تومان
۴ فروردین	۲۰۰,۰۰۰ تومان	۳۸۰,۰۰۰ تومان	۲۶۲,۰۰۰ تومان
۵ فروردین	۷۲۰,۰۰۰ تومان	۱۸۰,۰۰۰ تومان	۵۴۰,۰۰۰ تومان
۶ فروردین	۹۸۰,۰۰۰ تومان	۲۳۵,۰۰۰ تومان	۷۴۵,۰۰۰ تومان
۷ فروردین	۶۴۰,۰۰۰ تومان	۲۰۰,۰۰۰ تومان	۴۴۰,۰۰۰ تومان
۸ فروردین	۸۴۰,۰۰۰ تومان	۲۲۰,۰۰۰ تومان	۵۲۰,۰۰۰ تومان
۹ فروردین	۲۱۰,۰۰۰ تومان	۵۰,۰۰۰ تومان	۱۶۰,۰۰۰ تومان
جمع	۵,۰۴۰,۰۰۰ تومان	۱,۳۱۳,۰۰۰ تومان	۳,۷۲۷,۰۰۰ تومان