



موضوع:

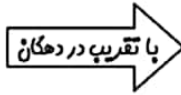
تاریخ:

نام و نام خانوادگی:


هدف:

۱. عددهای زیر را با تقریب خواسته شده بنویس.

۷۹
۲۵۳
۴۶۸



۷۶۵۴
۹۳۰۰
۳۴۹۹



۲. با توجه به اعداد زیر، به سوالات جواب بده.

۲۸۵ - ۶۷۰ - ۹۶۱ - ۷۸۳ - ۱۸۶

➤ کدام یک از اعداد بالا بر ۲ بخش پذیرند؟

➤ کدام یک از اعداد بر ۵ بخش پذیرند؟

۳. محمد تقسیم زیر را حل کرده است. با نوشتن رابطه های تقسیم نشان دهید محمد این تقسیم را درست انجام داده است یا خیر.

$$\begin{array}{r} ۷۲۷ \quad | \quad ۱۳ \\ -۶۰۰ \\ \hline ۱۲۷ \\ -۱۲۰ \\ \hline ۱۷ \\ -۱۵ \\ \hline ۲ \end{array}$$

۴. ضرب های زیر را انجام بده.

$$\begin{array}{r} ۶۹۳ \\ \times ۷۰۰ \\ \hline \end{array}$$

$$\begin{array}{r} ۳۷۵ \\ \times ۸۰۲ \\ \hline \end{array}$$







موضوع:

تاریخ

نام و نام خانوادگی

هدف:



۵. تقسیم های زیر را حل کن.

۶. مدرسه ی احمد قصد دارد دانش آموزان را به اردوی تفریحی ببرد، برای این اردو ۶ اتوبوس ۴۲ نفره و ۳ مینی بوس ۱۸ نفره در نظر گرفته شده است. در این وسایل نقلیه چند دانش آموز جا می شود؟ آیا با این وسایل نقلیه می توان ۳۰۵ دانش آموز را به اردو برد؟
(راه حل خود را بنویس.)

۷. علی در ماه مبارک رمضان تمام قرآن را خواند. قرآن او ۶۹۶ صفحه داشت و ماه رمضان آن سال ۲۹ روز بود. علی در هر روز به طور متوسط چند صفحه قرآن خوانده است؟

۸. یک مساله بنویس که پاسخ آن ، حاصل $۱۴ \div ۸۳۷$ باشد و آن را حل کن.

.....

.....

.....

۱. عددهای زیر را با تقریب خواسته شده بنویس.

۷۹
۲۵۳
۴۶۸

با تقریب در دهگان

۸۰
۲۵۰
۴۷۰

۷۶۵۴
۹۳۰۰
۳۴۹۹

با تقریب در هزارگان

۸۰۰۰
۹۰۰۰
۳۰۰۰

۲. با توجه به اعداد زیر، به سوالات جواب بده.

$$۲۸۵ - ۶۷۰ - ۹۶۱ - ۷۸۳ - ۱۸۶$$

➤ کدام یک از اعداد بالا بر ۲ بخش پذیرند؟ $۱۸۶ - ۶۷۰$

➤ کدام یک از اعداد بر ۵ بخش پذیرند؟ $۶۷۰ - ۲۸۵$

۳. محمد تقسیم زیر را حل کرده است. با نوشتن رابطه های تقسیم نشان دهید محمد این تقسیم را درست انجام داده است یا خیر.

$$\begin{array}{r} ۷۳۷ \quad | \quad ۳ \\ -۶۰۰ \\ \hline ۱۳۷ \\ -۱۲۰ \\ \hline ۱۷ \\ -۱۵ \\ \hline ۲ \end{array}$$

$$۲ < ۳$$

$$۲۴۵ \times ۳ + ۲ = ۷۳۷$$

محمد تقسیم را درست حل کرده است.

۴. ضرب های زیر را انجام بده.

$$\begin{array}{r} ۶۹۳ \\ \times ۷۰۰ \\ \hline ۴۸۵۱۰۰ \end{array}$$

$$\begin{array}{r} ۳۷۵ \\ \times ۸۰۲ \\ \hline ۷۵۰ \\ + ۳۰۰۰۰۰ \\ \hline ۳۰۰۷۵۰ \end{array}$$



۵. تقسیم های زیر را حل کن.

$$\begin{array}{r} 3247 \overline{) 5} \\ \underline{3000} \\ 247 \\ \underline{200} \\ 47 \\ \underline{45} \\ 02 \end{array}$$

$$\begin{array}{r} 2660 \overline{) 63} \\ \underline{2520} \\ 140 \\ \underline{126} \\ 14 \end{array}$$

۶. مدرسه ی احمد قصد دارد دانش آموزان را به اردوی تفریحی ببرد، برای این اردو ۶ اتوبوس ۴۲ نفره و ۳ مینی بوس ۱۸ نفره در نظر گرفته شده است. در این وسایل نقلیه چند دانش آموز جا می شود؟ **۳۰۶ دانش آموز** آیا با این وسایل نقلیه می توان ۳۰۵ دانش آموز را به اردو برد؟ **بله** (راه حل خود را بنویس.)

$$\begin{array}{r} 42 \\ \times 6 \\ \hline 252 \end{array} \quad \begin{array}{r} 18 \\ \times 3 \\ \hline 54 \end{array} \quad 252 + 54 = 306$$

۷. علی در ماه مبارک رمضان تمام قرآن را خواند. قرآن او ۹۶ صفحه داشت و ماه رمضان آن سال ۲۹ روز بود. علی در هر روز به طور متوسط چند صفحه قرآن خوانده است؟

$$\begin{array}{r} 29 \overline{) 96} \\ \underline{58} \\ 116 \\ \underline{116} \\ 000 \end{array}$$

علی در هر روز به طور متوسط ۲۴ صفحه قرآن خوانده است.

۸. یک مساله بنویس که پاسخ آن ، حاصل $837 \div 14$ باشد و آن را حل کن.

$$\begin{array}{r} 837 \overline{) 14} \\ \underline{700} \\ 137 \\ \underline{126} \\ 011 \end{array}$$

یک کارخانه خودرو سازی ۸۳۷ خودرو تولید کرده و می خواهد این خودروها را برای فروش به ۱۴ نمایندگی خود ارسال کند. حساب کنید به هر نمایندگی چند خودرو می رسد و چند خودرو در کارخانه باقی می ماند؟