

شماره‌ی

۲۵

ارمغان هفته - چهارم دبستان

نام و نام خانوادگی: تاریخ: نام آموزگار:

مطالعات اجتماعی < نوروژ

هدیه‌های آسمان < نوروژ

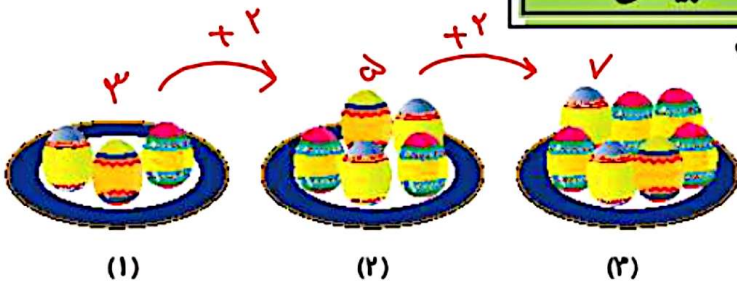
قرآن < نوروژ

ریاضی < نوروژ

علوم < نوروژ

فارسی < نوروژ

ریاضی



تعداد تخم مرغ‌های رنگی در شکل دهم چندتا است؟

$$+ 1 (2 \times \text{شماره شکل})$$

$$+ 1 = 21 (10 \times 2)$$


پدر بزرگ سعید ۱۲ نوه دارد. او می‌خواهد در روز اول عید نوروز به هر کدام از نوه‌های خود ۱۵۰۰۰ تومان عیدی بدهد. او باید

روی هم چند تومان برای عیدی دادن آماده کند؟

$$12 \times 15000 = 180000$$

باید ۱۸۰۰۰۰ تومان عیدی بدهد.

گل‌های برابر را هم‌رنگ کنید.



مادر درس ۵ متر روبان خرید و سفره‌ی هفت‌سین را با ۳ تکه روبان ۰/۳ متری و یک تکه روبان ۰/۴ متری تزئین کرد. چند

متر از روبان باقی ماند؟

$$3 \times 0.3 = 0.9$$

$$1 \times 0.4 = 0.4$$

$$0.9 + 0.4 = 1.3 \text{ متر}$$

$$5 - 1.3 = 3.7 \text{ متر}$$

علوم

عبارات مرتبط را به هم وصل کنید.



برچسب شکل مدار موزاری و مدار متوالی را در جای خود قرار دهید.

مدار متوالی:	مدار موزاری:
به همراه دانش آموز	به همراه دانش آموز

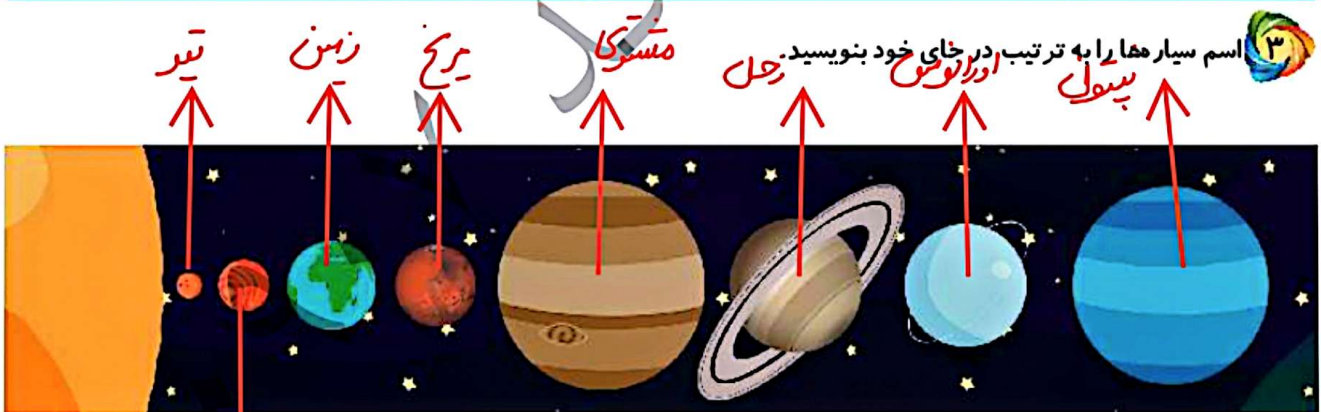
با توجه به ۲ مدار بالا به سؤالات زیر پاسخ دهید.

در کدام مدار با افزودن لامپ‌ها، روشنایی آن‌ها کم‌تر نمی‌شود؟

مدار موزاری

در کدام مدار اگر یکی از لامپ‌ها بسوزد، بقیه‌ی لامپ‌ها خاموش می‌شوند؟

مدار متوالی



درستی و نادرستی هر عبارت را مشخص کنید.

الف) مهم‌ترین اندام دستگاه تنفسی شش‌ها هستند.

ب) ورود هوا به دستگاه تنفسی را دم و خروج آن را بازدم می‌گویند.

پ) وجود مو داخل بینی تأثیری در هوای ورودی به آن ندارد.

ت) ورود هوا ابتدا به دهان و بینی به علت عدم ورود مستقیم هوای سرد به دستگاه تنفسی می‌باشد.

ث) نایز که از کیسه‌های هوایی تشکیل شده‌اند.

فارسی

* متن زیر را با دقت بخوانید و به سؤالات پاسخ دهید.

مردی در بازارچه‌ی شهر حجره‌ای داشت و پارچه می‌فروخت. شاگرد او پسر خوب و مؤدبی بود ولیکن کمی خجالتی بود. مرد تاجر همسری کدبانو داشت که دستپخت خوبی داشت و آش‌های خوش‌مزه‌ی او دهان هر کسی را آب می‌انداخت. روزی مرد بیمار شد و نتوانست به دکانش برود. شاگرد در دکان را باز کرده بود و جلوی آن را آب و جارو کرده بود ولی هرچه منتظر ماند از تاجر خبری نشد. قبل از ظهر به او خبر رسید که حال تاجر خوب نیست و باید دنبال دکنر برود. پسرک در دکان را بست و دنبال دکنر رفت. دکنر به منزل تاجر رفت و او را معاینه کرد و برایش دارو نوشت. پسر بیرون رفت و دارو را خرید و وقتی به خانه برگشت، دیگر ظهر شده بود. پسرک خواست دارو را بدهد و برود، ولی همسر تاجر خیلی اصرار کرد و او را برای نهار به خانه آمد. همسر تاجر برای نهار آش پخته بود سفره را انداخته و کلمه‌های آش را گذاشتند. تاجر برای شستن دست‌هایش به حیاط زیبای خانه رفت و همسرش به آشپزخانه بازگشت تا قاشق‌ها را بیاورد. پسرک خیلی خجالت می‌کشید و فکر کرده تا بهانه‌ای بیاورد و نهار را آن‌جا نخورد. فکر کرد بهتر است بگوید دندان‌ش درد می‌کند. پسرک دستش را جلوی دهانش گذاشت و در آن هنگام تاجر به اتاق برگشت و تا او را دید، گفت: «دهانت سوخت؟ حالا چرا انقدر عجله کردی؟ صبر می‌کردی تا آش سرد شود آن وقت می‌خوردی!» زن تاجر که با قاشق‌ها از راه رسیده بود به تاجر گفت: «این چه حرفی است که می‌زنی؟ من که تازه قاشق‌ها را آورده‌ام. او که آش نخورده که دهانش بسوزد؟»، دلستان برگرفته شده از متل‌ها و مثل‌ها.

۱ این داستان بیان‌کننده‌ی کدام ضرب‌المثل است؟

آش خورده و دهان سوزد

۲ دو جمله از داستان انتخاب کنید و نمودار آن را بکشید.

به علامه دانش اصرار

۳ یک جمله‌ی خبری و یک جمله‌ی پرسشی را انتخاب کنید و بنویسید.

خبرگی: مردکا در بازارچه تهر عجب‌ای دانست.

پرسیشی: حالا چرا انقدر عجله کردی؟

۴ چرا مرد تاجر فکر کرد پسرک آش خورده است؟

دستش را جلوی دهانش گذاشته بود.

مطالعات اجتماعی

به همراه دانش آموزان

فرزندم در ایام نوروز دوست دارید به کدام یک از شهرهای ایران مسافرت کنید؟
(الف) سوغاتی‌های این شهر را بنویسید.

ب) این شهر در کدام ناحیه‌ی آب و هوایی قرار دارد؟

پ) آیا در این شهر آثار باستانی و تاریخی قرار دارد؟

هدیه‌های آسمان - قرآن








روز دوم فروردین روز جهانی آب است. از قرآن کریم آیه‌ای در این باره پیدا کنید و با معنی آن را بنویسید.








وَجَعَلْنَا مِنَ الْمَاءِ حَيَاةً وَمَاتًا وَرِزْقًا
و حمر مرچود زنده ای را از آب آمیزیم.

۲) معنای عبارت قرآنی زیر را بنویسید.

يَا مَعْزِبَةَ الْقُلُوبِ وَالْأَبْصَارِ يَا مُدَبِّرَ اللَّيْلِ وَالنَّهَارِ يَا مُخَوِّلَ الْخَوْفِ وَالْأَخْوَالَ خَالِتًا إِلَيَّ أَحْسَنَ الْخَالِ،

ای دل‌بردار لب‌ها و دیدارها
ای متحول کننده سال‌ها و حالت‌ها
ای برتر در شب‌ها و روزها
حالات ما را به نیلومرین حالات تبدیل کن

	تشخیص ضرب المثل‌ها
	نمودار جمله
	جمله‌ی خبری و پرسشی
	درک مطلب
	آشنایی با ناحیه‌ی آب و هوایی و آثار باستانی هر منطقه
	ارزش آب در اسلام
	معنای عبارت دعایی لحظه‌ی سال تحویل

	تشخیص الگوی هندسی
	ضرب اعداد چند رقمی
	کسر
	معلیبات اعداد اعشاری
	آشنایی با دستگاه تنفسی
	انواع مدارها و نحوه‌ی کار هر کدام
	ترتیب سیاره‌ها

شاخص‌ها	
	غلبه‌ی خوب
	خوب
	قابل قبول
	نیاز به تلاش بیشتر