

درس: استعداد فضایی چهارم دبستان


طرح سنجش استعداد: مداد قرمز ۴ - توصیفی
زمان برگزاری: هفته چهارم اردیبهشت
مدت پاسخگویی و انجام فعالیت: ۷۵ دقیقه

علوی

فعالیت‌های استعداد فضایی پایه‌ی چهارم

فعالیت ۱

۵۶- با دقت به تصویر داده شده نگاه کن. از هر شکل چند تا می‌بینید؟



- ← ☆
- ← ♥
- ← ○
- ← ☺

فعالیت ۲

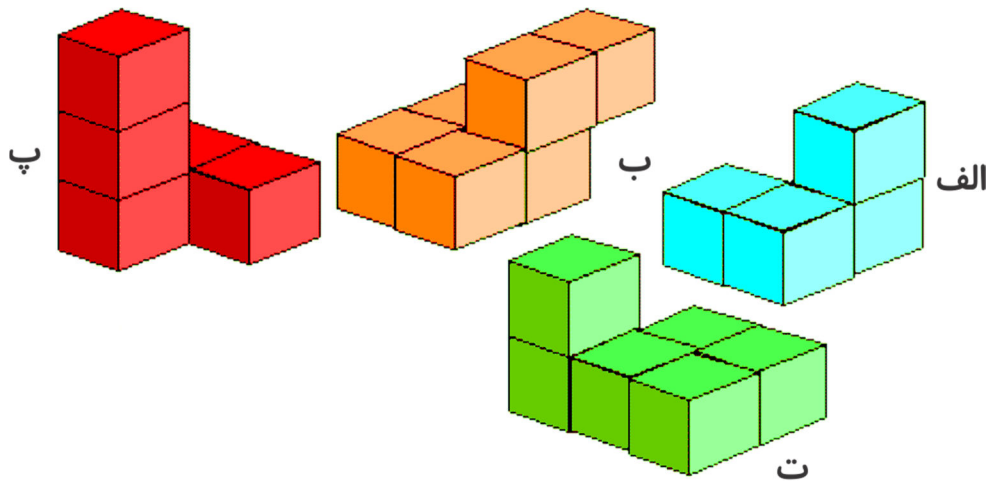
۵۷- هر یک از اشکال داده شده از چند مکعب ساخته شده‌اند؟

..... (ب)

..... (الف)

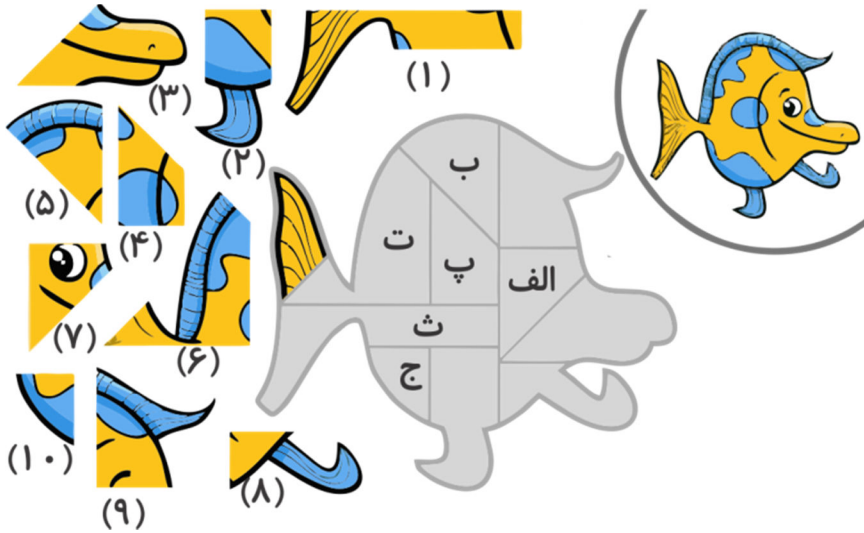
..... (ت)

..... (پ)



درس: استعداد فضایی چهارم دبستان طرح سنجش استعداد: مداد قرمز ۴ - توصیفی
 زمان برگزاری: هفته چهارم اردیبهشت مدت پاسخگویی و انجام فعالیت: ۷۵ دقیقه

۵۸- با دقت به تصویر ماهی و قطعات پازل آن نگاه کنید. در هر یک از خانه‌های مشخص شده کدام قطعه قرار می‌گیرد؟



- (الف)
- (ب)
- (پ)
- (ت)
- (ث)
- (ج)

درس: استعداد فضایی چهارم دبستان طرح سنجش استعداد: مداد قرمز ۴ - توصیفی
زمان برگزاری: هفته چهارم اردیبهشت مدت پاسخگویی و انجام فعالیت: ۷۵ دقیقه

علوی

فعالیت ۴

۵۹- تصویر داده شده نقشه‌ی یک باغ وحش است. با دقت به آن نگاه کنید و به پرسش‌ها پاسخ دهید.



الف) محل نگهداری کدام حیوان در شمال شرقی باغ وحش است؟

ب) چند نوع حیوان در باغ وحش زندگی می‌کنند؟

پ) بعد از ورود به باغ وحش در سمت چپ و راست چه حیواناتی دیده می‌شوند؟

ت) از کدام نوع حیوان تعداد کمتری در باغ وحش وجود دارد؟

درس: استعداد فضایی چهارم دبستان طرح سنجش استعداد: مداد قرمز ۴ - توصیفی

زمان برگزاری: هفته چهارم اردیبهشت مدت پاسخگویی و انجام فعالیت: ۷۵ دقیقه

علوی

فعالیت ۵

۶۰- اگر به هر یک از اشکال سمت راست از بالا نگاه کنید، کدام یک از تصاویر سمت چپ را خواهید دید؟ (یک مورد

اضافی است.)

