

به نام خالق خورشید و ماه




عزیزای دلم به کلاس خوش آمدید

اجتماعی



درس ۲۰ و ۲۱





فصل V از خانه تا مدرسه





مامور شهرداری، برای همه‌ی خانه‌ها پلاک نصب می‌کند.

آیا تا به حال اتفاق افتاده است که در کوچه و خیابان گم شوید؟ راستی اگر روزی گم شوید و ندانید کجا هستید، چه می‌کنید؟ آیا نشانی (آدرس) خانه‌ی خودتان را خوب می‌دانید؟
نشانی خانه‌ی شما چیست؟
هر خانه‌ای یک «نشانی» دارد.
نشانی خانه به ما می‌گوید که آن خانه در کجا قرار دارد. نام خیابان و کوچه و شماره‌ی خانه، نشانی آن خانه است.

فکر کنید و پاسخ دهید



- ۱- هر یک از این تصویرها، چه چیزی را نشان می‌دهند؟
- ۲- دانستن نشانی خانه چه فایده‌هایی دارد؟ چرا همه باید نشانی خانه‌ی خود را خوب بدانند؟





مامور شهرداری، برای همه‌ی خانه‌ها پلاک نصب می‌کند.

آیا تا به حال اتفاق افتاده است که در کوچه و خیابان گم شوید؟ راستی اگر روزی گم شوید و ندانید کجا هستید، چه می‌کنید؟ آیا نشانی (آدرس) خانه‌ی خودتان را خوب می‌دانید؟
نشانی خانه‌ی شما چیست؟
هر خانه‌ای یک «نشانی» دارد.
نشانی خانه به ما می‌گوید که آن خانه در کجا قرار دارد. نام خیابان و کوچه و شماره‌ی خانه، نشانی آن خانه است.

۲- در بعضی جاها که نیاز به ثبت آدرس هست

در هر جایی که هستیم مسیر آدرس خود را

پیدا کنیم. گم نشویم.

فکر کنید و پاسخ دهید



- ۱- هر یک از این تصویرها، چه چیزی را نشان می‌دهند؟
- ۲- دانستن نشانی خانه چه فایده‌هایی دارد؟ چرا همه باید نشانی خانه‌ی خود را خوب بدانند؟



راننده آژانسی که با توجه به نشانی داده شده به دنبال کسی می‌رود



خانواده‌ای که برای دیدن اقوام به دنبال نشانی منزلشان می‌گردند



پستچی که با کمک نشانی برای تحویل نامه آمده

به این تصویر نگاه کنید. خانه‌ی علی در خیابان حافظ، پلاک ۷ و خانه‌ی دوستش صالح، در همان خیابان، پلاک ۱۱ است.



شما هم مانند تصویر بالا، تصویر ساده‌ای از خانه‌ی خودتان و چند خانه‌ی کنار آن بکشید. نام خیابان، کوچه و پلاک خانه‌ها را روی نقاشی خودتان بنویسید.

شمال ↑



اکنون به تصویر نگاه کنید. علی و صالح می‌خواهند از خانه به مدرسه بروند. از چند مسیر می‌توانند بروند؟ با مداد بکشید. حالا بگویید، کدام مسیر کوتاه‌تر است؟ اگر علی از خیابان‌های یاس و شهید جلالی عبور کند و به مدرسه برود، در مسیر خود چه جاها و چه چیزهایی می‌بیند؟ نام ببرید.

فکر کنید و پاسخ دهید



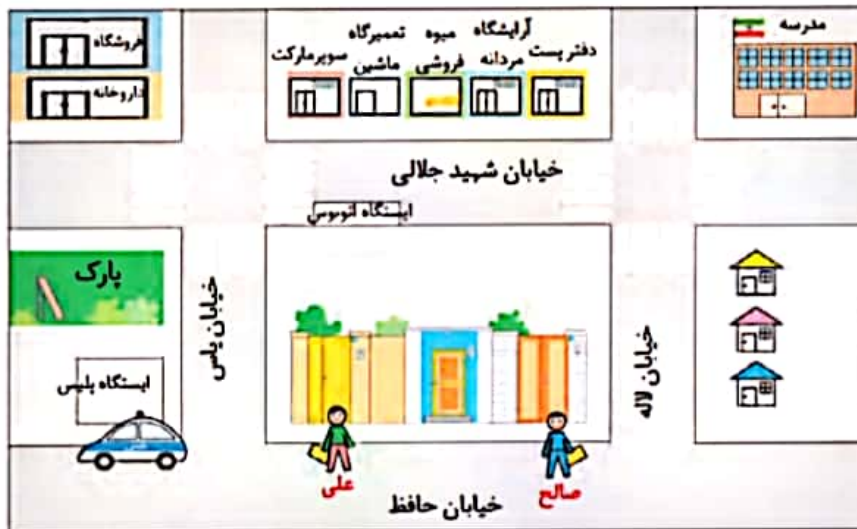
شما وقتی از مدرسه به خانه برمی‌گردید، در مسیر خودتان چه چیزها و جاهایی را مشاهده می‌کنید؟ به ترتیب بگویید.

به این تصویر نگاه کنید. خانه‌ی علی در خیابان حافظ، پلاک ۷ و خانه‌ی دوستش صالح، در همان خیابان، پلاک ۱۱ است.



شما هم مانند تصویر بالا، تصویر ساده‌ای از خانه‌ی خودتان و چند خانه‌ی کنار آن بکشید. نام خیابان، کوچه و پلاک خانه‌ها را روی نقاشی خودتان بنویسید.

شمال ↑



اکنون به تصویر نگاه کنید. علی و صالح می‌خواهند از خانه به مدرسه بروند. از چند مسیر می‌توانند بروند؟ با مداد بکشید. حالا بگویید، کدام مسیر کوتاه‌تر است؟ اگر علی از خیابان‌های یاس و شهید جلالی عبور کند و به مدرسه برود، در مسیر خود چه جاها و چه چیزهایی می‌بیند؟ نام ببرید.

فکر کنید و پاسخ دهید



شما وقتی از مدرسه به خانه برمی‌گردید، در مسیر خودتان چه چیزها و جاهایی را مشاهده می‌کنید؟ به ترتیب بگویید.

بعده دانش آموز



آیا می‌توانید از روی نقشه‌ی صفحه‌ی قبل مسیر این پسر را به دفتر پست نشان دهید؟



راستی، منظور این آقا از سمت شمال و سمت شرق چه بود؟



- هر روز صبح، خورشید از جهت مشرق طلوع می‌کند و در پایان روز در جهت مغرب غروب می‌کند.
 - اگر در یک صبح آفتابی، طوری بایستیم که دست راست ما به طرف مشرق و دست چپ ما به طرف مغرب باشد، روبه‌روی ما شمال و پشت سرمان جنوب خواهد بود.
 شمال، جنوب، مشرق و مغرب جهت‌های اصلی هستند.
 - جهت‌ها نشان می‌دهند که هر مکان در کجا قرار دارد.



سلام پسر! خیابان یاس را به سمت شمال برو. بعد به سمت راست یا شرق بپیچ. سر چهارراه دفتر پست است.

آقا سلام. ببخشید آیا دفتر پست در این نزدیکی هست؟



آیا می‌توانید از روی نقشه‌ی صفحه‌ی قبل مسیر این پسر را به دفتر پست نشان دهید؟



راستی، منظور این آقا از سمت شمال و سمت شرق چه بود؟

شمال: یعنی خیابان یاس را به سمت بالا و یا رو برو حرکت کند و شرق یعنی وقتی به چهارراه رسید به سمت راست خود بپیچید.

شمال



- هر روز صبح، خورشید از جهت مشرق طلوع می‌کند و در پایان روز در جهت مغرب غروب می‌کند.

- اگر در یک صبح آفتابی، طوری بایستیم که دست راست ما به طرف مشرق و دست چپ ما به طرف مغرب باشد، روبه‌روی ما شمال و پشت سرمان جنوب خواهد بود.

شمال، جنوب، مشرق و مغرب جهت‌های اصلی هستند.

- جهت‌ها نشان می‌دهند که هر مکان در کجا قرار

دارد.

دانش‌آموزان یک مدرسه با کمک معلم خود جهت شمال را در مدرسه پیدا کردند و روی زمین علامت زدند. آن‌ها بازی «جهت‌ها را پیدا کن» را در حیاط انجام دادند. معلم: حسن رو به شمال بایست. حالا دو قدم برو به سمت مشرق، حالا سه قدم برو سمت جنوب و....



پاسخ دهید

۱- در یک صبح آفتابی با کمک معلم خود، جهت‌های اصلی را در حیاط مدرسه پیدا کنید. جهت یابی را در حیاط تمرین کنید.

شمال



جنوب

۲- جهت‌ها را بنویسید.

کامیون به کدام سمت می‌رود؟ ()

پسر به کدام سمت نگاه می‌کند؟ ()

کشاورزان رو به کدام جهت ایستاده‌اند؟ ()

گوسفندان به کدام سمت حرکت می‌کنند؟ ()

۳- کاربرگ‌های شماره‌ی (۱۸) «جهت‌های اصلی» را در کلاس کامل کنید.

دانش آموزان یک مدرسه با کمک معلم خود جهت شمال را در مدرسه پیدا کردند و روی زمین علامت زدند.
 آن‌ها بازی «جهت‌ها را پیدا کن» را در حیاط انجام دادند.
 معلم: حسن رو به شمال بایست. حالا دو قدم برو به سمت مشرق، حالا سه قدم برو سمت جنوب و....



پاسخ دهید



۱- در یک صبح آفتابی با کمک معلم خود، جهت‌های اصلی را در حیاط مدرسه پیدا کنید. جهت یابی را در حیاط تمرین کنید.

شمال



مغرب

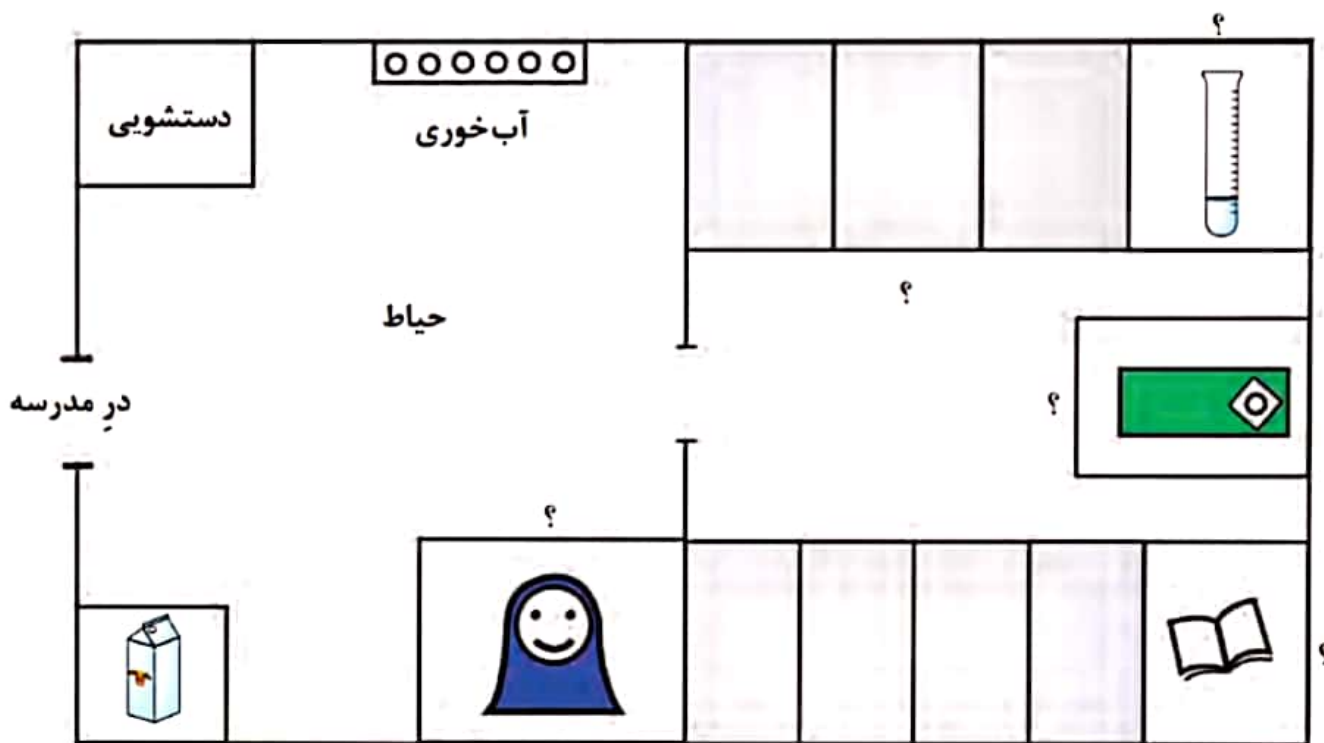
جنوب

۲- جهت‌ها را بنویسید.

کامیون به کدام سمت می‌رود؟ **مغرب**
 پسر به کدام سمت نگاه می‌کند؟ **مشرق**
 کشاورزان رو به کدام جهت ایستاده‌اند؟ **شمال**
 گوسفندان به کدام سمت حرکت می‌کنند؟ **جنوب** مشرق
 ۲- کاربرگی شماره‌ی (۱۸) «جهت‌های اصلی» را در کلاس کامل کنید.

کاربرگهی شماره ۱۷ | نقشه ی مدرسه

این نقشه ی یک مدرسه است. با دقت آن را نگاه کنید و به پرسش ها پاسخ دهید.



راهنمای نقشه

کتابخانه

اتاق مدیر

آزمایشگاه

فروشگاه

نمازخانه

کلاس

۱- کدام علامت، فروشگاه مدرسه را نشان می دهد؟ دور آن خط بکشید.



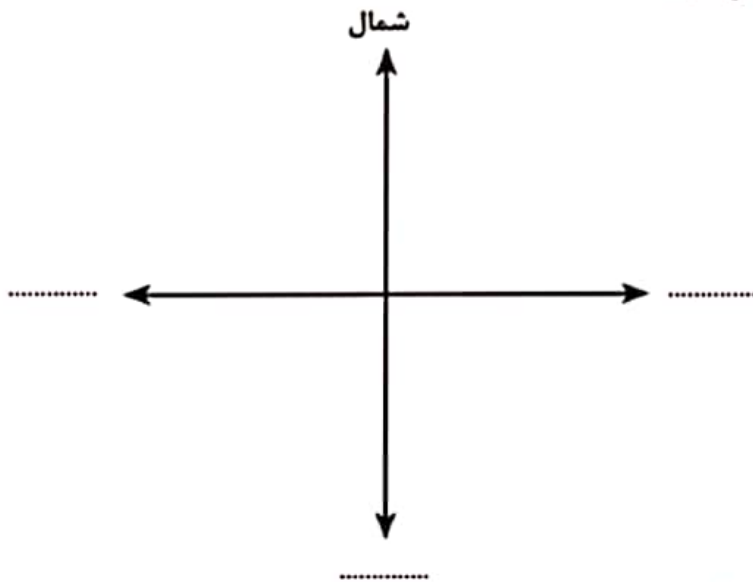
۲- نام مکان هایی را که علامت ؟ دارد، روی نقشه بنویسید.

۳- کلاس های مدرسه را بشمارید. چند کلاس وجود دارد؟

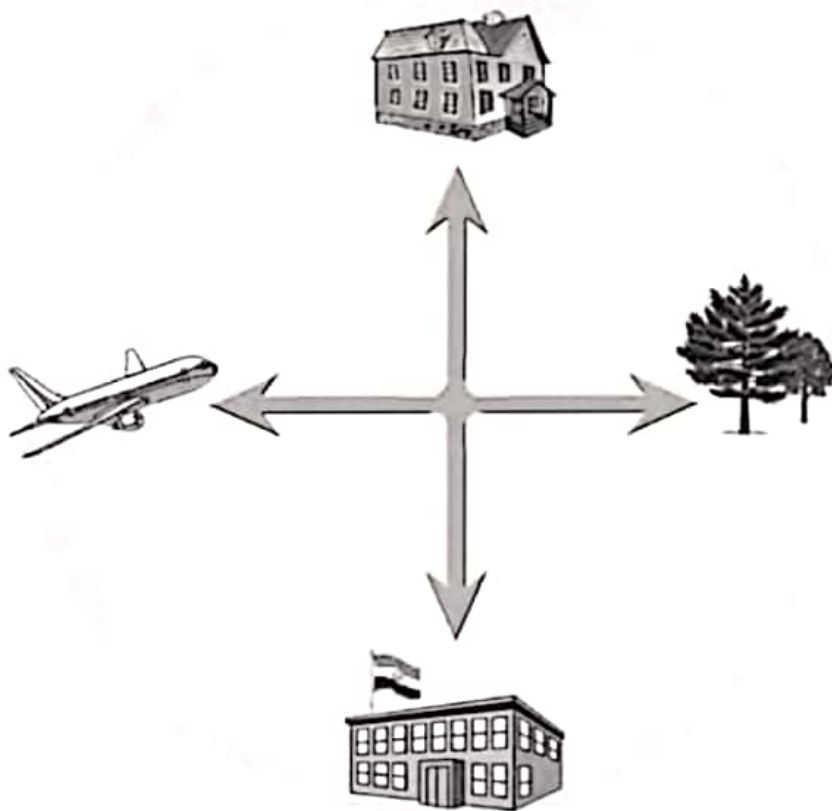
۴- شما کدام مکان را در مدرسه، بیشتر دوست دارید؟ آنجا را آبی کنید.

کاربرگهی شمارهی ۱۸ جهت های اصلی

۱- روی نقطه چین کلمه ی مناسب بنویسید.



۲- جهت هر یک از شکل ها را بنویسید.



- () خانه
- () مدرسه
- () باغ
- () هواپیما