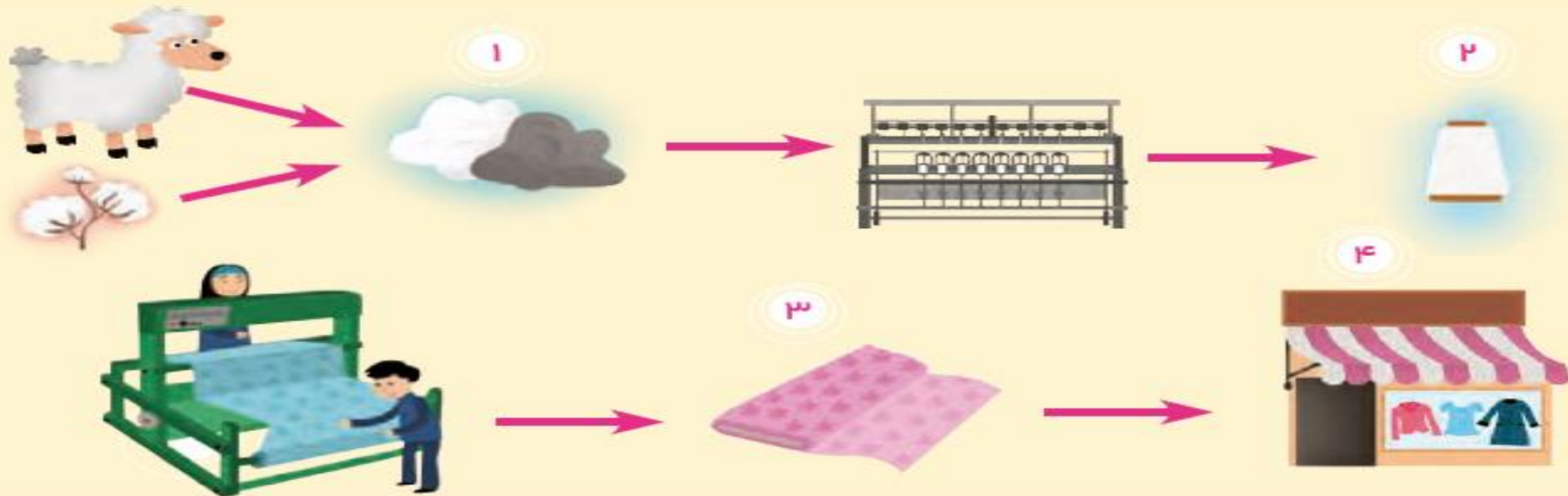


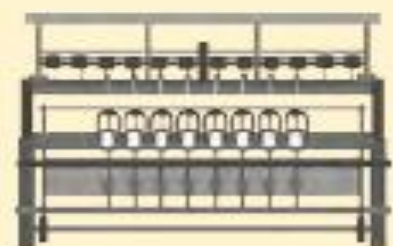
هم فکری کنید و بگویید



- ۱- به بعضی از وسایل و کالاهایی که هر روز از آن‌ها استفاده می‌کنید، فکر کنید. (برای مثال صبحانه‌ای که امروز خوردید، لباس، میز و نیمکت، کتاب و دفتر و ...) هر یک از چه چیزی و چگونه تهیه شده است؟
- ۲- اکنون کتاب را باز کنید به تصویرها نگاه کنید و به ترتیب شماره‌ها بگویید هر تصویر چه چیزی را نشان می‌دهد؟



از پنبه و پشم گوسفندان نخ تهیه می شود.



از نخ پارچه می بافند.



۳



از پارچه لباس تهیه می شود.



۴

لباس ما معمولاً از نخ درست شده است. برخی از نخ‌ها از گیاه پنبه یا پشم **گوسفندان** به دست می‌آید.



بخشی از غذای ما از راه دامپروری به دست می‌آید. برای دامپروری به **آب** و **خاک** و **گیاهان** نیاز داریم.

دامپروری: پرورش و نگهداری حیوانات اهلی



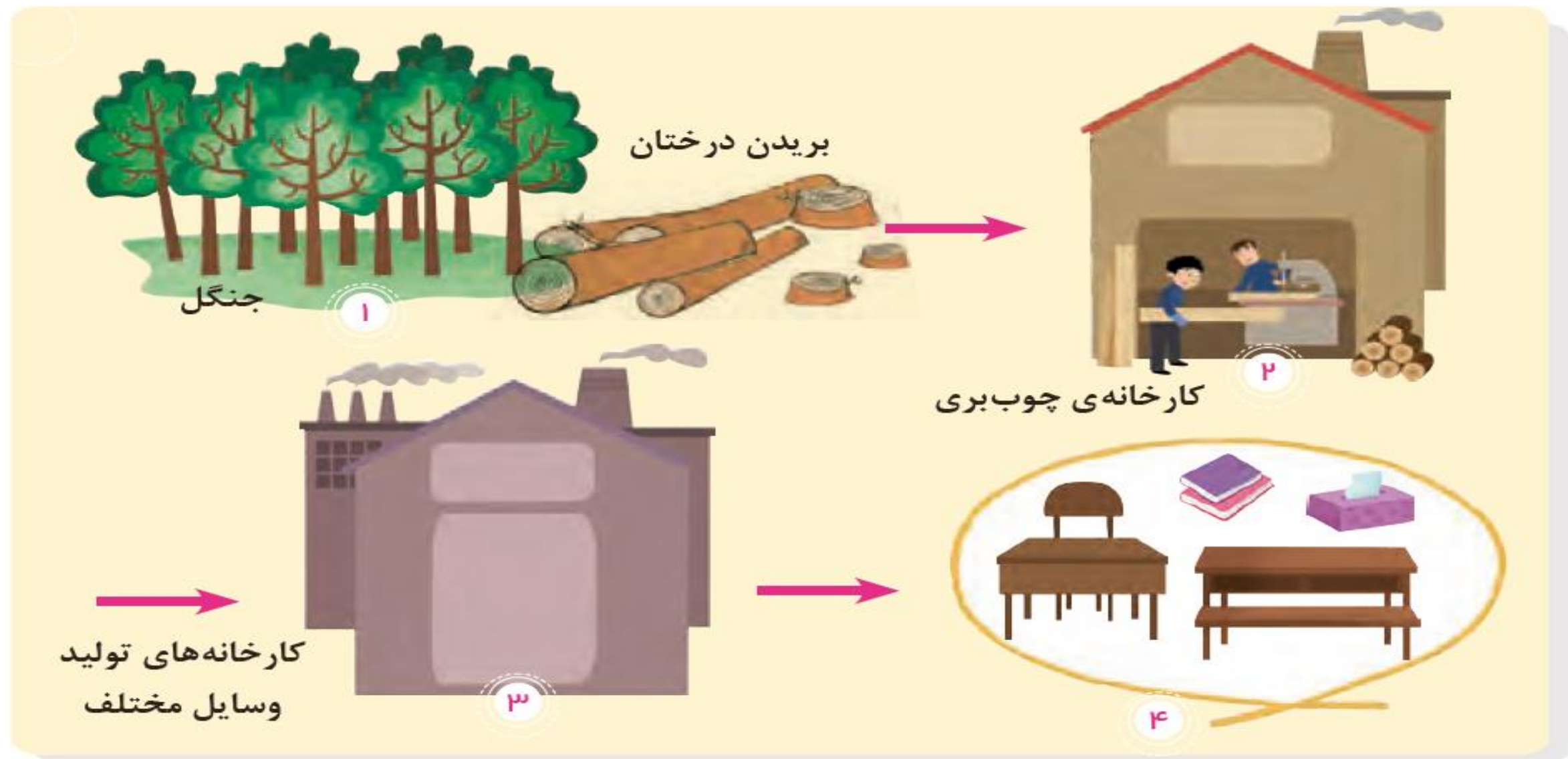




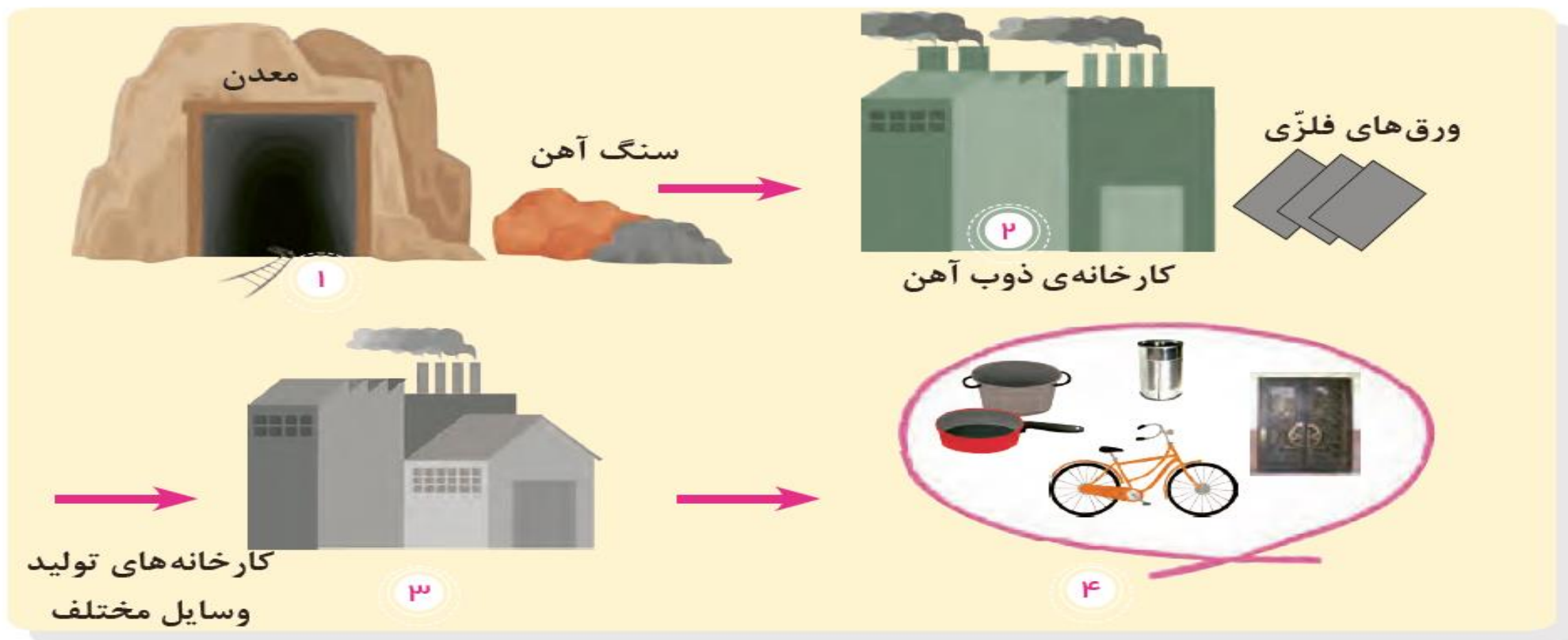
۵

• بخشی از غذای ما از راه کشاورزی به دست می‌آید. برای کشاورزی به آب و خاک و هوا و نور خورشید نیاز داریم.

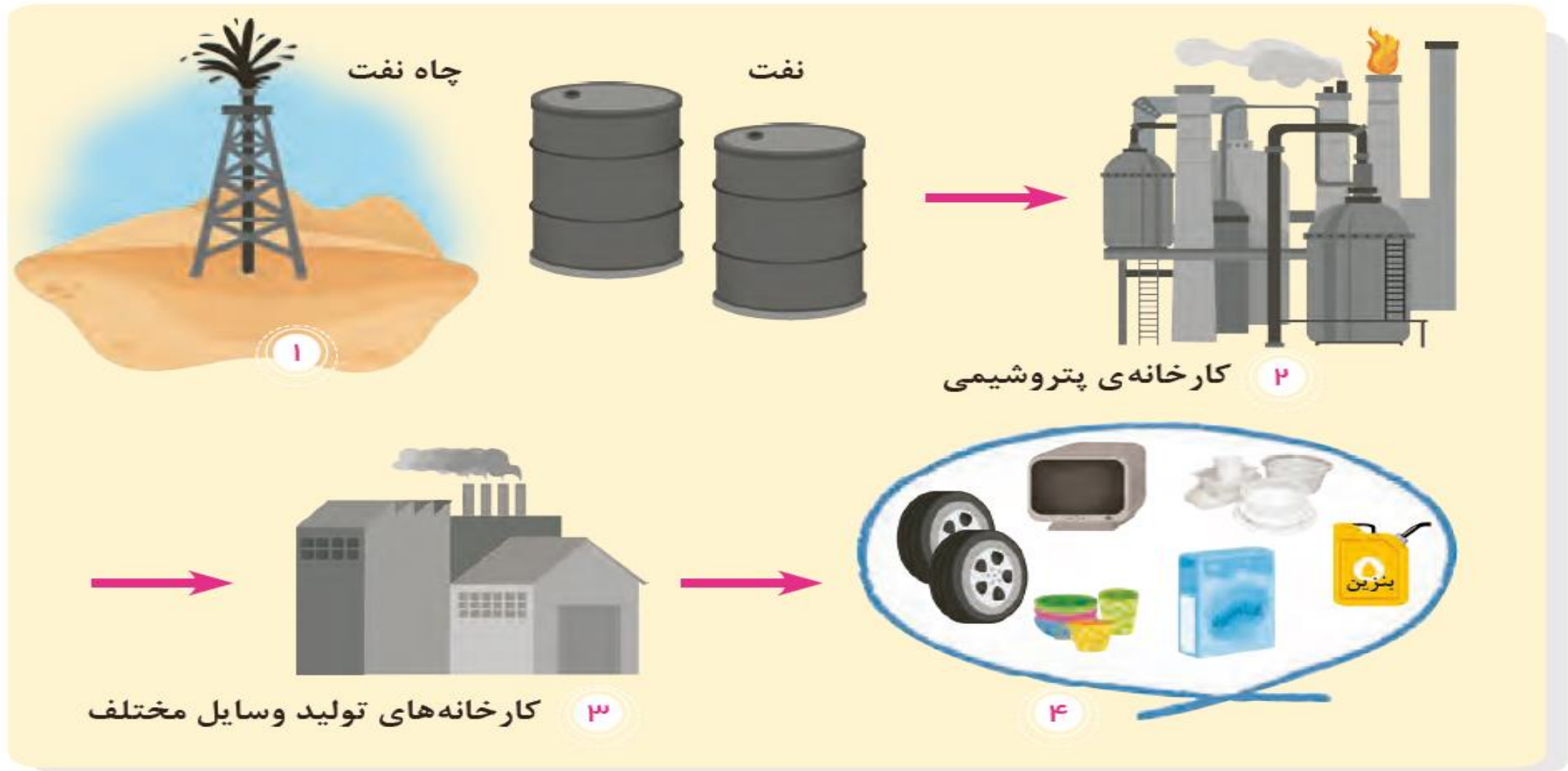




• آیا می‌توانید بگویید کاغذ، دستمال کاغذی، میز و نیمکت و وسایل چوبی از چه چیزی به دست می‌آید؟



• در بعضی از وسایل زندگی ما، فلزاتی چون آهن و مس به کار رفته است. این مواد را از معدن استخراج می‌کنند.  
معادن در زیرزمین یا در دل کوه‌ها قرار دارند.



• نفت، ماده‌ی اولیه‌ی بعضی از وسایل زندگی ما است.

آیا می‌توانید چیزهایی را نام ببرید که از مواد نفتی تهیه شده است؟





به خاک، آب، گیاهان، جانوران، نفت  
و فلزات منابع طبیعی می گویند.  
ما غذا، لباس و وسایل زندگی خود را از  
منابع طبیعی به دست می آوریم.

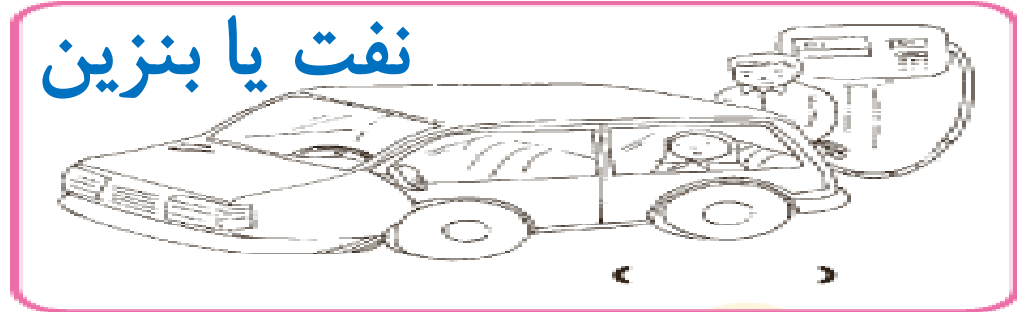



هم فکری کنید و پاسخ دهید



کاربرگه های شماره ی (۱۱) و (۱۲) را در کلاس انجام دهید.

کاربرگهی شمارهی ۱۱ | مریم از چه منابعی استفاده می‌کند؟

مریم از کدام یک از منابع زیر استفاده می‌کند؟ زیر هر تصویر بنویسید.  
(خاک — جانوران — چوب درختان — آب — نفت یا بنزین)



کاربرگهی شمارهی ۱۲ از چه منابعی استفاده می‌کنیم؟

هم‌فکری کنید و اسم پنج چیز را که در خانه یا مدرسه از آن استفاده می‌کنید، بنویسید: سپس بگویید چه منابعی در آن به‌کار رفته است؟

منابع	نام کالا یا وسیله
چوب، زغال (درختان)	۱- مداد
پارچه (پنبه یا مواد نخی)	۲- شلوار
گیاهان	۳- چای
فلز	۴- گوشواره
فلز	۵- کلید
جانوران	۶- لبنیات
نفت	۷- لاستیک چرخ

مثال