

بِسْمِ اللّٰهِ الرَّحْمٰنِ الرَّحِیْمِ

اَللّٰهُمَّ صَلِّ عَلٰی مُحَمَّدٍ وَّ اٰلِ مُحَمَّدٍ وَّ عَجِّلْ فَرَجَهُمْ



## مطالعات اجتماعی

سوم دبستان

درس بیست و یکم : جهت های اصلی

آموزگار: ملیحه عباسی





سلام پسر! خیابان  
یاس را به سمت  
شمال برو. بعد به سمت  
راست یا شرق بپیچ.  
سر چهارراه دفتر  
پست است.

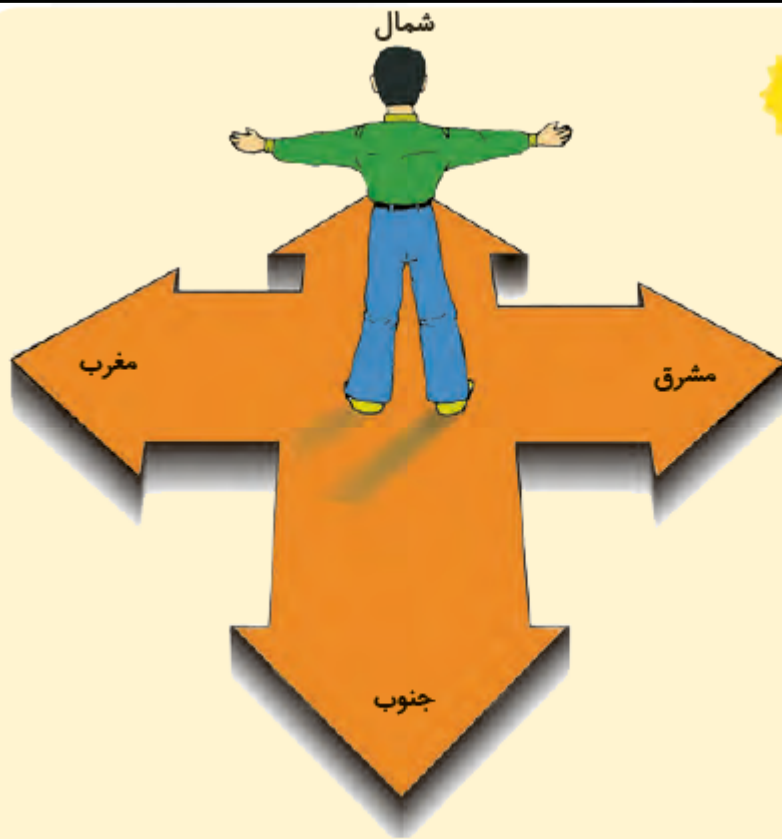
آقا سلام، ببخشید آیا  
دفتر پست در این  
نزدیکی هست؟



آیا می‌توانید از روی نقشه‌ی صفحه‌ی قبل مسیر این پسر را به دفتر پست نشان دهید؟

شمال ↑





- هر روز صبح، خورشید از جهت مشرق طلوع می کند و در پایان روز در جهت مغرب غروب می کند.

- اگر در یک صبح آفتابی، طوری بایستیم که دست راست ما به طرف مشرق و دست چپ ما به طرف مغرب باشد، روبه روی ما شمال و پشت سرمان جنوب خواهد بود.

شمال، جنوب، مشرق و مغرب جهت های اصلی هستند.

- جهت ها نشان می دهند که هر مکان در کجا قرار دارد.



راستی، منظور این آقا از سمت شمال و سمت شرق چه بود؟

دانش آموزان یک مدرسه با کمک معلم خود جهت شمال را در مدرسه پیدا کردند و روی زمین علامت زدند. را در حیاط انجام دادند. « جهت ها را پیدا کن » آن ها بازی معلم: حسن رو به شمال بایست. حالا دو قدم برو به سمت مشرق، حالا سه قدم برو سمت جنوب و....





شمال



غرب

شرق

جنوب

۳- کاربرگه ی شماره ی (۱۸) «جهت های اصلی» را در کلاس کامل کنید.

- ۱- در یک صبح آفتابی با کمک معلّم خود، جهت های اصلی را در حیاط مدرسه پیدا کنید. جهت یابی را در حیاط تمرین کنید.
- ۲- جهت ها را بنویسید.
  - کامیون به کدام سمت می رود؟
  - پسر به کدام سمت نگاه می کند؟
  - کشاورزان رو به کدام جهت ایستاده اند؟
  - گوسفندان به کدام سمت حرکت می کنند؟



شمال



غرب

جنوب

۱- در یک صبح آفتابی با کمک معلّم خود، جهت های اصلی را در حیاط مدرسه پیدا کنید. جهت یابی را در حیاط تمرین کنید.

۲- جهت ها را بنویسید.

کامیون به کدام سمت می رود؟ **غرب**

پسر به کدام سمت نگاه می کند؟ **شرق**

کشاورزان رو به کدام جهت ایستاده اند؟ **شمال**

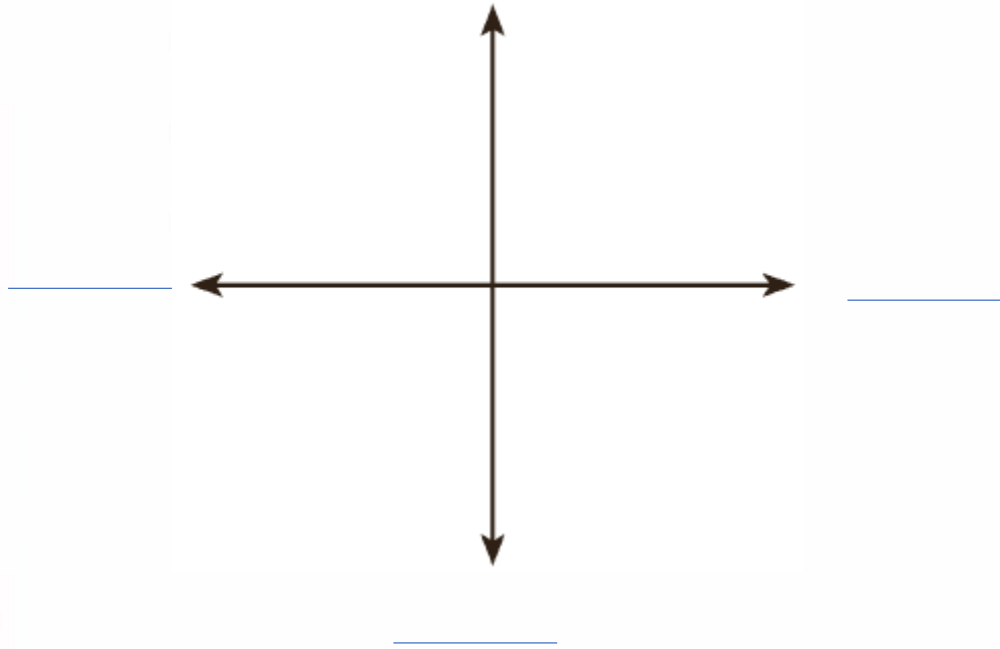
گوسفندان به کدام سمت حرکت می کنند؟ **جنوب**

۳- کاربرگه ی شماره ی (۱۸) «جهت های اصلی» را در کلاس کامل کنید.

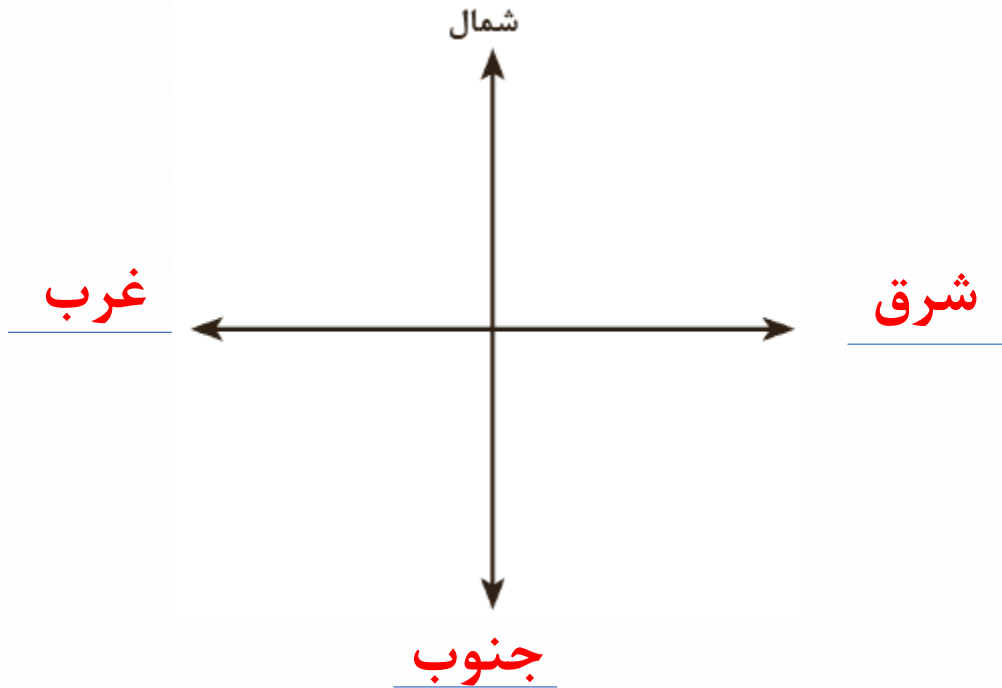
کاربرگه‌ی شماره‌ی ۱۸ جهت‌های اصلی

۱- روی نقطه چین کلمه‌ی مناسب بنویسید.

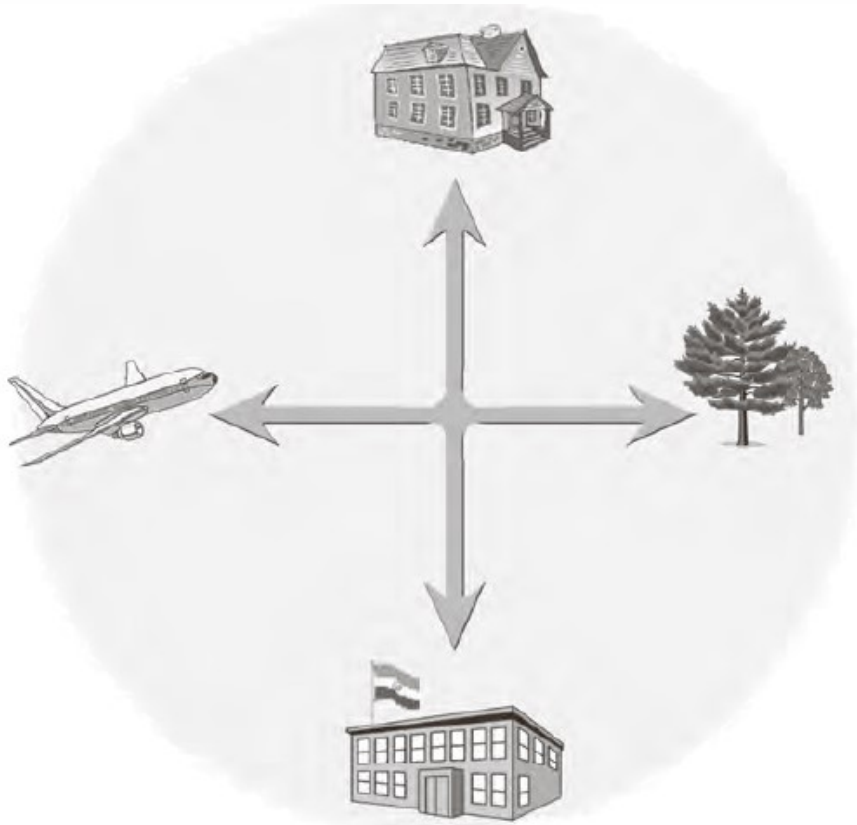
شمال



۱- روی نقطه چین کلمه‌ی مناسب بنویسید.



۲- جهت هر یک از شکل ها را بنویسید.



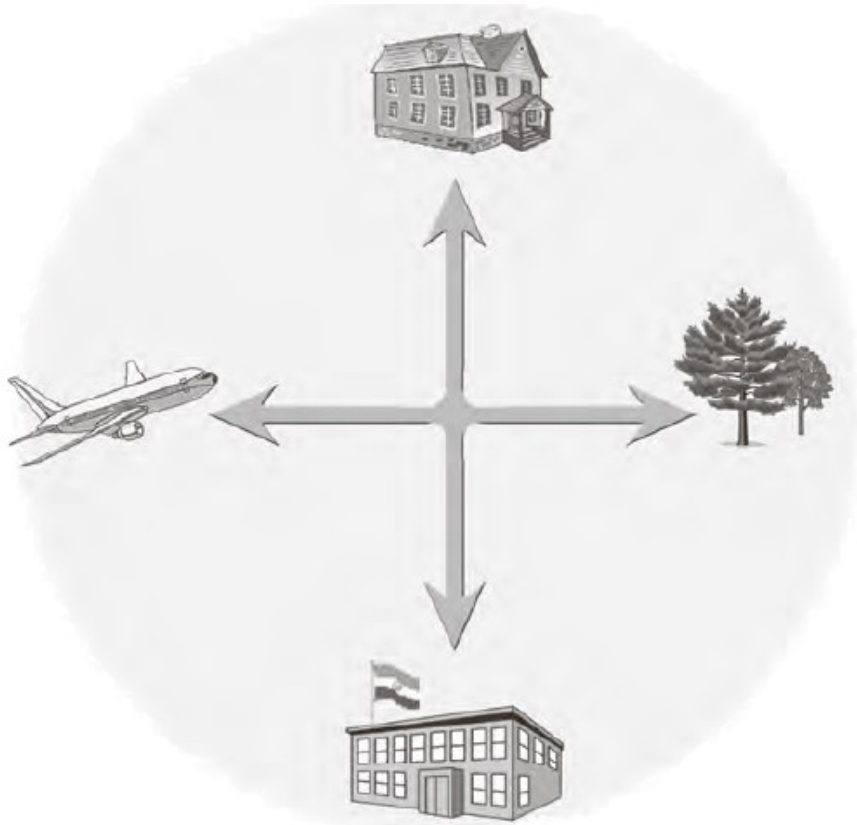
خانه

مدرسه

باغ

هواپیما

۲- جهت هر یک از شکل ها را بنویسید.



خانه شمال

مدرسه جنوب

باغ شرق

هواپیما غرب

بچه ها ، خیلی دوستون دارم

مواظب خودتون باشید