




آیا می‌توانید از روی نقشه‌ی صفحه‌ی قبل مسیر این پسر را به دفتر پست نشان دهید؟



راستی، منظور این آقا از سمت شمال و سمت شرق چه بود؟

مهم



- هر روز صبح، خورشید از جهت مشرق طلوع می‌کند و در پایان روز در جهت مغرب غروب می‌کند.

- اگر در یک صبح آفتابی، طوری بایستیم که دست راست ما به طرف مشرق و دست چپ ما به طرف مغرب باشد، روبه‌روی ما شمال و پشت سرمان جنوب خواهد بود.

شمال، جنوب، مشرق و مغرب جهت‌های اصلی هستند.

- جهت‌ها نشان می‌دهند که هر مکان در کجا قرار

دارد.

دانش‌آموزان یک مدرسه با کمک معلم خود جهت شمال را در مدرسه پیدا کردند و روی زمین علامت زدند. آن‌ها بازی «جهت‌ها را پیدا کن» را در حیاط انجام دادند. معلم: حسن رو به شمال بایست. حالا دو قدم برو به سمت مشرق، حالا سه قدم برو سمت جنوب و....



پاسخ دهید



۱- در یک صبح آفتابی با کمک معلم خود، جهت‌های اصلی را در حیاط مدرسه پیدا کنید. جهت یابی را در حیاط تمرین کنید.

شمال



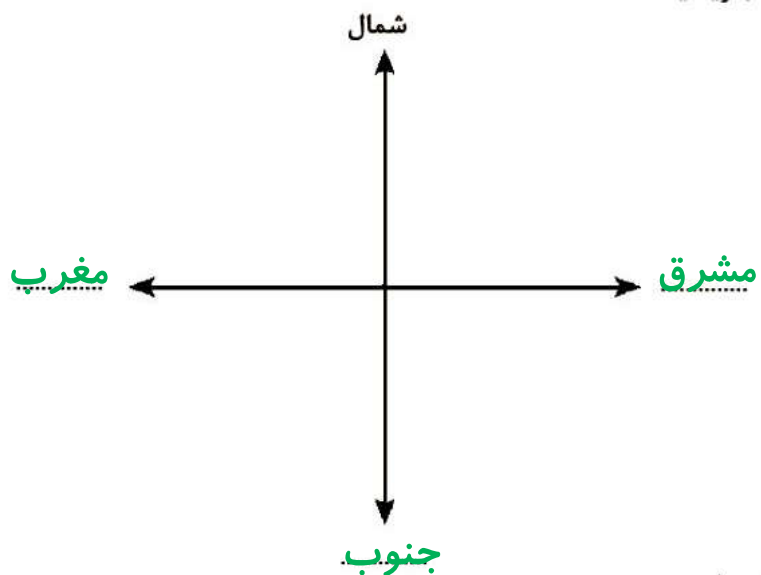
مغرب

جنوب

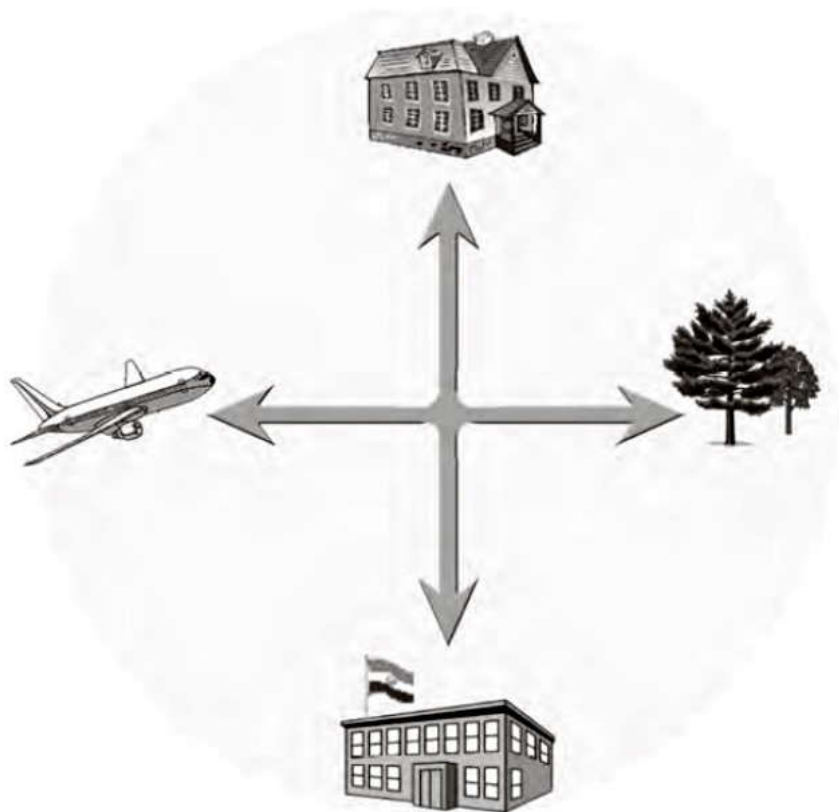
۲- جهت‌ها را بنویسید. شمال، جنوب، مغرب، مشرق
 کامیون به کدام سمت می‌رود؟ () مغرب
 پسر به کدام سمت نگاه می‌کند؟ () مشرق
 کشاورزان رو به کدام جهت ایستاده‌اند؟ () شمال
 گوسفندان به کدام سمت حرکت می‌کنند؟ () جنوب مشرق
 ۲- کاربرگ‌های شماره‌ی (۱۸) «جهت‌های اصلی»
 را در کلاس کامل کنید.

کاربرگی شماره‌ی ۱۸ جهت‌های اصلی

۱- روی نقطه‌چین کلمه‌ی مناسب بنویسید.



۲- جهت هر یک از شکل‌ها را بنویسید.



(شمال) خانه

(جنوب) مدرسه

(مشرق) باغ

(مغرب) هواپیما