



شماره‌ی

۲۴

# ارمغان هفته - سوم دبستان

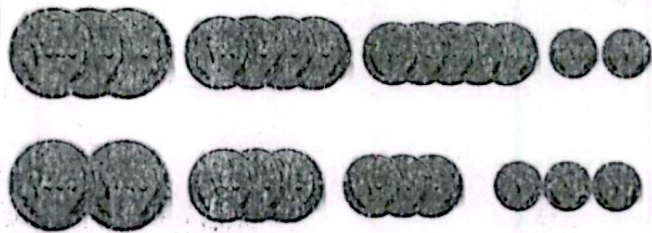
نام و نام خانوادگی: ..... تاریخ: ..... نام آموزگار: .....

ریاضی < فصل ۶: جمع و تفریق تکنیکی  
 علوم < درس ۱۱: بکارید و ببینید  
 فارسی < درس ۱۴ و ۱۵: بوی سیب، حکایت خروس ایرانی قرآن < فصل ۳: انس با قرآن کریم (۱۱)  
 مطالعات اجتماعی < درس ۱۸: خانه‌ها با هم تفاوت دارند.  
 هدیه‌های آسمان < درس ۱۵: همسفر ناشناس

## ریاضی

۱ عبارت جمعی را که شکل زیر نشان می‌دهد در جدول ارزش مکانی بنویسید.

یکان	دهگان	صدگان	هزارگان
۲	۵	۴	۳
۳	۲	۳	۲
۵	۸	۷	۵



۲ حاصل جمع و تفریق‌های زیر را بدست آورید.

$$\begin{array}{r} 4000 \\ + 1387 \\ \hline 5387 \end{array}$$

$$\begin{array}{r} 5491 \\ + 2502 \\ \hline 7993 \end{array}$$

$$\begin{array}{r} 3940 \\ + 1417 \\ \hline 5357 \end{array}$$

$$\begin{array}{r} 6630 \\ + 4050 \\ \hline 10680 \end{array}$$

۳ در جاهای خالی عدد مناسب بگذارید.

ی	د	ص	ه
۱	۷	۴	۴
۵	۱	۱	۳
۶	۸	۵	۵

۴ در یک کارگاه صنایع دستی، یک هنرمند ۴۳۵۱ ظرف را رنگ کرده است. اگر ۲۵۶۰ تای آن‌ها مربوط به ماه گذشته باشند او در این ماه چند ظرف رنگ کرده است؟


$$\begin{array}{r} 4351 \\ - 2560 \\ \hline 1791 \end{array}$$

در این ماه ۱۷۹۱ ظرف رنگ کرده است.

۵ از دریاچه‌ای ۳۱۰۹ ماهی قزل‌آلا و ۲۳۴۵ ماهی کفال و ۹۰۸ ماهی کپور صید شده است. چند ماهی از این دریاچه صید شده است؟

$$\begin{array}{r} 3109 \\ + 2345 \\ + 908 \\ \hline 6362 \end{array}$$

۶۳۶۲ ماهی از این دریاچه صید شده است.



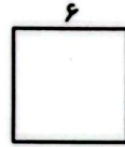



۶) عباس آقا زمینی به شکل مستطیل دارد. او می‌خواهد دور تا دور زمینش را با سیم خاردار ببندد تا کسی نتواند بدون اجازه وارد زمینش شود. اگر طول زمینش ۱۰ متر و عرض آن نصف طولش باشد، او چند متر سیم خاردار باید تهیه کند؟

.....  $10 + 5 = 15$  ..... عرض زمین  $10 \div 2 = 5$  ..... محیط  $(2 \times 10) + (2 \times 5) = 30$  ..... متر  $20 + 10 = 30$  ..... ۱۵


$(2 \times 9) + (2 \times 6)$

۷) عبارت روبه‌رو مربوط به محیط کدام شکل است؟ آن را رنگ بزنید.



علوم

۱) با توجه به ریشه‌ی گیاه، گل و برگ مناسب برای این گیاه را انتخاب کرده و بچسبانید.



۲) جدول زیر را کامل کنید.

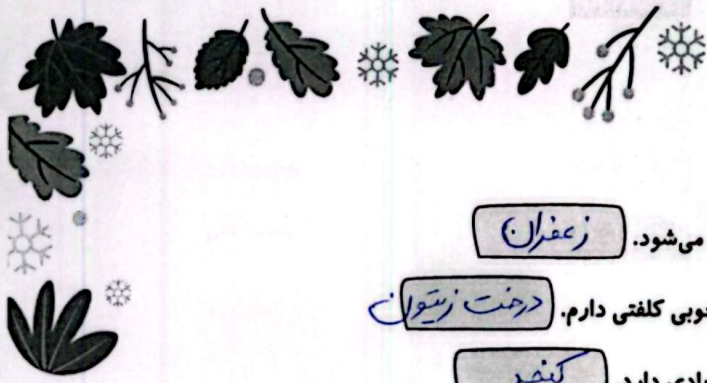
نام گیاه	دانه	ریشه	ساقه	برگ	گل
کدو	دوقسمتی	راست	نازک توپر	پهن	۴ یا ۵ و مضرب‌های آن
لوییا	دوقسمتی	راست	نازک توپر	پهن	۴ یا ۵ و مضرب‌های آن
بادمجان	یک قسمتی	افشان	نازک توخالی	باریک و دراز	۳ یا ۶ و مضرب‌های آن
گندم	یک قسمتی	افشان	نازک توخالی	باریک و دراز	۳ یا ۶ و مضرب‌های آن

۳) تصویر زیر را با دقت نگاه کنید.



- الف) نام گیاه چیست؟ ... درخت سرو ...
- ب) نوع برگ آن چگونه است؟ ... سوزنی شکل ...
- پ) نوع میوه‌ی آن چگونه است؟ ... مخروط ...
- ت) نوع دانه‌ی آن چگونه است؟ ... دانه‌های بالدار ...
- ث) یک گیاه دیگر مانند آن نام ببرید. ... کاج ...





۴ من چیستم؟

زعفران

الف) گیاهی هستم که از پرچم من برای معطر کردن غذا استفاده می‌شود.

درخت زیتون

ب) گیاهی هستم که برگ‌های باریک و درازی دارم ولی ساقه‌ی چوبی کلفتی دارم.

کنجد

پ) گیاهی هستم با دانه‌ی تک قسمتی که روغن من هم طرفدار زیادی دارد.

آفتابگردان

ت) گیاهی هستم با گل زرد بزرگ که دانه‌ی من درون گلم می‌باشد و مصرف خوراکی دارم.

### فارسی

۱ با توجه به متن درس «ایران آباد» کلماتی که نشانه‌های زیر را دارند را بنویسید.

ض	ظ	ظ	ث
مصنوع -	طرف - فاطم - وطن	نظر - عطف - وظیفه	بج - باع -
	مصطفی - طول		

۲ هدف فرماندهی ایرانی از آوردن خروس در حکایت «خروس ایرانی» چه بود؟

تسلط بر ایران ایرانی به خروس ... نشان داد که سرزمانش از قریب غیر قابل تصور و خود را از ...

۳ با توجه به متن «بوی سیب و یاس» به سؤالات زیر پاسخ کوتاه دهید.

الف) پدر بزرگ امید در آزادسازی کدام یک از شهرهای ایران دلاورانه جنگیده بود؟ ... خرمشهر

ب) روز آزادسازی خرمشهر، چه روزی است؟ ... روزی است که دشمن از ما دست بردار ...

پ) تصویر تابلویی که روی میز سر کوچه قرار داشت، چه بود؟ ... تصویر خرمشهر

ت) نام کوچه در داستان «بوی سیب» چه بود؟ ... کوچه مصطفی

ث) نویسنده داستان «بوی سیب و یاس» چه کسی است؟ ... هوشیار ... بابا میرزا


۴ درس چهاردهم را با دقت بخوانید و واژه‌های خواسته شده را پیدا کرده و بنویسید.

الف) دو کلمه‌ی جمع: مناظر ... و ایرانیان

ب) دو کلمه که در آخر «انه» دارند: دلاوران ... و ساجدان

پ) دو کلمه که در آخر «گی» دارند: همسگی ... و زندگی

ت) سه کلمه که ابتدای آن‌ها «هم» دارد: همسگی ... و همساری ... و همسری



## مطالعات اجتماعی

۱) درستی  و نادرستی  هر عبارت را مشخص کنید.

- الف) زهرا هنگام خروج از کلاس چند تکه زباله‌ای که دوستش جا گذاشته بود را در سطل زباله انداخت.
- ب) علی به دوستش که مریض شده بود و چند روز به مدرسه نیامده بود برای یادگیری بهتر دروس کمک نکرد.
- پ) بچه‌های کلاس به کمک یکدیگر کلاس را تمیز نگه می‌دارند.

۲) الف) کدام یک از بخش‌های مدرسه‌ی خود را دوست دارید؟

بوفه و حیاط

ب) آیا دوست دارید در آینده شغلی در مدرسه داشته باشید؟ به چه دلیل؟

بله. من معلم می‌شوم تا اموزار منمیدی. تربیت کنم و در آینده منمید که کشورم بحسب باسوم

۳) جاهای خالی را با دقت کامل کنید.

الف) مدرسه خانگی ..... دوم ..... ما است.

ب) مدرسه جای خواندن قرآن و نماز و آرماس ..... است.

پ) کارکنان مدرسه با هم ..... می‌کنند تا دانش‌آموزان درس بخوانند.

## هدیه‌های آسمان - قرآن

۱) به چه دلیل امام سجاد (ع) به زمین‌العابدین، معروف شده است؟





چون بسیار عبادت می‌کرد و زینت عبادت گشته تا آن بود.






۲) آرامگاه امام سجاد (ع) در کدام شهر و کدام قبرستان قرار دارد؟

در شهر مدینه در قبرستان بقیع

۳) یک دعا از امام سجاد (ع) که در صحیفه‌ی سجادیه آمده است را بنویسید.

خدایا! کلمه کن تا به مردم خدمت کنم.

	◀ درک مطلب
	◀ واژه‌شناسی
	◀ مکان‌های مختلف و قوانین مدرسه
	◀ آشنایی با امام چهارم

	◀ جمع و تفریق تکنیکی
	◀ مسائل جمع و تفریق
	◀ محیط مستطیل
	◀ دسته‌بندی گیاهان از نظر ریشه، دانه، برگ، ساقه و گل
	◀ گیاهان مخروط‌دار

شخص‌ها

چلی خوب  
خوب  
قابل قبول  
نیاز به تلاش بیشتر