









ارزشیابی فصل ۹ اجتماعی علوی

خانم قوامی نژاد و آئینه



الف) درستی یا نادرستی جملات زیر را مشخص کنید.

نادرست	درست
	
	
	
	

۱. عمق دریای خزر در نواحی شمالی به کمتر از ۱۰۰۰ متر می‌رسد.

۲. صید ماهی از اوایل بهار تا اوایل پاییز ممنوع است.

۳. ماهی زبیده و ماهی کپور از ماهی‌های خلیج فارس و دریای عمان به شمار می‌رود.

۴. دریا شغل‌های گوناگون را برای مردم به خصوص ساحل‌نشینان فراهم آورده است.

۱. نادرست: به کمتر از ۱۰ متر می‌رسد

۲. درست

۳. نادرست: ماهی کپور از ماهی‌های دریای خزر می‌باشد.

۴. درست



ب) در جای خالی واژه‌های مناسب بنویسید.

۱. رود مُند به دریای می‌ریزد.
 ۲. ساحل دریای عمان از بندرعباس تا بندر امتداد دارد.
 ۳. دریای خزر در نقشه‌های خارجی نامیده می‌شود.
 ۴. دریای عمان به اقیانوس می‌ریزد.
 ۵. دریای خزر محل زندگی انواع ماهیان و است.
۱. خلیج فارس
 ۲. گواتر
 ۳. کاسپین
 ۴. هند
 ۵. پرندگان مهاجر



پ) پاسخ صحیح را با علامت (*) مشخص کنید.

۱. کدام یک از رودهای زیر به دریای خزر می‌ریزد؟

(۱) سرپاز

(۲) جراحی

(۳) سفیدرود

(۴) هندیجان

۲. نفت و گاز خلیج فارس از کدام ناحیه استخراج می‌شود؟

(۱) کم عمق نزدیک ساحل

(۲) کم عمق دور از ساحل

(۳) عمیق دور از ساحل

(۴) اواسط دریا

۳. میگو در چه فصل و در کدام دریا صید می‌شود؟

(۱) بهار - خلیج فارس

(۲) بهار - دریای عمان

(۳) تابستان - خلیج فارس

(۴) پاییز - خلیج فارس و عمان

۴. کارخانه‌های کشتی‌سازی در کدام بندرها وجود دارند؟

(۱) بندرعباس

(۲) چابهار و بوشهر

(۳) نکا

(۴) همه‌ی موارد



ت) موارد مرتب در ستون (۱) را به ستون (۲) وصل کنید.

(۲)		(۱)
تنگه		۱. بریدگی‌های عمیق در کناره‌های خلیج فارس
اقیانوس		۲. پیشروی آب دریاها
خور		۳. آبراه‌های بین دو دریا
خلیج		۴. پهنه‌های بسیار بزرگ آبی کره‌ی زمین



۱. ماهی سفید و قزل آلا از ماهی‌های کدام دریا به شمار می‌رود؟ ۱. دریای خزر

۲. عمق دریای عمان تا نزدیکی‌های چابهار به حدود چند متر می‌رسد؟

۱. دریای خزر

۲. ۳۰۰۰ متر



۳. دریای خزر به دلیل صید ماهیان خاویاری به چه معروف شده است؟

۴. همه ساله عده‌ی زیادی از مردم برای گردشگری در فصل زمستان بیشتر به کدام دریاها می‌روند؟

۳. مروارید سیاه

۴. خلیج فارس و دریای عمان



ج) به سوالات زیر پاسخ کامل بدهید.

۱. جدول زیر را کامل کنید.

نام ماهی	کیلکا	قباد	تاس ماهی	سنگسر
نام دریا			خلیج فارس	

نام ماهی	کیلکا	قباد	تاس ماهی	شوریده	سنگسر
نام دریا	دریای خزر	خلیج فارس و دریای عمان	دریای خزر	خلیج فارس	خلیج فارس



۲. چهار مورد از اهمیت دریاها را بنویسید.

۲. وجود نفت و گاز - گردشگری - انواع ماهی‌ها - منابع غذایی - بازرگانی



۳. همسایگانی که از طریق دریاهاى جنوب با ایران همسایه هستند را نام ببرید.

۳. عمان - امارات - قطر - عربستان - کویت - بحرین



اجتماعی ششم دبستان

علوی

فصل نهم



۴. خلیج فارس و دریای خزر را از نظر عمق و شوری با هم مقایسه کنید.

۴. عمق دریای خزر از ۱۰ متر تا ۱۰۰۰ متر می‌باشد و میزان شوری آن از دریای خلیج فارس و عمان کمتر است. عمق خلیج فارس به‌طور متوسط به ۳۰ متر می‌رسد. (شوری آب خلیج فارس بیشتر و عمق دریای خزر بیشتر است.)



۵. نام پنج جزیره دریا‌های جنوب را بنویسید و زیر بزرگ‌ترین جزیره خط بکشید.

۵. جزیره کیش، قشم، خارک، هنگام، هرمز و ...



اجتماعی ششم دبستان

علوی

فصل نهم

