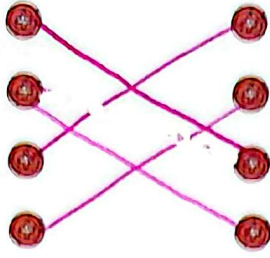


موارد مرتبط را به یکدیگر وصل کنید.

میرزا کوچک خان جنگلی  
مصدق  
امیر کبیر  
رئیس علی دلواری



صدر اعظم یا نخست وزیر ناصر الدین شاه  
از دلیران تنگستان و مبارزه با قوای انگلیس در جنوب کشور  
مردی مبارز در شمال کشور و جنگ با قوای روسی  
نماینده‌ی مجلس و تلاش برای ملی شدن صنعت نفت

درستی  و نادرستی  هر عبارت را مشخص کنید.

الف: در تقویم روز ۲۰ اسفند، روز ملی شدن صنعت نفت است.

ب: با شروع جنگ جهانی اول، انگلیسی‌ها جنوب ایران را اشغال کرده بودند.

جاهای خالی را با کلمات مناسب کامل کنید.

الف: زادگاه میرزا کوچک خان جنگلی در ... است.

ب: امیر کبیر با توطئه دشمنان در ... به شهادت رسید.

پاسخ صحیح را با علامت  مشخص کنید.

الف: این جمله از کیست؟ «نه به انگلیس امتیاز می‌دهم و نه به روسیه»

(۴) رئیس علی دلواری

(۳) دکتر محمد مصدق

(۲) میرزا کوچک

(۱) امیر کبیر

ب: رئیس علی دلواری در ... با انگلیسی‌ها جنگید.

(۴) روستای احمد آباد

(۳) بوشهر

(۲) کاشان

(۱) گیلان

کدام دو کشور در زمان امیر کبیر در امور کشور دخالت می‌کردند؟

انگلیس و روسیه

محمدرضا شاه پهلوی با توطئه کدام کشورها دکتر مصدق را تبعید کرد؟

بریتانیا و انگلیس

سه مورد از اقدامات مهم امیر کبیر را بنویسید.

تأسیس مدرسه دارالفنون

تأسیس کارخانه

استشاد روزنامه

نام چند شخصیت بزرگ مبارز با استعمار را در ایران در فاصله‌ی تأسیس سلسله‌ی قاجاریه تا پیروزی انقلاب اسلامی بنویسید. (با توجه به خط زمان)

امیر کبیر  
میرزا یوسف خان جنجلی  
علیه دلواری  
رکاب‌السلام کانی  
امان‌محمدی

خودارزیابی

خیلی خوب    خوب    قابل قبول    نیاز به تلاش

Two rows of four purple circles for self-assessment.

مبارزین ایرانی بر علیه استعمار را می‌شناسم.  
با فعالیت‌های انجام شده توسط مبارزین بر علیه استعمار آشنا هستم.

فعالیت عملکردی

با کمک بزرگ‌ترها و جستجو در اینترنت تحقیق کنید و بگویید که در حال حاضر کدام کشورهای جهان قصد دخالت در امور ایران و استفاده از منابع کشور را دارند و جمهوری اسلامی مانع این امر شده است؟ توضیحات خود را در کلاس ارائه دهید.

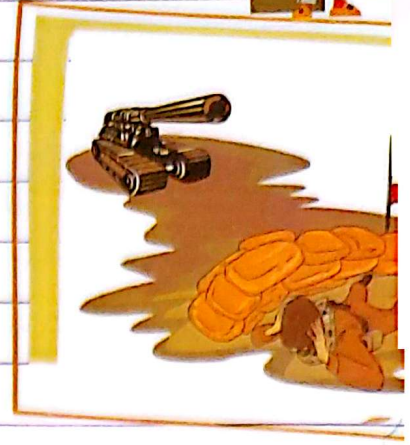
Two horizontal dotted lines for writing answers.



«خرمشهر در چنگال دشمن»

آموختنی‌ها

- ۱ آشنایی با علت‌های حمله‌ی نظامی عراق به ایران
- ۲ چگونگی اشغال خرمشهر



بخوان و پیاموز



جنگ تحمیلی بین ایران و عراق در ۳۱ شهریور سال ۱۳۵۹ اتفاق افتاد. پس از حمله‌های هوایی عراق به بعضی از شهرهای کشور، هجوم زمینی ارتش این کشور به غرب و جنوب غربی ایران آغاز شد و این حملات سر آغاز جنگ تحمیلی بود که نزدیک به هشت سال طول کشید.



علت‌های حمله‌ی نظامی عراق به ایران

- ۱ مردم ایران پس از پیروزی انقلاب اسلامی به رهبری امام خمینی (ره) که یک شخصیت ضداستعماری بود، در بهمن ۱۳۵۷، حکومت جمهوری اسلامی تشکیل دادند و این امر باعث قطع نفوذ دشمنان از منافع ایران شده بود.
- ۲ مردم ایران بعد از انقلاب اسلامی سرنوشت خود را به دست گرفتند و منافع کشورهای استعمارگر ایران را قطع کردند.
- ۳ از آنجایی که ایران پس از پیروزی انقلاب همواره یار و یاور کشورهای مظلوم از جمله فلسطین در جهان بود؛ این امر خوشایند دشمنان نبود.
- ۴ اوایل انقلاب، سپاه و ارتش در حال مجهز شدن و نیرو گرفتن بودند و هنوز آمادگی کافی برای جنگ نداشتند. صدام از این اوضاع سوء استفاده و حمله را آغاز کرد؛ حمله‌ی نظامی از خرمشهر آغاز شد.

قطع منافع کشورهای استعمارگر

همراهی با کشورهای مظلوم

نداشتن آمادگی کافی برای جنگ


حمله عراق به ایران

علتها


معلول (نتیجه)

### دلایل اهمیت خرمشهر

- ۱ از شهرهای زیبای جنوب غربی ایران است.
- ۲ در محل برخورد رود کارون و اروندرود قرار دارد.
- ۳ نزدیکترین شهر به آبادان که بزرگترین پالایشگاه نفت ایران را دارد، می باشد.



از آرزوهای صدام تصرف خوزستان و مالک شدن خرمشهر و اروندرود بود، ولی با مقاومت مردم خرمشهر روبه‌رو شد. جنگ در خرمشهر ۳۴ روز طول کشید. در آن زمان فرماندهی سپاه پاسداران خرمشهر، محمد جهان آرا بود که شجاعانه با دست خالی با کمک نیروهای مردمی در برابر ارتش مجهز به توپ و تانک عراقی‌ها ایستادگی کرد و به شهادت رسید. از آنجایی که عراقی‌ها در این مدت مردم زیادی را به شهادت رساندند و شهر زیبای خرمشهر را به خاک و خون کشاندند، این شهر «خونین شهر» نامیده شد.



یکی از مقاومترین شهرهای ایران در هشت سال دفاع مقدس که بیش‌تر حملات هوایی را تحمل کرد، «دزفول» بود. مردم دزفول آن چنان مقاومت از خود نشان دادند که این شهر به‌عنوان نمونه‌ی مقاومت و پایداری ایران انتخاب شد. به‌همین دلیل در تقویم ما روز چهارم خرداد، «روز مقاومت و پایداری مردم دزفول» نامیده شد.

پیام امام خمینی (ره) در آغاز جنگ تحمیلی به مردم کشورمان: «من از ملت بزرگ ایران خواهانم که در هر مسئله‌ای که پیش می‌آید قوی باشند، قدرتمند باشند، متکی به خدای تبارک و تعالی باشند و از هیچ چیز باک نداشته باشند. ما از آن قدرت‌های بزرگ نمی‌ترسیم. این صدام است که قدرتی ندارد، عراق که چیزی نیست.»

## تمرین

۱ موارد مرتبط را به یکدیگر وصل کنید. (یک مورد اضافی است).

- |        |                          |                          |   |
|--------|--------------------------|--------------------------|---|
| دزفول  | <input type="checkbox"/> | <input type="checkbox"/> | شهری مرکزی که بارها مورد حمله هوایی عراق قرار گرفت. |
| تبریز  | <input type="checkbox"/> | <input type="checkbox"/> | یکی از مقاومترین شهرهای ایران در زمان جنگ تحمیلی.   |
| خرمشهر | <input type="checkbox"/> | <input type="checkbox"/> | از شهرهایی که مورد حمله زمینی عراق قرار نگرفت.      |
| اصفهان | <input type="checkbox"/> |                          |   |

۲ درستی و نادرستی هر عبارت را مشخص کنید.

- الف: اهواز نزدیکترین شهر به خرمشهر است.
- ب: امام خمینی (ره) یک شخصیت ضداستعماری بود.
- پ: اولین حمله نظامی عراق در تاریخ ۳۱ شهریور سال ۵۷ بود.

۳ جاهای خالی را با کلمات مناسب کامل کنید.

- الف: مردم خرمشهر ..... روز با کمترین سلاح و مهمات در برابر دشمن مقاومت کردند.
- ب: رئیس جمهور ستمگر عراق یعنی ..... حمله‌ی نظامی را به ایران آغاز کرد.
- پ: جنگ ایران و عراق ..... طول کشید.

۴ با انتخاب گزینه‌ی مناسب به پرسش‌های داده شده پاسخ دهید.

الف: روز مقاومت و پایداری مردم دزفول در تقویم چه تاریخی انتخاب شده است؟

- (۱) ۳۰ شهریور (۲) ۴ خرداد (۳) ۱۲ بهمن (۴) ۲۲ بهمن

ب: کدام شهر در محل برخورد رود کارون و اروند رود قرار دارد؟

- (۱) اهواز (۲) آبادان (۳) خرمشهر (۴) دزفول

پ: فرماندهی سپاه خرمشهر در زمان جنگ ایران و عراق که بود؟

- (۱) شهید جهان‌آرا (۲) شهید همت (۳) شهید چمران (۴) شهید بابایی

نام استان‌های مشخص شده‌ی هم‌مرز با عراقی را روی نقشه بنویسید.

۵



دلایل اهمیت خوزستان را بنویسید.

۶

.....

.....

.....

دلایل حمله‌ی نظامی عراق به ایران را به صورت خلاصه بنویسید. (سه مورد)

۷

.....

.....

.....

پیام امام خمینی (ره) در آغاز جنگ تحمیلی به مردم ایران را بنویسید.

۸

.....

.....

.....