

# کاربرگ شماره ۱۴ مطالعات ششم ابتدایی با جواب

جواب کاربرگ مطالعات ششم / کاربرگه ۱۴: خط زمان

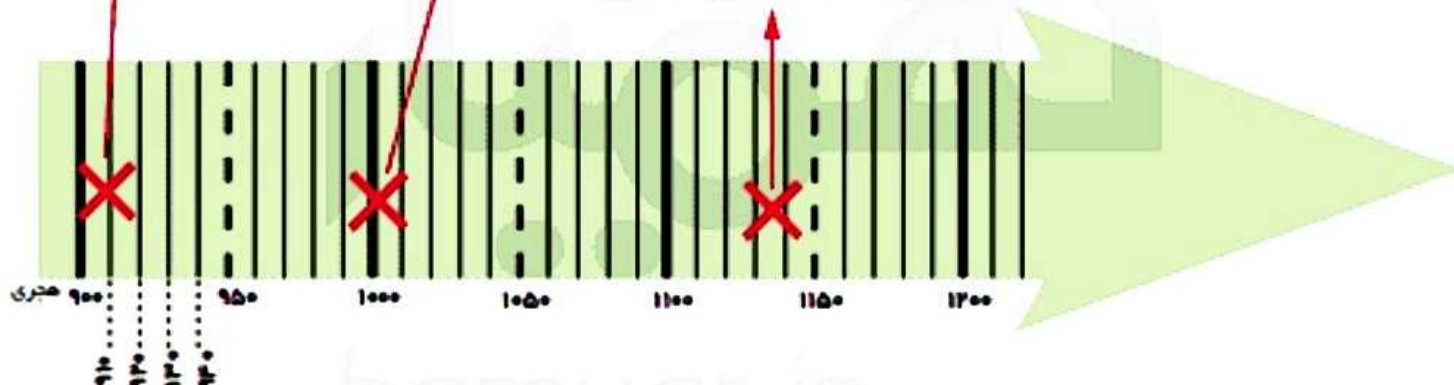
صفحه ۸۰

این موارد را به طور تقریبی با علامت **x** روی خط زمان نشان دهید.

تأسیس سلسله‌ی صفویه

انتخاب اصفهان به پایتختی صفویه

سقوط سلسله‌ی صفویه



## کاربرگ شماره ۱۳ مطالعات ششم ابتدایی با جواب

جواب کاربرگ مطالعات ششم / کاربرگه ۱۳:: علت و معلول

صفحه ۷۰

درس را بخوانید و علت های پیشرفتهای مسلمانان را بهطور خلاصه بنویسید.

**علت:**

پنهان

تعالیم دین اسلام و دعوت به تفکر به کسب علم

تجارت و بازرگانی و انتقال علوم و فنون علاوه بر انتقال

کالا

نیاز های جدید مسلمانان مانند تعیین جهت قبله و طلوع

و غروب خورشید

ترجمه علوم و فنون سرزمین های دیگر و استفاده از آن ها

حمایت فرمان روایان از دانشمندان و هنرمندان

مسلمانان در کاغذسازی پیشرفت کرده بودند ... وجود

صد ها مغازه کتاب فروشی

**معلول:**

پیشرفت های علمی مسلمانان و شکوفایی علوم و فنون در

دوره ی اسلامی.

جواب کاربرگ مطالعات ششم / کاربرگه ۱۸:: مقررات مکان

های گذران اوقات فراغت؛ صفحه ۹۴

به طور گروهی هم فکری کنید و چند مورد از مقررات استفاده از این مکان ها را بنویسید.

### ① کتابخانه ها و کانون های فرهنگی-هنری

- سکوت را رعایت کنیم
- در این مکان ها اشغال نریزیم
- کتاب ها و وسایل را بدون اجازه بر نداریم
- کتاب ها را در موعد مقرر برگردانیم

### ② سالن های تئاتر و نمایش و سینما

- در ابتدا برای تهیه بلیط نوبت بگیریم و صف را رعایت کنیم
- با نظم و به صورت مرتب به سالن وارد شده و بر روی صندلی بنشینیم
- از خوردن چیزهایی که باعث کثیفی در سالن می شود جلوگیری کنیم و آشغال نریزیم
- سکوت را به احترام دیگران رعایت کنیم
- از اموال سالن محافظت کنیم.

### ③ موزه ها و گنجینه ها

- برای تهیه بلیط در صف بمانیم و نظم را رعایت کنیم
- به اموال و اشیای موزه به هیچ وجه دست نزنیم
- از دویدن و هرج و مرج پرهیز کنیم
- در صورت ممنوعیت عکس و فیلم، اینکار را انجام ندهیم.

## کاربرگ شماره ۱۶ مطالعات ششم ابتدایی با جواب

جواب کاربرگ مطالعات ششم / کاربرگه ۱۶ :: سفرنامه صفحه

۸۲

این دو صفحه از دو سفرنامه برداشته شده است. آنها را بخوانید و مقایسه کنید. نکات مشترک و متفاوت آنها را بنویسید.

ب	الف
	
<p>... زیبایی شهر اصفهان به خصوص در کاخ‌های باشکوه بی‌شمار، ساختمان‌های مجلل و فرح‌افزا، کاروان‌سراهای وسیع، بازارهای بسیار زیبا، جدول‌های آب و نهرها و خیابان‌هایی است که در دو طرف آراسته به درخت چنار است در صورتی که کوی و برزن‌های دیگر آن به‌طور کلی بسیار تنگ و ناهموار است.</p> <p>این شهر دارای هشت دروازه است که هیچ‌گاه بسته نمی‌شود. اگرچه درها پوشیده از آهن است، همیشه خوب مواظبت و نگهداری می‌شود.</p> <p>صفحه ۶۱</p>	<p>... کوچه‌های اصفهان همه تنگ و کج و معوج و اغلب تاریک است. تمام شهر اصفهان، گذشته از میدان بزرگ و چند بازار سرپوشیده، حالت یک‌ده را دارد. به شهر شبیه نیست.</p> <p>چند سال است که شروع کرده‌اند به ساختن بناهای خوب ...</p> <p>دیوار اطراف اصفهان از خاک است و چند برج بسیار بد دارد.</p> <p>صفحه ۵۸۲</p>

**تفاوت‌ها:** حالت ده دارد و شبیه شهر نیست دیوارها از خاک است و چند برج بد دارد

ساختمان‌های مجلل و کاخ‌های باشکوه، درب‌های آهنی

**نقاط مشترک:** کوچه‌های اصفهان تنگ و باریک است.



آیا می‌توانید بگویید کدام یک از این دو مسافر قبل از دیگری به ایران آمده است؟ الف یا ب؟

جواب: الف - تاورنیه

## کاربرگ شماره ۱۶ مطالعات ششم ابتدایی با جواب

جواب کاربرگ مطالعات ششم / کاربرگه ۱۶: سفرنامه صفحه

۸۲

این دو صفحه از دو سفرنامه برداشته شده است. آنها را بخوانید و مقایسه کنید. نکات مشترک و متفاوت آنها را بنویسید.

**تفاوت ها:** حالت ده دارد و شبیه شهر نیست دیوار ها از

خاک است و چند برج بد دارد

ساختمان های مجلل و کاخ های باشکوه ، درب های آهنی

**نقاط مشترک:** کوچه های اصفهان تنگ و باریک است.

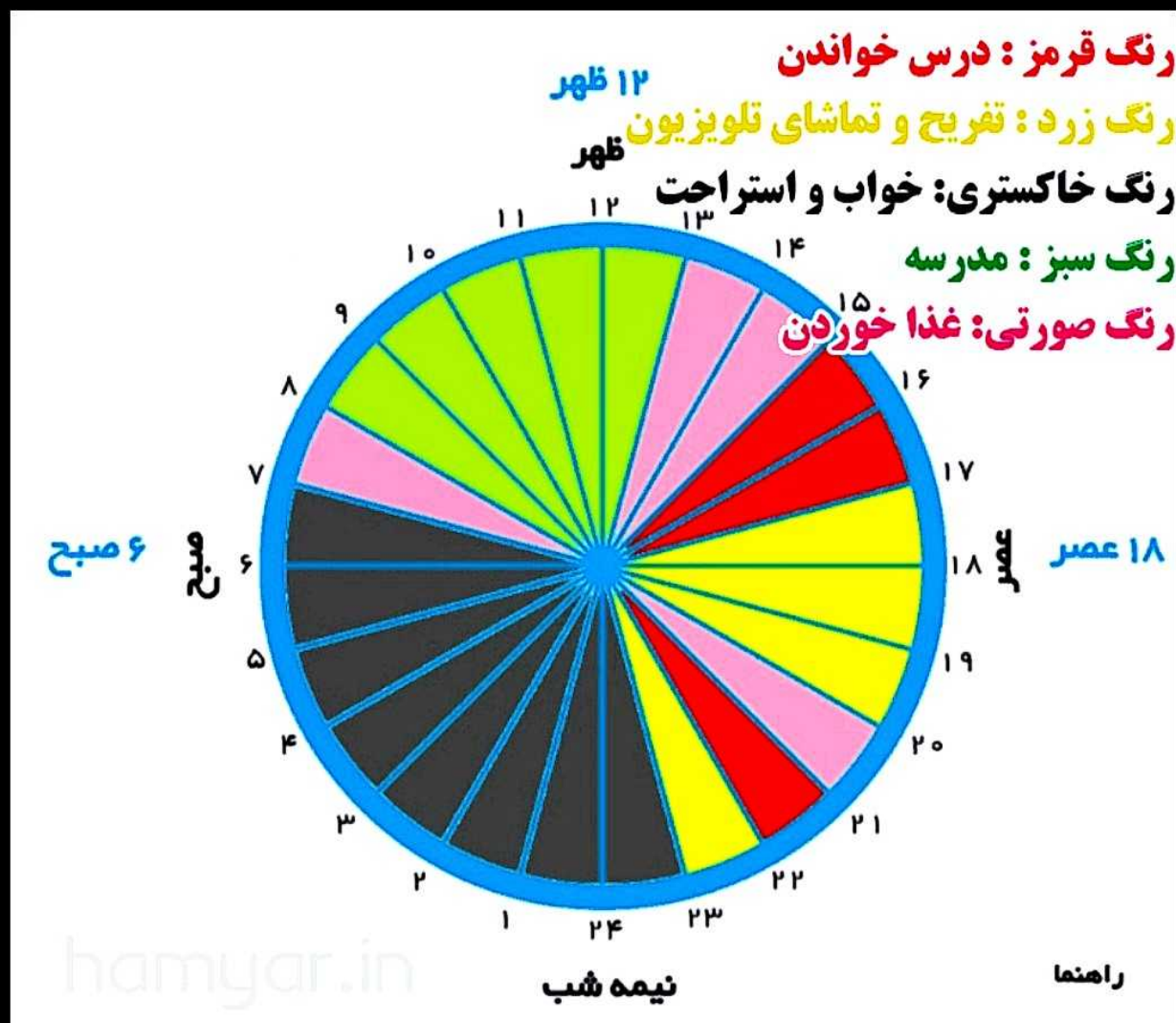
# کاربرگ شماره ۱۷ مطالعات ششم ابتدایی با جواب

جواب کاربرگ مطالعات ششم / کاربرگه ۱۷: نمودار زندگی

روزانه ؛ صفحه ۹۳

نمودار فعالیت های یک شبانه روز خودتان را ترسیم و رنگ آمیزی کنید.

ابتدا دایره را به ۲۴ قسمت تقسیم کنید و از ساعت ۱ تا ۲۴ را کنار آن بنویسید. سپس با توجه به رنگ هایی که به کار می برید، راهنمای مناسب برای نمودار طراحی کنید.





۱- کاخ چهلستون یکی از کاخ های صفویان در اصفهان است. سقف این تالار بر بیست ستون استوار شده است و جلوی آن یک استخر بزرگ وجود دارد. در تالار اصلی آن نقاشی های زیبایی به چشم می خورد. چرا با اینکه این کاخ بیست ستون دارد به آن چهلستون می گویند؟

**جواب:** کاخ چهلستون در دوره شاه عباس اول ساخته شده است. چهلستون کلا ۲۰ ستون دارد اما چون در مقابلش یک استخر بزرگ وجود دارد و تصویر ۲۰ ستون درون آب می افتد جمع آنها به ۴۰ میرسد و به آن چهلستون می گویند.

پنهان

۲- نقاشان روی گنبد مساجد و مینیاتورهای داخل

کاخها، بیشتر چه نقش هایی کشیده اند؟

**جواب:** نقاشان بیشتر به نقاشی های طبیعی مثل گل و گلبرگ و درخت و ... پرداخته اند.

۳- شهر اصفهان پل های مشهوری دارد که در زمان صفویه ساخته شده است. پرس و جو کنید و نام آنها را بنویسید. اگر توانستید عکس یکی از پل ها را هم در این محل بچسبانید.

**جواب:** پل مارنان ، پل چوبی، پل شهرستان، پل خواجه، پل

سی و سه پل

## کاربرگ شماره ۲۷ مطالعات ششم ابتدایی با جواب

جواب کاربرگ مطالعات ششم / کاربرگه ۲۷ :: خط زمان

دفاع مقدس صفحه ۱۵۱

۱- حمله ی نظامی رژیم بعثی عراق به ایران در چه سالی صورت گرفت؟

**جواب:** ۳۱ شهریور سال ۱۳۵۹

۲- آزادسازی خرمشهر، (عملیات بیت المقدس) در چه سالی صورت گرفت؟

**جواب:** ۳ خرداد ۱۳۶۱

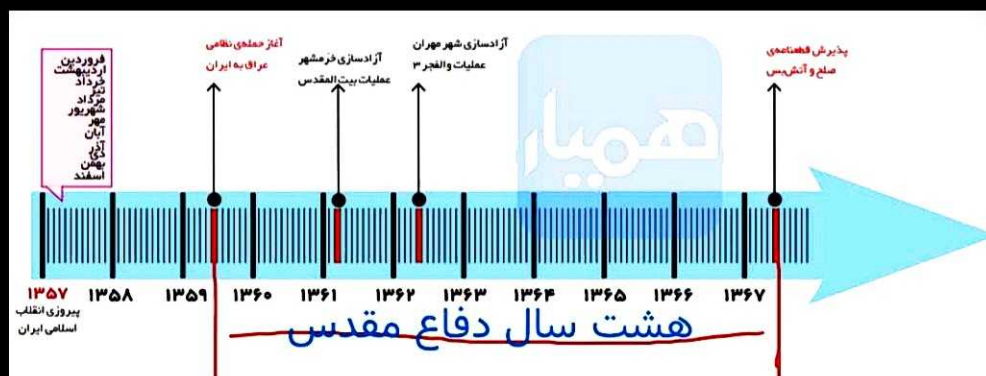
۳- عملیات والفجر ۳ در چه سالی اتفاق افتاد؟ در این عملیات کدام شهر آزاد شد؟

**جواب:** مرداد ۱۳۶۲ - شهر مهران آزاد شد.

۴ - دفاع مقدس چند سال طول کشید؟ روی خط زمان بشمارید.

**جواب:** ۸ سال طول کشید از ۳۱ شهریور ۱۳۵۹ تا ۲۹ مرداد

۱۳۶۷



## کاربرگ شماره ۲۶ مطالعات ششم ابتدایی با جواب

جواب کاربرگ مطالعات ششم / کاربرگه ۲۶ :: قلمرو ایران و

قراردادهای استعماری صفحه ۱۴۰

این نقشه قلمرو ایران کنونی و سرزمین هایی را که به موجب قرارداد های استعماری از ایران جدا شدند، نشان میدهد. روی نقشه جهت های اصلی و فرعی را بنویسید.

سپس بگویید:



۱- در شرق و شمال شرق کدام مناطق قبلاً جزء قلمرو ایران بوده اند؟ چند مورد نام ببرید.

بخارا ، مرو ، کابل ، هرات ، سمرقند ، قندهار.

۲- در شمال غرب ایران ، کدام مناطق قبلاً جزء قلمرو ایران بوده اند؟ چند نمونه نام ببرید.

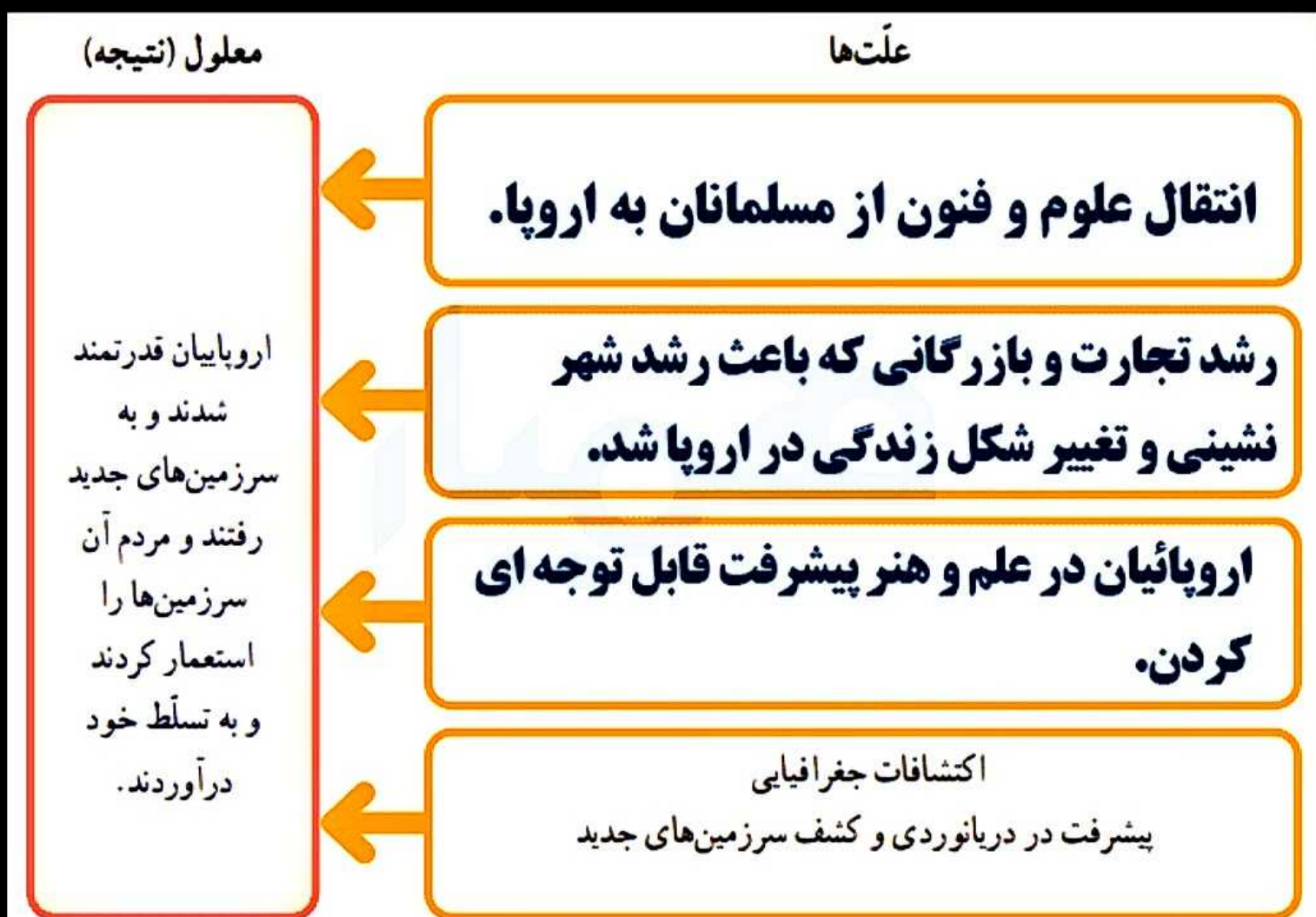
ایروان ، گرجستان ، داغستان ، اران

# کاربرگ شماره ۲۵ مطالعات ششم ابتدایی با جواب

جواب کاربرگ مطالعات ششم / کاربرگه ۲۵ :: علت های

پیدایش استعمار گری صفحه ۱۳۹

جدول را کامل کنید.



جواب کاربرگ مطالعات ششم / کاربرگه ۲۴ :: کشور ایران را

معرفی کنید صفحه ۱۳۰

نامه ای به یک دوست فرضی در کشور همسایه بنویسید  
و کشور خودتان ایران را معرفی کنید.

**جواب:**

میدانی که سرزمین‌های ما با یکدیگر همسایه‌اند و لازم است همسایگان، بیشتر همدیگر را بشناسند. حال من می‌خواهم کشورم ایران را بیشتر به تو معرفی کنم. سرزمین ما دارای تنوع آب و هوایی است. خلیج فارس که با عمق کم در جنوب ایران قرار گرفته، برای غواصی و صید ماهی جای بسیار زیبایی است.

که رنگ آن به آبی نیلگون می‌زند و در هنگام غروب، زیبایی‌اش صدچندان می‌شود. از شهر اصفهان برایت بگویم که به خاطر آثار زیبای تاریخی و بزرگی‌اش به نصف جهان معروف است و از جنگل‌های شمال کشورم بگویم که توصیف نشدنی است.

از جاده‌ی اسلام به خلخال که وقتی از آن عبور می‌کنی گویی در بهشت خداوندی قرار گرفته‌ای. از آب‌های گرم سرزمینم که به صورت جوشان از دل سهند و سبلان بیرون می‌زند. تاریخ کشور من به هزاران سال قبل برمی‌گردد و روزگاری یک امپراتوری مصوب می‌شد. مردم کشور من یکتاپرست بوده‌اند. و با ظهور دین اسلام مسلمان شده‌اند. آسمان علم و دانش کشورم ستارگان زیادی چون خیام، دکتر حسابی، ابوریحان، ابن سینا و جابرین حیان دارد که هر کام از آن‌ها چراغ راه علم و دانش بوده‌اند. اگر یک‌بار به کشورم سفر کنی، مطمئن باش پیشیمان نمی‌شوی و دوست داری دوباره سفر کنی. در ضمن، مردم کشورم خیلی مهمان‌نواز هستند. من منتظر شما می‌مانم

**جوابی دیگر:**

سلام! امیدوارم حال تو خوب باشه. من از ایران می‌نویسم، کشوری باستانی و زیبا در غرب آسیا.

ایران، سرزمینی با تمدن کهن و تاریخ غنی. از بناهای تاریخی مثل تخت جمشید و مسجد امام اصفهان گرفته تا طبیعت متنوعش، از کوه‌های البرز تا جنگل‌های شمال و بیابان‌های مرکزی، همه چیز اینجا دیدنی.

مردم ایران مهمان‌نواز و صمیمی هستن و به فرهنگ و هنر اهمیت زیادی میدن. غذاهای ایرانی هم که بی‌نظیره!

اگه یه روز به ایران سفر کردی، مطمئنم عاشقش میشی.

با بهترین آرزوها،

# کاربرگ شماره ۲۳ مطالعات ششم ابتدایی با جواب

جواب کاربرگ مطالعات ششم / کاربرگه ۲۳ :: همسایگان ما

صفحه ۱۲۹



۱- روی نقشه، خطوط مرزی ایران را با کشورهای همسایه پرنگ کنید و نام رودهای مرزی را بنویسید.

**جواب:** بخشی که به صورت نقطه چین است را پرنگ کنید.

۲- نام کشورهای همسایه را که با علامت ؟ مشخص شده است، بنویسید.

۳- دریاها را آبی و سایر کشورها را به دلخواه رنگ کنید.

## کاربرگ شماره ۲۲ مطالعات ششم ابتدایی با جواب

جواب کاربرگ مطالعات ششم / کاربرگه ۲۲ :: بندرها صفحه

۱۱۸

الف- نام بندر هایی را که روی نقشه نوشته نشده است، بنویسید.



ب- در بندرها چه فعالیت هایی صورت میگیرد؟ سه مورد بنویسید.

**جواب:** ۱- صیادی (ماهی گیری) ۲- انجام فعالیت های مسافبری و حمل و نقل با کشتی گردشگری ۳- انتقال نفت ۴- ورود و خروج کالاهای صادراتی و وارداتی

۱- روی نقشه، نام خلیج فارس و دریای عمان را بنویسید.

۲- نام تنگه ی هرمز را بنویسید.

۳- نام کشورهای اطراف خلیج فارس و دریای خزر را که با علامت ؟ مشخص شده اند، بنویسید.



۴- با استفاده از مطالب متن درس، ویژگی های خلیج فارس و دریای عمان را در جدول بنویسید و آنها را با هم مقایسه کنید. (شباهت ها و تفاوت ها)

پنهان

خلیج فارس	دریای عمان
شوری آب آن از دریای عمان بیشتر است.	شوری آب آن از خلیج فارس کمتر است.
عمق آن از دریای عمان کم تر است.	عمق آن از خلیج فارس بیشتر است.
خلیج فارس دارای تعداد زیادی جزیره است	دریای عمان فاقد جزیره است
آب و هوای خلیج فارس گرم و مرطوب است	آب و هوای دریای عمان گرم و خشک است.

۵- جای خالی را با کلمات مناسب پر کنید.

دریا تنگه خلیج دریاچه

۱ ... دریاچه... گودال های آبی وسیع در سطح زمین است که به اقیانوس راه ندارد.

۲ - به پیشروی آب دریاها در داخل خشکی ها ... خلیج... میگویند.

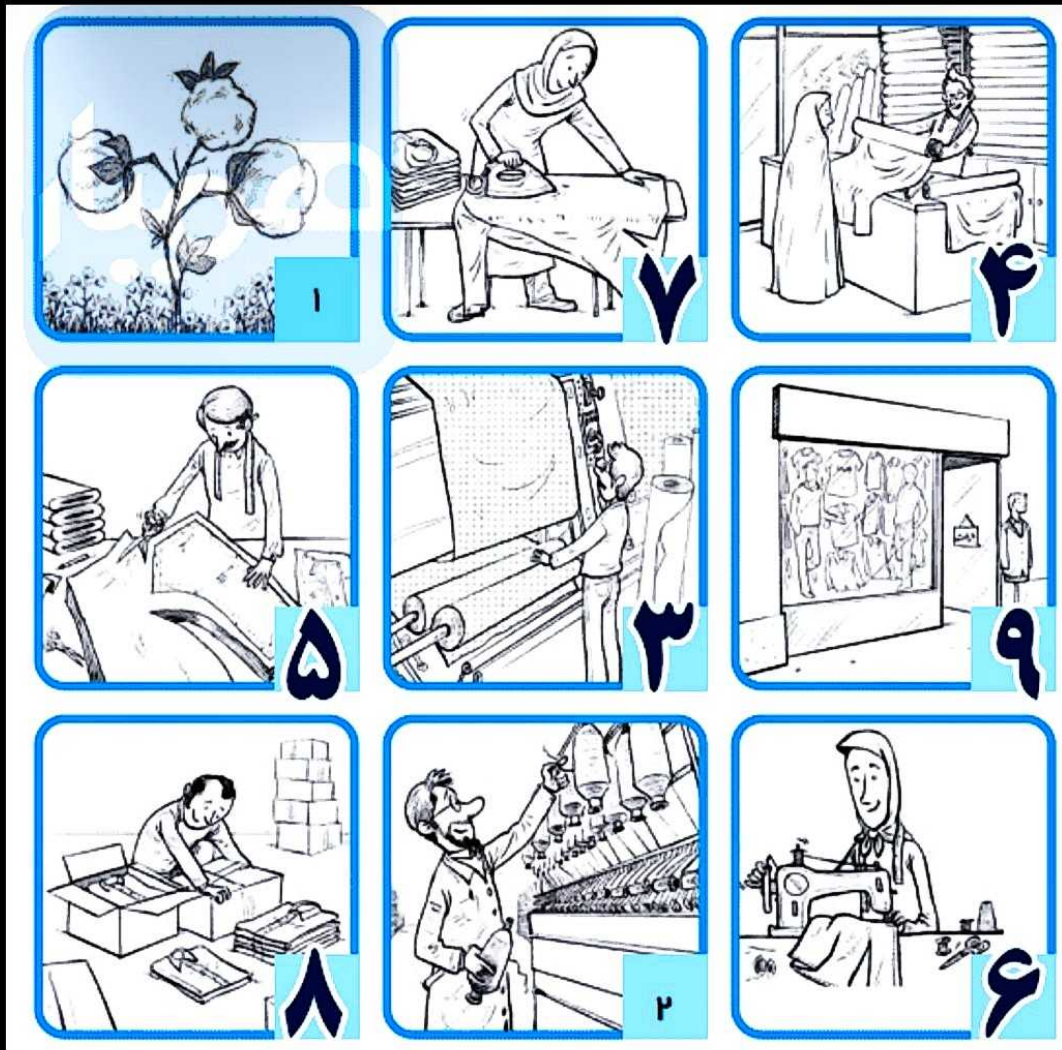
۳ - باریکه یا آبراهه ای که دو دریا را به هم وصل میکند، ... تنگه... نامیده میشود.

# کاربرگ شماره ۲۰ مطالعات ششم ابتدایی با جواب

جواب کاربرگ مطالعات ششم / کاربرگه ۲۰ :: از تولید تا

مصرف صفحه ۱۰۶

۱- مراحل تولید تا مصرف پوشاک را با شماره گذاری روی تصاویر نشان دهید.



۲- هر یک از عبارت های زیر را به کلمه‌ی مناسب وصل

کنید.

توان مالی یا مقدار بولی که می‌توانیم برای تهیه‌ی یک چیز بپردازیم

به تولید کالاها به مقدار زیاد و به صورت یک شکل و همسان گفته می‌شود

به همکاری افراد مختلف برای تولید یک کالا گفته می‌شود به طوری که هر کدام از آنها مهارت تولید یک بخش از کالا را دارند.

فروشنده‌گانی که کالاها را به تعداد زیاد و یکجا به مغازه‌داران دیگر می‌فروشند.

خط تولید

عمده فروش

تولید انبوه

بودجه



دوران مادها: لباس‌های دوران مادها، بلند و چین‌دار بوده و آستین‌های گشادی داشتند. لباس‌های مادی، خصوصاً سربازان جنگی، شبیه فلس‌های ماهی بوده است و از تکه پارچه‌های به هم دوخته شده آماده شده است.



دوران اشکانیان: پیراهن بلند و چین‌دار و با آستین بلند که بر روی این لباس، پیراهن دیگری پوشیده می‌شد که بلندی کمتر و بقیه باز داشت. سرپند و کلاه‌های بلندی نیز می‌پوشیدند که تور یا چادری از بالای آن آویخته می‌شد.



دوران ساسانیان: پیراهن‌های گشاد با آستین‌های بلند که معمولاً در انتهای پیراهن، پارچه‌ای برجین داشته است. همچنین بر روی پیراهن، پوشش‌های استفاده می‌کردند که از روی شانه‌ی چپ رد شده با گره می‌خورد.



دوران قاجار: برخلاف امروز ملامه یک پوشش همگانی و مهم بود. زنان مانند مردان شلوار گشاد و بلندی به پا می‌کردند و روی آن دامن گشاد و نسبتاً بلندی می‌پوشیدند که طول آن تا وسط ساق می‌رسید و مقداری از شلوار و لبه‌ی آن پیدا بود. شلوار زنان گشاد و پارچه‌های راه راه بود.