

بیشتر بدانیم

خلیج فارس به دریای پارس، معروف بوده است. خلیج فارس به دلیل اهمیت زیادی که دارد، در طول تاریخ بارها مورد هجوم کشورهای بیگانه قرار گرفت؛ مثلاً، پرتغالی‌ها تنگه هرمز را اشغال کرده بودند که شاه عباس صفوی توانست آن‌ها را بیرون کند. روز دهم اردیبهشت را در تقویم «روز ملی خلیج فارس» نامیده‌اند.

دریای عمان

ساحل دریای عمان از بندرعباس تا بندر گواتر امتداد دارد. دریای عمان به اقیانوس هند راه دارد و از طریق تنگه‌ی هرمز به خلیج فارس متصل می‌شود. بندر مهم دریای عمان، بندر چابهار است که عمق این دریا در این بندر به ۳۰۰۰ متر نیز می‌رسد. از دیگر بنادر این دریا، جاسک و گواتر می‌باشد که بیانگر بازرگانی و دریانوردی آن است.

عمق	خلیج فارس کم‌تر از دریای عمان است.
شوری	خلیج فارس بیش‌تر از دریای عمان است.

کشورهای عربی امارات، عمان، قطر، بحرین، عربستان و کویت از طریق خلیج فارس و دریای عمان با ایران همسایه هستند.

تمرین

۱ موارد مرتبط را به یکدیگر وصل کنید.

- | | | |
|--------|--|---|
| خور | | گودال‌های پرآبی که به آب‌های آزاد راه ندارند. |
| دریاچه | | رودی که به دریای عمان می‌ریزد. |
| سرباز | | بریدگی‌های عمیق کناره‌ی دریای خلیج فارس به زبان بومی. |
| خلیج | | پیشروی آب دریاها در خشکی. |

۲ درستی و نادرستی هر عبارت را مشخص کنید.

الف: شوری دریای عمان از خلیج فارس بیش‌تر است.

ب: عمق خلیج فارس کم‌تر از دریای عمان است.

پ: ساحل دریای عمان از بندرعباس تا بندر گواتر امتداد دارد.

ت: بزرگ‌ترین جزیره‌ی خلیج فارس، کیش است.

ث: میزان شوری دریای خزر از دریاها و اقیانوس‌ها کم‌تر است.

۶ دریای خزر دریاچه است، ولی چرا به آن دریا می‌گویند؟
 ...دریای خزر دریاچه است ولی به علت وسعت زیادش دریا نامیده می‌شود.

۷ خورها برای چه امری مناسب هستند؟
 در کنارهای دریای خلیج فارس بریدگی‌های عمیق وجود دارد که ساکنان اطراف
 به آن خورها می‌گویند و از خورده‌ها خورها ایجاد می‌شود و علاوه بر فروش کشتی‌ها می‌تواند

۸ در بندرها چه فعالیت‌هایی صورت می‌گیرد؟
 ۱. صادرات و واردات کالاها
 ۲. مسافرت دریایی
 ۳. حمل و نقل با کشتی
 ۴. گردشگری
 ۵. انتقال نفت

۹ جدول زیر را کامل کنید. $\frac{1}{2}$ ورود و خروج کالاهای صادراتی و وارداتی.

نام دریا	عمق	دو رود	نام دو کشور همسایه	میزان شوری
خزر	بیش از ۱۰۰۰ متر	سفیدرود - چالوس	ترکمنستان - آذربایجان	کمتر از دریاها و اقیانوسها
خلیج فارس	به طور متوسط ۳۰ متر	کارون - جراحی	عربستان - عراق - قطر	بیشتر از دریاها
عمان	۱۰۰ متر	لسر باز - رود شور	پاکستان - امارات	کمتر از خلیج فارس

خودارزیابی

نیاز به تلاش	قابل قبول	خوب	خیلی خوب	
<input type="radio"/>	<input type="radio"/>	<input type="radio"/>	<input type="radio"/>	ویژگی‌های دریای خزر را می‌شناسم.
<input type="radio"/>	<input type="radio"/>	<input type="radio"/>	<input type="radio"/>	ویژگی‌های خلیج فارس و دریای عمان را می‌شناسم.
<input type="radio"/>	<input type="radio"/>	<input type="radio"/>	<input type="radio"/>	با اصطلاحات خلیج، خور، تنگه، بندر آشنایی دارم.
<input type="radio"/>	<input type="radio"/>	<input type="radio"/>	<input type="radio"/>	نام رودها و بنادر ایران را می‌دانم.
<input type="radio"/>	<input type="radio"/>	<input type="radio"/>	<input type="radio"/>	با کشورهای همسایه‌ی جنوبی که از طریق خلیج فارس و دریای عمان با ایران همسایه هستند آشنایی دارم.
<input type="radio"/>	<input type="radio"/>	<input type="radio"/>	<input type="radio"/>	با کشورهای همسایه‌ی شمالی که از طریق دریای خزر با ایران همسایه هستند آشنایی دارم.

بیشتر بدانیم


میگو یکی از آبزیان سخت پوست است که می تواند رو به عقب شنا کند و مقاومت بالایی در مقابل مواد سمی مناطق آلوده دارد. این خوراک دریایی سرشار از کلسیم، ید و پروتئین و کلسترول می باشد. با نزدیک شدن به مهر ماه، صید میگو آغاز می شود.

تمرین

۱ موارد مرتبط را به یکدیگر وصل کنید.

دریای خزر

خلیج فارس



معمولاً به «مروارید سیاه» است.

ماهی سنگسر در این دریا صید می شود.

ماهی کیلکا و سفید در این دریا صید می شود.

۲ درستی و نادرستی هر عبارت را مشخص کنید.

الف: میگو از مهم ترین منبع غذایی دریای خزر می باشد. خلیج فارس

ب: دریای خلیج فارس به انبار نفت جهان معروف است.

پ: نفت و گاز از خلیج فارس در نواحی عمیق نزدیک ساحل استخراج می شود. کم عمق

ت: پستانداران مانند دلفین ها و نهنگ ها در خلیج فارس و دریای عمان زندگی می کنند. کم عمق

۳ جاهای خالی را با کلمات مناسب کامل کنید.

الف: همه روزه نفت کش های عظیمی از خلیج فارس و هند عبور می کنند.

ب: ماهیگیری در آب های عمیق نیازمند کشتی های مجهز به سونار و بیچینال است.

پ: صید ماهی در دریای خزر در فصل های بهار و اوایل پاییز ممنوع است.

ت: بخش عمده ای از صادرات و واردات کشور ایران از طریق بنادر صورت می گیرد.

۴ با انتخاب گزینه ی مناسب به پرسش های داده شده پاسخ دهید.

الف: دلیل ممنوعیت صید ماهی در دوره ی زمانی مشخص در دریای خزر چیست؟

۱) کنترل صید بیش از حد

۲) تخم ریزی ماهی ها

۳) رفت و آمد کشتی های تجاری

ب: در کدام یک از شهرها، کارخانه های لنج سازی و کشتی سازی جنوب مستقر نیست؟

۱) بندرعباس

۲) نکا

۳) بوشهر

۴) چابهار

په: سواحل شمالی کشور از مهم ترین مراکز است.

(۲) استخراج گاز

(۴) جاذبه‌ی گردشگری

(۱) استخراج نفت

(۳) صید میگو

جدول زیر را کامل کنید.

نام ماهی	کفال	زبیده	فیل ماهی	خلوای سفید	ماهی شیر
نام دریا	خرز	خلیج فارس	خرز	خلیج فارس	خلیج فارس

۶ دو سازمانی که به امور دریایی می‌پردازند را نام ببرید.
بنادرو دریانوردی - سازمان سلیات جمهوری اسلامی ایران

۷ دو ویژگی فاسد نبودن کنسرو ماهی را بنویسید.
قوطل کنسرو سالم و بدون فساد باقی می‌ماند و به دلیل وجود نمک و اسید در آن، باکتری‌ها در آن رشد نمی‌کنند.

۸ دو شغلی که با دریا سروکار دارد را بنویسید.
صید ماهی یا صیادی - عوامی - کشتی رانی

۹ علت اهمیت دریای خزر چیست؟
دارای منابع سرشار از نفت و گاز - بزرگترین منبع ماهیان، خاویاری، صحر و پنیر (هرور و سیاه) - زیرکانه صدها نوع ماهی، خوراکی و زیست‌شناسی و موجودات دریایی وجود دارند - گردشگری در فصل تابستان - ایجاد شغل گسترده‌ای و لذت‌بخش برای حفاظت از دریاها چه اقداماتی باید کرد؟

۱۰ از ریح خنک و تازه در دریاها خودداری کنید - آلودگی نفت توسط نفتکش‌ها جلوگیری کنیم - جلوگیری از فساد ماهی صید شده در رودها


۱۱ دریاها چه نقشی در توسعه گردشگری در ایران دارند؟

همیشه به‌عنوان یک جاذبه گردشگری و تفریحی و نیز از دیدگاه تاریخی و باستان‌شناختی بسیار مهم است. سواحل شمالی ایران سفری لذت‌بخش است. سواحل جنوبی و جزایر آن نیز جاذبه‌های بسیار مهمی هستند. در فصل زمستان مناسب است.

۱۲ با توجه به تنوع فعالیت‌ها در دریا، در کارخانه‌های کشتی‌سازی چه کشتی‌هایی تولید می‌شود؟

انواع کشتی‌های صیادی - تجاری - نفتکش - در کارخانه‌های کشتی‌سازی تولید می‌شود.

۱ موارد مرتبط را به یکدیگر وصل کنید.



۲ درستی و نادرستی هر عبارت را مشخص کنید.

الف: مسجد ایاصوفیه از بناهای تاریخی ترکیه است.

ب: دین مردم افغانستان و ترکیه، اسلام است.

پ: ترکیه در طول تاریخ مرکز امپراطوری‌های روم و عثمانی بوده است.

۳ جاهای خالی را با کلمات مناسب کامل کنید.

الف: افغانستان از دیرباز به دلیل قرار گرفتن در مسیر جاده ابریشم محل پیوند فرهنگ‌های مختلف بوده است.

ب: پایتخت کشور ترکیه، شهر آنکارا می‌باشد.

پ: حکومت طالبان سال‌ها با کشور افغانستان جنگیده است.

۴ با انتخاب گزینه‌ی مناسب به پرسش‌های داده شده پاسخ دهید.

الف: بیش‌ترین منبع درآمد کشور ترکیه کدام است؟

- ۱) گردشگری ۲) نفت ۳) معادن طلا و مس ۴) گاز

ب: کشور ترکیه در دوران پادشاهی به تصرف ایران درآمد.

- ۱) اشکانیان ۲) سامانیان ۳) ساسانیان ۴) هخامنشیان

پ: رشته‌کوه هندوکش و ارتفاعات آراارات به ترتیب در کدام کشورها هستند؟

- ۱) افغانستان - ترکیه ۲) ترکیه - افغانستان

- ۳) روسیه - افغانستان ۴) افغانستان - بحرین

ن	ه	ی	ر	م	ن	د
ا	م	ن	و	ع	ل	ی
ن	ی	چ	ه	ت	ی	ا
و	ت	ش	پ	د	ب	ل
ی	ر	د	چ	ل	ه	ل

۵ پاسخ سوالات زیر را از جدول پیدا کنید

- الف: از همسایگان افغانستان = چین
- ب: از همسایگان دریایی ترکیه = یونان
- پ: نام یک رود در ترکیه = درحلم
- ت: نام یک رود در افغانستان = هیرمند
- ث: آب و هوای ترکیه = معتدل
- ج: پایتخت افغانستان = کابل
- چ: واحد پول ترکیه = لیر
- ح: نوعی زبان فارسی در افغانستان = دری

۶ چرا افغانستان محل پیوند فرهنگ‌های گوناگون بوده است؟

به دلیل قرار گرفتن در مسیر جاده ابریشم، محل برخورد فرهنگ‌های یونان و روم است.

۷ به چه دلیل گردشگران زیادی همه ساله به کشور ترکیه سفر می‌کنند؟

به دلیل مناطق طبیعی زیبا و سواحل آفتاب‌پرستانه و بناهای تاریخی که در سراسر آن زیاده است.

۸ کدام کشور (ترکیه - افغانستان) موقعیت مکانی بهتری دارد؟ چرا؟

ترکیه زیرا میان دو قاره آسیا و اروپا قرار گرفته است، امکان مهاجرت به روستاهای مختلف دارد و به دلیل داشتن سواحل آفتاب‌پرستانه و بناهای تاریخی که در سراسر آن زیاده است، خود جذب کرده است.

خودارزیابی

خیلی خوب خوب قابل قبول نیاز به تلاش

<input type="radio"/>	<input type="radio"/>	<input type="radio"/>	<input type="radio"/>
<input type="radio"/>	<input type="radio"/>	<input type="radio"/>	<input type="radio"/>
<input type="radio"/>	<input type="radio"/>	<input type="radio"/>	<input type="radio"/>

- موقعیت‌های کشور ترکیه و مکان‌های دیدنی و تاریخی آن را آموخته و می‌دانم.
- موقعیت‌های کشور افغانستان و مکان‌های دیدنی و تاریخی آن را آموخته و می‌دانم.
- ویژگی‌های کشورهای ترکیه و افغانستان را می‌دانم و می‌توانم این دو کشور را با هم مقایسه کنم.

تمرین

۱ موارد مرتبط را به یکدیگر وصل کنید.

- استعمارگر به معنای آباد کردن است.
 استعمار کشوری که کشور دیگر را غارت می‌کند.
 مستعمره کشوری که منابع آن توسط کشور دیگری غارت می‌شود.

۲ درستی و نادرستی هر عبارت را مشخص کنید.

- الف: تحولات علمی و هنری سبب رشد شهرنشینی در اروپا شد.
 ب: انقلاب اسلامی دست بیگانگان را از کشور ما کوتاه کرد.
 پ: گوتنبرگ دستگاه تلسکوپ را اختراع کرد.

۳ جاهای خالی را با کلمات مناسب کامل کنید.

- الف: هدف اصلی استعمارگران تجارت با بیگانهان است.
 ب: طبق عهدنامه‌ی گلستان و ترکمانچای بخش‌هایی از شمال کشور ما جدا و به روسیه داده شد.
 پ: اروپاییان با ساخت کشتی‌های محکم‌تر و پر سرعت‌تر در دریای نو دریای مهارت پیدا کردند.

۴ با انتخاب گزینه‌ی مناسب به پرسش‌های داده شده پاسخ دهید.

- الف: اروپاییان از طریق کدام دریا محصولات را از مسلمانان خریداری می‌کردند؟
 (۱) دریای خزر (۲) دریای عمان (۳) دریای مدیترانه (۴) دریای خلیج فارس

ب: تجارت میان اروپاییان و مسلمانان از چه زمانی حدوداً آغاز شد؟

- (۱) یک قرن پیش (۲) چهار قرن پیش (۳) دو قرن پیش (۴) صد سال پیش

پ: طبق کدام عهدنامه بخش‌های باکو و شیروان از ایران جدا شد؟

- (۱) ترکمانچای (۲) گلستان (۳) رویترز (۴) گزینه ۱ و ۲

۵ با توجه به سؤالات زیر جدول را کامل کنید.

الف: یکی از دورانی که بیش‌ترین نفوذ و دخالت بیگانگان در کشور ما وجود داشت. پهلوی

ب: اختراع گالیله تلسکوپ

پ: مخترع دستگاه چاپ گوتنبرگ

ت: کشف این قاره توسط پرتغالی‌ها و اسپانیایی‌ها آمریکا

					الف ↓				
				پ					
				ه					
			ت	ل	س	ک	و	پ	
			گ	و	ت	ن	ج	ر	گ
				م	ر	ی	ک	ا	

علوی

چه عواملی باعث ایجاد تغییر و تحول در اروپا شد؟ (چهار مورد)

۱. اکتشافات علوم و فنون از جمله اسلام به اروپا

۲. رونق تجارت و بازرگانی در اروپا

۳. پیدایش فن چاپ و علم و هنر در اروپا

۴. اکتشافات جغرافیایی و آغاز استعمارگری توسط اروپاییان

دو علم جغرافیا و ستاره شناسی (نجوم) چه کمکی به اروپاییان کرد؟

این دو علم به شناخت بهتر زمین ها و راه های دریایی و تجارت کمک

خودارزیابی

خیلی خوب خوب قابل قبول نیاز به تلاش

<input type="radio"/>	<input type="radio"/>	<input type="radio"/>	<input type="radio"/>
<input type="radio"/>	<input type="radio"/>	<input type="radio"/>	<input type="radio"/>
<input type="radio"/>	<input type="radio"/>	<input type="radio"/>	<input type="radio"/>
<input type="radio"/>	<input type="radio"/>	<input type="radio"/>	<input type="radio"/>

با اصطلاحات استعمار، مستعمره و استعمارگر آشنا شده‌ام.

با عوامل قدرتمندی اروپاییان آشنا شده‌ام.

چگونگی نفوذ استعمار و برخی از عهدنامه‌های بیگانگان را می‌شناسم.

اختراعات اروپاییان را می‌دانم.

فعالیت عملکردی

درباره‌ی شیوه‌ی استعمارگری در کشور افغانستان تحقیق و گزارشی تهیه کنید و بنویسید که استعمار کشور افغانستان


چه نتایجی برای استعمارگران داشت؟

تمرین

۱ موارد مرتبط را به یکدیگر وصل کنید.

- صدر اعظم یا نخست وزیر ناصر الدین شاه
- از دلیران تنگستان و مبارزه با قوای انگلیس در جنوب کشور
- مردی مبارز در شمال کشور و جنگ با قوای روسی
- نمایندگی مجلس و تلاش برای ملی شدن صنعت نفت

- میرزا کوچک خان جنگلی
- مصدق
- امیر کبیر
- رئیس علی دلواری



۲ درستی و نادرستی هر عبارت را مشخص کنید.

- الف: در تقویم روز ۲۰ اسفند، روز ملی شدن صنعت نفت است.
- ب: با شروع جنگ جهانی اول، انگلیسی‌ها جنوب ایران را اشغال کرده بودند.

۳ جاهای خالی را با کلمات مناسب کامل کنید.

- الف: زادگاه میرزا کوچک خان جنگلی در است.
- ب: امیر کبیر با توطئه دشمنان در به شهادت رسید.

۴ پاسخ صحیح را با علامت مشخص کنید.

الف: این جمله از کیست؟ «نه به انگلیس امتیاز می‌دهم و نه به روسیه»

- ۱) امیر کبیر ۲) میرزا کوچک ۳) دکتر محمد مصدق ۴) رئیس علی دلواری

ب: رئیس علی دلواری در با انگلیسی‌ها جنگید.

- ۱) گیلان ۲) کاشان ۳) بوشهر ۴) روستای احمد آباد

۵ کدام دو کشور در زمان امیر کبیر در امور کشور دخالت می‌کردند؟

اندریس و روسیه

۶ محمدرضا شاه پهلوی با توطئه کدام کشورها دکتر مصدق را تبعید کرد؟

با توطئه آمریکا و اندیس دکتر مصدق را به روستای احمد آباد مستوفی تبعید کرد.

۷ سه مورد از اقدامات مهم امیر کبیر را بنویسید.

تأسیس مدرسه دارالفنون - تأسیس کاخانه - انتشار روزنامه (وقایع اتفاقیه)
 جلوگیری از دخالت و نفوذ زمینداران خارجی در امور داخلی کشور
 جلوگیری از دخالت شاهزادگان و درباریان در امور کشور

علوی

نام چند شخصیت بزرگ مبارز با استعمار را در ایران در فاصله‌ی تأسیس سلسله‌ی قاجار به تا پیروزی انقلاب اسلامی بنویسید. (با توجه به خط زمان)

امیرکبیر - رئیس‌علی دلواری - مهدق - آخوندق (الله ابوالقاسم کاشانی)

میرزا کوچه‌خان زندکلی - حسن مدرس - میرزاغیا بانی

خودارزیابی

خیلی خوب خوب قابل قبول نیاز به تلاش

<input type="radio"/>	<input type="radio"/>	<input type="radio"/>	<input type="radio"/>
<input type="radio"/>	<input type="radio"/>	<input type="radio"/>	<input type="radio"/>

مبارزین ایرانی بر علیه استعمار را می‌شناسم.

با فعالیت‌های انجام شده توسط مبارزین بر علیه استعمار آشنا هستم.

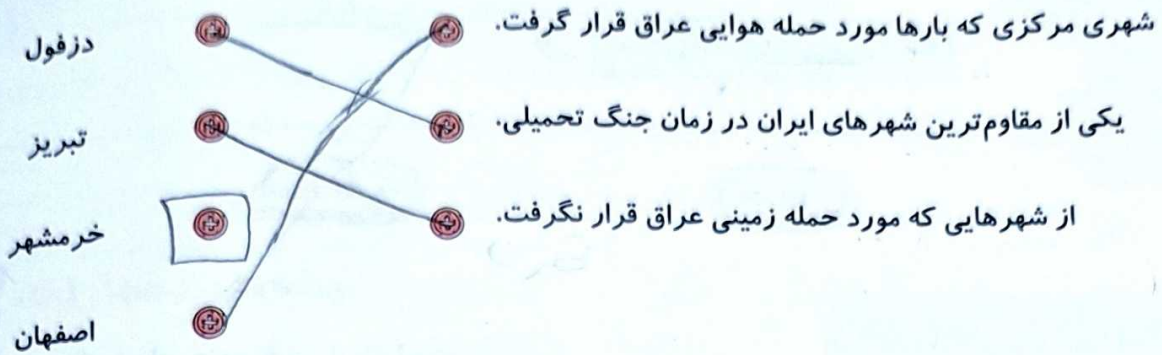
فعالیت عملکردی

با کمک بزرگ‌ترها و جستجو در اینترنت تحقیق کنید و بگویید که در حال حاضر کدام کشورهای جهان قصد دخالت در امور ایران و استفاده از منابع کشور را دارند و جمهوری اسلامی مانع این امر شده است؟ توضیحات خود را در کلاس ارائه دهید.

آمبربیا

تمرین

۱ موارد مرتبط را به یکدیگر وصل کنید. (یک مورد اضافی است).



۲ درستی و نادرستی هر عبارت را مشخص کنید.

الف: اهواز نزدیک ترین شهر به خرمشهر است.

ب: امام خمینی (ره) یک شخصیت ضداستعماری بود.

پ: اولین حمله نظامی عراق در تاریخ ۳۱ شهریور سال ۵۷ بود.

۳ جاهای خالی را با کلمات مناسب کامل کنید.

الف: مردم خرمشهر ۳۰۴۰۰۰۰ روز با کمترین سلاح و مهمات در برابر دشمن مقاومت کردند.

ب: رئیس جمهور ستمگر عراق یعنی صدام... حمله‌ی نظامی را به ایران آغاز کرد.

پ: جنگ ایران و عراق ^۴ طول کشید.

۴ با انتخاب گزینه‌ی مناسب به پرسش‌های داده شده پاسخ دهید.

الف: روز مقاومت و پایداری مردم دزفول در تقویم چه تاریخی انتخاب شده است؟

۲۲ بهمن (۴)

۱۲ بهمن (۳)

۴ خرداد (۲)

۳۰ شهریور (۱)

ب: کدام شهر در محل برخورد رود کارون و اروندرود قرار دارد؟

دزفول (۴)

خرمشهر (۳)

آبادان (۲)

اهواز (۱)

پ: فرماندهی سپاه خرمشهر در زمان جنگ ایران و عراق که بود؟

شهید بابایی (۴)

شهید چمران (۳)

شهید همت (۲)

شهید جهان‌آرا (۱)



۶ دلایل اهمیت خوزستان را بنویسید.

از شهرهای زیبای جنوب غربی ایران است.
در محل برخورد رود کارون و اروندرود قرار دارد.
نزدیک‌ترین مسیر به آبان که بزرگ‌ترین بند بندگیگاه نفت ایران را دارد می‌باشد.

۷ دلایل حمله‌ی نظامی عراق به ایران را به صورت خلاصه بنویسید. (سه مورد)

۱ مردم ایران بعد از انقلاب اسلام به روزی خود را به دست گرفتند و منافع کشورها
استعمارگر ایران را قطع کردند. ۲ پس از پیروزی انقلاب همواره با روبرو می‌شود
ظلم از جانب طرفین در جهان بود این امر خود شایسته دشمنان نبود. ۳ سپاه و ارتش در جنگ
و نبرد گرفتار بودند و هنوز آمادگی نداشتند برای جنگ خواستند.
پیام امام خمینی (ره) در آغاز جنگ تحمیلی به مردم ایران را بنویسید.

۸ من از ملت بزرگ ایران خواهیم که در هر مسئله‌ای که پیش می‌آید عوس باشند
قد هستند مانند من به خواست ببارک و تقالی باشند و از هیچ چیز با است
باشند و از آن قدرت‌های بزرگ بفرستیم این مردم است که قدرتی بزرگ
عراق که چیزی نیست.

همه‌ی اقشار مردم، زن، مرد، پیر، جوان و نوجوان و ... ایستادگی کردند و با همه‌ی توان از کشور دفاع کردند. آن عده‌ای هم که نمی‌توانستند به جبهه بروند، در پشت جبهه همکاری داشتند. ما استقلال کشور خود را مدیون خون شهدایی هستیم که با نثار جان خود آن را حفظ کردند تا پرچم ایران بر قلعه‌ی موفقیت به اهتزاز درآمد.

«بهنام محمدی»:

یکی از رزمندگان نوجوان و دانش‌آموز دوره‌ی هشت سال دفاع مقدس، است که هنگام هجوم نیروهای عراقی به خرمشهر با آن‌ها جنگید.

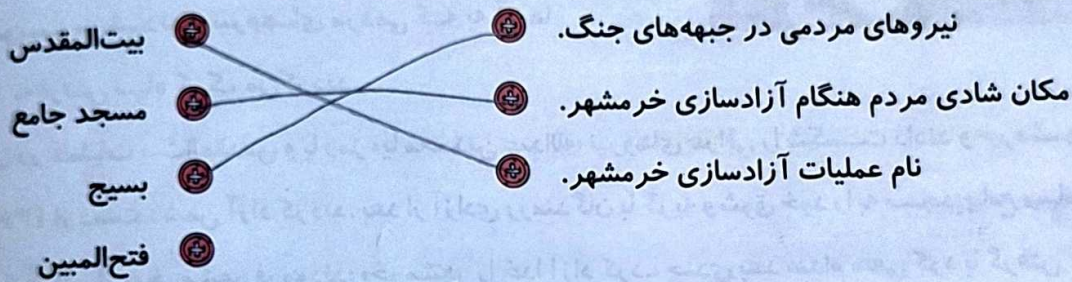


یکی دیگر از عملیات مهم در هشت سال دفاع مقدس، عملیات والفجر ۳ است که در این عملیات شهر مهران که یک شهر مرزی می‌باشد از چنگال دشمن آزاد شد.



تمرین

۱ موارد مرتبط را به یکدیگر وصل کنید. (یک مورد اضافی است).



۲ درستی و نادرستی هر عبارت را مشخص کنید.

الف: پس از پایان جنگ تحمیلی بعضی از شهرها به دست دشمن افتاد.

ب: خرمشهر در تاریخ ۳ خرداد سال ۶۷ به دست رزمندگان اسلام آزاد شد.

پ: در جبهه‌ها نیروهای ارتش، سپاه و بسیج مشغول جنگ با دشمن بودند.

۳ جاهای خالی را با کلمات مناسب کامل کنید.

الف: جنگ ایران و عراق در سال به پایان رسید. شروع ۵۹

ب: دانش‌آموز شهیدی که در خرمشهر با نیروهای عراقی جنگید، بهنام محمدی نام داشت.

پ: صدام پس از اشغال خرمشهر می‌خواست شهرهای دیگر خرمشهر را هم تصرف کند.

۴ با انتخاب گزینه‌ی مناسب به پرسش‌های داده شده پاسخ دهید.

الف: در جنگ تحمیلی کدام گروه‌ها مشارکت داشتند؟

- (۱) سپاه
- (۲) نیروی هوایی ارتش
- (۳) تمام قشرهای مردمی
- (۴) همه‌ی موارد ✓

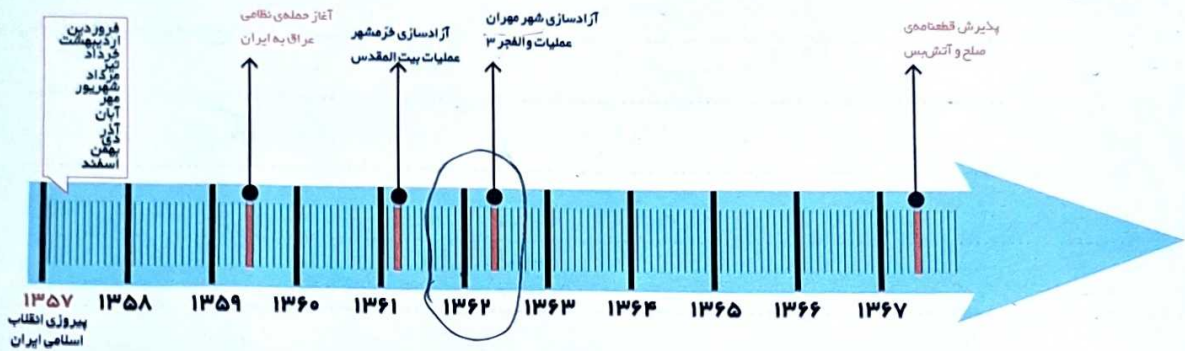
ب: این سخن از کیست؟ «خرمشهر را خدا آزاد کرد.»

- (۱) امام خمینی (ره) ✓
- (۲) آیت‌الله خامنه‌ای
- (۳) شهید خرازی
- (۴) هیچ‌کدام

پ: با پذیرش توسط ایران، جنگ ۸ ساله به پایان رسید.

- (۱) شرایط صدام
- (۲) اشغال خرمشهر
- (۳) قطع‌نامه‌ی صلح ✓
- (۴) دستورات امام خمینی (ره)

۵ با توجه به نمودار زمان زیر، عملیات والفجر ۳ در چه سالی اتفاق افتاد؟ در این عملیات کدام شهر آزاد شد؟ **خرمان**



خرمشهران - نیمه اول سال ۱۳۶۲ عملیات والفجر ۳ اتفاق افتاد.

۶ خرمشهر چگونه آزاد شد؟

رزمندگان اسلام با همکاری خلبانان لجاع نیروی هوایی ارتش در عملیات بیت المقدس توانستند نیروی دشمن را در هم بپاشند چرا که مردم خرمشهر با تلفات زیاد و شرکت بزرگی رو به رو شدند و خرمشهر آزاد شدند.

۷ صدام پس از آزادی خرمشهر چه کرد؟

طبعی آمد با ارضت کند های مالی و اسلحه از کشور های قدرتمند توان خود را تقویت کند و همپایان به هجوم خود ادامه دهد.

۸ در جریان هشت سال دفاع مقدس، مردم ایران چه کردند؟

مردم ایران اجاره بذاختن حتی یک وجب از خاک میهن در اشغال تجاوزگران با من بماند زن و مرد و پیر و جوان ایستادند و از میهن دفاع کردند.