

سؤالات (صفحه اول)

ردیف	دستور کار "الف": پاسخ درست یا نادرست را با علامت ✓ و ✗ مشخص کن.												
	<table border="1"> <thead> <tr> <th>مادرست</th> <th>درست</th> </tr> </thead> <tbody> <tr><td></td><td></td></tr> <tr><td></td><td></td></tr> <tr><td></td><td></td></tr> <tr><td></td><td></td></tr> <tr><td></td><td></td></tr> </tbody> </table>	مادرست	درست										
مادرست	درست												
۱	انسان از صحبت کردن و هم نشینی با دوستان خوب لذت می برد.												
۲	بررسی راه حل ها و پیش بینی نتایج، آخرین مرحله ی تصمیم گیری است.												
۳	دانشگاه های امروز جهان، تقلیدی از مدارس نظامیه است.												
۴	جنگ تحمیلی عراق علیه ایران در شهریور ۱۳۵۴ آغاز شد.												
۵	لباس آتش نشان ها جزو گروه شغلی می باشد.												
	دستور کار "ب" پاسخ صحیح را با علامت ✓ مشخص کن.												
۱	اوج شکوفایی هنر و معماری شهر اصفهان مربوط به چه دوره ای است؟ الف) صفویه ب) قاجاریه ج) ساسانیان د) زندیه												
۲	بیشترین منابع نفتی ایران در کدام بخش های جغرافیایی کشور قرار دارند؟ الف) جنوب و جنوب شرقی ب) جنوب غربی و جنوب ج) شمال و شمال شرقی د) جنوب غربی و غرب												
۳	کدام واقعه مبدأ تاریخ مسلمانان است؟ الف) هجرت پیامبر(ص) از مکه به مدینه ب) تشکیل حکومت اسلامی ج) ظهور اسلام د) میلاد پیامبر(ص)												
۴	چه محل هایی در کنار دریاها برای پهلو گرفتن کشتی ها و ایجاد بنادر مناسب است؟ الف) خلیج ها ب) خورها ج) خطوط ساحلی د) کنار جزیره ها												
۵	در زمان حمله ی نظامی عراق، فرمانده ی سپاه پاسداران خرمشهر چه کسی بود؟ الف) شهید بابایی ب) شهید چمران ج) شهید محمد جهان آرا د) شهید آوینی												
	دستور کار "ب" جمله های زیر را با استفاده از کلمات مناسب کامل کن.												
۱	نیروی کار و سرمایه از عوامل در کشاورزی هستند.												
۲	به گودال های پر از آبی که به اقیانوس ها راه دارند، می گویند.												
۳	معروف ترین بیمارستان دوره ی اسلامی را در بغداد بنا کرد.												
۴	دستگاه چاپ توسط اختراع شد.												
۵	به اوقاتی که فرد از انجام کار یا تحصیل آسوده است، اوقات می گویند.												
۶	مدرکی که دولت ایران برای خروج فرد از کشور صادر می کند و شامل مشخصات، نام و ملیت فرد است نام دارد.												

سؤالات (صفحه دوم)	
ردیف	دستور کار "ت" برای هر کدام از سؤالات زیر پاسخ کوتاه بنویس.
۱	از چه نوع دوستی هایی باید پرهیز کنیم؟
۲	کشت گلخانه ای در مقایسه با سایر کشت ها از چه نظر بسیار بهتر است؟
۳	خرمشهر در چه روزی از جنگال دشمن آزاد شد؟
۴	اولین چاه نفت ایران در چه شهری حفر شده است؟
۵	به نوشته هایی که روی سنگ، کاشی و مانند آن است چه می گویند؟
دستور کار "ث" برای هر کدام از سؤالات زیر پاسخ کامل بنویس.	
۱	آیا همه ی تصمیمات ما در زندگی ساده هستند؟ توضیح بده.
۲	دو مورد از علت های حمله ی نظامی عراق به ایران را بنویس.
۳	مرزها چگونه تعیین می شوند؟
۴	اگر بخواهی یک برنامه ی روزانه ی متعادل برای خود تنظیم کنی، چه مواردی را در آن می گنجانی؟ (ذکر ۴ مورد)
۵	سه گروه عمده ی انرژی را نام ببر و یکی را به دلخواه توضیح بده.
۶	مریم برای خرید لباس وارد فروشگاهی شد. انواع مختلفی از لباس ها توجه او را جلب کرد. اما نمی دانست کدام را انتخاب کند. یاد حرف های آموزگارش هنگام تدریس افتاد که گفته بود موقع خرید لباس به چه نکاتی توجه کنیم. به نظر شما مریم باید چه نکاتی را در انتخاب و خرید لباس در نظر بگیرد؟
۷	علت های گسترش هنر و معماری در دوره ی صفویه را نام ببر. (ذکر ۴ مورد)
۸	استعمارگران از چه راه هایی در کشورهای مختلف نفوذ می کردند؟
۲	ادامه در صفحه ی بعدی

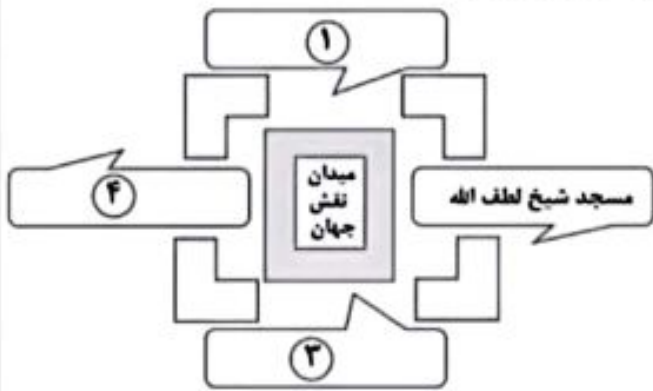
سؤالات (صفحه سوم)

ردیف تصویر را کامل کن.

۱ نام سه اثر تاریخی اصفهان را در جایگاه خود بنویس. و اثر تاریخی شماره ۲ را توضیح بده.

۱- مسجد شیخ لطف الله

۲- مسجد شیخ لطف الله



دستور کار "ج" هر یک از عبارات زیر را به کلمه ی مناسب وصل کن.

- | | | | |
|---|---|---|--|
| ۱ | ○ | ○ | کشت و پرورش گیاهانی که بعد از کاشت دانه، حداکثر تا یک سال محصول می دهند. |
| ۲ | ○ | ○ | کشت و پرورش نهال درختان است که بعد از گذشت یک یا چند سال محصول می دهند. |
| ۳ | ○ | ○ | به انبار نفت جهان معروف است. |
| ۴ | ○ | ○ | بزرگترین منبع ماهیان خاوباری در جهان است. |

دستور کار "ج" با توجه به نقشه به سؤالات پاسخ بده .



۱ نام رود مرزی که ایران را از ارمنستان و آذربایجان جدا می کند؟

۲ بزرگترین جزیره ی خلیج فارس است؟

۳ پدیده ی طبیعی که بخشی از مرز ایران و ترکیه را تشکیل می دهد؟

نام و نام خانوادگی دبیر:	نمره به عدد:	تجدید نظر:	نام و نام خانوادگی دبیر:	نمره به عدد:
تاریخ و امضا:	نمره به حروف:	تاریخ و امضا:	تاریخ و امضا:	نمره به حروف:
ردیف	پیامبر اکرم(ص): « نیکوکاری کامل آن است که در نهان همان را انجام دهی که در آشکارا انجام می دهی»			بارم
الف	<p>دانش آموز عزیزم درست یا نادرست بودن جمله های زیر را مشخص کنید.</p> <p>۱) مشهورترین پادشاه صفوی شاه عباس اول است. <input type="checkbox"/> درست <input type="checkbox"/> نادرست</p> <p>۲) دستگاه چاپ توسط گوتنبرگ اختراع شد. <input type="checkbox"/> درست <input type="checkbox"/> نادرست</p> <p>۳) مسجد شیخ لطف الله چهار ایوان در چهار جهت جغرافیایی دارد. <input type="checkbox"/> درست <input type="checkbox"/> نادرست</p> <p>۴) استعمار به معنی آباد کردن است. <input type="checkbox"/> درست <input type="checkbox"/> نادرست</p>			
ب	<p>دانش آموز کوشا جای خالی را با کلمات مناسب کامل کنید.</p> <p>۱- وابستگی زیاد از حد به دوست آرامش روانی افراد را بر هم می زند پس باید از پرهیز کرد.</p> <p>۲- گنبد یکی از نشانه های است .</p> <p>۳- انواع لباس های محلی را در حفظ و نگهداری می کنند .</p> <p>۴- به آبراهه ای که دو دریا را به هم وصل می کند می گویند.</p>			
ج	<p>دانش آموز خوب ، گزینه صحیح را علامت بزنید.</p> <p>۱- ممنوعیت صید ماهی در دریای خزر در چه زمانی است؟</p> <p>اوایل پاییز تا اول بهار <input type="checkbox"/></p> <p>اوایل زمستان تا اوایل بهار <input type="checkbox"/></p> <p>اوایل تابستان تا اوایل پاییز <input type="checkbox"/></p> <p>اوایل بهار تا اوایل پاییز <input type="checkbox"/></p> <p>۲- کدام شهر به دلیل مقاومت‌های دوران جنگ نمونه پایداری و مقاومت مردم ایران شد؟</p> <p>خرمشهر <input type="checkbox"/> آبادان <input type="checkbox"/> اهواز <input type="checkbox"/> دزفول <input type="checkbox"/></p> <p>۳- در کشور ما استان دارای معادن اورانیوم است.</p> <p>یزد <input type="checkbox"/> شیراز <input type="checkbox"/> بوشهر <input type="checkbox"/> خاکیان سرخس <input type="checkbox"/></p> <p>۴- اغلب بازی های بچه ها در گذشته جنبه ی یا داشتند.</p> <p>حرکتی - رایانه ای <input type="checkbox"/> قدرتی - رایانه ای <input type="checkbox"/> حرکتی - قدرتی <input type="checkbox"/> گروهی رایانه ای <input type="checkbox"/></p> <p>۵- ابن سینا در سال ۳۷۰ هجری به دنیا آمد . یعنی :</p> <p>نیمه اول قرن چهارم <input type="checkbox"/> نیمه دوم قرن چهارم <input type="checkbox"/></p> <p>نیمه اول قرن سوم <input type="checkbox"/> نیمه دوم قرن سوم <input type="checkbox"/></p>			
د	<p>عزیزان ، به سوالات زیر پاسخ کوتاه بدهید.</p> <p>۱- یکی از رویاهای صدام و فرماندهان عراقی چه بود؟</p> <p>۲- مهم ترین منبع غذایی انسان ها چیست ؟</p> <p>۳- کالاهای صادراتی مهم ایران در دوره صفویه چه بودند؟</p> <p>۴- چه شهر هایی رصدخانه داشتند؟</p> <p>۵- به تولید یک کالا به یک شکل و به تعداد زیاد چه می گویند؟</p>			

	<p>نمودار زیر را کامل کنید.</p> <p>آب و هوا</p> <p>عوامل موثر در کشاورزی</p>	ن
	<p>م به سوالات زیر پاسخی کامل بدهید.</p> <p>۱- کتیبه چیست؟ روی کتیبه ها چه چیزهایی نوشته می شود؟</p> <p>۲- چه عواملی موجب گسترش علوم و فنون در دوره اسلامی شد؟ (سه مورد)</p> <p>۳- چه تفاوتی بین انرژی های نو و سوخت های فسیلی وجود دارد؟ (دو مورد)</p> <p>۴- علت حمله نظامی عراق به ایران چه بود؟ سه مورد را نام ببرید.</p> <p>۵- تفاوت برنامه متعادل و نامتعادل را بنویسید.</p> <p>۶- کارخانه های کشتی سازی و لنج سازی در اطراف کدام شهرهای ایران قرار دارند؟</p> <p>۷- دو تفاوت بین دریای عمان و خلیج فارس بنویسید.</p> <p>۸- هر یک از افراد زیر در چه زمان و قرنی می زیسته اند؟ ابوریحان بیرونی ۳۶۲-۴۴۰ زکریای رازی ۲۵۱-۳۱۳</p> <p>۹- نام کشورهای همسایه با خلیج فارس را نام ببرید.</p>	م
	موفق باشید	

الف - سوالات چهار گزینه ای : سوالات زیر را بخوانید و گزینه ی صحیح را با علامت x مشخص کنید

معنی و مفهوم بیت « همنشین تو از تو به باید / تا تو را عقل و دین بیفزاید » به کدام مورد زیر اشاره دارد؟

- الف) حفظ دوستی
- ب) ویژگی دوست
- ج) تعداد دوست
- د) هم سنی با دوست

کدام یک از موارد زیر از عوامل انسانی مؤثر در کشاورزی نیست؟

- الف) استفاده از مهندسين کشاورزی
- ب) تهیه سموم
- ج) خاک مناسب در دشت های هموار
- د) گرفتن وام برای خرید زمین کشاورزی

رودهای اترک ، ارس و اروند رود به ترتیب ایران را از کدام کشورها جدا می کنند؟

- الف) ترکمنستان ، ترکیه ، ارمنستان
- ب) ترکمنستان ، جمهوری آذربایجان ، عراق
- ج) جمهوری آذربایجان ، ترکیه ، عراق
- د) جمهوری آذربایجان ، ترکمنستان ، ترکیه

جنگ تحمیلی چند سال بعد از آزاد سازی خرمشهر به پایان رسید؟

- الف) چهار سال
- ب) پنج سال
- ج) شش سال
- د) هفت سال

ب- سوالات تکمیلی : جملات زیر را با کلمات مناسب کامل کنید

بیشتر منابع نفتی ایران در مناطقی از و کشور وجود دارد.

میدان نقش جهان (امام) به فرمان در مرکز اصفهان ساخته شده است.

برای اینکه فرد بتواند از کشور خارج شود به نیاز دارد و برای مسافرت به کشورهای

دیگر باید از سفارتخانه آن کشور بگیرد.

به سرزمین هایی که استقلال سیاسی و اقتصادی ندارند و تابع حکومت استعمارگر هستند می گویند.

ج- سوالات صحیح غلط : جملات زیر را بخوانید و درستی یا نادرستی آنها را مشخص کنید

الف) در برجسب انرژی هر چه فلش آن به سمت سبز پررنگ نزدیکتر باشد یعنی آن وسیله انرژی برق بیشتری مصرف می کند ()

ب) در گذشته مسلمانان برای تعیین جهت قبله به علم ریاضیات و ستاره شناسی نیاز داشتند. ()

ج) صید ماهی در دریای خزر از اوایل بهار تا اوایل پاییز ممنوع است. ()

د) در برنامه ی نامتعادل به بیشتر بخش های زندگی به اندازه کافی توجه می شود. ()

د- سوالات تشریحی: سوالات زیر را با دقت بخوانید و به آنها پاسخ دهید

در کدام استان های کشور مرکبات کشت می شود؟

۴

عملیات والفجر ۳ در چه سالی اتفاق افتاد؟ در این عملیات کدام شهر آزاد شد

۵

ایران از طریق خلیج فارس با کدام کشورها همسایه است؟ (چهار مورد کافی است)

۶

چهار مورد از دلایل گسترش هنر و معماری در دوره ی صفویه را بنویسید.

۷

دو نمونه از مواردی که باید در خرید لباس مورد توجه قرار گیرد را بنویسید.

۸

کتیبه را تعریف کنید؟ کتیبه های مسجد امام اصفهان اثر کدام استاد ایرانی است؟

۹


هر ساله عده زیادی از مردم کشور ما به کشور عراق سفر میکنند این افراد زائران حرم کدام یک از ائمه بزرگوار هستند. (سه مورد)

۱۰

موفق و پیروز باشید

بازخورد آموزگار:

ردیف	سوالات	عملکرد
۱	<p>❖ صحیح یا غلط بودن هر یک از جملات زیر را مشخص کنید .</p> <p>الف) یک دوست ، همیشه مسیر زندگی انسان را به سوی موفقیت و سعادت تغییر می دهد . صحیح <input type="checkbox"/> غلط <input type="checkbox"/></p> <p>ب) به خلیج فارس انبار نفت جهان می گویند . صحیح <input type="checkbox"/> غلط <input type="checkbox"/></p> <p>ج) گنبد یکی از نشانه های معماری اسلامی است . صحیح <input type="checkbox"/> غلط <input type="checkbox"/></p> <p>د) شهر خرمشهر در عملیات والفجر از چنگال دشمن آزاد شد . صحیح <input type="checkbox"/> غلط <input type="checkbox"/></p>	<p><input type="checkbox"/> خ خ</p> <p><input type="checkbox"/> خ</p> <p><input type="checkbox"/> ق ق</p> <p><input type="checkbox"/> ن ت</p>
۲	<p>❖ جمله های زیر را کامل کنید .</p> <p>الف) در برابر خواسته های نا بجای دوستان و بزرگتر ها ، باید توان را داشته باشیم .</p> <p>ب) به تولید یک کالا به یک شکل و به تعداد زیاد می گویند .</p> <p>ج) بیش ترین منابع گاز ایران از و به دست می آید .</p> <p>د) معروف ترین نظامیه ها و بودند .</p>	<p><input type="checkbox"/> خ خ</p> <p><input type="checkbox"/> خ</p> <p><input type="checkbox"/> ق ق</p> <p><input type="checkbox"/> ن ت</p>
۳	<p>❖ در هر یک از سوالات زیر گزینه صحیح را مشخص کنید .</p> <p>الف) منظور از ضرب المثل زیر چیست ؟ (پیدا کردن دوست آسان است و نگهداری آن مشکل !)</p> <p>۱) وابستگی زیاد به دوست <input type="checkbox"/></p> <p>۲) داشتن حس خیرخواهی <input type="checkbox"/></p> <p>۳) اهمیت حفظ دوستی <input type="checkbox"/></p> <p>۴) چگونگی انتخاب دوست <input type="checkbox"/></p> <p>ب) کدام گیاه به دو شکل پاییزه و بهاره کشت می شود ؟ ۱) گندم <input type="checkbox"/> ۲) برنج <input type="checkbox"/> ۳) جو <input type="checkbox"/> ۴) چای <input type="checkbox"/></p> <p>ج) در کدام کشور نوروز را عالم افروز می نامند ؟ ۱) ایران <input type="checkbox"/> ۲) پاکستان <input type="checkbox"/> ۳) افغانستان <input type="checkbox"/> ۴) عراق <input type="checkbox"/></p> <p>د) با توجه به اینکه غزالی از سال ۴۵۰ تا ۵۵۰ هجری قمری زندگی می کرده است ، او در چه قرنی می زیسته است ؟ ۱) نیمه اول قرن ۴ و نیمه دوم قرن ۵ <input type="checkbox"/></p> <p>۲) نیمه دوم قرن ۵ و نیمه اول قرن ۶ <input type="checkbox"/></p> <p>۳) نیمه دوم قرن ۴ و نیمه اول قرن ۵ <input type="checkbox"/></p> <p>۴) نیمه دوم قرن ۳ و نیمه دوم قرن ۴ <input type="checkbox"/></p>	<p><input type="checkbox"/> خ خ</p> <p><input type="checkbox"/> خ</p> <p><input type="checkbox"/> ق ق</p> <p><input type="checkbox"/> ن ت</p>

<input type="checkbox"/> خ خ <input type="checkbox"/> خ <input type="checkbox"/> ق ق <input type="checkbox"/> ن ت	<p>❖ گزینه های سمت چپ را به توضیحات سمت راست وصل کنید . (یک گزینه اضافی است)</p> <p>بزرگترین منبع ماهی خاویاری در جهان بریدگی عمیق کناره ی خلیج فارس آبراهه ای که دو دریا را به هم وصل می کند وسیله مطالعه ستارگان در زمانهای قدیم گودال های پرآبی که به اقیانوس می ریزند</p> <p>اسطراب دریا دریای خزر خور تنگه دریای عمان</p>	۴
<input type="checkbox"/> خ خ <input type="checkbox"/> خ <input type="checkbox"/> ق ق <input type="checkbox"/> ن ت	<p>به سوالات زیر پاسخ کوتاه بدهید .</p> <p>❖ با توجه به فرمایش پیامبر (ص) ، بدترین افراد چه کسانی هستند ؟ ❖ با سوزاندن سوخت های فسیلی در نیروگاهها ، چه نوع برقی تولید می شود ؟ ❖ ساعت پیک بین چه ساعتی است ؟ ❖ به اوقاتی که فرد از انجام کار یا تحصیل آسوده است ، چه می گویند ؟ ❖ مذهب رسمی ایران در دوره ی صفویه چه بود ؟ ❖ روز ملی شدن صنعت نفت در ایران ، چه روزی است ؟</p>	۵ ۶ ۷ ۸ ۹ ۱۰
<input type="checkbox"/> خ خ <input type="checkbox"/> خ <input type="checkbox"/> ق ق <input type="checkbox"/> ن ت	<p>به سوالات زیر پاسخ بدهید .</p> <p>❖ ویژگی های یک برنامه ی متعادل را بنویسید .</p> <p>_____</p> <p>_____</p> <p>❖ مرز چیست ؟ مراحل تعیین مرز را بنویسید .</p> <p>_____</p> <p>_____</p>	۱۱ ۱۲
	<p>❖ مکان های زیر را روی نقشه نشان دهید . (رودهای اترک و ارس - کشورهای افغانستان ، ترکیه ، کویت و عربستان)</p> 	۱۳

❖ انرژی های نو و انرژی های غیر قابل تجدید را با هم مقایسه کنید .

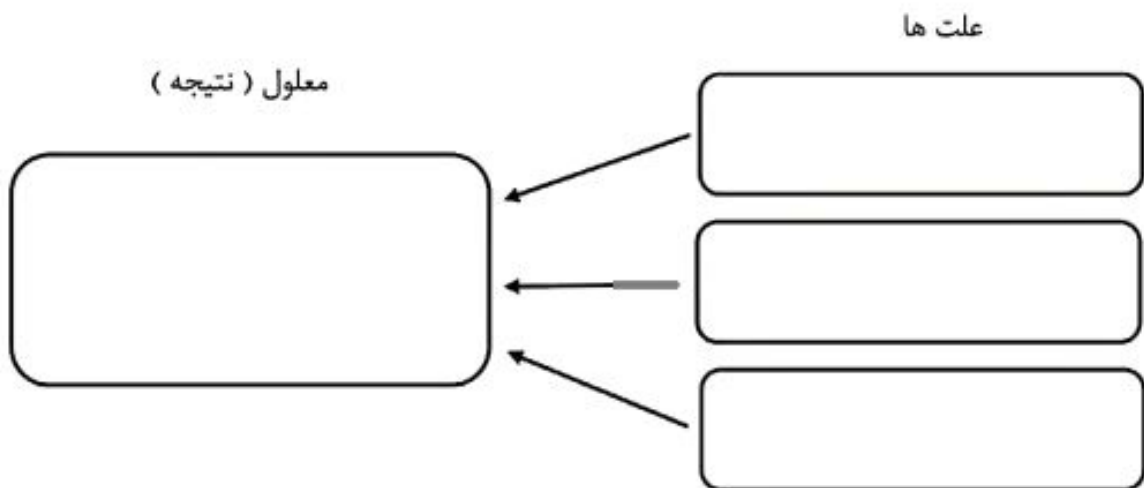
۱۴

❖ هزینه قبض برق خانه ی دوست شما نسبت به ماه گذشته بسیار زیادتر شده است . آنها می خواهند مصرف را به حداقل برسانند . سه راه حل به آنها پیشنهاد دهید .

۱۵

❖ علت های جنگ تحمیلی عراق بر ایران را در نمودار علت و معلول زیر به طور خلاصه بنویسید .

۱۶



نیاز به تلاش بیشتر

قابل قبول

خوب


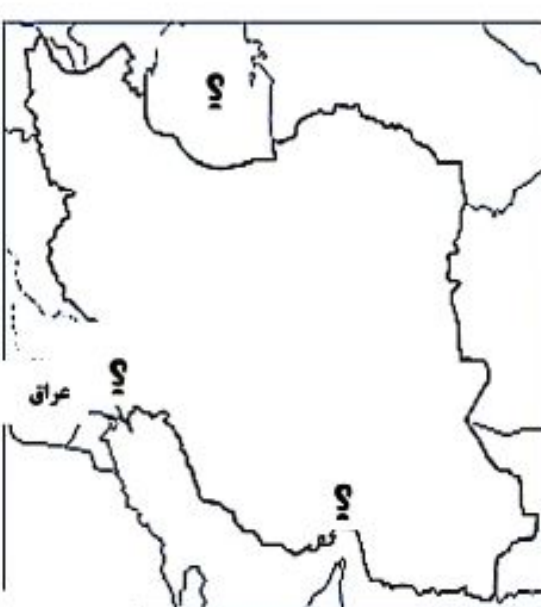
خیلی خوب : توصیف عملکرد :

نام و نام خانوادگی معلم مربوطه : امضاء و تاریخ

نام و نام خانوادگی بازبینی کننده : امضاء و تاریخ

ردیف	دستور کار قسمت الف - پاسخ درست را با علامت (×) مشخص کنید.		
۱	به فرموده‌ی پیامبر اسلام(ص) بدترین افراد چه کسانی هستند؟ الف) افراد بخیل <input type="checkbox"/> ب) افراد دروغ‌گو <input type="checkbox"/> ج) افراد سخن‌چین <input type="checkbox"/> د) افراد حسود <input type="checkbox"/>		
۲	از فکر و تجربه‌ی دیگران استفاده کردن را، چه می‌گویند؟ الف) مشورت <input type="checkbox"/> ب) انتخاب <input type="checkbox"/> ج) تصمیم‌گیری <input type="checkbox"/> د) بررسی پیشنهادات <input type="checkbox"/>		
۳	سم‌پاشی جزء کدام یک از مراحل کشاورزی می‌باشد؟ الف) برداشت <input type="checkbox"/> ب) کاشت <input type="checkbox"/> ج) داشت <input type="checkbox"/> د) هیچ کدام <input type="checkbox"/>		
۴	کدام گروه از محصولات زیر جزء گیاهان زراعی می‌باشند؟ الف) گندم، ذرت، برنج، جو <input type="checkbox"/> ب) گندم، جو، گوجه‌فرنگی، پرتقال <input type="checkbox"/> ج) خرما، انار، خیار، کاهو <input type="checkbox"/> د) نخود، گوجه‌سبز، سیب، کدو <input type="checkbox"/>		
۵	از شکافتن هسته‌ی اتم‌های بعضی از عناصر مثل اورانیوم کدام انرژی پدید می‌آید؟ الف) انرژی خورشیدی <input type="checkbox"/> ب) انرژی حرارتی <input type="checkbox"/> ج) انرژی هسته‌ای <input type="checkbox"/> د) انرژی تجدید پذیر <input type="checkbox"/>		
۶	کوه‌های آرات بخشی از مرز بین کدام کشورها را تشکیل می‌دهد؟ الف) عراق و ترکیه <input type="checkbox"/> ب) ایران و ترکمنستان <input type="checkbox"/> ج) ترکیه و ایران <input type="checkbox"/> د) عراق و ایران <input type="checkbox"/>		
ب	دستور کار قسمت ب- در جاهای خالی، کلمات مناسب بنویسید.		
۱	دین اسلام از سرزمین ----- طلوع کرد.		
۲	مسلمانان فن کاغذسازی را از ----- آموختند.		
۳	از مهم‌ترین دلایل اهمیت خلیج فارس، وجود منابع سرشار از ----- و ----- است.		
۴	با سوزاندن سوخت‌های فسیلی و تبدیل آب به بخار برق ----- تولید می‌کنند.		
۵	یکی از آبریان مهم دریا‌های جنوب، ----- می‌باشد.		
پ	دستور کار قسمت پ - جملات درست را با حرف (د) و جملات نادرست را با حرف (ن) مشخص کنید.		
۱	گنبد یکی از نشانه‌های معماری اسلامی است. ()		
۲	بزرگ‌ترین تجارت در جهان امروزی، فقط صادرات و واردات نفت می‌باشد. ()		
۳	میزان شوری آب دریای خزر از دیگر دریاها و اقیانوس‌ها کمتر است. ()		
ت	دستور کار قسمت ت - هر یک از عبارات زیر را به کلمه‌ی مناسب وصل کنید.		
	<table border="1"> <tr> <td>عمده‌فروش تولید انبوه بودجه خط تولید</td> <td> <p>۱. توان مالی یا مقدار پولی که می‌توانیم برای تهیه‌ی یک چیز بپردازیم.</p> <p>۲. به تولید کالاها به مقدار زیاد و به صورت یک‌شکل و همسان گفته می‌شود.</p> <p>۳. به همکاری افراد مختلف برای تولید یک کالا و انجام هر مهارت توسط یک نفر.</p> </td> </tr> </table>	عمده‌فروش تولید انبوه بودجه خط تولید	<p>۱. توان مالی یا مقدار پولی که می‌توانیم برای تهیه‌ی یک چیز بپردازیم.</p> <p>۲. به تولید کالاها به مقدار زیاد و به صورت یک‌شکل و همسان گفته می‌شود.</p> <p>۳. به همکاری افراد مختلف برای تولید یک کالا و انجام هر مهارت توسط یک نفر.</p>
عمده‌فروش تولید انبوه بودجه خط تولید	<p>۱. توان مالی یا مقدار پولی که می‌توانیم برای تهیه‌ی یک چیز بپردازیم.</p> <p>۲. به تولید کالاها به مقدار زیاد و به صورت یک‌شکل و همسان گفته می‌شود.</p> <p>۳. به همکاری افراد مختلف برای تولید یک کالا و انجام هر مهارت توسط یک نفر.</p>		

ن	دستور کار قسمت ن- به سؤالات زیر پاسخ کوتاه دهید.
	<p>۱) کدام سلسله مذهب شیعه را مذهب رسمی کشور اعلام کرد؟</p> <p>۲) پهنه‌های بسیار بزرگ آبی کره‌ی زمین چه نام دارد؟</p> <p>۳) چرا پوشاک مردم کشورمان در نواحی مختلف متفاوت می‌باشد؟</p> <p>۴) به نیروهای مردمی که در زمان جنگ به یاری ارتش و سپاه آمدند، چه می‌گفتند؟</p>
ج	دستور کار قسمت ج- هر کدام از اصطلاحات زیر را تعریف کنید.
	<p>گذرنامه=</p> <p>مستعمره=</p>
چ	دستور کار قسمت چ- به سؤالات زیر پاسخ کامل دهید.
۱	<p>هنگام بهترین انتخاب چه سؤالاتی را باید از خودمان بپرسیم؟ (۳ مورد)</p>
۲	<p>آقای رضوانی هزینه‌ی زیادی را در هر دوره بابت مصرف برق می‌پردازد. شما چه پیشنهاداتی می‌توانید به خانواده‌ی آقای رضوانی بدهید تا کمکی به کاهش مصرف برق و هزینه‌ی آن‌ها شود. (۲ مورد)</p>
۳	<p>برای نوشتن یک برنامه‌ی متعادل، چه نکاتی را باید رعایت کرد؟ (۲ مورد)</p>
۴	<p>ضررهای استفاده‌ی زیاد از بازی‌های رایانه‌ای را بنویسید. (۲ مورد)</p>
۵	<p>استعمارگران از چه راههایی در کشورهای دیگر نفوذ می‌کردند؟ (۱ مورد کافی است.)</p>
۶	<p>استعمارگران از چه راههایی در کشورهای دیگر نفوذ می‌کردند؟</p>

	<p>ح دستور کار قسمت ح- نمودار علت و معلولی زیر را کامل کنید.</p>	
	<p style="text-align: center;">(علت‌ها)</p> <div style="display: flex; justify-content: space-around; align-items: center;"> <div style="border: 1px solid black; border-radius: 10px; padding: 5px; width: 150px; height: 100px; display: flex; flex-direction: column; justify-content: center; align-items: center;"> <p>معلول (نتیجه)</p> <p>حمله‌ی نظامی عراق به ایران</p> </div> <div style="border: 1px solid black; border-radius: 10px; width: 150px; height: 30px;"></div> <div style="border: 1px solid black; border-radius: 10px; width: 150px; height: 30px;"></div> </div>	
	<p>خ دستور کار قسمت خ- با توجه به خط زمان زیر، به سؤالات پاسخ دهید.</p>	
	<p style="text-align: center;">تولد زکریای رازی</p>  <p style="text-align: center;">۰ ۱۰۰ ۲۰۰ ۳۰۰ ۴۰۰ ۵۰۰ ۶۰۰</p> <p>الف) زکریای رازی در نیمه‌ی _____ قرن _____ هجری به دنیا آمد.</p> <p>ب) ابن‌سینا در ۳۷۰ هجری به دنیا آمده است. آن را روی خط زمان نشان دهید.</p>	
	<p>د دستور کار قسمت د- موارد خواسته شده را روی نقشه بنویسید.</p>	
	<div style="display: flex;"> <div style="flex: 1;">  </div> <div style="flex: 1; padding-left: 20px;"> <ol style="list-style-type: none"> ۱. نام بزرگ‌ترین دریاچه‌ی جهان ۲. بندری در جنوب ۳. رود مرزی ایران و عراق </div> </div>	
	<p style="text-align: right;">نظر نهایی معلم:</p> <p style="text-align: center;">❖ پیروز باشید ❖</p> <p style="text-align: center;">تاریخ و امضا:</p>	<p>نام و نام خانوادگی معلم:</p>

الف) ویژگی دوست (ب) خاک مناسب (ج) ترکمنستان ، ارمنستان ، عراق (د) شش سال

قسمت ب ()

الف) جنوب غربی و غرب (ب) شاه عباس صفوی (ج) گذرنامه (پاسپورت) - روادید (ویزا) (د) مستعمره

قسمت ج ()

الف) غلط (ب) صحیح (ج) صحیح (د) غلط

قسمت د ()

۴- مازندران - کرمان - فارس - هرمزگان - گیلان - خوزستان

۵- سال ۱۳۶۲ - آزاد سازی شهر مهران

۶- عراق کویت بحرین عربستان قطر امارات

۷- حکومت قدرتمند و یکپارچه - رونق تجارت - برقراری امنیت در راه ها و شهرها - حمایت از هنرمندان

۸- با باورهای دینی ما تناسب داشته باشد - کیفیت خوب و قیمت مناسب داشته باشد

۹- کتیبه نوشته هایی که روی سنگ و کاشی و مانند آن است که در دوره اسلامی آیات قرآن و دعا و نام امامان را نوشته اند.

استاد علیرضا عباسی

۱۰- امام علی (ع) - امام حسین (ع) - حضرت ابوالفضل (ع)