

سوالات (صفحه اول)

ردیف	دستور کار "الف": پاسخ درست یا نادرست را با علامت ✓ و ✗ مشخص کن.												
	<table border="1"> <thead> <tr> <th>نادرست</th> <th>درست</th> </tr> </thead> <tbody> <tr> <td></td> <td>✓</td> </tr> <tr> <td>✓</td> <td></td> </tr> <tr> <td></td> <td>✓</td> </tr> <tr> <td>✓</td> <td></td> </tr> <tr> <td></td> <td>✓</td> </tr> </tbody> </table>	نادرست	درست		✓	✓			✓	✓			✓
نادرست	درست												
	✓												
✓													
	✓												
✓													
	✓												
۱	انسان از صحبت کردن و هم نشینی با دوستان خوب لذت می برد.												
۲	بررسی راه حل ها و پیش بینی نتایج، آخرین مرحله ی تصمیم گیری است.												
۳	دانشگاه های امروز جهان، تقلیدی از مدارس نظامیه است.												
۴	جنگ تحمیلی عراق علیه ایران در شهریور ۱۳۵۴ آغاز شد.												
۵	لباس آتش نشان ها جزو گروه شغلی می باشد.												
	دستور کار "ب" پاسخ صحیح را با علامت ✓ مشخص کن.												
۱	اوج شکوفایی هنر و معماری شهر اصفهان مربوط به چه دوره ای است؟ <input checked="" type="radio"/> الف) صفویه <input type="radio"/> ب) قاجاریه <input type="radio"/> ج) ساسانیان <input type="radio"/> د) زندیه												
۲	بیشترین منابع نفتی ایران در کدام بخش های جغرافیایی کشور قرار دارند؟ <input type="radio"/> الف) جنوب و جنوب شرقی <input type="radio"/> ب) جنوب غربی و جنوب <input type="radio"/> ج) شمال و شمال شرقی <input checked="" type="radio"/> د) جنوب غربی و غرب												
۳	کدام واقعه مبدأ تاریخ مسلمانان است؟ <input checked="" type="radio"/> الف) هجرت پیامبر(ص) از مکه به مدینه <input type="radio"/> ب) تشکیل حکومت اسلامی <input type="radio"/> ج) ظهور اسلام <input type="radio"/> د) میلاد پیامبر(ص)												
۴	چه محل هایی در کنار دریاها برای پهلو گرفتن کشتی ها و ایجاد بنادر مناسب است؟ <input type="radio"/> الف) خلیج ها <input checked="" type="radio"/> ب) خورها <input type="radio"/> ج) خطوط ساحلی <input type="radio"/> د) کنار جزیره ها												
۵	در زمان حمله ی نظامی عراق، فرمانده ی سپاه پاسداران خرمشهر چه کسی بود؟ <input type="radio"/> الف) شهید بابایی <input type="radio"/> ب) شهید چمران <input checked="" type="radio"/> ج) شهید محمد جهان آرا <input type="radio"/> د) شهید آوینی												
	دستور کار "ب" جمله های زیر را با استفاده از کلمات مناسب کامل کن.												
۱	نیروی کار و سرمایه از عوامل انسانی در کشاورزی هستند.												
۲	به گودال های پر از آبی که به اقیانوس ها راه دارند، دریا می گویند.												
۳	معروف ترین بیمارستان دوره ی اسلامی را عضدالدوله دیلمی در بغداد بنا کرد.												
۴	دستگاه چاپ توسط گوتنبرگ اختراع شد.												
۵	به اوقاتی که فرد از انجام کار یا تحصیل آسوده است، اوقات فراغت می گویند.												
۶	مدرکی که دولت ایران برای خروج فرد از کشور صادر می کند و شامل مشخصات، نام و ملیت فرد است پاسپورت (گذرنامه) نام دارد.												
	ادامه در صفحه ی بعدی												

سؤالات (صفحه دوم)

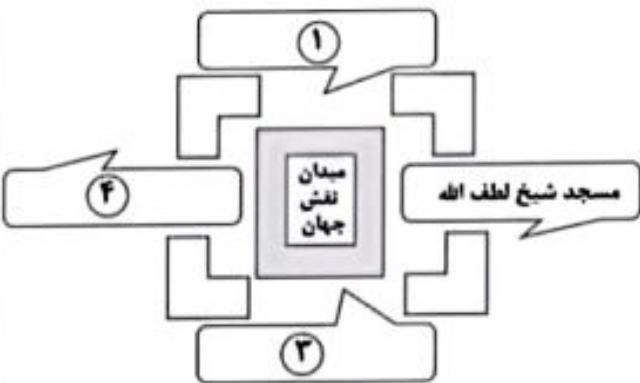
ردیف	دستور کار "ت" برای هر کدام از سؤالات زیر پاسخ کوتاه بنویس.
۱	از چه نوع دوستی هایی باید پرهیز کنیم؟
۲	کشت گلخانه ای در مقایسه با سایر کشت ها از چه نظر بسیار بهتر است؟
۳	خرمشهر در چه روزی از جنگال دشمن آزاد شد؟
۴	اولین چاه نفت ایران در چه شهری حفر شده است؟
۵	به نوشته هایی که روی سنگ، کاشی و مانند آن است چه می گویند؟
	دستور کار "ت" برای هر کدام از سؤالات زیر پاسخ کامل بنویس.
۱	آیا همه ی تصمیمات ما در زندگی ساده هستند؟ توضیح بده. خیر ساده نیستند و موقعیت هایی پیش می آید که در آن راه های مختلفی وجود دارد و انتخاب یکی از آن ها مشکل است.
۲	دو مورد از علت های حمله ی نظامی عراق به ایران را بنویس. ۱- قطع شدن منافع استعمارگران در ایران ۲- حمایت ایران از مظلومان و فلسطین ۳- نداشتن آمادگی کافی سپاه پاسداران برای دفاع از کشور
۳	مرزها چگونه تعیین می شوند؟ برای تعیین مرز، ابتدا کشورها بر سر خطوط مرزی به توافق می رسند و مابین خود خطوطی را معین می کنند سپس نقشه کش ها، با دقت نقشه هایی از مرزها ترسیم می کنند. در مرحله بعد بر طبق آن نقشه، روی زمین در محل، خطوط مرزی علامت گذاری می کنند. این علامت ها معمولاً میله ها یا تیرک هایی است که در زمین فرو می کنند.
۴	اگر بخواهی یک برنامه ی روزانه ی متعادل برای خود تنظیم کنی، چه مواردی را در آن می گنجانی؟ (ذکر ۴ مورد) در برنامه متعادل، استراحت و خواب، درس خواندن، عبادت کردن و تفریح و سرگرمی به اندازه ی کافی وجود دارد و هر کاری در موقع مناسب انجام میشود؛ در برنامه متعادل، ساعات درس خواندن و ساعات کار کردن نیز باید به اندازه ی کافی باشد؛
۵	سه گروه عمده ی انرژی را نام ببر و یکی را به دلخواه توضیح بده. ۱. انرژی های نو: این انرژی ها از منابعی حاصل می شوند که به طور طبیعی و مداوم تجدید می شوند، مانند انرژی خورشیدی، انرژی باد، انرژی آب. ۲. سوخت های فسیلی: این انرژی ها از منابعی بدست می آیند که برای تجدید شدن به مدت طولانی نیاز دارند، مانند نفت، گاز طبیعی و زغال سنگ. ۳. انرژی هسته ای: این انرژی از طریق شکافت هسته اتمی تولید می شود.
۶	مریم برای خرید لباس وارد فروشگاهی شد. انواع مختلفی از لباس ها توجه او را جلب کرد. اما نمی دانست کدام را انتخاب کند. یاد حرف های آموزگارش هنگام تدریس افتاد که گفته بود موقع خرید لباس به چه نکاتی توجه کنیم. به نظر شما مریم باید چه نکاتی را در انتخاب و خرید لباس در نظر بگیرد؟ ۱. باید با باورهای دینی ما تناسب داشته باشد. ۲. جنس آن خوب باشد و هم از نظر قیمت مناسب باشد، یعنی با بودجه ما تناسب داشته باشد.
۷	علت های گسترش هنر و معماری در دوره ی صفویه را نام ببر. (ذکر ۴ مورد) حکومت قدرتمند و یکپارچه - رونق تجارت برقراری امنیت در راه ها و شهرها - حمایت از هنرمندان
۸	استعمارگران از چه راه هایی در کشورهای مختلف نفوذ می کردند؟ ۱. استعمارگران گاهی به کشورهای دیگر حمله نظامی کرده و منابع آنها را غارت می کنند. ۲. گاهی نیز سعی می کنند از کشورها امتیازاتی بگیرند که در آن منافع در بر داشته باشد

نام سه اثر تاریخی اصفهان را در جایگاه خود بنویس. و اثر تاریخی شماره ۲ را توضیح بده.

۱- **بازار قیصریه** ۲- مسجد شیخ لطف الله

۳- **مسجد امام** ۴- **کاخ عالی قاپو**

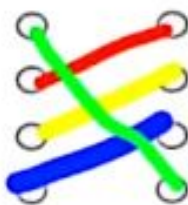
در این مسجد شیخ لطف الله نماز جماعت برگزار میکرد و به تربیت و تدریس شاگردان میپرداخت. همچنین ساخت این مسجد ۱۸ سال طول کشید و روی گنبد آن کاشی کاری دارد.



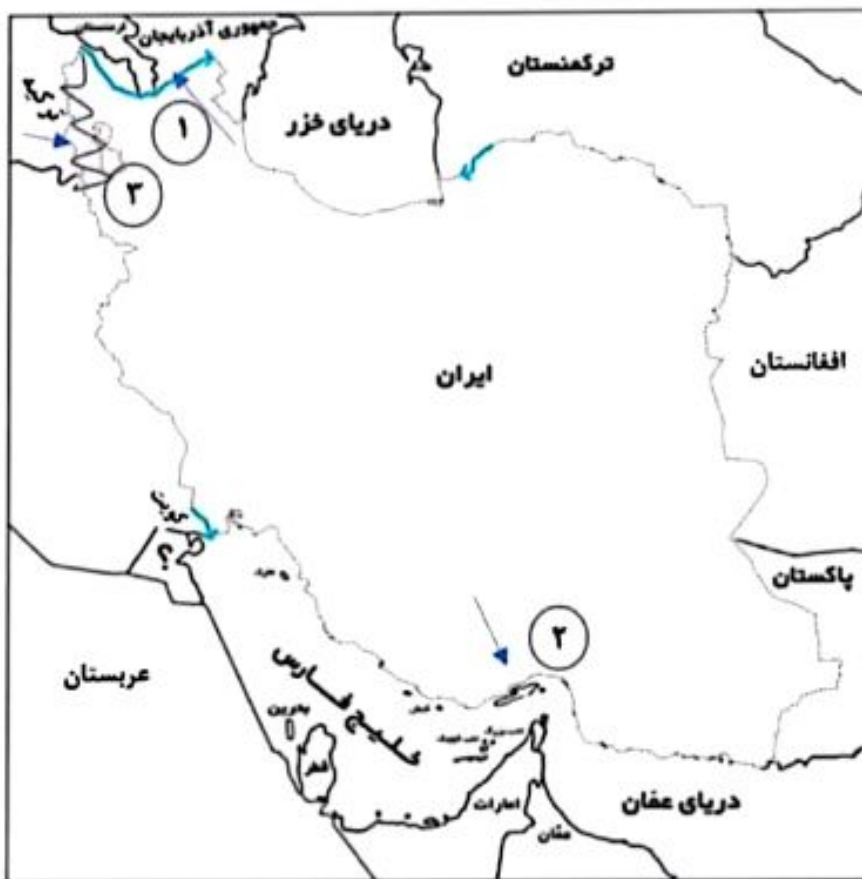
دستور کار "ج" هر یک از عبارات زیر را به کلمه ی مناسب وصل کن.

- | | |
|---|--|
| ۱ | کشت و پرورش گیاهانی که بعد از کاشت دانه، حداکثر تا یک سال محصول می دهند. |
| ۲ | کشت و پرورش نهال درختان است که بعد از گذشت یک یا چند سال محصول می دهند. |
| ۳ | به اتبار نفت جهان معروف است. |
| ۴ | بزرگترین منبع ماهیان خاویاری در جهان است. |

- دریای خزر
- زراعت
- باغداری
- خلیج فارس



دستور کار "ج" با توجه به نقشه به سؤالات پاسخ بده .



۱ نام رود مرزی که ایران را از ارمنستان و آذربایجان جدا می کند؟ **ارس**

۲ بزرگترین جزیره ی خلیج فارس است؟ **قشم**

۳ پدیده ی طبیعی که بخشی از مرز ایران و ترکیه را تشکیل می دهد؟ **آرارات**

ردیف	سوالات
۱	<p>عبارت درست را با (د) و نادرست را با (ن) مشخص کنید. (۲ نمره)</p> <p>الف) دین تمامی کشورهای اطراف ایران، اسلام است. (ن)</p> <p>ب) تنگه ی هرمز، دریای عمان و خلیج فارس را به هم وصل می کند. (د)</p>
۲	<p>گزینه ی درست را انتخاب کنید. (۴ نمره)</p> <p>الف) گودال های پر از آبی که به اقیانوس ها راه دارند نام دارند.</p> <p>۱) دریاچه <input type="checkbox"/> ۲) چشمه <input type="checkbox"/> ۳) دریا <input checked="" type="checkbox"/> ۴) رود <input type="checkbox"/></p> <p>ب) نظامیه توسط تأسیس شد و معروف ترین آنها نظامیه های و بودند.</p> <p>۱) خواجه نصیر طوسی - بغداد و نیشابور <input type="checkbox"/> ۲) خواجه نظام الملک - نیشابور و بغداد <input checked="" type="checkbox"/></p> <p>۳) خواجه نصیر طوسی - ری و بغداد <input type="checkbox"/> ۴) خواجه نظام الملک - نیشابور و اصفهان <input type="checkbox"/></p>
	<p>ج) بیشتر نفوذ و دخالت بیگانگان در کشور ایران در دوره های و بوده است.</p> <p>۱) قاجاریه - پهلوی <input checked="" type="checkbox"/> ۲) صفویه - قاجاریه <input type="checkbox"/></p> <p>۳) پهلوی - صفویه <input type="checkbox"/> ۴) ساسانیان - قاجاریه <input type="checkbox"/></p> <p>د) سارا در سال ۱۴۰۱ متولد شده است. در واقع او در نیمه ی قرن زندگی می کند.</p> <p>۱) اول - ۱۴ <input type="checkbox"/> ۲) دوم - ۱۴ <input type="checkbox"/> ۳) دوم - ۱۵ <input type="checkbox"/> ۴) اول - ۱۵ <input checked="" type="checkbox"/></p>
۳	<p>در جای خالی، کلمه ی مناسب قرار دهید. (۲/۵ نمره)</p> <p>الف) انرژی هسته ای از شکافتن هسته ی اتم بعضی عناصر مثل اورانیوم پدید می آید.</p> <p>ب) کشور الف به بهانه ی آباد کردن کشور ب وارد این کشور شده است، اما هدف اصلی اش غارت کردن منابع و ثروت کشور ب می باشد، در این صورت کشور الف استعمارگر و کشور ب مستعمره است.</p> <p>ج) برای مسافرت به کشور دیگر باید از سفارتخانه ی آن کشور اجازه گرفت. به این اجازه ویزا یا رواید می گویند.</p>

۴	<p>تصور کنید مسابقه ی فوتبال بین تیم های استقلال و پرسپولیس در روز جمعه در ورزشگاه آزادی برگزار می شود و شما می خواهید به همراه پدرتان به تماشای بازی بروید . در آنجا چه آداب و مقرراتی را باید رعایت کنید ؟ (حد اقل سه مورد بنویسید .) (۱ / ۵ نمره)</p> <p>۱ - برای تهیه ی بلیت ، نوبت در صف را رعایت کنیم . ۲ - از مسخره کردن یک تیم یا هواداران آن خودداری و فقط تیم مورد علاقه مان را تشویق کنیم . ۳ - از اموال عمومی حفاظت کنیم . ۴ - با نظم و آرامش به سالن ها وارد یا از آنجا خارج شویم . ۵ - با انتظامات یا کارکنان ورزشگاه همکاری کنیم .</p>
۵	<p>محمد به همراه خانواده اش به سفر رفته است . در ابتدای شهر اصفهان ، یکی از اعضای جمعیت هلال احمر به آن ها یک نقشه ی گردشگری داد . به نظر شما این نقشه نشان دهنده ی چه چیزهایی می باشد ؟ (۱ / ۵ نمره)</p> <p>نقشه ای است که روی آن ، مکان های دیدنی و آثار تاریخی نشان داده می شود .</p>
۶	<p>مریم به فروشگاه رفت تا لباس بخرد . او هنگام خرید باید به چه نکاتی توجه کند ؟ (دو مورد) (۲ نمره)</p> <p>۱ - لباسی که انتخاب می کند ، باید با باورهای دینی او تناسب داشته باشد .</p> <p>۲ - لباسی را که انتخاب می کند ، باید کیفیت خوب و قیمت مناسب داشته باشد .</p>
۷	<p>هنگام تصمیم گیری باید به این نکته توجه کنیم که تصمیم گیری ما به موقع باشد . به نظر شما اهمیت به موقع تصمیم گرفتن چیست ؟ (۱ / ۵ نمره)</p> <p>همانطور که تصمیم های ناگهانی و بدون فکر کار نادرستی است ، تصمیم نگرفتن یا تصمیم گیری را به آینده موکول کردن نیز کار صحیحی نیست . بعضی وقت ها هم تصمیم های خوبی می گیریم ولی آن را اجرا نمی کنیم .</p>
۸	<p>رییس اداره ی برق بوشهر گفت : « بیشتر برق مورد نیاز ما از طریق برق حرارتی تولید می شود . ، به نظر شما برق حرارتی چگونه تولید می شود ؟ (۲ نمره)</p> <p>در نیروگاه ها با سوزاندن سوخت های فسیلی ، آب را به بخار تبدیل می کنند . فشار بخار آب توربین ها را به حرکت در می آورد و برق (انرژی الکتریکی) تولید می شود .</p>
۹	<p>کاغذسازی چگونه موجب گسترش علوم و فنون در دوره ی اسلامی شد ؟ (۲ نمره)</p> <p>مسلمانان فن کاغذسازی را از چینی ها آموخته بودند و آن را گسترش دادند و کامل کردند . در آن دوره صدها مغازه ی کتاب فروشی در شهرهایی چون بغداد ، نیشابور و بخارا و ... وجود داشت .</p>
۱۰	<p>چرا شهر دزفول به عنوان نمونه ی مقاومت و پایداری ایران عزیز انتخاب شد ؟ (۱ نمره)</p> <p>پس از اشغال حرمشهر ، صدام با موشک ، توپ و هواپیما به شهرهای دیگر ایران حمله کرد اما در بسیاری از شهرها مردم مقاومت و از شهر دفاع کردند . یکی از مقاومت ترین شهرهای ایران در هشت سال دفاع مقدس شهر دزفول بود . شهر دزفول بیشترین حملات هوایی را تحمل کرد . مردم دزفول آن چنان مقاومت و دلیری از خود نشان دادند که این شهر به عنوان نمونه ی مقاومت و پایداری ایران عزیز انتخاب شد .</p>
<p>موفق و پیروز باشید .</p>	

الف) ویژگی دوست (ب) خاک مناسب (ج) ترکمنستان، ارمنستان، عراق (د) شش سال

قسمت ب) ()

الف) جنوب غربی و غرب (ب) شاه عباس صفوی (ج) گذرنامه (پاسپورت) - روادید (ویزا) (د) مستعمره

قسمت ج) ()

الف) غلط (ب) صحیح (ج) صحیح (د) غلط

قسمت د) ()

۴- مازندران - کرمان - فارس - هرمزگان - گیلان - خوزستان

۵- سال ۱۳۶۲ - آزاد سازی شهر مهران

۶- عراق کویت بحرین عربستان قطر امارات

۷- حکومت قدرتمند و یکپارچه - رونق تجارت - برقراری امنیت در راه ها و شهرها - حمایت از هنرمندان

۸- با باورهای دینی ما تناسب داشته باشد - کیفیت خوب و قیمت مناسب داشته باشد

۹- کتیبه نوشته هایی که روی سنگ و کاشی و مانند آن است که در دوره اسلامی آیات قرآن و دعا و نام امامان را نوشته اند.

استاد علیرضا عباسی

۱۰- امام علی (ع) - امام حسین (ع) - حضرت ابوالفضل (ع)

پاسخ نامه

- (۱) صحیح یا غلط
الف) غلط
ب) درست
ج) درست
د) غلط
-
- (۲) جاهای خالی را کامل کنید .
الف) نه گفتن
ب) انبوه
ج) جنوب و شمال شرقی
د) نیشابور - بغداد
-
- (۳) گزینه ی صحیح را مشخص کنید .
الف) گزینه ی ۳
ب) گزینه ی ۱
ج) گزینه ی ۳
د) گزینه ی ۲
-
- (۴) بزرگترین منبع ماهی خاویاری در جهان - دریای خزر
بریدگی عمیق کناره ی خلیج فارس - خور
آبراهه ای که دو دریا را به هم وصل می کند - تنگه
وسیله مطالعه ستارگان در زمانهای قدیم - اسطرلاب
گودال های پرآبی که به اقیانوس می ریزند - دریا

به سوالات زیر پاسخ کوتاه بدهید .

- (۵) سخن چین
(۶) برق حرارتی
(۷) سات ۷ تا ۱۱
(۸) اوقات فراغت
(۹) مذهب شیعه
(۱۰) روز ۲۹ اسفند

به سوالات زیر پاسخ بدهید .

- (۱۱) در برنامه متعادل ، استراحت ، خواب ، درس خواندن ، عبادت و تفریح و سرگرمی به اندازه ی کافی وجود دارد و هر کاری در موقع مناسب انجام می شود .

۱۲) مرز خط مشخصی است که کشوری را از کشور دیگر جدا می کند .

برای تعیین مرز ابتدا کشورها بر سر خطوط مرزی به توافق می رسند و میان خود خطوطی را معین می کنند سپس نقشه کش ها با دقت نقشه هایی از مرزها را ترسیم می کنند . در مرحله ی بعد طبق آن نقشه ، روی زمین در محل خطوط مرزی علامت گذاری می کنند .



۱۳)

۱۴) انرژی های نو ارزان تر هستند یا رایگان هستند - باعث آلودگی محیط زیست نمی شوند - تمام نمی شوند .

۱۵) به عهده ی دانش آموز (واگرا)

۱۶) علت های جنگ تحمیلی عراق بر ایران



نظر همکاران در تصحیح اوراق محترم می باشد .

الف دستور کار قسمت الف - پاسخ درست را با علامت (x) مشخص کنید.

۱- ج ۲- الف ۳- ج ۴- الف ۵- ج ۶- ج

ب دستور کار قسمت ب - در جاهای خالی کلمات مناسب بنویسید.

۱) عربستان ۲) چینی ها ۳) نفت و گاز ۴) حرارتی ۵) میگو

ب دستور کار قسمت ب - جملات درست را با حرف (د) و جملات نادرست را با حرف (ن) مشخص کنید.

۱- د ۲- ن ۳- د

ت دستور کار قسمت - هر یک از عبارات زیر را به کلمه‌ی مناسب وصل کنید.

۱. بودجه ۲. تولید انبوه ۳. خط تولید

ث دستور کار قسمت ث - به سؤالات زیر پاسخ کوتاه دهید.

۱) صفویه ۲) اقیانوس ۳) متنوع بودن آب و هوا ۴) بسیج

ج دستور کار قسمت ج - هر کدام از اصطلاحات زیر را تعریف کنید.

گذرنامه = برای اینکه یک فرد از کشور خارج بشود به گذرنامه یا پاسپورت نیاز دارد. گذرنامه شناسنامه ی خارجی فرد است که مشخصات فرد و کشور محل تولدش در آن ذکر شده است.
مستعمره = به سرزمین هایی که استقلال سیاسی و اقتصادی نداشته باشند و تابع حکومت استعمارگر باشند، می گویند.

چ دستور کار قسمت چ - به سؤالات زیر پاسخ کامل دهید.

۱) برخلاف دستورهای دینی نباشد. برخلاف مقررات و قوانین خانه، مدرسه و جامعه نباشد. باعث نگرانی و نارضایتی خانواده نباشد. به سلامت من و یا دیگران لطمه نزند. برای دیگران و خودم مشکل و دردسری به وجود نیاورد. (سه مورد از موارد را بنویسید.)

۲) خاموش کردن لامپ های اضافی. در یخچال را زیاد باز و بسته نکردن.
استفاده کردن از لامپ های کم مصرف کمتر استفاده کردن از وسایل برقی در ساعت بیک یا اوج بار
(دو مورد از موارد را بنویسید.)

۳) استراحت و خواب عبادت کردن تفریح و سرگرمی درس خواندن (۲ مورد کافی است)

۴) هر مورد صحیح، می تواند باشد. (۲ مورد کافی است)

ایجاد مشکلات جسمی: ضعیف شدن چشم، ایجاد پشت خمیده یا عادت به قوز کردن و ...
ایجاد ناراحتی های روحی و روانی: خواب های پریشان، ایجاد استرس و اضطراب و ...
از بین رفتن وقت، عدم ارتباط مفید و مؤثر با خانواده

۵) آنها به سرزمین های دیگر حمله ی نظامی، و به بهانه ی آباد کردن وبا هدف غارت منابع آنها سرزمین ها را اشغال می کردند.

گاهی نیز از کشورهای دیگر امتیازاتی گرفته و یا روابطی با آنها برقرار کرده اند که به نفع خوشان باشد.

(۱ مورد کافی است)

ح

دستور کار قسمت ح - نمودار علت و معلولی زیر را کامل کنید.

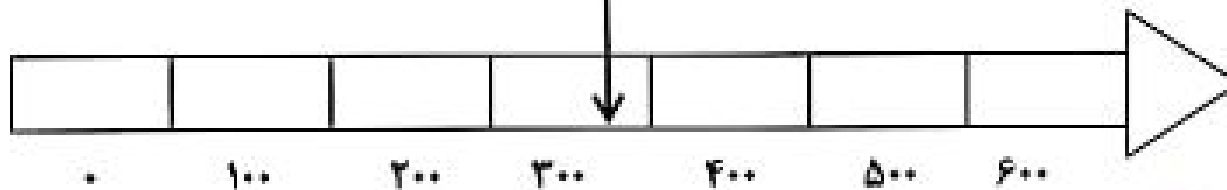
نمودار : دلایل حمله ی عراق به ایران دو مورد از موارد زیر کافیست.

- ۱- قطع منافع استعمارگران در ایران
- ۲- حمایت از مردم فلسطین و اینکه ایران یاور مظلومان در جهان شد.
- ۳- تازه شکل گرفتن سپاه پاسداران وعدم آمادگی ارتش و سپاه و مجهز نبودن آن ها

خ

دستور کار قسمت خ - با توجه به خط زمان زیر، به سؤالات پاسخ دهید.

خط زمان: الف) تولد زکریای رازی: نیمه دوم قرن سوم ب) تولد ابن سینا در ۳۷۰



د

دستور کار قسمت د موارد خواسته شده را روی نقشه بنویسید.

نقشه

۳. اروند رود

۲. بندر عباس

۱. دریاچه ی خزر