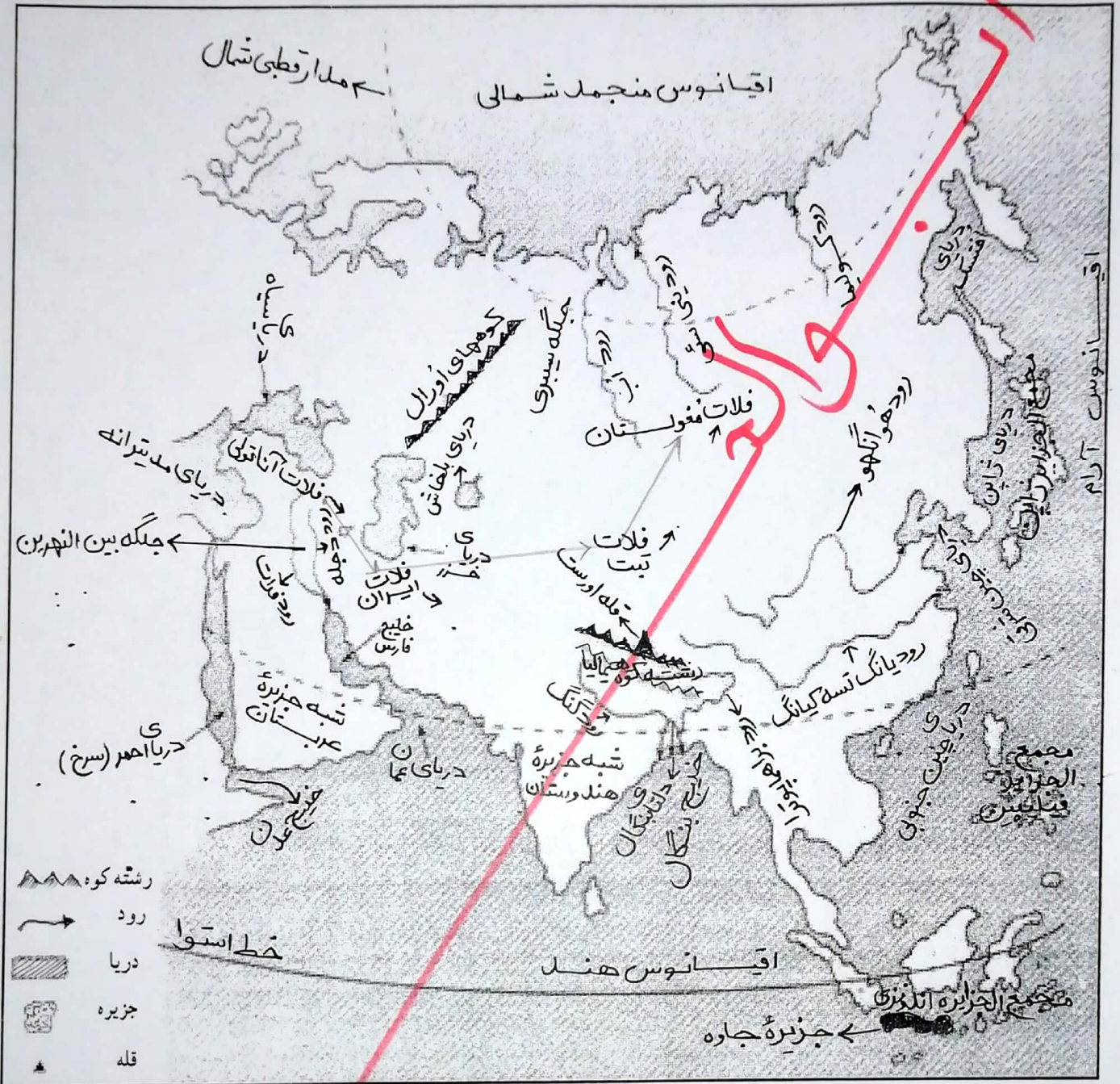


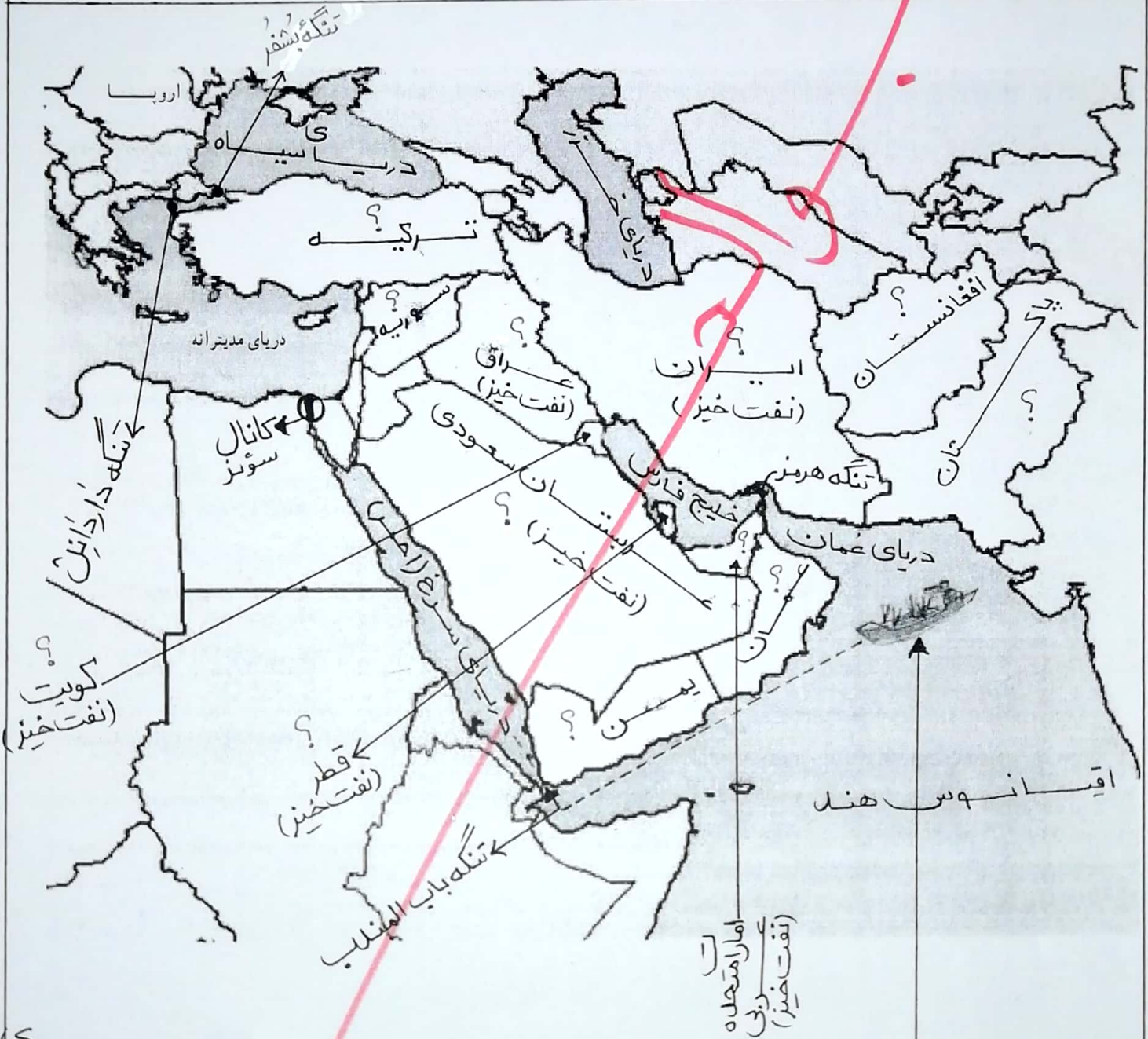
کاربِگ شماره ۱۲ نقشه قاره آسیا



- روی نقشه، نام مکان‌های مؤثر نظر را بنویسید.
- نام اقیانوس‌های اطراف قاره آسیا
 - نام دریاها و خلیج‌ها
 - نام رشته کوهی که آسیا را از اروپا جدا می‌کند.
 - نام فلات‌های بلند آسیا از مغرب به مشرق
 - نام رشته کوه و بلندترین قله آسیا
 - نام دو شبه جزیره وسیع آسیا
 - محل جلگه سیبری
 - رودهای مهم آسیا
 - محل فلیج عدن
 - محل فلیج بنگال
 - نام کشورها و مجمع‌الجزایر آسیا
 - نام دلتای بنگال
 - محل خط استوا
 - محل مراکز ترین منطقه جهان از نظر جمعیت.
 - محل مدار قطبی شمال

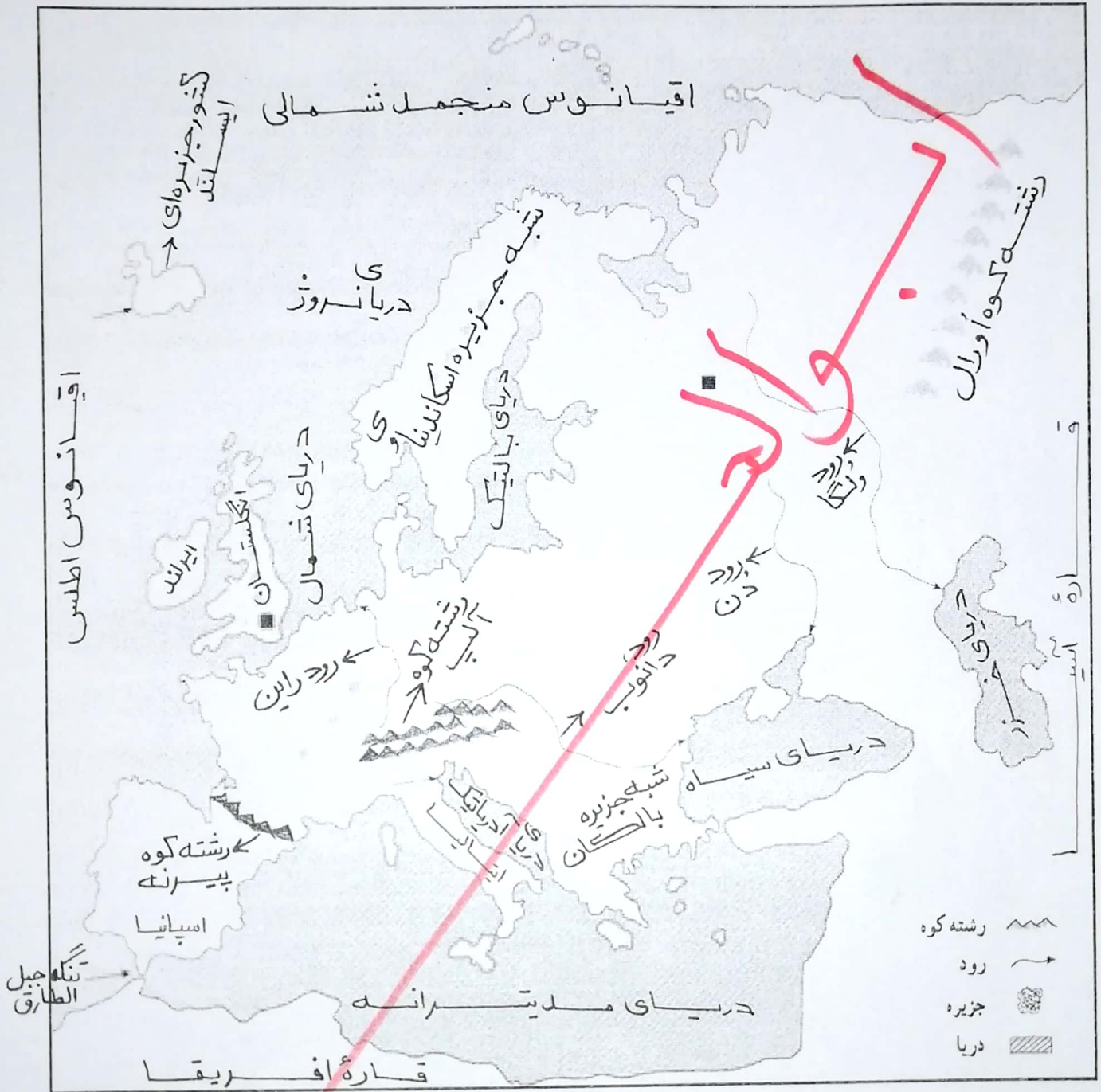
★ روی نقشه نام مکان‌های مورد نظر را بنویسید.

- نام دریاها و اقیانوس مهم منطقه
- نام تنگه‌های بوشهر، دارخانیل، هرمز، باب‌المندب، کانال سوئز
- نام کشورهای که با علامت مشخص شده است.
- کشورهای نفت خیز منطقه جنوب غربی آسیا را مشخص کنید.



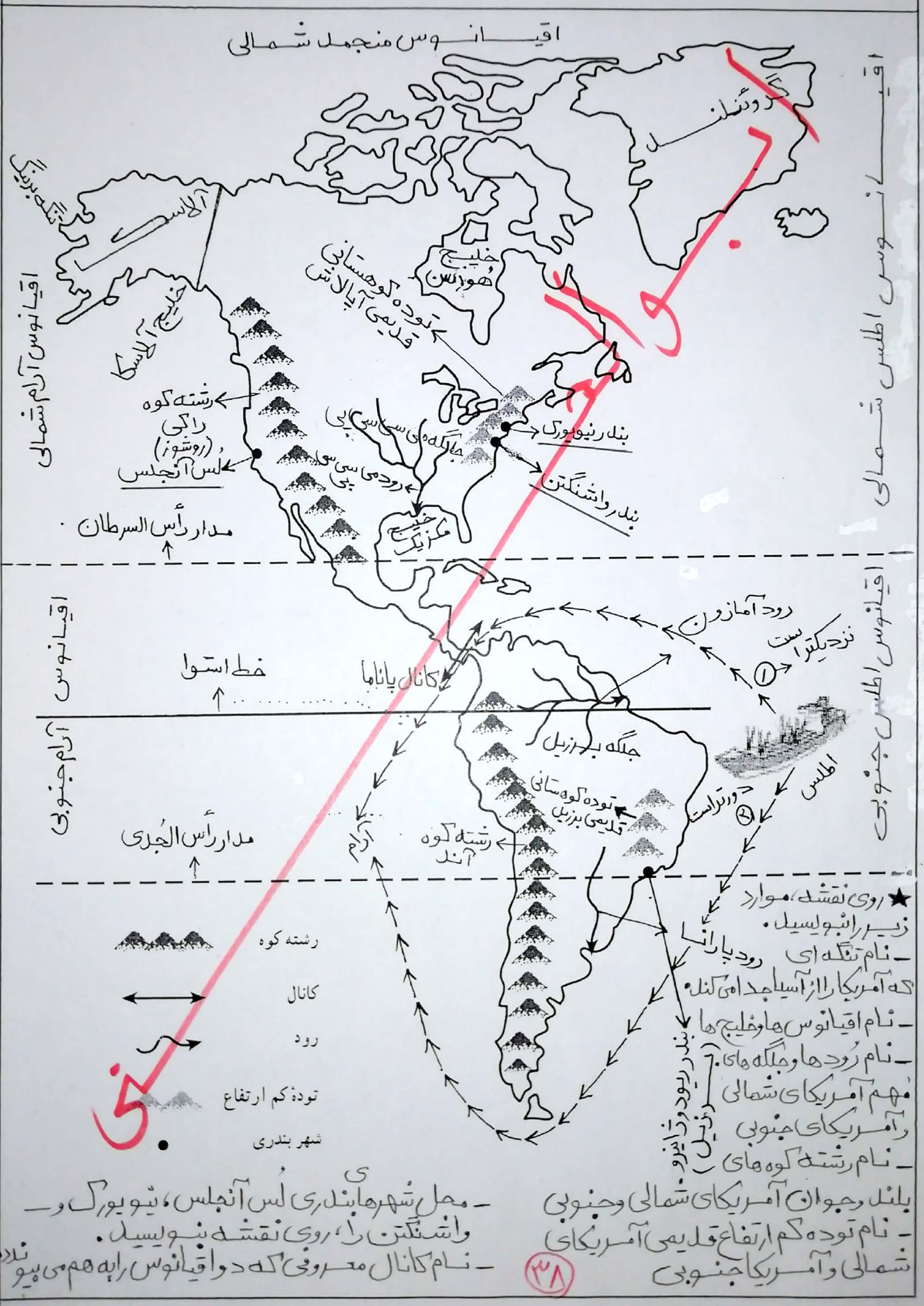
اگر این کشتی باربری بخواهد از دریای عمان و از طریق دریای مدیترانه به کشورهای اروپایی برود به ترتیب از مسیرهای زیر عبور می‌کند:
 از دریای عمان و از طریق تنگه باب‌المندب وارد دریای سرخ یا افریقا می‌شود
 و از طریق کانال سوئز وارد دریای مدیترانه و از آنجا وارد کشورهای اروپایی می‌شود.

کارببرگ شماره ۱۵ نقشه اروپا



- ★ روی نقشه، نام مکان‌های مورد نظر را بنویسید.
- نام اقیانوس‌ها و دریاهای اطراف قاره اروپا
- نام رودهای و گاه، دن، و راین
- نام دو رشته کوه مهم اروپا
- نام شبه جزیره اسکندیناوی و شبه جزیره بالکان
- نام تنگه‌ای که اروپا را از آفریقا جدا می‌کند.
- نام قاره آسیا
- نام کشور ایتالیا
- نام کشور جزیره‌ای ایسلند

ساربرگ شماره ۱۷ نقشه قاره آمریکا



اقیانوس منجمد شمالی

اقیانوس اطلس شمالی

اقیانوس آرام شمالی

اقیانوس اطلس جنوبی

اقیانوس

آرام جنوبی

خط استوا

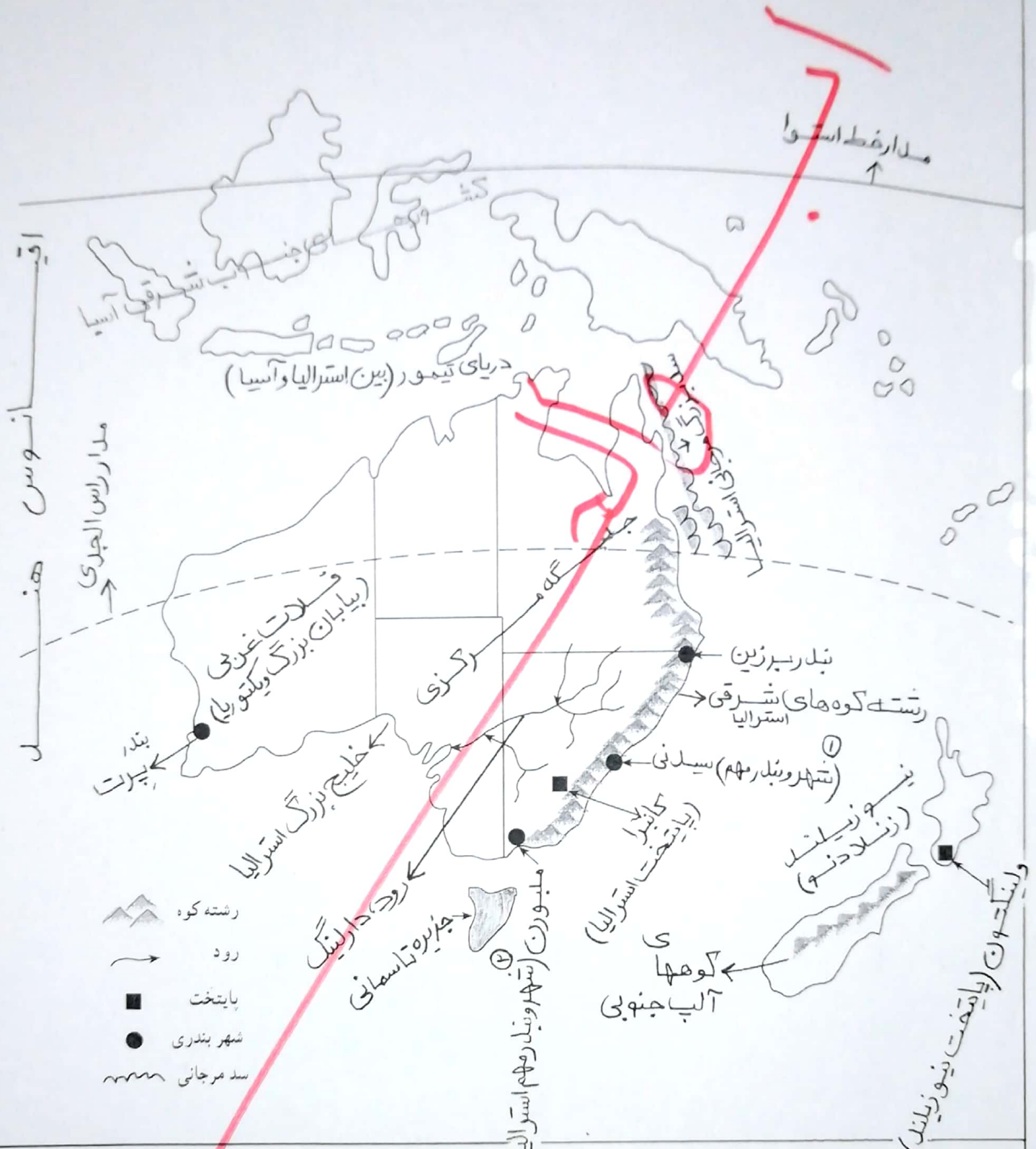
مدار رأس الجری

- رشته کوه
- کانال
- رود
- توده کم ارتفاع
- شهر بندری

- محل شهرهای بندری لس آنجلس، نیویورک و واشنگتن را، روی نقشه بنویسید.
- نام کانال معروفی که دو اقیانوس را به هم می پیونداند

- بند و حیوان آمریکای شمالی و جنوبی
- نام توده کم ارتفاع قدیمی آمریکای شمالی و آمریکای جنوبی

- ★ روی نقشه، موارد زیر را بنویسید.
- نام تنگه ای رود پارانما
- که آمریکا را از آسیا جدا می کند
- نام اقیانوس ها و خلیج ها
- نام رودها و جلگه های
- بندر نیویورک و واشنگتن
- نام رشته کوه های



- ★ روی نقشه موارد زیر را بنویسید.
- نام اقیانوس‌های اطراف استرالیا
- نام رود، جلگه، پیاپان مشخص شده
- نام کشور جزیره‌ای که در منطقه اقیانوسیه واقع است و پایتخت آن.
- نام پایتخت و دو بندر مهم استرالیا (۳۹) - محل سد بزرگ مرجانی استرالیا
- نام مدار فرضی که از استرالیا عبور می‌کند. - نام ایالت‌های استرالیا را بنویسید.
- نام رشته کوه استرالیا و نیوزیلند را بنویسید.
- نام اقیانوس‌های اطراف استرالیا
- نام رود، جلگه، پیاپان مشخص شده
- نام کشور جزیره‌ای که در منطقه اقیانوسیه واقع است و پایتخت آن.
- نام پایتخت و دو بندر مهم استرالیا (۳۹) - محل سد بزرگ مرجانی استرالیا
- نام مدار فرضی که از استرالیا عبور می‌کند. - نام ایالت‌های استرالیا را بنویسید.