

۱- از اواخر قرن ۴ تا اوایل قرن ۷ سه سلسله ترک تبار به ترتیب **غزنویان** ، **سلجوقیان** و **خوارزمشاهیان** در ایران

حکومت کردند تستی و پاسخ کوتاه

۲- چرا غزنویان به این نام مشهور شدند تشریحی

غزنویان چون حکومت خود را از غزنین شروع کردند به این نام مشهور شدند

۳- مقدمه تصرف خراسان توسط محمود غزنوی چه بود؟

ضعف سامانیان پاسخ کوتاه و تستی

۴- سلطان محمود به دلیل **سپاه نیرومند** در اکثر جنگها پیروز و قلمرو خود را تا **ری** گسترش داد تستی و پاسخ کوتاه

۵- چرا سلطان محمود غزنوی در تاریخ شهرت یافت

چون چندین بار به هندوستان لشکرکشی کرد پاسخ کوتاه و تستی

۶- در رابطه با سلطان محمود غزنوی به سوالات زیر پاسخ کوتاه دهید

(۱) به کجا حمله کرد؟ به بهانهٔ رواج اسلام، پاسخ کوتاه و تستی

(۲) بهانه و هدف اصلی او از حمله چه بود؟ به طمع ثروت هنگفت در این کشور

(۳) کدام معبد را خراب کرد؟ تخریب معبد سومنات

۷- پس از سلطان محمود، پسرش سلطان **مسعود** حکومت را به دست گرفت. جای خالی و تستی و ص و غ

۸- سرانجام سلطان مسعود چه شد تستی و پاسخ کوتاه

از سلجوقیان شکست خورد و توسط سپاهیان خود به قتل رسید

۹- قدرت غزنویان بر اساس **نیروی نظامی** بود و در میان مردم مقبولیت **نداشت** جای خالی و تستی و ص و غ

۱۰- رابطه **غزنویان** با خلفای عباسی **دوستانه** بود و سلطان محمود خود را مطیع خلیفه عباسی می دانست

۱۱- سلجوقیان گروهی از ترکان که در **ماوراالنهر** زندگی می کردند تستی و ص و غ و جای خالی

۱۲- طغرل بعد از شکست سلطان مسعود در کجا بر تخت نشست و نام جنگ چه بود تستی و جای خالی

طغرل پس از شکست مسعود غزنوی در **نیشابور** بر تخت نشست اسم این **نبرد دندانقان** بود

۱۳- اقدامات **طغرل** را بنویسید

(۱) حکومت شیعه آل بویه را برانداخت تشریحی

(۲) خلفای فاطمی **مصر** را از بین برد

(۳) تسخیر مناطق مختلف ایران و عراق

۱۴- خلیفه عباسی به سبب اقدامات طغرل او را لقب رکن الدین داد	تستی و پاسخ کوتاه
۱۵- آلب ارسلان برادر زاده و جانشین طغرل بود	تستی و پاسخ کوتاه
۱۶- آلب ارسلان با راهنمایی وزیرش خواجه نظام الملک توانست بر استحکام حکومت سلجوقی بیفزاید	تستی و پاسخ کوتاه
۱۷- آلب ارسلان به ارمنستان و گرجستان لشکر کشی کرد	تستی و پاسخ کوتاه
۱۸- نبرد ملازگرد را شرح دهید و نتیجه آن چه شد	تشریحی و تستی
آلب ارسلان در نبرد ملازگرد رومیان را شکست داد و امپراتور روم شرقی را به اسارت گرفت در نتیجه ی پیروزی آلب ارسلان در نبرد ملازگرد ، بخشهای وسیعی از آسیای صغیر به تصرف سپاهیان سلجوقی درآمد	
۱۹- نکات تستی :	تستی و پاسخ کوتاه
(۱) ملکشاه ، پسر آلب ارسلان، از دیگر پادشاهان مشهور سلجوقی بود.	
(۲) ملکشاه مناطقی از ماوراءالنهر و شام را فتح و حکومت سلجوقیان را به اوج قدرت رساند	
(۳) در دوره ملکشاه ، محدوده جغرافیایی ایران با زمان ساسانیان برابری می کرد و از ماوراءالنهر در شرق تا دریای مدیترانه در غرب گسترش یافته بود.	
(۴) پایتخت سلجوقیان اصفهان بود	
(۵) خوارزمشاهیان : سرزمین خوارزم در جنوب دریاچه ارال قرار داشت و به شاهان خوارزمشاه می گفتند	
۲۰- علل محکم نبودن پایه های خوارزمشاه :	
(۱) خلیفه عباسی آن ها را به رسمیت نمی شناخت	تشریحی
(۲) بر فرمانروایان محلی تسلط نداشتند	
(۳) با حمله چنگیز خان مغول خوارزمشاهیان شکست خوردند	
😊 صفاریان و سامانیان و آل بویه برعکس غزنویان از محبوبیت و مقبولیتی در بین توده ی مردم داشتند	
😊 خوارزمشاهیان، نخست دست نشانده ی سلجوقیان بودند	تستی - جای خالی - ص و غ - پاسخ کوتاه
😊 سرانجام یکی از فرمانروایان خوارزم آخرین سلطان سلجوقی را شکست داد	ص و غ

نام و نام خانوادگی :

تاریخ :

پایه : هشتم

۱- از بین سه سلسله ترک تبار کدام سلسله اهمیت بیشتری داشتند چرا؟

سلجوقیان به دلیل

(۱) نقشی که در ایران و سایر کشورهای اسلامی داشتند

(۲) وسعت قلمرو

۲- تشکیلات حکومتی در دوره سلجوقیان را نام برده و وظایف هر یک را بنویسید : شاهان - وزیران

(۱) شاهان : در راس حکومت سلجوقی سلطان بود و قدرت سیاسی و نظامی در اختیار آنها بود.

(۲) از مهمترین وظایف وزیران : **تنظیم رابطه سلطان با خلیفه و فرمانروایان بود**

نکات تستی و ص و غ و پاسخ کوتاه

😊 وزارت: از مهم ترین مقام هایی که در عهد سلجوقیان وجود داشت وزارت بود

😊 حکومت سلجوقی قدرت و عظمت خود را با سیاست و کفایت وزیران ایرانی به دست آورده بود

😊 خلیفه عباسی ریاست معنوی و دینی داشت و قدرت سیاسی و نظامی از آن سلاطین بود

😊 شاهان برای **مشروعیت بخشیدن و جلب نظر مردم خود** را مطیع دستگاه خلافت نشان می دادند

😊 قدرت امپراتوری سلجوقیان مدیون وزیران ایرانی بود

😊 تدبیر وزیران باعث بهبود اوضاع اقتصادی - فرهنگی - کشاورزی - بازرگانی - هنر و معماری شد

۳- سلجوقیان بیابانگرد و گله دار بودند و به زور شمشیر امور را بدست گرفتند و از شهر نشینی و کشور داری بی خبر بودند

۴- وزیران ایرانی سلجوقیان :

(۱) عمید الملک کندی وزیر طغرل

(۲) خواجه نظام الملک توسی وزیر الب ارسلان و ملکشاه

😊 دوره **سلجوقیان** از نظر گسترش دانش و هنر و ادب از دوره های ممتاز تاریخ بود

۵- مواردی که در دوره سلجوقیان گسترش یافت


(۱) مدارس نظامیه


(۲) گسترش زبان و ادبیات فارسی


(۳) رونق و توسعه شهرها و معماری

(۴) هنر

۶- مدارس نظامیه :

پس از ورود اسلام به ایران کلاسها در **مساجد** برگزار می شد ولی در دوره سلجوقی در مدارس نظامیه 

خواجه نظام الملک مدارس نظامیه را در نیشابور - اصفهان - بغداد بوجود آورد 

امام محمد غزالی از استادان این مدارس و سعدی از شاگردان این مدارس بود 

در **خراسان** در این دوره بیشتر مدرسه بود بطوریکه در آستانه **هجوم مغولان** بزرگترین مرکز علمی ، ادبی و مذهبی ایران بود 

۱۲- گسترش زبان و ادبیات فارسی در دوران غزنوی و سلجوقی را شرح دهید

در دوره غزنوی :

شگر کشی محمود غزنوی به هند باعث رواج فارسی در آن دیار شد

در دوره سلجوقی :

۱) سلجوقیان زبان فارسی را به آسیای صغیر بردند

۲) در ابتدای سلجوقی نامه ها و فرمانهای حکومتی از **عربی به فارسی** تغییر یافت

۱۳- رونق و توسعه شهرها و معماری

در دوره سلجوقی به چه دلیل شهر نشینی گسترش یافت ؟ آرامش و رونق تجاری

پایتخت سلجوقیان را نام ببرید ؟ ری و نیشابور و اصفهان


سلجوقیان در ساختن مساجد ایرانی چه ابتکاری داشتند ؟ حیاط و چهار ایوان

جر کاری و کاشیکاری **در قرن ۵ تا ۷**

از ابتکارات مهم معماری ایرانی برای تزیین بناها چه بود ؟ کاشیکاری

۱۴- هنر سلجوقی :


ظروف سفالین لعاب دار و بدون لعاب ظروف طلایی یا زرین فام خوشنویسی و تذهیب و جلد چرمی برای کتاب و نقش روی آن


سلجوقیان تشکیلات اداری و حکومتی خود را براساس تشکیلاتی که از **سامانیان و غزنویان** به جای مانده بود، 


پایه گذاری کردند.

سلاطین سعی می کردند برای **مشروعیت بخشیدن به حکومت خود و جلب نظر مردم**، خود را مطیع و پشتیبان دستگاه 

خلافت نشان دهند.

قرن ۵ و ۶ زبان فرمانروایان **ترکی** بود 

در دوره سلجوقی زبان فارسی - عربی - ترکی رواج داشت 

در دوره غزنوی زبان فارسی رایج بود 

در دوره خوارزمشاهیان زبان فارسی - عربی - ترکی رایج بود 

۱- مغولان چه کسانی بودند ؟ تشریحی - ص و غ - تستی

یکی از قبایل بیابانگرد که در شمال چین و جنوب سیبری می زیستند شیوه زندگی آنها به دلیل آب و هوای سرد و خشک کوچ نشینی و دامداری بود

۲- مغولان به دلیل افزایش جمعیت و کمبود مراتع و آب به غارت یکدیگر و همسایگان روی آوردند پاسخ کوتاه - تستی

۳- ویژگی های چنگیز خان

- 😊 رئیس قبیله مغول بود تستی
- 😊 برای اداره کشور قوانین یاسای چنگیزی را تدوین و اجرا کرد
- 😊 مردی بی رحم و زیرک بود
- 😊 مهارت در فنون رزمی داشت و استاد حيله های جنگی بود

۴- مغولان به ترتیب به کدام مناطق حمله کردند

- ۱- چین و شهر ثروتمند پکن تستی و تشریحی
- ۲- فتح غرب مغولستان (به مرزهای ایران نزدیک شدند)
- ۳- ایران

😊 مغولان در زمان خوارزمشاهیان به ایران حمله کردند جای خالی - تستی - پاسخ کوتاه

۵- مغولان چرا به ایران حمله کردند تشریحی - تستی

بعد از کشته شدن یک کاروان تجاری مغول به جرم جاسوسی بدستور سلطان محمد خوارزمشاه چنگیز خان این موضوع را بهانه قرار داد و در سال ۶۱۶ ق به ایران حمله کرد

۶- سلطان جلال الدین، پسر و جانشین سلطان محمد خوارزمشاه، به چه دلیل نتوانست در جنگ با مغولان کاری از پیش ببرد تستی

به دلیل اختلافات و درگیری های داخلی و یاری ندادن حاکمان محلی و خلیفه عباسی

۷- یکی از تلخ ترین و سخت ترین دوران تاریخی برای مردم ایران حمله مغولان بود که در قرنهای هفتم تا نهم هجری یکی از فجایع بود ، تستی

😊 پس از مرگ چنگیز، هلاکوخان نوه ی او جانشین او شد تستی

۸- اقدامات هلاکو خان را بنویسید

- 😊 اسماعیلیان ایران را از بین برد و قلعه های آنان را ویران کرد؛ تشریحی
- 😊 با تسخیر بغداد و کشتن خلیفه خلافت عباسی را برانداخت
- 😊 ایلخانان را تاسیس و ۸۰ سال بر ایران حکومت کرد

۹-در دوره ایلخانان وضعیت ایران

- ایران از نظر سیاسی یکپارچه و متحد بود 😊
- سرداران محلی تحت حاکمیت مغولان بودند 😊
- با سایر حکومت های مغولی در آسیا و اروپا ارتباط برقرار کردند 😊
- پس از مرگ **آخرین ایلخان مغول (ابوسعید)** حکومت فروپاشید و اتحاد از بین رفت 😊

۱۰-اروپاییان پس از جنگ های صلیبی علاقمند بودند با کشورهای مسلمان و آسیایی ارتباط **سیاسی و بازرگانی** برقرار کنند

۱۱- **همزمان با فروپاشی ایلخانان** قیامهای مردمی ایجاد شد که **مهمترین آنها سربداران** بود
تستی - جای خالی

۱۲- در رابطه با قیام سربداران به سوالات پاسخ دهید

- ۱- این قیام در کجا آغاز گشت : **در روستای باشتین در سبزوار**
پاسخ کوتاه
- ۲- بر اثر تعلیمات چه کسانی آماده مقابله با ظلم مغولان شدند : **شیخ خلیفه و شیخ حسن جوری**
- ۳- سربداران پشتیبان کدام مذهب بودند : **شیعه**
- ۴- توسط کدام حکومت از بین رفتند : **تیموریان**
- ۵- شعار آنها چه بود : **سر به دار می دهیم تن به ذلت نمی دهیم**

۱۳- هجوم تیمور به ایران :

- در اواخر قرن ۸** از شمالشرقی به ایران حمله کردند 😊
- یکی از فاتحان مشهور تاریخ است 😊
- بخشی از آسیا را فتح و امپراتوری تیموری را بنیان نهاد 😊
- پایتخت وی **سمرقند** بود کرد 😊
- او پس از تسلط بر ماورا النهر چندین بار به ایران حمله کرد 😊
- امپراتوری تیموری : **از چین تا شام** 😊
- پس از تیمور شاهرخ پسر تیمور، جانشین شد بعد **با حکومت صفوی** از بین رفتند 😊

۱۴- یکی از اصول مهم «**یاسا**» آن بود کسانی که خود را تسلیم سپاه مغول می کردند، از قتل و غارت در امان بودند،

ما آنان که مقاومت می کردند، باید قتل عام و غارت می شدند
تشریحی

قبایل مغول تا پیش از چنگیزخان پراکنده بودند و حکومتی نداشتند. 😊

هلاکو مامور شد فتوحات مغول را در ایران و دیگر بخش های جهان اسلام، کامل کند 😊

نام و نام خانوادگی :

تاریخ :

پایه : هشتم

۱- دانشمندان و بزرگان ایرانی کوشیدند خوی خشن و ویرانگر مغول را مهار کنند و مغولان را با فرهنگ

ص و غ

ایرانی اسلامی آشنا کنند و راه و رسم کشور داری را به آنان بیاموزند

پاسخ کوتاه - تستی

۲- خواجه نصیرالدین طوسی

یکی از دانشمندان مسلمان ایرانی بود که **مشاور هلاکو خان** بود

یکی از کارهای با ارزش وی تشویق هلاکو خان به ساختن **رصد خانه مراغه** بود

رصد خانه مراغه به وسایل **اختر شناسی و کتابخانه بزرگی** مجهز بود

تستی - پاسخ کوتاه -

۳- خواجه رشیدالدین فضل الله همدانی

یکی از پزشکان دربار ایلخانان که خدمات **فرهنگی و اجتماعی** فراوانی انجام داد

یکی از کارهای وی **ربع رشیدی در تبریز** بود که شامل مسجد و مدرسه و بیمارستان و خانقاه و کتابخانه بود

کتاب **جامع التواریخ رشیدی** معروفترین کتاب وی است

او به دستور **ایلخان مغول** به قتل رسید

ص و غ پاسخ کوتاه

۴- دین مغولان چه بود

دین واحدی نداشتند :

عده ای به آیین گذشتگان - عده ای پیرو بودا- عده ای پیرو مسیح

در دوره مغولان چرا مبلغان مسیحی و بودایی کوشش زیادی برای تبلیغ دین خود کردند اما موفق نشدند

چون مردم ایران اعتقاد محکمی به اسلام داشتند

سرانجام در اثر کوشش وزیران و عالمان مردم ایران مسلمان شدند

ص و غ

۵- غازان خان با تشویق وزیر خود خواجه رشیدالدین فضل الله اقدام به چه کارهایی کرد

پاسخ کوتاه - تستی

بازنگری و اصلاح امور **اداری و مالی و قضایی** کرد

تشریحی - پاسخ کوتاه

۶- شب غازان در زمان چه کسی و در کجا برپا شد و شامل چه مکانهایی بود

در **تبریز دوازده بنای** مهم مانند بیمارستان و مسجد و کاخ و مدرسه و کتابخانه را بر پا کرد

تشریحی

جانشین غازان خان چه کسی بود ؟ سلطان محمد خدا بنده (اولجایتو)

او به پیشنهاد شیخ فضل الله پایتخت را به کجا برد ؟ به سلطانیه نزدیک زنجان برد

در سلطانیه آرامگاه **گنبد سلطانیه** را بنا نهاد و **یکی از شاهکارهای معماری در جهان اسلام است**

ص و غ - پاسخ کوتاه - تستی

۸- ابو سعید جانشین اولجایتو :

در دوران ایشان **گچبری و کاشیکاری ، گنبد و ایوان** کم نظیر نبوغ معماری ایرانی را نشان می داد

۹- در زمان **شاهرخ پسر تیمور** : هنر و ادبیات و معماری رشد چشمگیری داشت

ص و غ

هرات پایتخت تیموریان بعنوان بزرگترین و با شکوهترین شهرهای ایران تبدیل شد

۱۰- گوهر شاد : همسر شاهرخ بناهای بسیاری در **هرات و مشهد** ساخت که مسجد گوهرشاد در جوار امام رضا یکی

از آنهاست پاسخ کوتاه - تستی

😊 **شاهنامه بایسنقری** به دستور **بایسنقر میرزا شاهزاده تیموری** نگارگری و تذهیب شد

😊 شاهنامه بایسنقری از نظر **کتاب آرایی و ارزش هنری**، اهمیت فراوانی دارد

😊 در دوره ی تیموریان، هنر **نگارگری (نقاشی) و خوشنویسی** شکوفا شد پاسخ کوتاه - ص و غ

نام و نام خانوادگی :

تاریخ :

پایه : هشتم

۱- قاره ها خشکی های بزرگ و یکپارچه ای هستند که توسط دریاها از هم جدا می شوند

۲- خشکی های جهان به هفت قاره بزرگ تقسیم می شوند که به ترتیب وسعت

آسیا - آفریقا - آمریکای شمالی - آمریکای جنوبی - قطب جنوب - اروپا - **اقیانوسیه** اقیانوسیه کوچکترین

۳- جمعیت ساکن در زمین هفت میلیارد نفر است

۴- آسیا پرجمعیت ترین و وسیع ترین قاره جهان است بیش از ۴ میلیارد نفر در آسیا زندگی می کنند

۵- قاره آسیا از قطب شمال تا جنوب استوا امتداد یافته و بیشترین قسمت آن در نیمکره شمالی است

۶- آسیا از

😊 شمال به اقیانوس منجمد شمالی

😊 از جنوب به اقیانوس هند

😊 از شرق به اقیانوس آرام منتهی می شود

۷- قاره آسیا از طریق **تنگه برینگ** از امریکای شمالی جدا می شود

قاره آسیا از طریق **کانال سوئز** از قاره آفریقا جدا می شود

کوههای اورال مرز بین آسیا و اروپا را تعیین می کند

۸- اوراسیا: به دلیل اینکه دو قاره آسیا و اروپا به هم چسبیده اند گاهی به این دو قاره اوراسیا می گویند

۹- ناهمواریهای آسیا :

😊 فلاتهای بلند و کوههای مرتفع

😊 سرزمین های پست

😊 مجمع الجزایر آتشفشانی

۱۰- فلاتهای بلند و کوههای مرتفع :

😊 فلات های اناتولی ، ایران ، تبت و مغولستان در آسیا از غرب به شرق کشیده شده اند

😊 قله اورست در رشته کوه هیمالیا بلندترین قله جهان است و به آن بام دنیا لقب داده اند

۱۱- سرزمینهای پست :

چند مورد از جلگه های آسیا :

😊 جلگه ی بزرگ سیبری، جلگه ی گنگ و سند و جلگه ی چین

😊 جلگه سیبری از ابرفت رود پنی سئی بوجود آمده

😊 جلگه گنگ و سند از ابرفت رودهای گنگ و سند بوجود آمده و این رودها از رشته کوه هیمالیا سرچشمه می گیرد

😊 جلگه گنگ و سند شمال هند ، بخش وسیعی از پاکستان و بنگلادش را در بر می گیرد

😊 یکی دیگر از جلگه های پهناور آسیا، جلگه بزرگ چین در شرق آسیا است.

😊 جلگه چین از ابرفت رود یانگ تسه کیانگ بوجود آمده است

۱۲- دلتا ▲ از انباشته شدن ابرفت ها در مصب رودها سرزمین های مثلث شکلی بوجود می آید که به ان دلتا می گویند

😊 دلتاها زمین های مناسبی برای کشاورزی بوده و جمعیت زیادی را در خود جای داده است

😊 ساکنان دلتا همیشه در معرض خطراتی چون طوفانهای دریایی ، طغیان رود و سیلاب هستند

😊 دلتای بنگال از ابرفت رودهای گنگ و براهماپوترا بوجود آمده و خاک کشور بنگلادش را تشکیل می دهند

۱۳- مجمع الجزایر آتشفشانی :

😊 در مشرق و جنوب شرقی آسیا در کناره اقیانوس آرام مجمع الجزایر ژاپن ، فلیپین و اندونزی بوجود آمده اند

😊 چرا در شرق و جنوب شرقی آسیا بلایای طبیعی و کوه های آتشفشانی بیشتر است؟

به علت جوان بودن ناهمواری های شرق و جنوب شرق آسیا کوههای آتشفشانی زیادی در انجا وجود دارد

و همچنین در معرض زمین لرزه ، سونامی و فعال شدن کوههای آتشفشانی می باشد

۱۴- دما در آسیا :

😊 قطب شمال در سیبری : سرد و یخبندان طولانی

😊 بخش های داخلی و مرکزی آسیا : اب و هوای قاره ای یا بری(خشک)

😊 سرزمین های مجاور دریا از سرخ تا تایوان در شرق چین : اب و هوای گرم و مرطوب

۱۵- اب و هوای قاره ای یا بری : زمستان بسیار سرد ، تابستان بسیار گرم و خشک

۱۶- بارش در آسیا :

😊 آسیای مرطوب (سبز) : شرق و جنوب و جنوب شرق آسیا در معرض باد های موسمی قرار دارند

😊 آسیای خشک : غرب و جنوب غربی آسیا شامل عربستان ، فلات اناتولی و فلات ایران و آسیای مرکزی (بیابان گبی)

۱۷- در شرق و جنوب شرق آسیا بادهای موسمی در اواخر بهار و تابستان از اقیانوس به خشکی می وزند و موجب بارش می شود

اثرات مثبت و منفی بارانهای موسمی :

اثر مثبت: زندگی روستایی و کشاورزی در شرق و جنوب شرقی آسیا به ریزش باران موسمی بستگی دارد

اثر منفی: اگر بارش کم یا نامنظم باشد کشاورزان خسارت می بینند و ریزش باران موسمی هم موجب طغیان رودها و

بروز سیل در شرق و جنوب شرق آسیا می شود

۱۸- چرا هوای تبت مانند نواحی قطبی و شمال آسیا سرد است؟

به علت ارتفاع زیاد سرزمین (فلات) تبت و کوه های بسیار بلند آن هوای تبت سرد است

۱۹- بادهای موسمی از سمت کدام اقیانو سها به مشرق و جنوب شرقی آسیا م یوزند؟

از اقیانوس آرام و هند به سمت مشرق و جنوب شرقی آسیا می وزند.

۲۰- چرا بادهای موسمی نمی توانند به آسیای مرکزی و بیابان گبی نفوذ کنند

به علت دور بودن از اقیانوسها (آرام و هند) و وجود کوه های بلند هیمالیا

۲۱- چرا سرزمین های جنوب آسیا در بیشتر مواقع سال آب و هوای گرم دارند؟

زیرا این سرزمین ها به استوا نزدیک هستند و اشعه خورشید به صورت عمود به این نواحی می تابد.

۲۲- وزش کدام یک از بادهای کشور ما را تحت تأثیر قرار می دهد

مدیترانه ای

😊 آسیا هم وسیع ترین و هم پر جمعیت ترین قاره جهان است

😊 ۶۰ درصد جمعیت جهان در اسیا زندگی می کنند ولی جمعیت در همه جای این قاره یکسان نیست

😊 نواحی مرتفع مانند **تبت و هیمالیا و بیابانهای وسیع** خالی از جمعیت یا کم جمعیت است

😊 در **مشرق و جنوب شرق اسیا** جمعیت زیادی بصورت **مترکم** زندگی می کند

😊 پر جمعیت ترین کشورهای جهان **چین و هند** هستند

😊 چین و هند تنها کشورهای جهان هستند که بیش از یک میلیارد نفر جمعیت دارند

😊 **جاوه در اندونزی** با ۱۴۱ میلیون نفر **(به اندازه جمعیت روسیه)** پر تراکمترین منطقه جهان از نظر جمعیت است

😊 بیشتر جمعیت اسیا از **نژاد زرد و بقیه سفید پوست** هستند

😊 در **جنوب اسیا** نژادهای سیاه و دورگه که از ازدواج نژادهای مختلف بوجود آمده زندگی می کنند

😊 مردم اسیا به صدها زبان و لهجه صحبت می کنند

😊 **آسیا** مهد ادیان بزرگ جهان است

😊 سه دین بزرگ **یهود ، مسیحیت و اسلام** علاوه بر اسیا در سایر قاره ها نیز انتشار یافته

😊 حدود **۶۰ درصد** مسلمانان در اسیا زندگی می کنند

😊 خاستگاه دین اسلام در **عربستان** است

😊 فرهنگ و تمدن اسلامی را می توان از غرب تا شرق اسیا مشاهده کرد

😊 بخش عمده ای از مردم اسیا به کار **کشاورزی** مشغولند

😊 مهمترین محصول کشاورزی در اسیا **برنج** است و غذای اصلی مردم این قاره است

😊 **۹۰ درصد برنج** جهان در **اسیا** تولید و به دلیل جمعیت زیاد مصرف می شود

😊 ژاپن، چین، روسیه، هند، کره جنوبی، ایران، پاکستان، اندونزی، تایوان و مالزی از کشورهای قدرتمند آسیا در زمینه

اقتصاد، صنعت و کشاورزی هستند

😊 **ژاپن و روسیه** جز کشورهای **گروه هشت** هستند

😊 **چین و هند** نیز در **پیمان اقتصادی بریکس** حضور دارند.

😊 چین در دو دهه اخیر میزان تولیدات خود را افزایش داده و درآمد اقتصادی و زندگی مردم را بهتر کرده

😊 **چین** از برترین قدرت های اقتصادی جهان به شمار می رود.

😊 امروزه اغلب بازارهای دنیا انواع کالاهای چینی به فروش می رسد

😊 در دهه های اخیر کره جنوبی و تایوان و هنگ کنگ و سنگاپور در صادرات لوازم الکترونیکی و کامپیوتری ،

لوازم خانگی و اتومبیل پیشرفت کرده اند و به آنها ببرهای اقتصادی آسیا گویند و صادرات را هدف اقتصادی خود قرار دادند

😊 مالزی در صنعت و کسب درآمد پیشرفت زیادی در دو دهه اخیر داشته

😊 تحولات اقتصادی سبب مهاجرت روستاییان به شهر شده و امروزه با بیش از ده میلیون شهر نشین جمعیت شهری

بیش از سایر قاره هاست

😊 شهرهایی مانند توکیو در ژاپن، بمبئی در هند و تهران از پرجمعیت ترین شهرهای آسیا هستند.

😊 اطلس کتابی که مجموعه ای از نقشه ها در آن گردآوری شده است

😊 استفاده از اطلس باعث می شود که ما بهتر درباره کشور و نواحی مختلف جهان بیاموزیم

😊 برای هر قاره یا ناحیه دو نوع نقشه در اطلس وجود دارد

😊 نقشه طبیعی : رشته کوهها ، فلاتها ، دریاها ، رودخانه ها نمایش داده می شود و اطلاعات شهرها و کشورها کم است

😊 نقشه سیاسی : مرز کشورها ، ایالت ها ، استانها ، پایتخت ها و شهرهای مهم

😊 جاذبه های گردشگری در آسیا : دیوار چین در چین ، تاج محل در هند ، سی و سه پل در ایران

فعالیت

۱- چرا در مشرق و جنوب شرقی آسیا تراکم زیاد است

ب و هوای گرم و مرطوب ، زمینهای جلگه ای و حاصلخیز ، بارندگی فراوان ، پوشش گیاهی انبوه

۲- کدام نواحی آسیا بسیار کم جمعیت یا خالی از جمعیت است چرا ؟

فلات تبت ، عربستان ، آسیای شمال شرقی

قرار گرفتن در داخل کوههای بلند و دوری از دریاها و بادهای باران آور

نام و نام خانوادگی :

تاریخ :

پایه : هشتم

۱- ایران در جنوب غربی آسیا قرار دارد

۲- اگر منطقه جنوب غرب آسیا را داخل یک مثلث قرار دهیم اضلاع این مثلث

😊 تنگه بسفر و داردانل در ترکیه

😊 کوههای پامیر در مشرق

😊 خلیج عدن و باب المندب (جنوب)

۳- ویژگی های طبیعی جنوب غرب آسیا

😊 ناهمواری

😊 آب و هوا

۴- ناهمواری :

😊 کوههای بلند ایران که به ارتفاعات ترکیه و قفقاز می پیوندند

😊 جلگه بین النهرین در غرب ایران و جلگه سند در شرق ایران از سرزمینهای پست و جلگه ای هستند

😊 بیابان بزرگ عربستان ، دشت کویر و دشت لوت از نواحی پست و خشک است

۵- آب و هوا :

😊 نواحی مرتفع و کوهستانی در زمستان سرد و تابستان معتدل است

😊 بخش های وسیعی از منطقه گرم و خشک یا نیمه خشک است

😊 سواحل گرم خلیج فارس ، دریای عمان و اقیانوس هند و دریای سرخ گرم بوده و به علت نزدیکی به دریا دارای رطوبت

بالا بوده و حالت شرجی دارد

😊 اطراف دریای مدیترانه آب و هوای مدیترانه ای دارد

😊 جلگه بین النهرین از ابرفت رودهای دجله و فرات بوجود آمده

😊 جلگه سند از ابرفت رودهای گنگ و سند بوجود آمده

😊 بیابان بزرگ عربستان ربع الخالی در عربستان ۶۴۰۰۰۰ کیلومتر مربع وسعت دارد (۲/۵ برابر انگلستان)

😊 به علت وسعت زیاد و تنوع ناهمواریهای جنوب غرب آسیا آب و هوای گوناگونی دارد

😊 بیابانهای وسیع جنوب غرب آسیا اب و هوای گرم و خشک دارد

😊 کمبود آب شیرین یکی از مسائل مهم جنوب غرب آسیا است که باعث اختلاف و درگیری بین کشورها بر سر منابع آبی

رودخانه ها شده است

😊 اب و هوای مدیترانه ای : زمستان پر باران و معتدل و تابستان گرم و خشک

😊 جنوب غرب آسیا یکی از نخستین کانونهای تمدنی جهان است

😊 پر تکلم ترین زبانها در جنوب غرب اسيا عربی ، فارسی ، ترکی و اردو است

😊 جنوب غرب اسيا کانون ظهور ادیان توحیدی است و ادیان الهی یهود و مسیحیت و اسلام در ان ظهور کرده

😊 جنوب غرب اسيا قلب تمدن اسلامی است و بیش از ۹۰ درصد ان مسلمان هستند

😊 بیشتر کشورهای جنوب غرب اسيا ذخایر نفت و گاز دارند و بیشتر آنها به صادرات نفت وابسته هستند و وارد کننده

ماشین الات ، مواد غذایی ، دارو و کالاهای مصرفی از کشورهای پیشرفته هستند

😊 کشور عربستان علاوه بر صادرات نفت درآمد زیادی از مراسم حج و سفر زائران بدست می آورد

😊 ترکیه و امارات از طریق گردشگری تجارت و بازرگانی درآمد بدست می آورند

😊 عراق و افغانستان به دلیل جنگ و اشغال نظامی توسط امریکا و نبودن امنیت نتوانسته از نظر اقتصادی پیشرفت کنند

😊 دو کشور وسیع جنوب غرب اسيا : عربستان و ایران

😊 جنوب غرب اسيا به کدام قاره ها متصل هستند ؟ اروپا و افریقا

۶- آب و هوای گرم و خشک (عربستان و بیابانهای ایران)

ب و هوای گرم و شرجی (سواحل جنوبی ایران و سواحل کشورهای پاکستان)

ب و هوای مدیترانه ای (ترکیه و لبنان)

۷- کدام عوامل مردم منطقه آسیای جنوب غربی را به هم نزدیکتر می کند؟

دین اسلام - زبان عربی - داشتن منابع نفت و گاز - پیوند تاریخی و فرهنگی

😊 با توجه به **وسعت زیاد و تنوع ناهمواری ها**، در این منطقه آب و هوای گوناگونی به وجود آمده است

۱- ایران در منطقه جنوبغربی آسیا که یکی از مناطق استراتژیک جهان است واقع شده است

۲- دلایل استراتژیک بودن جنوب غرب آسیا :

😊 محل اتصال ۳ قاره آسیا و اروپا و آفریقا است

😊 انبار مهم منابع انرژی در جهان است

😊 کانون جهان اسلام است

۳- آبراهه های مهم این منطقه : تنگه های هرمز ، بسفر ، داردانل و باب المندب

۴- از طریق آبراهه ها دریاها بهم متصل و به اب های ازاد اقیانوسها راه می یابند

۵- علت اهمیت بندر گاه سواحل دریا : حمل و نقل ارزان کالا و انرژی

۶- حدود $\frac{2}{3}$ ذخایر شناخته شده نفت و حدود $\frac{1}{3}$ منابع گازی جهان در این منطقه است

که البته بخش بزرگی از آنها در منطقه **خلیج فارس** واقع است

۷- کشورهای عمده صادرات نفت : عربستان ، ایران ، عراق ، کویت و امارات متحده عربی در این منطقه است

😊 اقتصاد و صنعت جهان به منابع انرژی جنوب غرب آسیا وابسته است

😊 مکه و مدینه مقدس ترین شهرهای مسلمانان هستند

😊 بر خی کشورهای منطقه سعی می کنند که از طریق پیمان های **اقتصادی و فرهنگی** با یکدیگر، بیشتر همکاری کنند

😊 پیمان اقتصادی **اگو** در سال ۱۳۴۱ بین ایران و پاکستان و ترکیه است هم اکنون ده کشورمنطقه عضو آن هستند.

۸- چرا جنوب غرب آسیا پر تنش است

😊 منابع عمده انرژی مورد نیاز کشورهای صنعتی و راههای مهم حمل و نقل دریایی است

😊 وابستگی بعضی کشورها ی منطقه به قدرت های بزرگ از نظر سیاسی

😊 سرکوب مردم فلسطین بوسیله اسرائیل

😊 ایجاد پایگاه نظامی آمریکا و انگلستان و...در این منطقه

۹- اسرائیل با حمایت آمریکا و انگلیس مردم فلسطین را سرکوب می کند و به دشمنی با مسلمانان منطقه می پردازد

۱۰- **آمریکا و انگلیس** برای **حفظ منافع خود** پایگاه نظامی ایجاد کرده و در آنها تسلیحات و نیروی نظامی مستقر کرده اند

😊 مهمترین جزایر ایران : خارک ، کیش ، قشم ، لاوان ، تنب بزرگ و کوچک و ابوموسی

😊 اهمیت جزایر ایران : استخراج نفت ، بازرگانی ، تجارت و نظامی

😊 تنگه هرمز یک آبراهه بین المللی است که همه کشورها حق دارند با کشتی از آن عبور کنند

😊 نیروی دریایی در زمان صلح حافظ منافع کشور در دریاها هستند و زمانی که حوادثی برای کشتی ها پیش آید به آنها

کمک می کنند

فلسطین :

😊 **فلسطین**، مهم ترین مسئله جهان اسلام

😊 مهد ادیان الهی و محل زندگی بسیاری از پیامبران بوده

😊 کشور فلسطین در محل تقاطع و لولای سه قاره **آسیا، افریقا و اروپا** قرار دارد

😊 یکی از مهم ترین آبراه های جهان از این منطقه و نزدیک فلسطین عبور می کند و ارتباط بین غرب و شرق را فراهم

می کند (مسیر آبی دریای مدیترانه دریای سرخ اقیانوس هند)

۱۱- چرا تشکیل دولت جعلی اسرائیل در قلب دنیای اسلام (فلسطین)، دارای یک هدف بلند مدت استکباری است

اگر زمانی دولت اسلامی مقتدری در این منطقه به وجود آمد، اسرائیل با آن مقابله کند و بتواند جلوی نفوذ آن را بگیرد.

۱۲- مقیاس : به ما نشان می دهد که فاصله روی نقشه روی زمین چقدر است

۱۳- اگر مقیاس نقشه با اعداد و به صورت کسری نمایش داده شود به آن مقیاس عددی (کسری) می گوئیم

۱۴- بعضی مواقع برای نشان دادن مقیاس از یک خط در زیر نقشه استفاده می کنند که به اون مقیاس خطی می گن. مثل شکل



مفهوم این خط مقیاس این همیشه که هر پنج سانتی متر از نقشه شما پنج کیلومتر روی زمین پس مقیاس نقشه همیشه

۵/۵۰۰۰۰ یا ۱/۱۰۰۰۰۰

😊 در نقشه ها ممکن است از مقیاس خطی یا مقیاس عددی و یا هر دو استفاده شود

مقیاس نقشه $\frac{1}{50000}$ است یعنی یک سانتی متر روی نقشه برابر با ۵۰۰۰۰ سانتی متر روی زمین

است حالا اگر فاصله دو نقطه را روی نقشه اندازه بگیریم و ۳ سانتی متر باشد فاصله روی زمین چند کیلومتر است

$$\text{مقیاس} = \frac{\text{فاصله دو نقطه بر روی نقشه}}{\text{فاصله همان دو نقطه روی زمین}}$$

$$\frac{1}{50000} = \frac{3}{x} \quad \frac{3 \times 50000}{1}$$

$$150000 / 100000 = 1.5 \text{ cm}$$

یک متر برابر با ۱۰۰ سانتی متر یک کیلومتر برابر با ۱۰۰۰ متر

برای تبدیل متر به سانتی متر ضرب در ۱۰۰

برای تبدیل سانتی متر به متر تقسیم بر ۱۰۰

برای تبدیل کیلومتر به متر ضرب در ۱۰۰۰

برای تبدیل متر به کیلومتر تقسیم بر ۱۰۰۰

اگر فاصله دو روستا بر روی نقشه ای با مقیاس

$$\frac{1}{100000}$$

حدود ۱۰ سانتی متر باشد فاصله این دو روستا روی

زمین چقدر است

فاصله شهر اهواز تا دریا ۶۰ کیلومتر و روی نقشه ۵ سانتی متر مقیاس این نقشه چقدر است

$$60 \times 1000 = 60000 \text{ M} \quad 60000 \times 100 = 6000000 \text{ C M}$$

$$\text{مقیاس} = \frac{\text{فاصله دو نقطه بر روی نقشه}}{\text{فاصله همان دو نقطه روی زمین}}$$

$$\text{مقیاس} = \frac{5}{600000} \quad \frac{1}{120000}$$

اگر طول رودی ۴۰۰۰۰ متر باشد و بر روی نقشه ۲ سانتی متر نمایش داده شود مقیاس چقدر است

در نقشه ای با مقیاس $\frac{1}{200000}$ فاصله تهران تا سمنان ۵ سانتی متر است فاصله واقعی این دو نقطه بر روی زمین چند سانتی متر ، متر و کیلومتر است

اگر فاصله دو شهر روی نقشه ۳ سانتی متر باشد و مقیاس این نقشه $\frac{1}{3000000}$ باشد فاصله واقعی این دو شهر روی زمین چند سانتی متر ، چند متر و چند کیلومتر است

فاصله دو شهر الف تا ب که ۸۰ کیلومتر است بر روی نقشه ۲ سانتی متر دیده می شود مقیاس نقشه را حساب کنید

فاصله تهران تا مشهد ۱۰۰۰ کیلومتر است همین فاصله روی نقشه ۵ سانتی متر است مقیاس چقدر است

نام و نام خانوادگی :

تاریخ :

پایه : هشتم

۱- قاره اروپا را می توان دنباله ی قاره پهناور آسیا یا بخشی از اوراسیا دانست.

۲- قاره اروپا از

😊 شمال به اقیانوس منجمد شمالی

😊 جنوب به دریای مدیترانه

😊 شرق به قاره آسیا

😊 غرب به اقیانوس اطلس

♥ اروپا کم وسعت ترین قاره جهان است

۳- ناهمواری های اروپا : اروپای پیر ، اروپای جوان

♥ اروپای پیر : در شمال اروپا ، فرسایش طولانی ، کوههای کم ارتفاع ، قله های گنبدی ، دره ها باز ،

جلگه پهناور ، دریاچه بسیار

♥ اروپای جوان : جنوب اروپا ، چین خوردگی و رشته کوههای بلند ، قله های نوک تیز ، شیب تند ، دره های تنگ

آتشفشان و زمین لرزه

♥ رشته کوه آلپ و پیرنه در اروپای جوان قرار دارد

♥ قله مون بلان با ارتفاع (۴۸۰۸) بلندترین قله رشته کوه آلپ است

♥ اروپا قاره های با آب و هوای معتدل، سرسبز و بدون بیابان است

۴- آب و هوا:

(۱) بخش شمالی اروپا (شبه جزیره اسکانديناوی و ایسلند) چون به قطب شمال نزدیک است آب و هوای قطبی و سرد دارد

(۲) مناطق مجاور اقیانوس اطلس (انگلستان و ایرلند) آب و هوای معتدل اقیانوسی دارد و عبور جریان دریایی آب گرم

گلف استریم از این سواحل در زمستان باعث می شود هوا ملایم تر شود

(۳) مناطق جنوبی اروپا که در سواحل مدیترانه واقع شده (اسپانیا ، ایتالیا) آب و هوای مدیترانه دارد

آب و هوای مدیترانه : زمستان معتدل و مرطوب و تابستان گرم و خشک

(۴) مرکز و شرق اروپا به دلیل دوری از دریاها آب و هوای قاره ای و بری دارد و میزان بارندگی کم است

۵- از رودهای پر آب و دائمی اروپا برای :

😊 آبیاری زمین های کشاورزی

😊 حمل و نقل و کشتیرانی

😊 تولید انرژی الکتریکی ،

🍷 قاره اروپا با وجود **وسعت کم ی کی** از **متراکم ترین** قاره های جهان است

۶- دلایل تراکم جمعیت در اروپا :

شرایط مساعد طبیعی : آب و هوای معتدل ، ریزش باران کافی ، رودهای پرآب و جلگه پهناور
پیشرفت علم و فناوری

🍷 با وجود جمعیت زیاد اروپا زاد و ولد در این قاره کم شده و رشد جمعیت کاهش یافته و به همین دلیل جمعیت

سالمندان افزایش یافته و جمعیت اروپا روبه پیری می رود

۷- اروپاییان از **نژاد سفید** هستند و بیشتر پیرو **دین مسیح** هستند

۸- دین مسیح به سه مذهب بزرگ **کاتولیک ، پروتستان و ارتدکس** تقسیم می شود

🍷 کاتولیک ها از رهبر مذهبی و روحانی خود **پاپ** که محل اقامت او در **واتیکان** است پیروی می کنند

🍷 **مسلمانان اروپا** بیشتر در شبه جزیره **بالکان** هستند

🍷 قاره اروپا از نظر اقتصادی پیشرفته است و میزان **درآمد ، سطح سواد ، بهداشت و طول عمر** در این قاره **بالاست**

۹- کشاورزی در همه جای اروپا با استفاده از **ماشین الات مدرن و شیوه های علمی** صورت می گیرد

🍷 در **جنوب اروپا** آب و هوای **مدیترانه ای** موجب شده محصولات **چون زیتون ، مرکبات و انگور** به عمل آید

🍷 دامداری و دامپروری در اروپا با شیوه های **صنعتی** انجام می شود و میزان تولید محصولات **گوشتی و لبنی** زیاد است

۱۰- کشورهای **هلند و دانمارک** از تولید کنندگان بزرگ فرآورده های گوشتی و لبنی است

۱۱- اروپا به خصوص **غرب آن**، از مناطق مهم صنعتی جهان است و انواع کالاها و ماشین آلات و ابزار را تولید و به کشورهای دیگر

صادر می کند

🍷 منابع زیر زمینی و معادن اروپا **نمی تواند** نیازهای صنایع این قاره را برآورده سازد و مواد اولیه (نفت) را وارد می کنند

🍷 کشورهای اروپایی سالیان دراز برای استفاده از منابع و معادن سایر سرزمین ها به استعمار دست زده اند

۱۲- دلایل جذب گردشگر در اروپا

😊 جاذبه های طبیعی و سواحل طولانی و افتابی

😊 ورزش های زمستانی در **آلب**

😊 جاذبه های تاریخی و فرهنگی : موزه ها ، کلیساها و بناهای تاریخی

۱۳- در زمینه جذب گردشگر مهمترین کشورهای اروپایی : **ایتالیا ، فرانسه و اسپانیا**

🍷 کشور واتیکان در شهر روم کوچکترین کشور جهان است

🍷 صنایع خودروسازی در آلمان

🍷 رودهای اروپا : دانوب - ولگا - راین - دن

🍷 **دانوب** طولی ترین رود اروپا است که از چند کشور عبور می کند.

نام و نام خانوادگی :

تاریخ :

پایه : هشتم

۱- قاره آفریقا با توجه به اینکه **دومین قاره وسیع جهان** است **جمعیت کمی** دارد و بخش های وسیعی از بیابان بزرگ آفریقا و جنگل های انبوه استوایی خالی از جمعیت است

۲- موانع افزایش جمعیت آفریقا در طول سالیان دراز :

عدم رعایت بهداشت ، خشکسالی و قحطی ، شیوع بیماریهای مختلف ، جنگ ها

۳- امروزه با **بهبود واکسیناسیون و بهداشت** رشد جمعیت و زاد و ولد در آفریقا افزایش یافته است

❤ بیشتر مردم آفریقا از نژاد **سیاه** هستند

❤ مردم شمال صحرای بزرگ آفریقا (مجاور دریای مدیترانه) و بخش کوچکی از جنوب آفریقا سفید پوست هستند

❤ ساکنان کشورهای شمال صحرای بزرگ آفریقا (مصر، الجزایر و مراکش) به زبان عربی صحبت می کنند

❤ زبان در آفریقا : زبان عربی ، زبان محلی ، زبان کشورهای قبلا آفریقا تحت استعمار آنها بوده مثل فرانسه و انگلیس

❤ دین در آفریقا : شمال آفریقا بیشتر مسلمان ، بعضی مناطق مسیحی ، بعضی مناطق مذاهب ابتدایی

❤ منابع طبیعی آفریقا (نفت ، طلا ، الماس، مس و جنگل های عظیم)

۴- مهمترین دلایل عدم پیشرفت در آفریقا : عوامل خارجی : استعمار کشورهای اروپایی و غارت منابع آنها ، دخالت کشورهای قدرتمند در ایجاد جنگ ها و بحران ها

عوامل داخلی : شرایط سخت محیطی ، شیوع بیماری ، بی سوادی ، جنگ های داخلی ، حکومت های وابسته و استبدادی

❤ آفریقا بیشتر صادر کننده محصولات معدنی و کشاورزی است و مواد اولیه برای کارخانه های کشورهای صنعتی

تولید می کند

❤ محصولات کشاورزی گرمسیری و استوایی آفریقا : قهوه ، کاکائو و کائوچو

❤ در اطراف دره نیل مزارع پنبه وجود دارد

❤ از جاذبه های مهم گردشگری در آفریقا : سواحل شمال آفریقا در کنار مدیترانه ، پارک ملی (وحش) و آثار باستانی

۵- قاره ی آفریقا بین کدامیک ازاقیانوس سها قرار گرفته است ؟ اقیانوس هند در شرق و اقیانوس اطلس در غرب

❤ این قاره از سواحل دریای مدیترانه تا دماغه ی امید نیک * امتداد یافته است.

❤ آفریقا، فلاتی وسیع و کم ارتفاع است و کوههای بلند کمتر در این قاره، دیده می شود

❤ تنها چین خوردگی مهم آفریقا درشما غربی این قاره، رشته کوه اطلس است

❤ در شرق آفریقا، قله های مرتفع کنیا و کلیمانجارو قراردارند

نام و نام خانوادگی :

تاریخ :

پایه : هشتم

😊 آمریکا قاره ای که از قطب شمال تا نزدیکی قطب جنوب کشیده شده

😊 آمریکا به دو قاره آمریکای شمالی و آمریکای جنوبی تقسیم شده

😊 آمریکای شمالی و جنوبی بوسیله خشکی باریکی به نام **آمریکای مرکزی** به هم وصل شده

😊 آمریکا بین دو اقیانوس **ارام و اطلس** قرار دارد

😊 تا قبل از **کانال پاناما** کشتی ها برای عبور از اقیانوس اطلس به آرام مجبور بودند دور آمریکای جنوبی را بزنند

😊 ناهمواریهای آمریکا :

😊 چین خوردگیهای جوان ، کوههای کم ارتفاع قدیمی ، سرزمین های پست

😊 نواحی نزدیک به قطب شمال در آمریکای شمالی و نواحی نزدیک به قطب جنوب در آمریکای جنوبی **آب و هوای قطبی**

و **سرد** دارد مانند کانادا

😊 در سواحل قاره آمریکا به دلیل مجاورت با دو اقیانوس **آب و هوای معتدل اقیانوسی** دارد

😊 نواحی نزدیک استوا در آمریکای جنوبی و مرکزی **آب و هوای گرم و مرطوب** دارد

😊 **جنگل های آمازون** در آمریکای جنوبی است

😊 در آمریکای جنوبی رود آمازون از میان جنگل های استوایی می گذرد

😊 پر آب ترین رود دنیا **آمازون** است

😊 آب آمازون از مجموع آب ده رودخانه پر آب جهان بیشتر است

😊 ماهیهای آب شیرین، مارهای آبی و گربه ماهیهای غول پیکر، زندگی می کنند.

😊 رود آمازون به **اقیانوس اطلس** می ریزد

😊 رود می سی سی پی از رودهای **طویل جهان** است که به خلیج مکزیک می رسد

😊 رود می سی سی پی نقش مهمی در حمل و نقل کالا و منابع و تجارت دارد

😊 علت تنوع آب و هوا و پوشش گیاهی آمریکا کشیدگی این قاره از قطب شمال تا قطب جنوب است

😊 **۱۵ درصد** جمعیت جهان در قاره امریکاست

😊 مهمترین نژاد قاره آمریکا **بومیان** هستند که **سرخ پوست** گفته می شود

😊 سیاهپوستان آمریکایی فرزندان و نوادگان بردگان آفریقایی اند که در دوره استعمار توسط اروپاییان به اجبار برای کار

به آمریکا آورده شدند

😊 قاره آمریکا توسط سفیدپوستان اروپایی کشف شد

😊 زبان غالب مردم آمریکای شمالی **انگلیسی** است

در دو کشور آمریکا و کانادا به سبب مهاجرت انگلیسی ها **فرهنگ آنگلوساکسون** غلبه دارد

به آمریکای مرکزی و جنوبی به سبب مهاجرت اسپانیایی ها و پرتغالیها آمریکای لاتین گویند چون ریشه این دو زبان

لاتین است

اکثر مردم آمریکا پیرو **دین مسیح** هستند

آمریکای شمالی **پروتستان** و آمریکای لاتین **کاتولیک** هستند

آمریکا و کانادا جزو کشورهای پیشرفته صنعتی جهان و کشورهای گروه هشت هستند

کشاورزی آمریکا **صنعتی و تجاری** است

آمریکا بزرگترین تولید کننده **گندم و ذرت** در جهان است

مهمترین عواملی که موجب پیشرفت و توسعه آمریکای شمالی شد و آن را تبدیل به یک قدرت بزرگ اقتصادی کرد

۱- اروپاییان مهاجر که با خود دانش و مهارت و سرمایه آوردند

۲- معادن زیر زمینی و طبیعی فراوان

۳- زمین های وسیع قابل کشت و رودهای پر آب

۴- دور بودن از جنگ جهانی دوم

۵- پیش گرفتن آمریکا از قدرت های اروپایی پس از جنگ

۶- جذب نیروهای متخصص و دانشمند سایر کشورها

نیویورک پر جمعیت ترین شهر آمریکا است

از نظر آسمانخراش **نیویورک مقام اول** جهان را دارد

مرکز اصلی سازمان ملل و مجسمه آزادی در **نیویورک** است

نماد آمریکا : **مجسمه آزادی**

دلیل عدم پیشرفت آمریکای لاتین :

استعمار - عقاید و باورهای غلط بین مردم - حکومت های وابسته به بیگانه - استبداد

آمریکای لاتین اغلب تولید کننده و صادر کننده مواد اولیه صنعتی و محصولات کشاورزی هستند و اوضاع اقتصادی

خوبی ندارند

کشورهایی چون آرژانتین، برزیل و کوبا در آمریکای لاتین، بزرگترین تولیدکننده و صادرکننده ی محصولات استوایی نظیر

قهوه و نیشکر هستند.

رود **می سی سی پی** و **میسوری** در مرکز آمریکای شمالی هستند

کدام بخش از قاره آمریکا از نظر زمین شناسی شبیه شرق و جنوب شرق آسیا است؟ **آمریکای مرکزی و جزایر آنتیل**

نام و نام خانوادگی :

تاریخ :

پایه : هشتم

۱- استرالیا و جزایری را که در نزدیکی آن در اقیانوس آرام قرار گرفته **اقیانوسیه** می نامند

۲- تعداد جزایر در اقیانوسیه به ۲۰ تا ۳۰ هزار می رسد که بیشتر در شرق استرالیا است یکی از جزایر مهم و بزرگ اقیانوسیه کشور **نیوزیلند (زلاند نو)** است

۳- بزرگترین صخره مرجانی دنیا در **شمال شرقی استرالیا در اقیانوس آرام** است

۴- جلگه مرکزی استرالیا از آبرفت رود **دارلینگ** بوجود آمده

۵- نیوزیلند یا زلاند نو کشوری **کوهستانی** است و رشته کوه **آلپ جنوبی** در این کشور است

۶- زبان رسمی استرالیا و نیوزیلند **انگلیسی** است

۷- استرالیا و نیوزیلند هر دو **مسیحی** هستند

۸- **سیدنی و ملبورن** دو بندر مهم استرالیا از مراکز مهم **صنایع کشتی سازی و شیمیایی** بشمار می روند

۹- اکثریت جمعیت استرالیا و نیوزیلند را مهاجران اروپایی **(انگلیسی و ایرلندی)** تشکیل می دهند و درصد بسیار کمی بومی هستند

۱۰- پهناورترین بیابان استرالیا بیابان بزرگ **ویکتوریاست**

۱۱- استرالیا تقریباً سرزمینی **هموار** است. فقط در **شرق** این کشور، رشته کوه هایی به موازات ساحل کشیده شده است.

۱۲- استرالیا و نیوزیلند هر دو از مراکز مهم پرورش دام در جهان هستند و گوشت و پشم از محصولات مهم این دو کشور است

۱۳- قاره استرالیا در **منتهی الیه جنوب شرقی قاره آسیا** قرار دارد