




| بارم | سوال را با دقت بخوانید، مطمئن باشید پاسخ در دقت شما نهفته است . | ردیف |
|------|---|------|
| ۲ | <p>موارد صحیح و غلط را مشخص کنید. (هر مورد ۰/۵ نمره)</p> <p>۱- توزیع فعالیتی است که بین تولید کننده و مصرف کننده رابطه برقرار می کند.</p> <p>۲- مصرف گرایی یعنی استفاده از کالا و خدمات به منظور رفع نیازها.</p> <p>۳- از عکس های معمولی برای تهیه ی نقشه های جغرافیایی استفاده می شود.</p> <p>۴- یکی از مسئولیت های مهم انسان مراقبت از خودش است.</p> <p>○ ص ○ غ</p> <p>○ ص ○ غ</p> <p>○ ص ○ غ</p> <p>○ ص ○ غ</p> | الف |
| ۲ | <p>جای خالی را با عبارت مناسب پر کنید. (هر مورد ۰/۵ نمره)</p> <p>۱- انسان ها از ابتدای خلقت و تولد دارای می شوند.</p> <p>۲- مهم ترین قانون هر کشور، آن است.</p> <p>۳- زمین هایی که از یک سو به کوه و از سوی دیگر به دشت مربوط می شوند را می گویند.</p> <p>۴- یکی از چیزهایی که حیات زیستگاه ها را تهدید می کند، است.</p> | ب |
| ۲ | <p>گزینه ی صحیح را با علامت (x) مشخص کنید. (هر مورد ۰/۵ نمره)</p> <p>۱- نوعی از بیمه ی اختیاری، مربوط به وسایل نقلیه:</p> <p>الف) بدنه ○ ب) آتش سوزی ○ ج) شخص ثالث ○ د) حوادث ○</p> <p>۲- مهم ترین عاملی که موجب از بین رفتن برخی گونه های گیاهی و جانوری شده است:</p> <p>الف) تخریب جنگل ○ ب) مهاجرت فصلی جانوران ○ ج) بازیافت زباله ○ د) فعالیت های نادرست انسان ○</p> <p>۳- یکی از ویژگی های طبیعی دامنه های جنوبی البرز:</p> <p>الف) رطوبت کم ○ ب) برف و باران فراوان ○ ج) جنگل های انبوه ○ د) مجاورت با دریا ○</p> <p>۴- تولید محصول (کالا)، به این منظور صورت می گیرد:</p> <p>الف) رفع نیاز ○ ب) رونق صادرات ○ ج) رفع خواسته ○ د) الف و ج ○</p> | ج |
| ۱/۵ | <p>پاسخ دهید:</p> <p>۱- هر یک از تصاویر، معرف کدامیک از عوامل تولید است؟</p> <div style="display: flex; justify-content: space-around; align-items: center;">    </div> <p>.....</p> | د |

| | | |
|---|--|--|
| ۱ | <p>۴- واژه ها و مفاهیم مرتبط را به هم وصل کنید:</p> <div style="display: flex; justify-content: space-around; align-items: center;"> <div style="border: 1px solid black; border-radius: 10px; padding: 5px; text-align: center;">آینده نگری</div> <div style="border: 1px solid black; border-radius: 10px; padding: 5px; text-align: center;">همدلی</div> </div> <div style="display: flex; justify-content: space-around; align-items: center; margin-top: 10px;"> <div style="border: 1px solid black; border-radius: 10px; padding: 5px; text-align: center;">عدالت</div> <div style="border: 1px solid black; border-radius: 10px; padding: 5px; text-align: center;">بیمه</div> </div> <div style="display: flex; justify-content: space-around; align-items: center; margin-top: 10px;"> <div style="border: 1px solid black; border-radius: 10px; padding: 5px; text-align: center;">انسان دوستی</div> </div> | |
| ۱ | <p>۵- هر یک از موارد زیر جزء کدام دسته هستند؟ حقوق مصرف کننده یا مسئولیت مصرف کننده: ((برچسب مشخصات کالا)) ((استاندارد)) ((بازیافت)) ((احتیاط در استفاده از ظروف یک بار مصرف)) </p> | |
| ۱ | <p>۶- پس از خواندن جملات، مفهوم خواسته شده را درون کمانک بنویسید: الف) شورایی که وظیفه ی تطبیق قوانین با احکام اسلام را بر عهده دارد. (.....) ب) مقرراتی که گروه های اجتماعی به صورت توافق یا عادت، از آن پیروی می کنند. (.....)</p> | |
| ۱ | <p>۷- هر یک از موارد زیر چگونه باعث تخریب زیستگاه ها می شوند؟ الف) فعالیت های کارخانه ای: ب) شکار بیش از حد و صید بی رویه:</p> | |
| ۱ | <p>۸- هر کدام از خصوصیات زیر مربوط به کدام ناحیه ی آب و هوایی ذکر شده، می باشد. (قرار گرفتن بین کوه و دریا، تابستان های گرم و خشک، اختلاف زیاد دمای شب و روز، رواج کشت دیم) الف) ناحیه ی آب و هوایی گرم و خشک داخلی: ب) ناحیه ی آب و هوایی معتدل و مرطوب خزری:</p> | |
| ۱ | <p>۹- نقشه چیست؟ </p> | |

| بارم | تذکر: پاسخ سوالات را با استفاده از خودکار مشکی یا آبی در پاسخنامه بنویسید | ردیف |
|------|--|------|
| 2 | <p>صحیح یا غلط بودن جملات زیر را مشخص کنید .</p> <p>الف) همه جای ایران از نظر پستی و بلندی یکسان است .</p> <p>ب) همدلی یعنی پس از درک احساس فرد حادثه دیده به کمک او بشتابیم.</p> <p>ج) ما با خرید کالا های ایرانی از تولیدکنندگان کشورمان حمایت می کنیم.</p> <p>د) در دامنه های شمالی البرز برف و باران کم می بارد و پوشش گیاهی کمتری دارد.</p> <p>صحیح غلط</p> <p><input type="radio"/> <input type="radio"/></p> <p><input type="radio"/> <input type="radio"/></p> <p><input type="radio"/> <input type="radio"/></p> <p><input type="radio"/> <input type="radio"/></p> | 1 |
| 2 | <p>گزینه صحیح را انتخاب نمایید.</p> <p>الف) تهیه و تصویب قوانین عادی کشور در چارچوب قانون اساسی به عهده است.</p> <p>شورای نگهبان مجلس شورای اسلامی مجلس خبرگان مجمع تشخیص مصلحت نظام</p> <p>ب) کدام یک از موارد زیر، سرمایه محسوب نمی شود؟</p> <p>زمین یا ساختمان ابزار کار معادن نفت و گاز ماشین آلات</p> <p>ج) - «نظارت بر ساخت و سازهای شهری» از وظایف کدام سازمان است؟</p> <p>استانداری شهرداری شورای شهر حفاظت محیط زیست</p> <p>د) زمستان های سرد و تابستان های معتدل از ویژگی های کدام نوع آب و هوا است؟</p> <p>معتدل و مرطوب خزری معتدل و نیمه خشک کوهستانی</p> <p>گرم و خشک داخلی گرم و شرجی سواحل جنوب</p> | 2 |
| 2 | <p>عبارات زیر را با کلمات مناسب کامل کنید.</p> <p>- مهم ترین قانون هر کشور آن کشور است.</p> <p>- کسی که کالاها و خدمات را به منظور رفع نیاز های خود می خرد می گویند.</p> <p>- به تصویر افقی از سطح زمین که به نسبت مورد نیاز کوچک شده است می گویند.</p> <p>- به منطقه بزرگی که در آن مجموعه ای از گیاهان و جانوران خاص زندگی می کنند، می گویند</p> | 3 |
| 2 | <p>هریک از فعالیت های زیر مربوط به کدام سازمان یا نهاد است آنها را به هم وصل کنید.</p> <p>تایید کیفیت کالا و نمونه قابل قبول جمعیت هلال احمر</p> <p>جلوگیری از تخریب و آلودگی زیستگاهها موسسه بیمه</p> <p>پرداخت خسارات اتومبیل در هنگام وقوع تصادف موسسه استاندارد</p> <p>تلاش برای صلح و دوستی در شرایط عادی سازمان حفاظت از محیط زیست</p> <p>ایستگاه هواشناسی</p> | 4 |

| | | |
|-----|----|---|
| 1/5 | 5 | <p>به سوالات زیر پاسخ کوتاه دهید . - وظایفی که هریک از ما به عهده داریم و انتظار می رود آنها را انجام دهیم چه می گویند؟</p> <p>- پولی که مردم هر ساله بابت خدمات شهرداری پرداخت می کنند را چه می گویند؟</p> <p>- به زمین هایی که از یکسو به کوه ها و از سوی دیگر به دشت ها مربوط می شود چه می گویند؟</p> |
| 1 | 6 | دومورد از حقوق خود درخانه و خانواده را بنویسید. |
| 1/5 | 7 | شما بعنوان دانش آموز دبیرستان سلاله چه مسئولیت هایی دارید؟(سه مورد) |
| 1 | 8 | به نظر شما عدم رعایت قوانین ومقررات در جامعه چه پیامد هایی دارد؟ |
| 1 | 9 | ازوظایف شورای نگهبان یک مورد را بنویسید. |
| 1 | 10 | وظایف جمعیت هلال احمر را در زمان وقوع حوادث بیان کنید.(دو مورد) |
| 1 | 11 | موسسه بیمه چرا به وجود آمده است ؟ |
| 1 | 12 | برروي برجسب هاي مشخصات کالا چه اطلاعاتی درج شده است ؟ چهارمورد |
| 1/5 | 13 | مهم ترین دلایل حفاظت از زیستگاه ها را بنویسید ؟(سه مورد) |
| 1/5 | 14 | شما چه کمکی می توانید برای حفاظت از محیط زیست انجام دهید.(سه مورد) |
| 20 | | |

| | | | | | | | | | | | | | | | | | | | | | | | | | | | | | | | | | | | | | | | | | | | | | | | | | | | | | | | |
|------|--|---|----|--|--|--|--|--|--|--|---|----|--|--|--|--|--|--|--|---|----|--|--|--|--|--|--|--|---|----|--|--|--|--|--|--|--|---|----|--|--|--|--|--|--|--|---|----|--|--|--|--|--|--|--|
| بارم | الف) کلمه صحیح را از داخل پرانتز انتخاب و در جای خالی بنویس | | | | | | | | | | | | | | | | | | | | | | | | | | | | | | | | | | | | | | | | | | | | | | | | | | | | | | |
| /5 | <p>1. ما در روابط دیگران دارای حقوق..... هستیم.(اجتماعی - متقابل)</p> <p>2. مهم ترین عامل تولید..... است.(سرمایه - نیروی انسانی)</p> | | | | | | | | | | | | | | | | | | | | | | | | | | | | | | | | | | | | | | | | | | | | | | | | | | | | | | |
| /5 | <p>ب) جملات زیر را تا یک سطر ادامه بده.</p> <p>3. طبق قانون همه دارندگان وسایل نقلیه باید.....</p> <p>4. موسسه بیمه تعهد می کند.....</p> | | | | | | | | | | | | | | | | | | | | | | | | | | | | | | | | | | | | | | | | | | | | | | | | | | | | | | |
| 1 | <p>ج) صحیح و غلط را در عبارات زیر مشخص کن</p> <p>5. ایستادن در صف اتوبوس و یاتانویی از مقررات اخلاقی است. <input type="checkbox"/> غلط <input type="checkbox"/> صحیح</p> <p>6. قوه مقننه تهیه و تصویب قوانین اساسی را بر عهده دارد <input type="checkbox"/> غلط <input type="checkbox"/> صحیح</p> <p>7. کره جغرافیایی محل دقیق پدیده های طبیعی مانند رود و کوه را نشان می دهد. <input type="checkbox"/> غلط <input type="checkbox"/> صحیح</p> <p>8. روستاها توسط دهیار و بخشدار اداره می شود. <input type="checkbox"/> غلط <input type="checkbox"/> صحیح</p> | | | | | | | | | | | | | | | | | | | | | | | | | | | | | | | | | | | | | | | | | | | | | | | | | | | | | | |
| 1 | <p>د) گزینه صحیح را در عبارات مشخص کن</p> <p>9. کشور ایران در کجای قاره آسیا واقع شده است؟ (1 جنوب شرقی (2 جنوب غربی (3 شمال شرقی (4 شمال غربی</p> <p>10. از قله های آتشفشانی ایران است؟ (1 الوند (2 سبلان (3 دنا (4 بینالود</p> | | | | | | | | | | | | | | | | | | | | | | | | | | | | | | | | | | | | | | | | | | | | | | | | | | | | | | |
| 1 | <p>ه) جدول زیر را کامل کن</p> <table border="1" data-bbox="322 1121 896 1552"> <tr> <td>آ</td> <td>11</td> <td></td> <td></td> <td></td> <td></td> <td></td> <td></td> <td></td> </tr> <tr> <td>ب</td> <td>12</td> <td></td> <td></td> <td></td> <td></td> <td></td> <td></td> <td></td> </tr> <tr> <td>و</td> <td>13</td> <td></td> <td></td> <td></td> <td></td> <td></td> <td></td> <td></td> </tr> <tr> <td>ق</td> <td>14</td> <td></td> <td></td> <td></td> <td></td> <td></td> <td></td> <td></td> </tr> <tr> <td>و</td> <td>15</td> <td></td> <td></td> <td></td> <td></td> <td></td> <td></td> <td></td> </tr> <tr> <td>ا</td> <td>16</td> <td></td> <td></td> <td></td> <td></td> <td></td> <td></td> <td></td> </tr> </table> <p>11. برای کشت برنج در ناحیه خزری از چه استفاده می شود؟</p> <p>12. موسسه ای که شما را بیمه کرده است..... نامیده می شود.</p> <p>13. یکی از عناصر آب و هواست.</p> <p>14. به مقرراتی که توسط نهاد مجلس به تصویب می رسند چه می گویند؟</p> <p>15. یکی از علل شرجی بودن جنوب ایران است.</p> <p>16. یکی از شهرهای ناحیه کوهستانی در شمال غرب ایران است</p> | آ | 11 | | | | | | | | ب | 12 | | | | | | | | و | 13 | | | | | | | | ق | 14 | | | | | | | | و | 15 | | | | | | | | ا | 16 | | | | | | | |
| آ | 11 | | | | | | | | | | | | | | | | | | | | | | | | | | | | | | | | | | | | | | | | | | | | | | | | | | | | | | |
| ب | 12 | | | | | | | | | | | | | | | | | | | | | | | | | | | | | | | | | | | | | | | | | | | | | | | | | | | | | | |
| و | 13 | | | | | | | | | | | | | | | | | | | | | | | | | | | | | | | | | | | | | | | | | | | | | | | | | | | | | | |
| ق | 14 | | | | | | | | | | | | | | | | | | | | | | | | | | | | | | | | | | | | | | | | | | | | | | | | | | | | | | |
| و | 15 | | | | | | | | | | | | | | | | | | | | | | | | | | | | | | | | | | | | | | | | | | | | | | | | | | | | | | |
| ا | 16 | | | | | | | | | | | | | | | | | | | | | | | | | | | | | | | | | | | | | | | | | | | | | | | | | | | | | | |

| | |
|---|---|
| 1 | 18. از عوامل تولید دو مورد را بنویس؟. |
| 1 | 19 . دو وظیفه شورای نگهبان را بنویس |
| 1 | 20. فرض کن به عنوان عضوی از جمعیت هلال احمر، هدایت نیروها را در منطقه زلزله زده ورزقان بر عهده داری، چه کارهایی انجام میدی (39مورد) |
| 1 | 21 . بیمه از نظر خدماتی که ارائه می دهد چند نوع است(2مورد) |
| 1 | 22 . اگر با فرد مصرف گرایی روبرو شوی چگونه او را نسبت به بدی کارش آگاه م کنی؟(2مورد) |
| 1 | 23. چرا نقشه وسیله مهمی در جغرافیا است ؟ |
| 1 | 24 . فرض کن به عنوان یک شهردار، سخنران جلسه ای هستی، وظایفت را به حضار بیان کن. (دو مورد) |
| 1 | 25 . الف) زیستگاه چیست؟ ب) عامل اصلی تنوع آن در ایران چیست؟ |
| 1 | 26 . چرا ناحیه ساحلی جنوب ایران جز نواحی خشک است؟ |
| 1 | 27. الف) ناحیه گرم و خشک داخلی در کدام قسمت ایران است؟ ب) نام یک پوشش گیاهی آن را بنویس |

۱- جملات درست را با (ص) و نادرست را با (غ) مشخص کنید. (۲ نمره)

- الف- همه انسان ها حق حیات یا زندگی دارند که مهمترین حق آنها است. ()
- ب- شش نفر از اعضای شورای نگهبان را که فقیه هستند رئیس قوه قضائیه انتخاب می کند. ()
- ج- همدلی یعنی پس از درک احساس فرد حادثه دیده به کمک او بشتاییم. ()
- د- طبق قانون اگر کسی در مواد خوردنی و آشامیدنی و آرایشی و بهداشتی، رنگ ها و مواد تقلبی به کار ببرد حتی اگر به مصرف کننده آسیبی نرسیده باشد به زندان محکوم خواهد شد. ()

۲- جاهای خالی زیر را با کلمات مناسب پر نمایید. (۲ نمره)

- الف- شکر گذاری ، استفاده صحیح از .. ، قدر را دانستن و به هدر ندادن آنها است.
- ب- موسسه .. . برای جبران زیان های مالی و جانی به وجود آمده است.
- ج- در یعنی زمینی هائی که از یکسو به کوه ها و از سوی دیگر به دشت ها مربوط می شود، علفزارهایی روئیده است.

۳- گزینه مناسب را علامت بزنید. (۲,۵ نمره)

الف- نمایندگان مجلس شورای اسلامی برای یک دوره ساله توسط انتخاب می شوند.

الف) چهار - شورای نگهبان ب) پنج - مردم ج) پنج - مجمع تشخیص مصلحت نظام د) چهار - مردم

ب- زمان بستن قرارداد بیمه، شما هستید و موسسه ای که شما را بیمه کرده است نام دارد.

الف- بیمه گذار / بیمه گر ب- بیمه گر / بیمه شونده ج- بیمه شونده / بیمه گذار د- بیمه گر / بیمه گذار

ج- کدامیک از موارد زیر جزء سه طبقه مشاغل و فعالیت های اقتصادی به حساب نمی آید؟

الف- صنعت ب- خدمات ج- تولید د- کشاورزی

د- کدامیک از گزینه های زیر صحیح است؟

الف- طبق قانون همه دارندگان وسایل نقلیه موتوری باید هر دو سال یکبار خودروی خود را برای حوادث جانی و مالی ناشی از تصادف بیمه کنند.

ب- پروانه ساختمان را باید از وزارت مسکن و شهرسازی دریافت کرد.

ج- روستائینان باید هر سال مبلغی به عنوان عوارض نوسازی به شهرداری بپردازند.

د- مصرف یعنی استفاده از کالا و خدمات به منظور رفع نیازها.

ه- کدامیک از موارد زیر جزء ویژگی های طبیعی یک مکان جغرافیائی به حساب نمی آید؟

الف- ناهمواری ها ب- آثار تاریخی ج- آب و هوا د- پوشش گیاهی

* پاسخ کوتاه دهید. (۲,۵ نمره)

الف- من نشانگر این نکته هستم که یک فرد، فرزند چه کسی است و به کدام کشور تعلق دارد. ()

ب- من مهمترین قانون و مادر همه قوانین یک کشور هستم. ()

ج- من تصویری افقی از سطح زمین هستم که به نسبت مورد نیاز کوچک شده است. ()

د- من مرطوب ترین ناحیه آب و هوایی ایران هستم. ()

ه- من به همراه بارش ، مهمترین عناصر تشکیل دهنده آب و هوا هستم. ()

*به سوالات زیر پاسخ دهید. (۱۱ نمره)

۱- انواع عکس های جغرافیایی را نام ببرید. (۰/۷۵ نمره)

۲- یکی از وظایف مهم شورای نگهبان را بنویسید. (۰,۷۵ نمره)

۳- قانون را تعریف کرده و یک مثال بزنید. (۰,۷۵ نمره)

۴- سه مورد از مناطق حفاظت شده ایران را نام ببرید. (۰/۷۵ نمره)

۵- دو مورد از وظایف جمعیت هلال احمر را در هنگام وقوع حوادث بنویسید. (۱ نمره)

۶- عوامل لازم برای تولید را نام برده و نیز بگوئید توزیع در لنت یعنی چه؟ (۱ نمره)

۷- دو مورد از مسئولیت پذیری خود در جامعه را بنویسید. (۱ نمره)

۸- مصرف گزائی را تعریف کنید. (۱ نمره)

۹- انواع بیمه را نام برده و یکی را به دلخواه تعریف کنید. (۱ نمره)

۱۰- سه مورد از نواحی مرتفع و بلند شمال ایران را فقط نام ببرید. (۱/۵ نمره)

۱۱- سه مورد از مهمترین دلایل حفاظت از زیستگاه ها را نام ببرید. (۱/۵ نمره)

موفق باشید : گروه مطالعات اجتماعی