

کشورهای همسایه

درس ۱۱ و ۱۲
مطالعات اجتماعی
پایه پنجم

ایران با چند کشور همسایه است؟ ✓ کشور



این پرچم مربوط به چه کشوری است؟ جمهوری آذربایجان

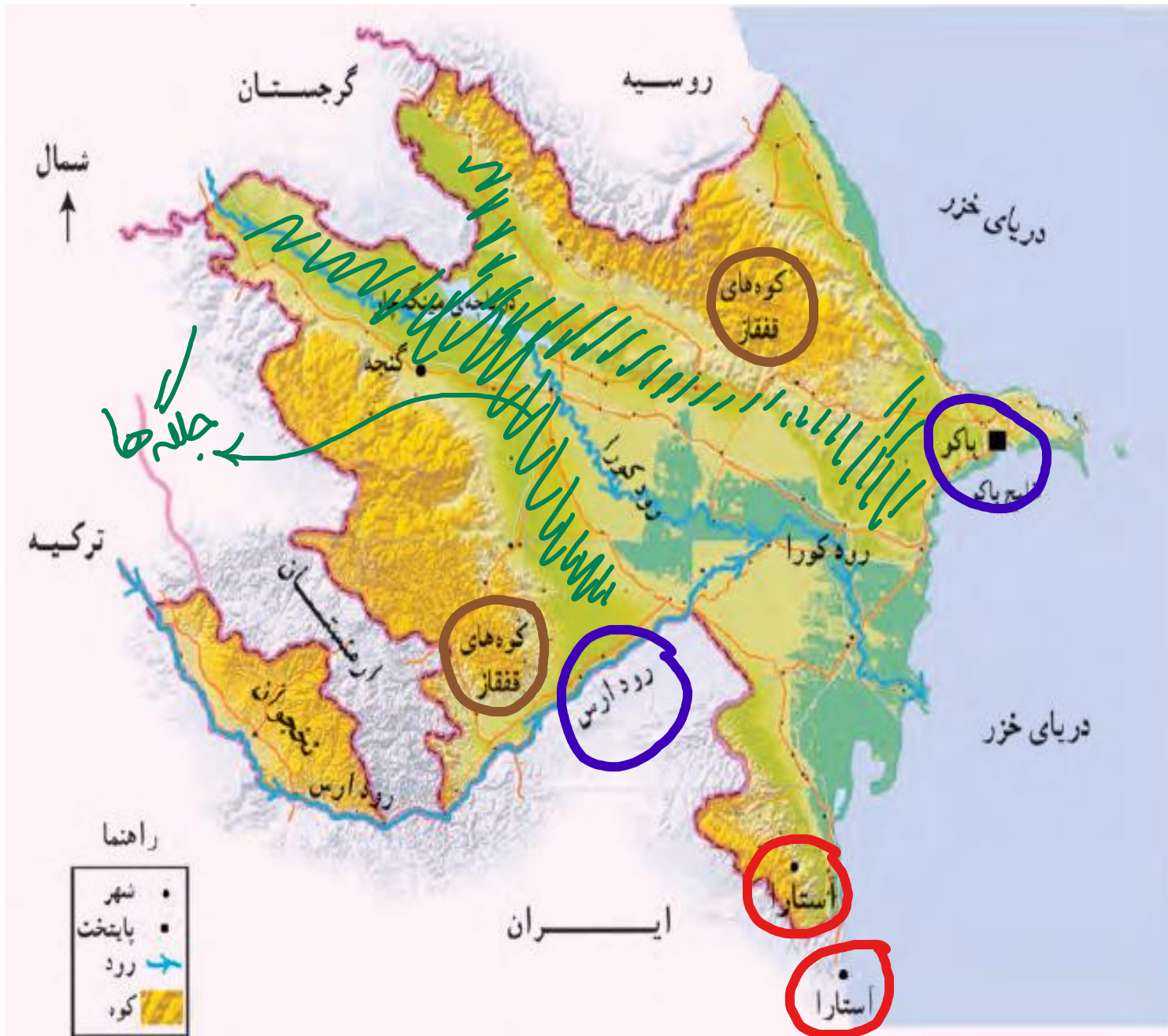


جمهوری آذربایجان

این پرچم مربوط به چه کشوری است؟

پایتخت: باکو





آب و هوا: کوهستانی و سرد

دین: مسلمان

غذای محلی: آبلوست پیی، دله

ورزش بومی: لستی و شطرنج

محصولات: توتون و پنبه

وجه اشرف الابرار:

دین اسلام - منابع نفت و گاز - رونق ماحصلی

برگزاری عید نوروز

- ۱- نام رشته کوه اصلی آذربایجان **جمناز** است.
- ۲- کدام رود بین ایران و جمهوری آذربایجان قرار دارد؟ این رود به کجا می ریزد؟ **دریای خزر**
- ۳- کدام شهر جمهوری آذربایجان و ایران همنام هستند؟ **آستارا**

- ۴- اگر کسی بخواهد برای تعطیلات نوروز به کشور آذربایجان سفر کند، چه لباس هایی باید همراه خود ببرد؟ چرا؟ **لباس گرم زیرا بسیار سرد است.**
- ۵- چرا ماهیگیری در جمهوری آذربایجان رونق دارد؟ **وجود دریای خزر.**
- ۶- چرا کشاورزی در جمهوری آذربایجان بسیار پر رونق است؟ **وجود حله های آبرفتی.**
- ۷- جمهوری آذربایجان در چه زمینه هایی با کشور ایران مشترک است؟ **عید نوروز - دین اسلام - منابع نفت و گاز - ماهیگیری.**

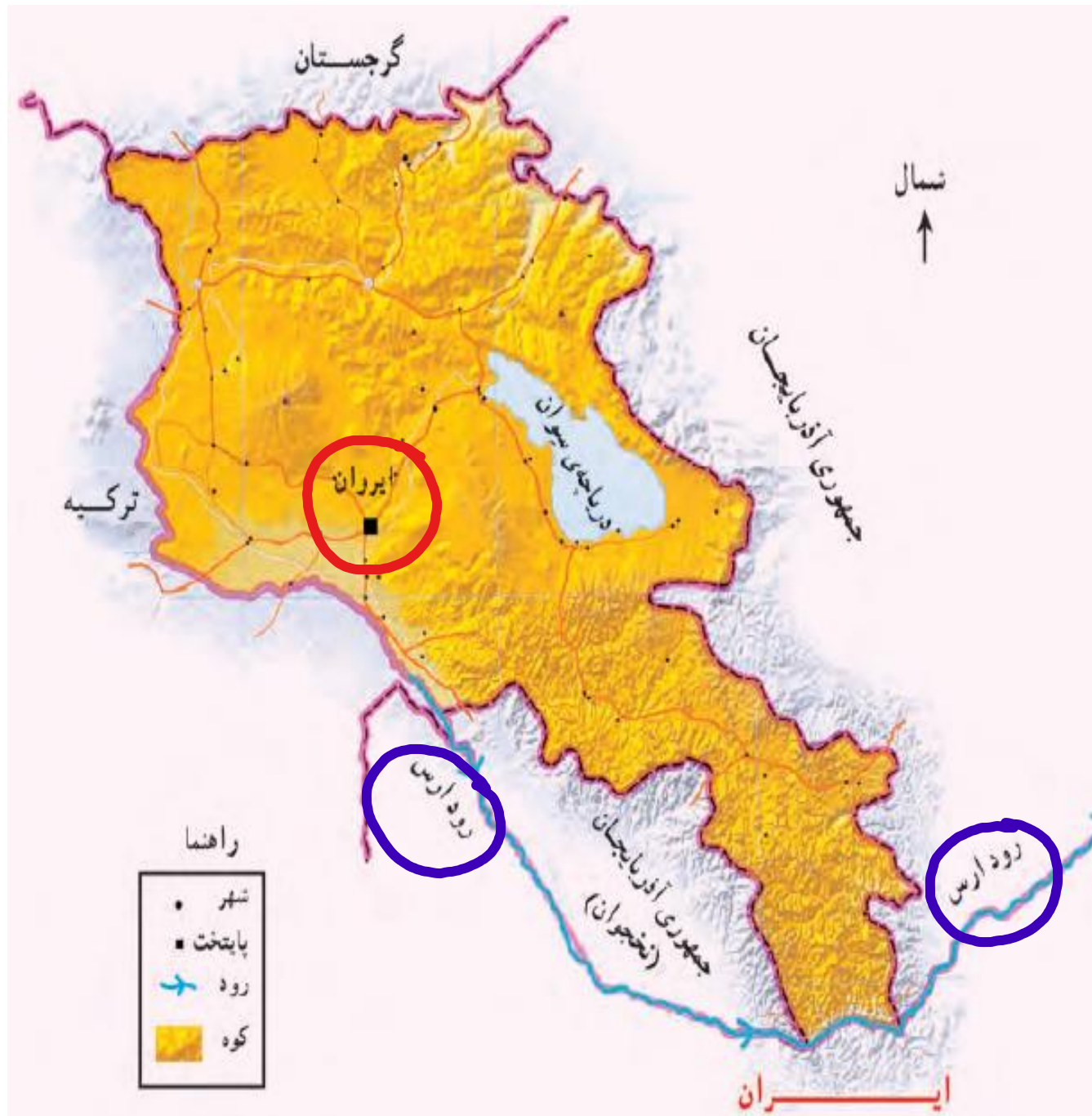
این پرچم مربوط به چه کشوری است؟ *ارمنستان*



این پرچم مربوط به چه کشوری است؟ ارمنستان

پایتخت: ایروان





آب و هوا: کوهستانی.

غذای محلی: آش، لباب، دلمه و ماهی ایشخان

دین مردم: مسیحی

صنایع دستی: مینت کاری - سرود چوبی - فرسبافی

ورزش: کوهنوردی - اسکی - شطرنج

نقشه خوانی

- ۱- کدام رود، کشور ایران را از ارمنستان جدا می کند؟ *ارس*
- ۲- کشور ارمنستان را از نظر دسترسی به دریا با جمهوری آذربایجان مقایسه کنید. دسترسی یک کشور به دریا چه فایده هایی دارد؟ *دسترسی به سیارلسوره ها برای صادرات و واردات - ماهیگیری - وجود شغل - گردشگری.*

- ۳- چرا ارمنستان بیشتر مواد اولیه ی کارخانه های خود را از خارج وارد می کند؟ *چون از منابع طبیعی فقیر است.*
- ۴- اگر روزی به کشور ارمنستان سفر کنید، چه غذایی سفارش می دهید و چه سوگاتی برای دوستانتان می آورید؟ *ماهی سفیدان - فرش و جواهرات*
- ۵- چرا به این کشور ارمنستان می گویند؟
چون بزرگترین مردم این کشور ارمنی هستند و پیرو دین حضرت مسیح (ع) می باشند.

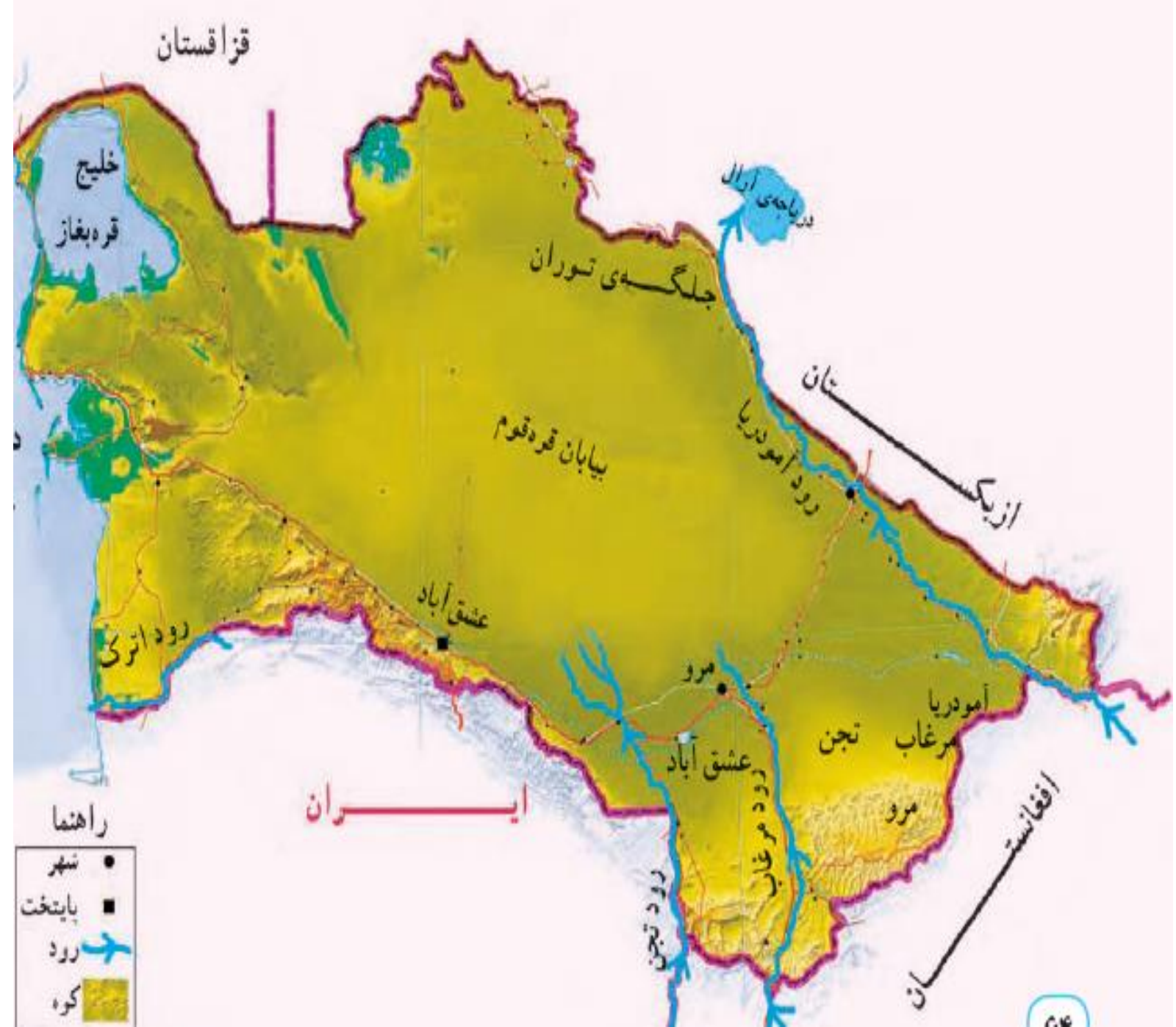
این پرچم مربوط به چه کشوری است؟ ترکمنستان



این پرچم مربوط به چه کشوری است؟
ترکمنستان
پایتخت: عشق آباد



آب و هوا: خشک و بیابانی
 دین مردم: مسلمان
 غذای محلی: پلو و چوربا
 ورزش: اسب سواری
 شغل مردم: کشاورزی و دامپروری
 محصولات: انگور، پنبه، لندم




نقشه خوانی

- ۱- صحرای بزرگی که بخش عمده‌ای از کشور ترکمنستان را فرا گرفته است، چه نام دارد؟ **بیابان قره قوم**
- ۲- رود آمو دریا به کدام دریاچه می‌ریزد؟ **آرال**
- ۳- پایتخت و یک شهر مهم ترکمنستان را نام ببرید. **عشق آباد**


- ۴- چرا قالی بافی از صنایع دستی عمده‌ی کشور ترکمنستان است؟ **به دلیل رواج دامپروری و کشت پنبه**
 - ۵- مردم ترکمنستان به کدام ورزش علاقه‌ی زیادی دارند؟ چرا؟ **اسب سواری - اسب‌های ترکمن قدرتمند و چابکند**
 - ۶- کشور ایران با کشور ترکمنستان چه اشتراکاتی دارد؟ **۱- دین اسلام ۲- عید نوروز ۳- منابع گاز و نفت**
- ۴- قالی بافی

این پرچم مربوط به چه کشوری است؟



این پرچم مربوط به چه کشوری است؟ **پاکستان**

بیتحت؛ اسلام آباد



آب و هوا: ارتفاعات سرد - جلگه‌ها به فصل
غذای محلی: پالوا - برنج قره ولوش

دین مردم: مسلمان

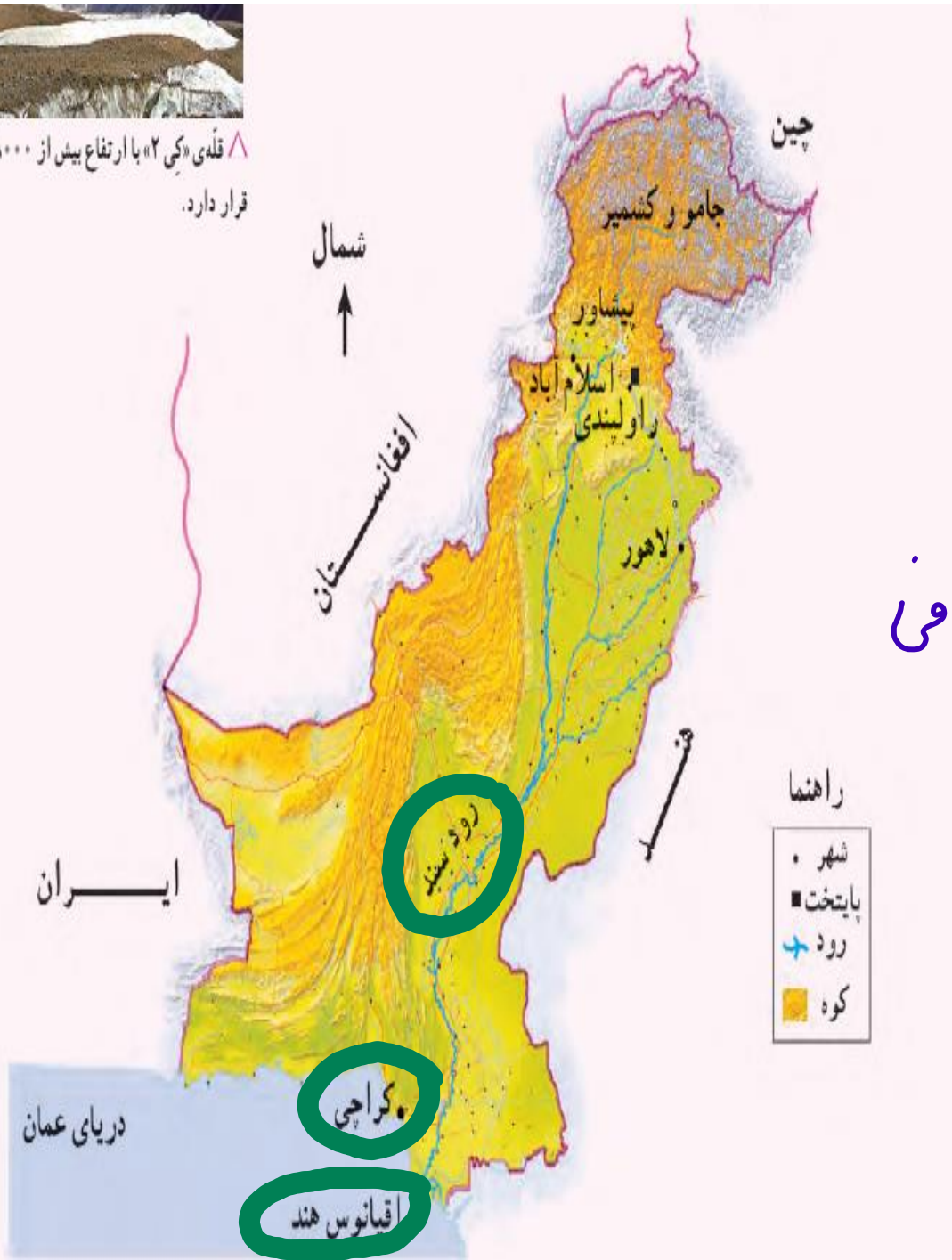
محصولات کشاورزی: کف ، برنج ، پنبه

صنایع دستی: ملیله دوزی - لقره دوزی - آینه دوزی - فرش بافی

ورزش: هاکی روی چمن



▲ قله‌ی «ک۲» با ارتفاع بیش از ۸۰۰۰ متر در پاکستان قرار دارد.



نقشه خوانی

- ۱- جلگه‌ی وسیع مرکزی پاکستان از آبرفت‌های کدام رود به وجود آمده است؟ *رود سند*
- ۲- بندر مهم پاکستان در کناره‌ی اقیانوس هند چه نام دارد؟ چرا این بندر دارای اهمیت جهانی است؟ *کراچی*

بیشتر صادرات و واردات منطقه از این بندر انجام می‌شود.

- ۳- چرا کشت برنج و پنبه در پاکستان رونق دارد؟ *وجود حوضه‌ها و زمین‌های آبرفتی*
- ۴- فرض کنید دوست شما می‌خواهد به پاکستان سفر کند. یک سوغاتی را نام ببرید تا برای شما بیاورد. *پارچه*
- ۵- چرا کوه‌نوردان کشورهای مختلف به سفر به پاکستان علاقه‌مندند؟ *وجود قله‌های مرتفع* *قله‌ی K2*
- ۶- کشورهای ایران و پاکستان چه اشتراکاتی دارند؟ *دین اسلام - عید نوروز - فرشبافی - پارچه‌بافی*

این پرچم مربوط به چه کشوری است؟

الله اکبر

این پرچم مربوط به چه کشوری است؟ **عراق**



الله اکبر



این پرچم مربوط به چه کشوری است؟



این پرچم مربوط به چه کشوری است؟ ترکیه



این پرچم مربوط به چه کشوری است؟



این پرچم مربوط به چه کشوری است؟ **افغانستان**

