

فعالیت

۶۷

- ۱- گردش زمین به دور خودش چند ساعت طول می کشد؟ ۲۴ ساعت
- ۲- جابه جا شدن خورشید در طول روز مربوط به حرکت خورشید است یا حرکت زمین؟ با توجه به آنچه تاکنون آموخته اید، توضیح دهید. حرکت زمین - زمین به دور خودش می چرخد و این حرکت باعث می شود موقعیت هر ناحیه ی آن نسبت به خورشید تغییر کند و به نظر برسد خورشید حرکت می کند.
- ۳- فعالیت شماره ی (۱) «به کار بیندیم» (ساختن ساعت افتابی) را انجام دهید.

فعالیت

۶۸

- ۴- شما تاکنون چند بار به دور خورشید چرخیده اید؟ این نکته را چگونه می فهمید؟ ۱۱ سال چون چرخش زمین به دور خورشید یک سال طول می کشد.
- ۵- نتیجه ی حرکت چرخشی زمین چیست؟ پیدایش شب و روز
- ۶- نتیجه ی حرکت انتقالی زمین چیست؟ پیدایش فصل ها

فعالیت

۷- چند کره‌ی جغرافیایی به کلاس بیاورید و با راهنمایی معلم این خط‌ها را روی آنها پیدا کنید.

الف) خط استوا ب) نصف النهار مبدأ

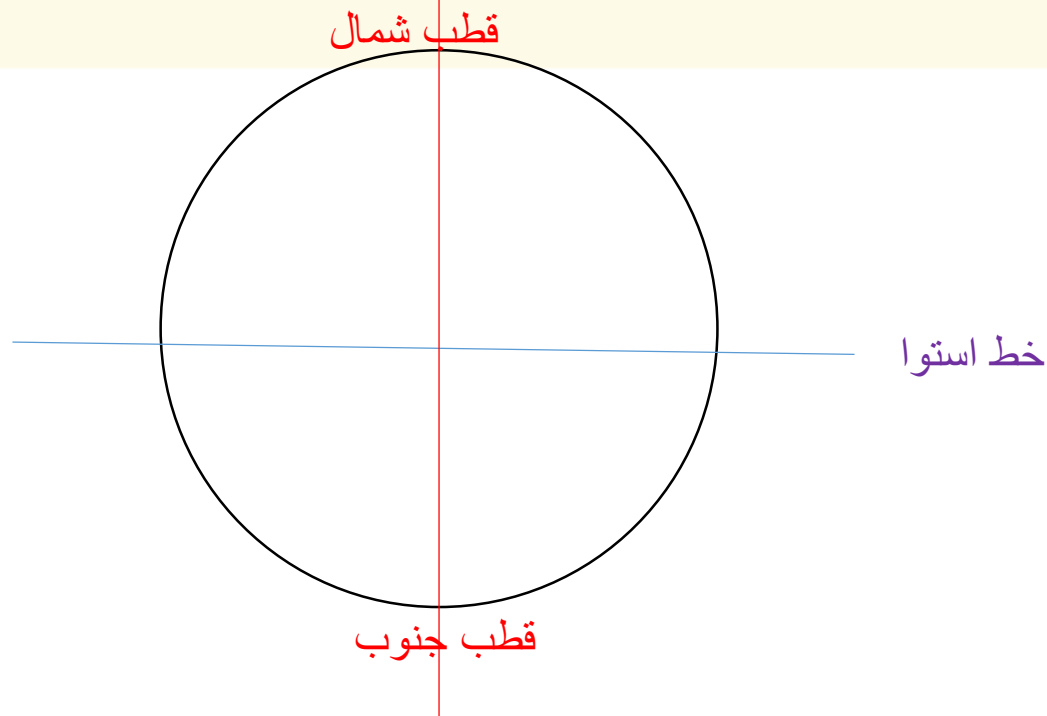
۸- کشور ایران را روی کره پیدا کنید و بگویید در نیمکره‌ی شمالی قرار دارد یا نیمکره‌ی جنوبی؛ در نیمکره‌ی شرقی









است یا نیمکره‌ی غربی. چگونه پی بردید؟ **نیمکره‌ی شمالی - نیمکره‌ی شرقی**

۹- یک دایره بکشید و روی آن، محل قطب شمال و قطب جنوب را مشخص کنید. خط استوا و نصف النهار مبدأ را

هم روی آن رسم کنید.

۷۰



	د	ج	ب	الف
۱				
۲				
۳				
۴				
۵				

فعالیت

محل دقیق هتل، مسجد و راه آهن را بنویسید.
 هتل (د ۴) مسجد (ج ۱) راه آهن (الف ۱)
 حالا بگویند هر یک از موارد زیر نشان دهنده ی چه مکانی است.
 د ۲ () ج ۵ () ب، ج ۳ ()
 آتش نشانی مدرسه فروشگاه



الف) عبارتهای نادرست را تشخیص داده و آن‌ها را به صورت درست بنویسید.

۱. ترکمنستان از همسایگان جنوبی ایران است.

۲. پایتخت افغانستان، کابل است.

۳. ایران باهشت کشور، همسایه است.

۴. پهناورترین کشور در میان ایران و همسایگانش، پاکستان است.

ب) موارد مرتبط در ستون (۱) را به ستون (۲) وصل کنید.

(۱)

۱. در میان کشورهای همسایه، از همه پهناورتر است.

۲. از همسایگان شمالی ایران است.

۳. کم‌وسعت‌ترین کشور همسایه ایران است.

۴. از همسایگان شرقی ایران که به دریای عمان راه دارد.

(۲)

افغانستان

ارمنستان

جمهوری آذربایجان

پاکستان

ایران



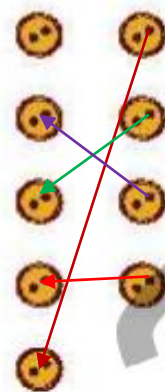


الف) عبارتهای نادرست را تشخیص داده و آن‌ها را به صورت درست بنویسید.

۱. ترکمنستان از همسایگان جنوبی ایران است. نادرست - همسایه ی شمال شرقی ایران است.
۲. پایتخت افغانستان، کابل است. ... درست
۳. ایران با هشت کشور، همسایه است. ... نادرست - با هفت کشور همسایه است.
۴. پهناورترین کشور در میان ایران و همسایگانش، پاکستان است. نادرست - خود ایران پهناورترین است.

ب) موارد مرتبط در ستون (۱) را به ستون (۲) وصل کنید.

- (۲)
- افغانستان
 - ارمنستان
 - جمهوری آذربایجان
 - پاکستان
 - ایران



- (۱)
۱. در میان کشورهای همسایه، از همه پهناورتر است.
 ۲. از همسایگان شمالی ایران است.
 ۳. کم وسعت ترین کشور همسایه ایران است.
 ۴. از همسایگان شرقی ایران که به دریای عمان راه دارد.

پ) جاهای خالی را با کلمات مناسب پر کنید.

۱. کم‌وسعت‌ترین کشور همسایه‌ی ایران است

۲. ایران با کشور همسایه است.

۳. ایران از همه‌ی کشورهای همسایه‌اش است.

۴. پاکستان به دریای راه دارد.

ت) پاسخ صحیح را با علامت «×» مشخص کنید.

۱. کشور همسایه شمال‌شرق ایران کدام است؟

(۱) ترکیه

(۲) پاکستان

(۳) افغانستان

(۴) ترکمنستان

۲. کدام کشور بیشترین مرز خشکی با ایران را دارد؟

(۱) عراق

(۲) پاکستان

(۳) ترکیه

(۴) ارمنستان



پ) جاهای خالی را با کلمات مناسب پر کنید.

۱. کم وسعت ترین کشور همسایه‌ی ایران **ارمنستان** است

۲. ایران با ... **هفت** ... کشور همسایه است.

۳. ایران از همه‌ی کشورهای همسایه‌اش **پهناتر** است.

۴. پاکستان به دریای **عمان** ... راه دارد.

ت) پاسخ صحیح را با علامت «x» مشخص کنید.

۱. کشور همسایه شمال شرق ایران کدام است؟

(۱) ترکیه

(۲) پاکستان

(۳) افغانستان

(۴) ترکمنستان

۲. کدام کشور بیشترین مرز خشکی با ایران را دارد؟

(۱) عراق

(۲) پاکستان

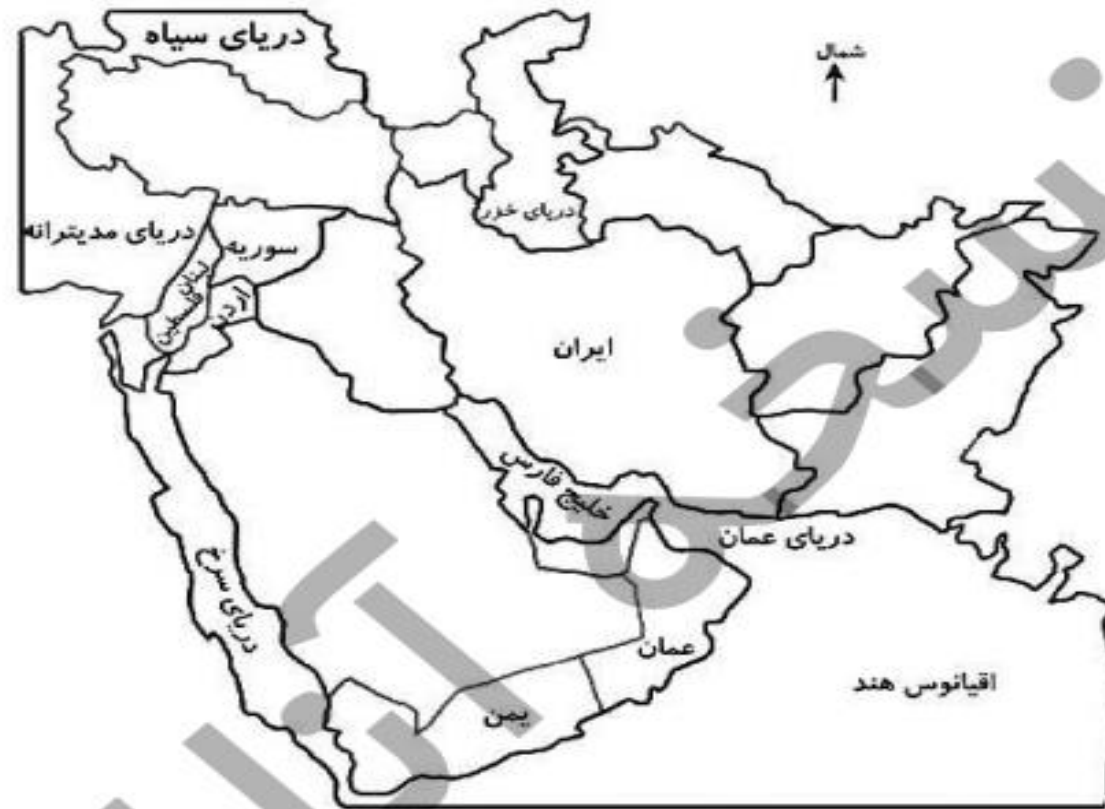
(۳) ترکیه

(۴) ارمنستان



ث) نقشه را کامل کنید.

۱. نام کشوری در شمال ایران که به دریای خزر راه دارد.
۲. کشور همسایه که به دریای عمان راه دارد.
۳. همسایه غربی ایران است.
۴. کم‌وسعت‌ترین همسایه ایران.



ث) نقشه را کامل کنید.

۱. نام کشوری در شمال ایران که به دریای خزر راه دارد. **ترکمنستان - آذربایجان**
۲. کشور همسایه که به دریای عمان راه دارد. **پاکستان**
۳. همسایه غربی ایران است. **عراق و ترکیه**
۴. کم‌وسعت‌ترین همسایه ایران. **ارمنستان**



ج) فعالیت عملکردی

جدول زیر را کامل کنید.

جمهوری ارمنستان	جمهوری آذربایجان	موضوع
		مهم‌ترین دریاچه
		دین
		زبان
		ورزش
		غذای محلی
		صنایع دستی
		رود جداکننده با ایران



الف

ب ج ن

و ز



ج) فعالیت عملکردی

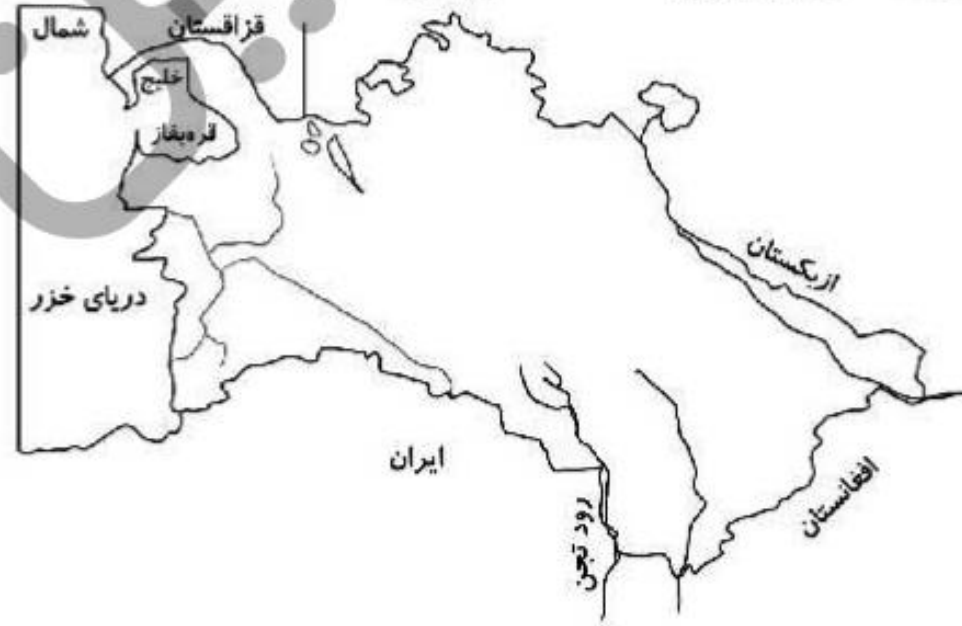
جدول زیر را کامل کنید.

موضوع	جمهوری آذربایجان	جمهوری ارمنستان
مهم‌ترین دریاچه		سوان
دین	اسلام	مسیحیت
زبان	ترکی	ارمنی
ورزش	کشتی و شطرنج	شطرنج
غذای محلی	آبگوشت پیتی - انواع دلمه	انواع کباب - دلمه و آش - ماهی ایشخان
صنایع دستی	قلم زنی - سفالگری - فرش	منبت کاری روی چوب - عروسک‌چوبی - فرش و گلیم
رود جداکننده با ایران	ارس	ارس



ب) نقشه‌ی زیر مربوط به جمهوری اسلامی ترکمنستان است. آن را کامل کنید.

۱. صحرای بزرگی که بخش عمده‌ی مساحت کشور ترکمنستان را به خودش اختصاص داده است.
۲. رود آمودریا به کدام دریاچه می‌ریزد؟ آن را بر روی نقشه نشان دهید.
۳. پایتخت کشور ترکمنستان را بنویسید.
۴. یکی از شهرهای مهم ترکمنستان را بر روی نقشه مشخص کنید.





الف) نقشه‌ی زیر مربوط به جمهوری اسلامی پاکستان است، آن را کامل کنید.

۱. پایتخت پاکستان را بر روی نقشه مشخص کنید. **اسلام آباد**
۲. بندری که مرکز تجارت و صادرات و واردات هست. **بندر کراچی**
۳. از رودهای مهم این کشور **رود سند**



پ) فعالیت عملکردی

۱. جدول زیر را کامل کنید.

ترکمنستان	پاکستان	موضوع
—		مهم ترین بندر
		فعالیت مهم اقتصادی
		صنایع دستی
		دین
		زبان
		مهم ترین اعیاد
		ورزش مهم
		غذای مهم

پ) فعالیت عملکردی

۱. جدول زیر را کامل کنید.

ترکمنستان	پاکستان	موضوع
—	کراچی	مهم ترین بندر
صادرات نفت و گاز و اسب	کشاورزی - صادرات و واردات از طریق بندر کراچی	فعالیت مهم اقتصادی
فرش و گلیم و نمد مالی - قلم کاری روی نقره	آینه دوزی روی لباس - ملیله دوزی و نقره دوزی روی پارچه	صنایع دستی
اسلام	اسلام	دین
ترکمنی	اردو - انگلیسی	زبان
نوروز	عید فطر و قربان	مهم ترین اعیاد
اسب سواری	هاکی روی چمن	ورزش مهم
پلوف - چورپا	برنج قرمه گوشت - پاکورا	غذای مهم

۲. اگر شما بخواهید به یکی از کشورهای پاکستان یا ترکمنستان مسافرت کنید، کدام یک را انتخاب می‌کنید؟ چرا؟

.....

.....

.....

.....

.....

