

# جمعیت ایران

حتماً تاکنون کلمه‌ی «جمعیت» را شنیده‌اید. این کلمه چه چیزی را به ذهن شما می‌آورد؟

## فعالیت

- ۱- جمعیت کلاس شما چند نفر است؟  $\frac{۲}{۵}$
- ۲- با راهنمایی معلم، در این باره پرس و جو کنید که جمعیت هر کلاس مدرسه و همچنین، جمعیت کل مدرسه‌ی شما چند نفر است.
- ۳- جمعیت کلاس ششم از جمعیت کلاس شما بیشتر است یا کمتر؟  $\frac{۱}{۲}$
- ۴- اکنون کاربرگ‌ی شماره‌ی (۳) (جمعیت مدرسه‌ی ما) را کامل کنید.
- ۵- آیا می‌توانید بگویید جمعیت شهر یا روستای محل زندگی شما تقریباً چند نفر است؟



به مجموعه‌ی افرادی که در یک جا  
زندگی می‌کنند، جمعیت می‌گویند.



## ● جمعیت چگونه افزایش می‌یابد؟<sup>مهم</sup>

اگر تعداد افرادی که متولد می‌شوند از تعداد افرادی که می‌میرند بیشتر باشد، جمعیت افزایش می‌یابد.

تعداد فوت شدگان > تعداد متولدين

۲- مهاجرت



## ● افزایش جمعیت در کشور ما چه خوبی‌هایی دارد؟

مزایای



ما دوست نداریم در یک خانواده کم جمعیت زندگی کنیم. دلمان می‌خواهد با برادرها و خواهرهایمان بازی کنیم، به هم کمک کنیم و تنها نباشیم.





۲

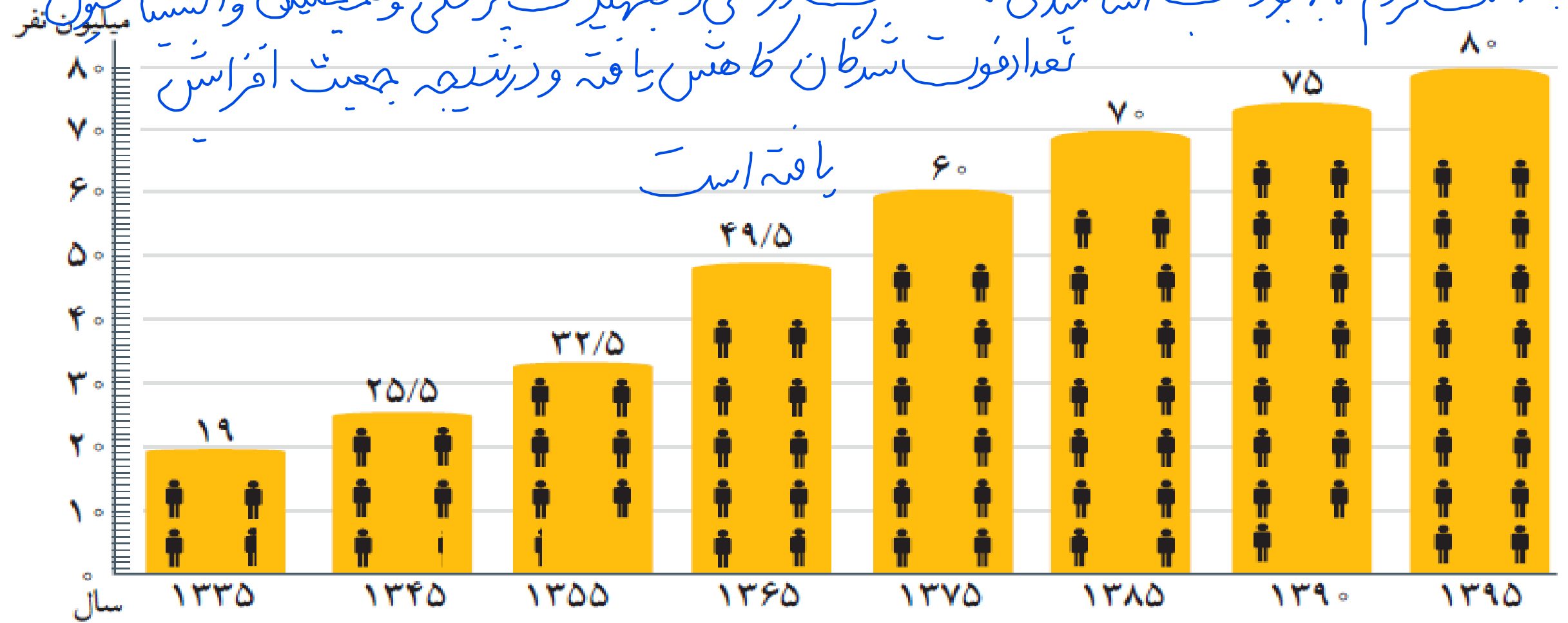
به نظر من وقتی تعداد جوانان یک کشور زیاد باشد، نیروی بیشتری برای کار فراهم می‌شود. علاوه بر این، جوانان با تحصیل و تلاش به پیشرفت کشور کمک می‌کنند.



۳

من فکر می‌کنم، اگر جمعیت زیاد باشد، نیروی زیادی برای دفاع از کشورمان داریم.

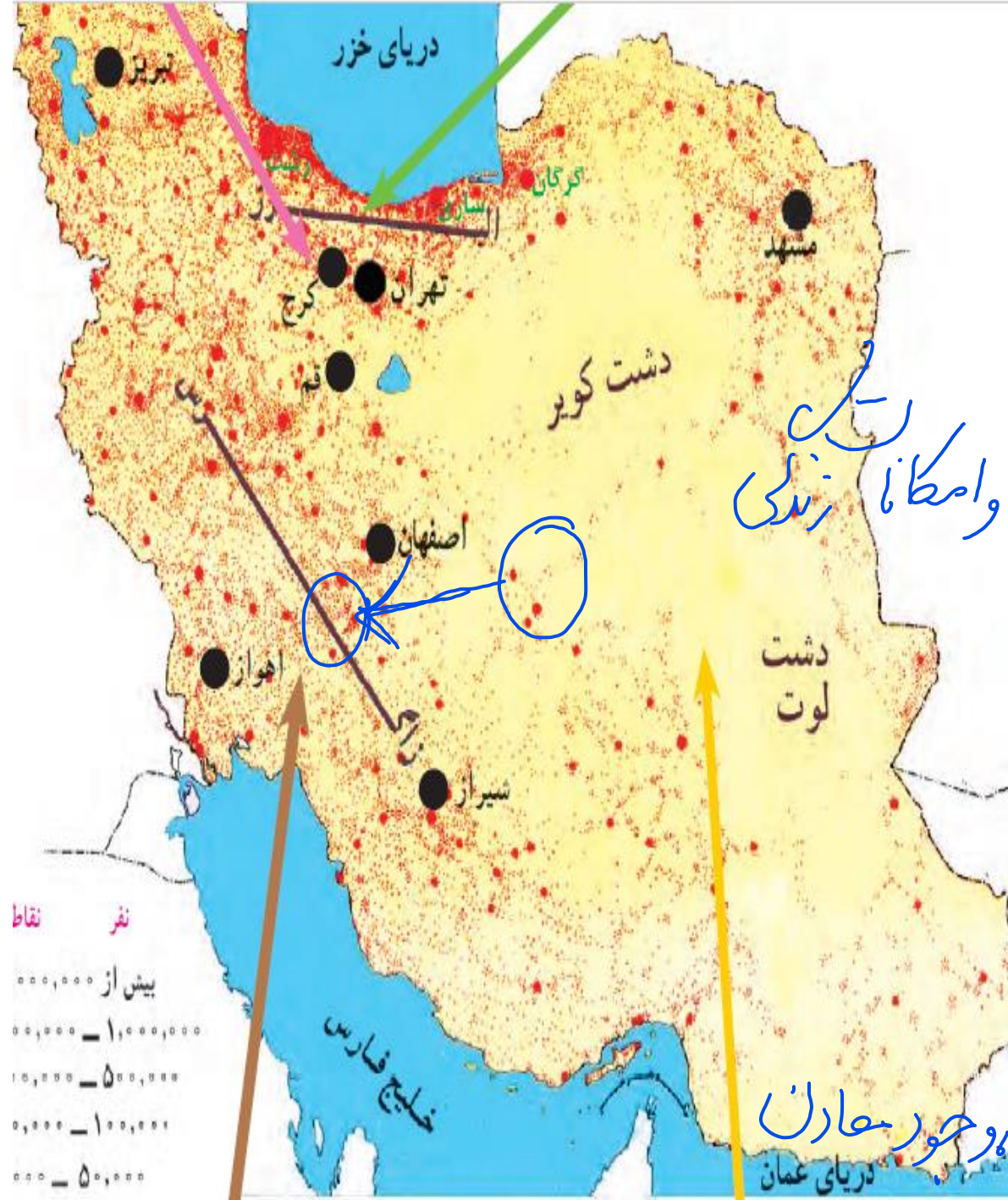
در حال حاضر، جمعیت کشور ما بیش از ۸۰ میلیون نفر است. به نمودار جمعیت ایران توجه کنید و جمعیت کنونی ایران را با جمعیت سال‌های گذشته مقایسه کنید. از این مقایسه چه نتیجه‌ای می‌گیرید؟ بالذکر سالها و تغییر در بهائیت مردم، بهبود آب آسایشی، امکانات درمانی و تجهیزات پزشکی و همچنین آلودگی هوا



هر آدمک پنج میلیون نفر

# پراکندگی جمعیت در ایران

به نقشه صفحه‌ی بعد توجه کنید.

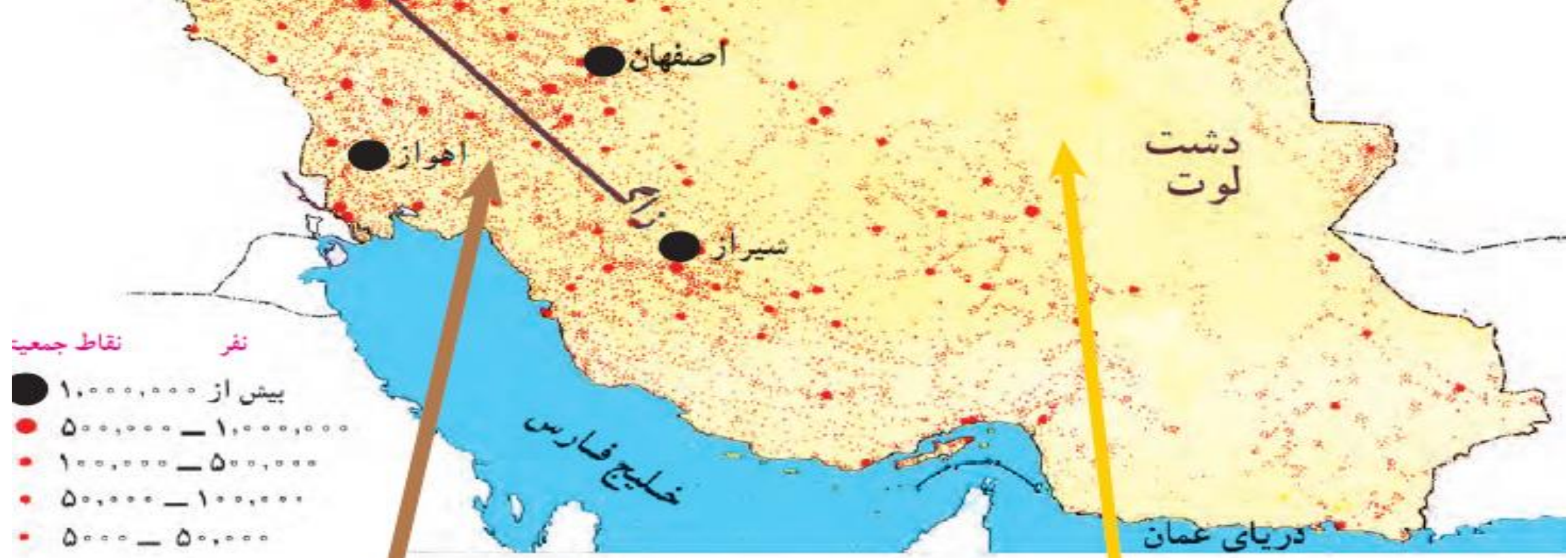


همان طور که می‌بینید، جمعیت ایران در همه جای آن به طور یکسان پراکنده نشده است. بعضی نواحی جمعیت بیشتر و بعضی، جمعیت کمتری دارند؛ چرا؟ به دلیل وجود تنوع آب و هوایی و امکان زندگی

## فعالیت

- ۶- با توجه به نقشه‌ی صفحه‌ی روبه‌رو، از ناحیه‌ی ۲ و ۳ چند شهر مثال بزنید.
- ۷- با کمک معلم، محل تقریبی زندگی خود را در روی نقشه با دایره‌ای مشخص کنید و بگویید جزء کدام نواحی جمعیتی ایران است.
- ۸- هر چه از ناحیه‌ی مرکزی ایران به سمت کوهپایه‌های البرز و زاگرس بیش برویم، تعداد شهرها و روستاهای پر جمعیت، بیشتر می‌شود یا کمتر؟ چرا؟ به دلیل وجود آب و هوایی مناسب، خاک ابرسی و وجود باران





۳ در نواحی کوهپایه‌ای رشته‌کوه‌های البرز و زاگرس و کوه‌های آذربایجان و خراسان، به دلیل آب و هوای معتدل، خاک آبرفتی و وجود معدن‌های مختلف، تعداد زیادی شهر و روستای پرجمعیت به وجود آمده است.

۴ نواحی داخلی ایران به دلیل بارندگی کم، زمین‌های شور و خاک نامناسب، بسیار کم‌جمعیت یا خالی از جمعیت هستند.



# ● مهاجرت

یکی از دلایل افزایش جمعیت در یک ناحیه، مهاجرت مردم از نواحی دیگر به آنجاست. مهاجرت یعنی اینکه مردم برای زندگی یا کار از جایی به جای دیگر بروند. بعضی از نواحی به دلیل آب و هوای مساعد و خاک حاصلخیز یا وجود کارخانه‌ها و معدن‌ها، جمعیت زیادی را به خود جذب کرده‌اند.

عوامل دورکننده جمعیت

عوامل جذب کننده جمعیت



ناحیه‌ی (الف)

ناحیه‌ی (ب)

## فعالیت

به تصویرهای بالا دقت کنید و پاسخ دهید.

الف) چه عواملی ممکن است موجب شود که مردم یک مکان را ترک کنند و به جای دیگری مهاجرت کنند؟  
ب) چه عواملی باعث می شود مردم به یک مکان جذب شوند؟

۱- به نظر شما چه کارها و برنامه هایی باید در ناحیه ی الف اجرا شود تا جمعیت در همان جا بماند و به ناحیه ی ب مهاجرت نکند؟  
دو پیشنهاد ارائه بدهید.

۱۱- از پدر و مادر و پدر بزرگ و مادر بزرگ خود پرسید آیا متولد همین مکانی هستند که در آن زندگی می کنند، یا به آنجا مهاجرت کرده اند. نتیجه را در کلاس به دوستانتان بگویید.