

جمعیت ایران

حتماً تاکنون کلمه‌ی «جمعیت» را شنیده‌اید. این کلمه چه چیزی را به ذهن شما می‌آورد؟

فعالیت

- ۱- جمعیت کلاس شما چند نفر است؟ ۲۱ نفر
- ۲- با راهنمایی معلم، در این باره پرس و جو کنید که جمعیت هر کلاس مدرسه و همچنین، جمعیت کل مدرسه‌ی شما چند نفر است.
- ۳- جمعیت کلاس شما از جمعیت کلاس شما بیشتر است یا کمتر؟ $کلاس$ $سهم$
- ۴- اکنون کاربرگه‌ی شماره‌ی (۳) (جمعیت مدرسه‌ی ما) را کامل کنید.
- ۵- آیا می‌توانید بگویید جمعیت شهر یا روستای محل زندگی شما تقریباً چند نفر است؟ $تقریباً$ ۹ $میلیون$



به مجموعه‌ی افرادی که در یک جا زندگی می‌کنند، جمعیت می‌گویند.

جمعیت را تقریباً کمیته؟



سوال ۶ جمعیت چگونه افزایش می‌یابد؟

اگر تعداد افرادی که متولد می‌شوند از تعداد افرادی که می‌میرند بیشتر باشد، جمعیت افزایش می‌یابد.



سوال ۷ افزایش جمعیت در کشور ما چه خوبی‌هایی دارد؟



ما دوست، نداریم در یک خانواده‌ی کم جمعیت زندگی کنیم. دلمان می‌خواهد با برادرها و خواهرهایمان بازی کنیم، به هم کمک کنیم و تنها نباشیم.



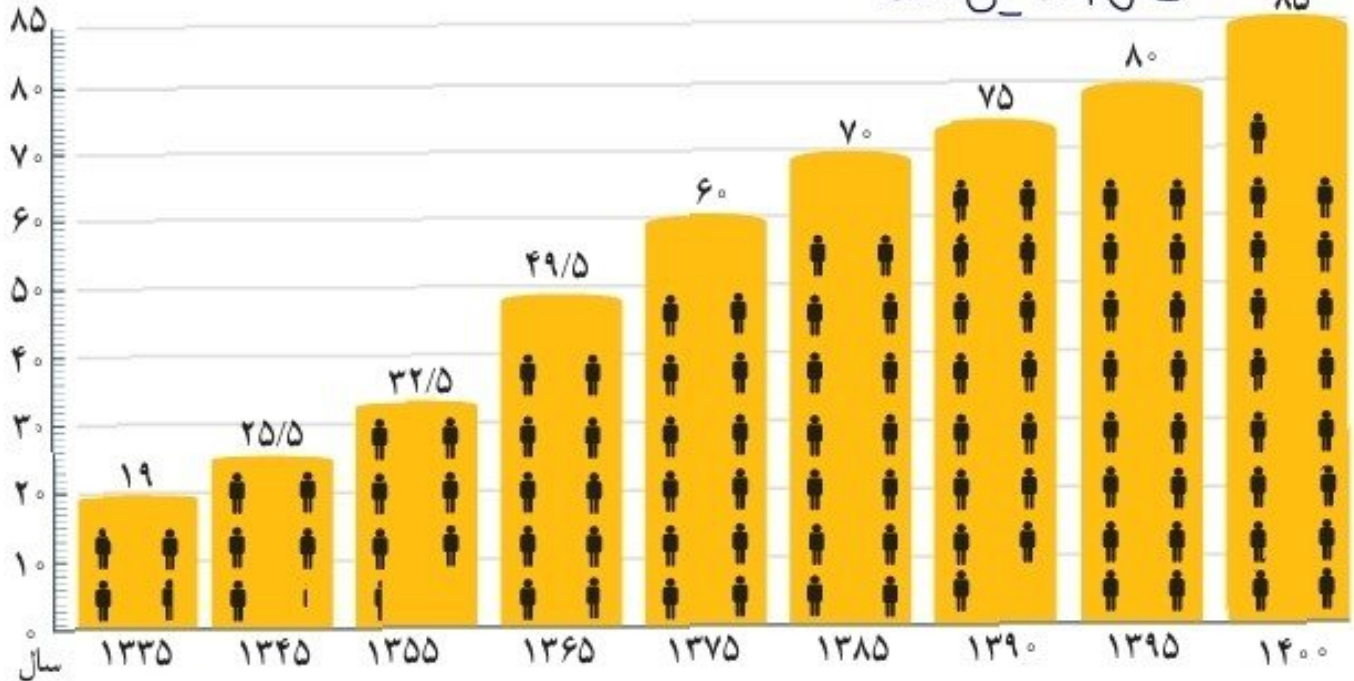
به نظر من وقتی تعداد جوانان یک کشور زیاد باشد، نیروی بیشتری برای کار فراهم می‌شود. علاوه بر این، جوانان با تحصیل و تلاش به پیشرفت کشور کمک می‌کنند.



من فکر می‌کنم، اگر جمعیت زیاد باشد، نیروی زیادی برای دفاع از کشورمان داریم.

جمعیت کشور ما؟

در حال حاضر، جمعیت کشور ما بیش از ۸۰ میلیون نفر است. به نمودار جمعیت ایران توجه کنید و جمعیت کنونی ایران را با جمعیت سال‌های گذشته مقایسه کنید. از این مقایسه چه نتیجه‌ای می‌گیرید؟ جمعیت در ۸۵ سال گذشته است.



هر آدمک پنج میلیون نفر

پراکندگی جمعیت در ایران

به نقشه صفحه‌ی بعد توجه کنید.

همان طور که می‌بینید، جمعیت ایران در همه جای آن به طور یکسان پراکنده نشده است. بعضی نواحی جمعیت بیشتر و بعضی، جمعیت کمتری دارند؛ چرا؟

فعالیت

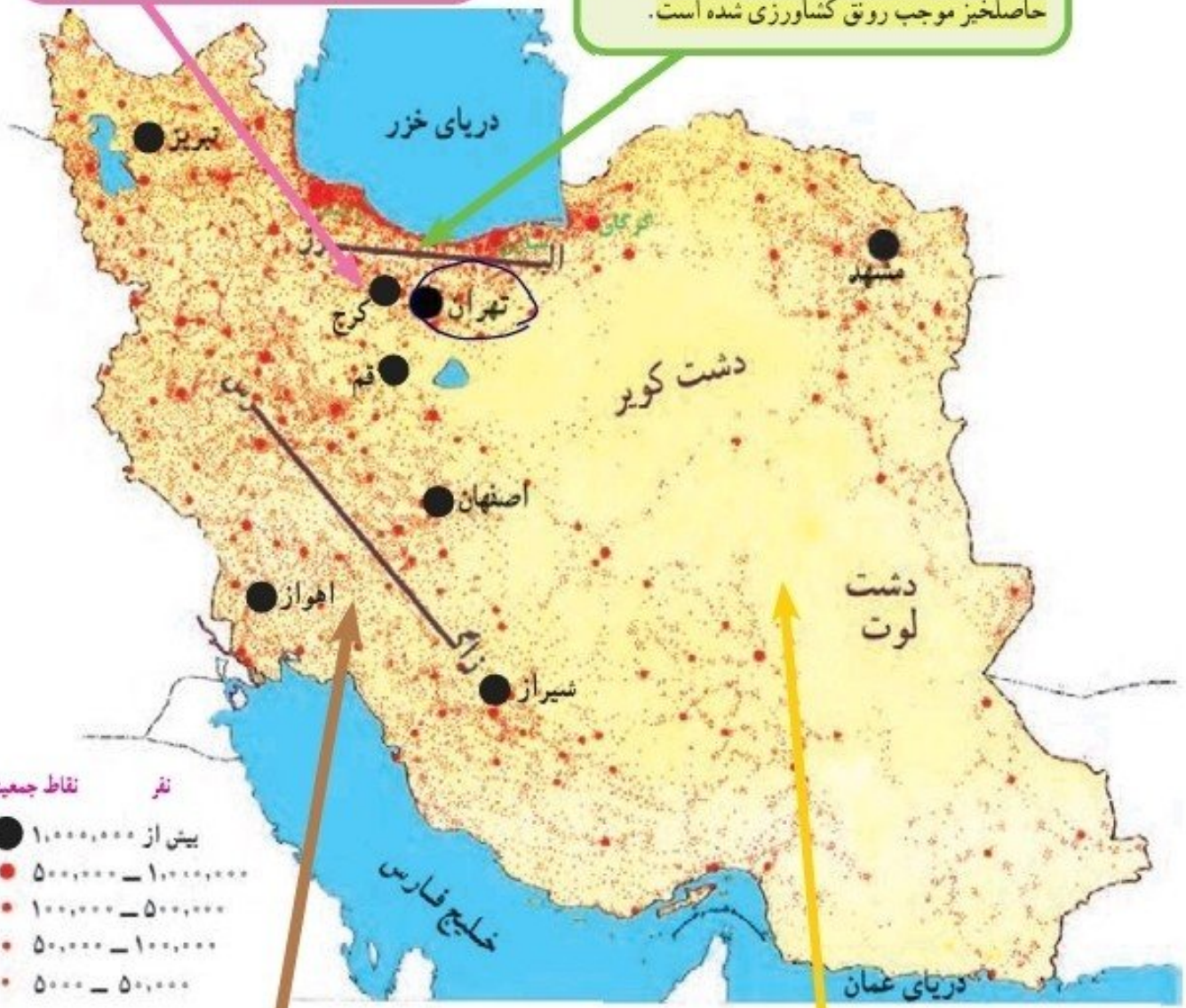
ناحیه ۲: ساری - رست

۶- با توجه به نقشه‌ی صفحه‌ی روبه‌رو، از ناحیه‌ی ۲ و ۳ چند شهر مثال بزنید. ناحیه ۳: کرج - تهران
۷- با کمک معلم، محل تقریبی زندگی خود را در روی نقشه با دایره‌ای مشخص کنید و بگویید جزء کدام نواحی جمعیتی ایران است. ناحیه ۱

۸- هر چه از ناحیه‌ی مرکزی ایران به سمت کوهپایه‌های البرز و زاگرس پیش برویم، تعداد شهرها و روستاهای پر جمعیت، بیشتر می‌شود یا کمتر؟ چرا؟ زیر آّب دهوای خوب، طارد ریه‌ی و خاک آّب ریه‌ی دارد.

۱ چرا
 ناحیه‌ی تهران و اطراف آن پرجمعیت‌ترین جای کشور است؟ تهران به دلیل پایتخت بودن و وجود اداره‌ها، دانشگاه‌ها و کارخانه‌ها، جمعیت زیادی را به خود جذب کرده است.

۲ چرا
 ناحیه‌ی کناره‌ی دریای خزر وسعت کمی دارد اما جمعیت زیادی را در خود جای داده است. در این ناحیه، آب‌وهوای مساعد، باران کافی و خاک حاصلخیز موجب رونق کشاورزی شده است.



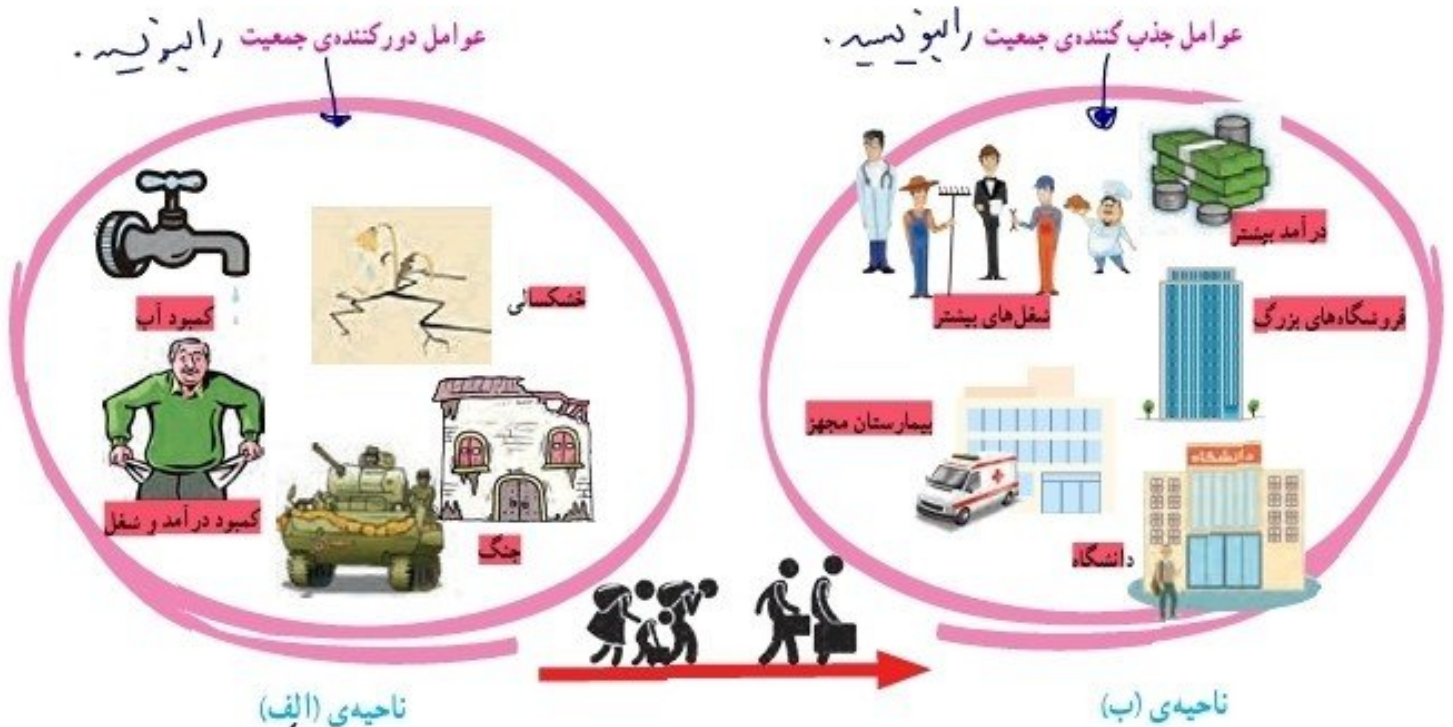
۳ چرا
 در نواحی کوهپایه‌ای رشته‌کوه‌های البرز و زاگرس و کوه‌های آذربایجان و خراسان، به دلیل آب‌وهوای معتدل، خاک آبرفتی و وجود معدن‌های مختلف، تعداد زیادی شهر و روستای پرجمعیت به وجود آمده است.

۴ چرا
 نواحی داخلی ایران به دلیل بارندگی کم، زمین‌های شور و خاک نامناسب، بسیار کم‌جمعیت یا خالی از جمعیت هستند.

چرا نواحی داخلی ایران جمعیت کم است؟

● مهاجرت یعنی چه؟

یکی از دلایل افزایش جمعیت در یک ناحیه، مهاجرت مردم از نواحی دیگر به آنجاست. مهاجرت یعنی اینکه مردم برای زندگی یا کار از جایی به جای دیگر بروند. بعضی از نواحی به دلیل آب و هوای مساعد و خاک حاصلخیز یا وجود کارخانه‌ها و معدن‌ها، جمعیت زیادی را به خود جذب کرده‌اند.



فعالیت

به تصویرهای بالا دقت کنید و پاسخ دهید.

۹- الف) چه عواملی ممکن است موجب شود که مردم یک مکان را ترک کنند و به جای دیگری مهاجرت کنند؟ تا همه الف بالا

ب) چه عواملی باعث می‌شود مردم به یک مکان جذب شوند؟ تا همه ب بالا

۱۰- به نظر شما چه کارها و برنامه‌هایی باید در ناحیه‌ی الف اجرا شود تا جمعیت در همان جا بماند و به ناحیه‌ی ب مهاجرت نکند؟

۱۱- از پدر و مادر و پدر بزرگ و مادر بزرگ خود بپرسید آیا متولد همین مکانی هستند که در آن زندگی می‌کنند، یا به آنجا مهاجرت کرده‌اند. نتیجه را در کلاس به دوستانتان بگویید.