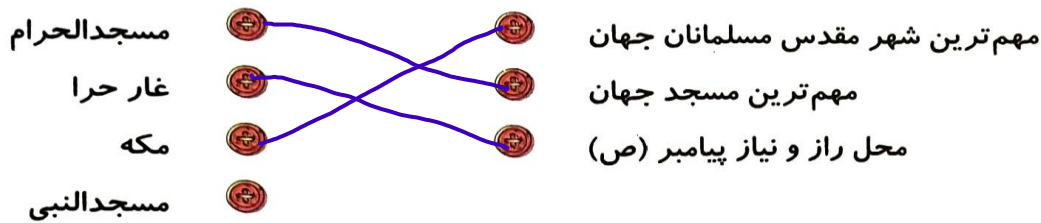


تمرین

۱ موارد مرتبط را به یکدیگر وصل کنید.



۲ درستی و نادرستی هر عبارت را مشخص کنید.

الف: قبله‌ی مسلمانان ایران به سمت جنوب غربی است.

ب: پیامبر اسلام سه سال به صورت علنی مردم را به دین اسلام دعوت کرد.

پ: ابوطالب پدر بزرگ پیامبر (ص) خبر خورده شدن عهد نامه توسط موریانه را به کافران داد.

۳ جاهای خالی را با کلمات مناسب کامل کنید.

الف: خانه‌ی کعبه در شهر مکه قرار دارد.

ب: پیامبر و یارانش به مدت سه سال در شعب ابی طالب به سختی زندگی کردند.

پ: عربستان در ناحیه‌ی بیابانی جنوب عربی واقع شده است و دارای آب و هوای گرم و خشک است.

۴ با انتخاب گزینه‌ی مناسب به پرسش‌های داده شده پاسخ دهید.

الف: نخستین تصمیم کافران و ثروتمندان مکه برای بازداشتن حضرت محمد (ص) از راه خدا چه بوده؟

(۲) پیشنهاد دادن پول و مقام به حضرت محمد (ص)

(۱) آزار و اذیت حضرت محمد (ص) و پیروانش

(۴) تبعید پیامبر و یارانش به شعب ابی طالب

(۳) قطع رابطه با مسلمانان و قطع خرید و فروش و ازدواج

ب: علت آزادانه زندگی کردن مسلمانان در حبشه چه بود؟

(۲) ثروتمند بودن مسلمانان

(۱) نزدیکی با عربستان

(۴) دوری از عربستان

(۳) عادل بودن پادشاه

۵ شبه جزیره را تعریف کنید.

به سز مینی که از یک طرف به آب و از یک طرف به خشکی راه داشته باشد.

۶ چرا شهر مکه در زمان ظهور اسلام مهم ترین شهر عربستان بود؟

۱- خانه خدا و قبله‌ی مسلمانان در آنجا قرار دارد.

۲- مهم ترین مسجد مسلمانان (مسجد الحرام) در این شهر قرار دارد.

۳- محل عبور بازرگانان از اقانوس مکه به روم.

۷ زمان طواف و معنای آن چیست؟
 که مراسم حج - نشستن به دور خانه کعبه (۷ بار کامل)

۸ چرا کافران از گسترش دین اسلام احساس خطر می کردند؟

۱- نمی خواستند بت پرستی از میان مردم برود

۲- نمی خواستند مردم با یکدیگر برابر باشند

۹ عهدنامه ای که برای جلوگیری از گسترش اسلام بود شامل چه مواردی می شد؟
 ۱- قطع رابطه با مسلمانان
 ۲- ازدواج نکردن با مسلمانان
 ۳- عدم خرید و فروش کالا

خودارزیابی

خیلی خوب خوب قابل قبول نیاز به تلاش

<input type="radio"/>	<input type="radio"/>	<input type="radio"/>	<input type="radio"/>
<input type="radio"/>	<input type="radio"/>	<input type="radio"/>	<input type="radio"/>
<input type="radio"/>	<input type="radio"/>	<input type="radio"/>	<input type="radio"/>
<input type="radio"/>	<input type="radio"/>	<input type="radio"/>	<input type="radio"/>

توانایی بیان ویژگی های شبه جزیره

توانایی تشخیص چگونگی پیدا کردن جهت قبله

توانایی بیان رویدادهای مهم زمان پیامبر (ص)

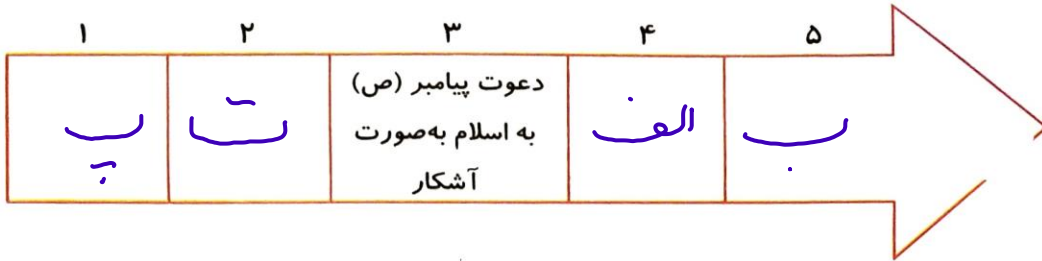
توانایی بیان شرایط زندگی پیامبر (ص) در شعب ابی طالب

فعالیت عملکردی



رویدادهای زیر را به ترتیب روی خط زمان قرار دهید.

۱



الف: هجرت عده‌ای از مسلمانان به حبشه

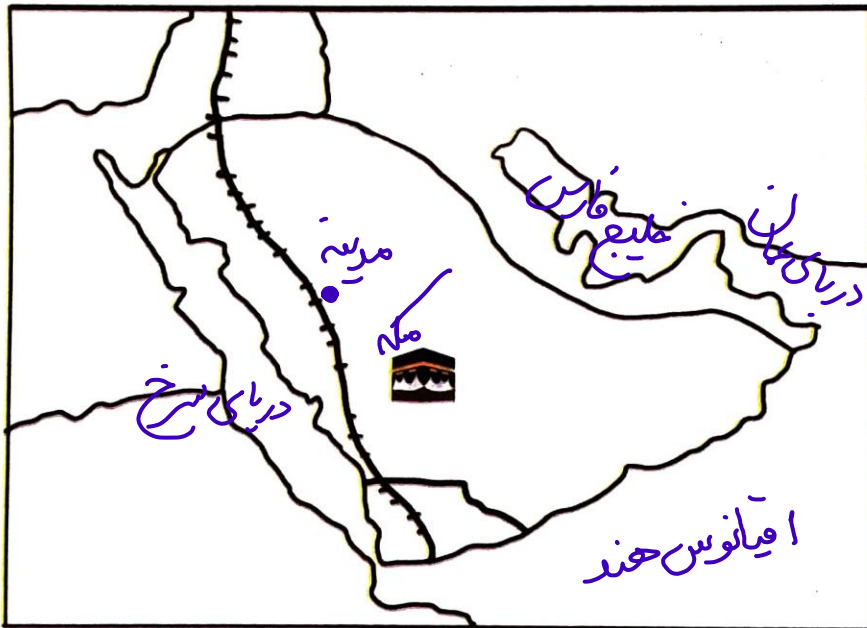
ب: اقامت در شعب ابی طالب

پ: بعثت پیامبر

ت: دعوت پیامبر به اسلام به صورت پنهانی

با توجه به نقشه به سوالات زیر پاسخ دهید.

۲



الف: نام دریاهای اطراف شبه‌جزیره‌ی عربستان را بر روی نقشه مشخص کنید.

ب: مهم‌ترین شهر عربستان در زمان ظهور اسلام را بر روی نقشه مشخص کنید.

پ: شهر مدینه را بر روی نقشه مشخص کنید.

