




درس چهاردهم

«زندگی در نواحی مختلف جهان»

آموختنی‌ها



۱ فهرست نام قاره‌ها و اقیانوس‌های کره‌ی زمین

۲ بیان رابطی انسان و محیط در نواحی مختلف قاره‌ی آسیا




تمرین


۱


موارد مرتبط را به یکدیگر وصل کنید.

- | | |
|----------|---|
| آفریقا | ایران و همسایگانش در این قاره واقع شده‌اند. |
| آسیا | به قاره‌ی اروپا و آسیا بسیار نزدیک است. |
| استرالیا | اقیانوس بین قاره‌ی آمریکا و آفریقا |
| آرام | اقیانوس بین قاره‌ی آسیا و آمریکا |
| اطلس | قاره‌ای که دیرتر کشف شد. |

۲ درستی  و نادرستی  هر عبارت را مشخص کنید.

الف: بیش‌تر گره‌ی زمین را خشکی‌های وسیع فرا گرفته‌اند. 

ب: پوشش گیاهی در نواحی بیابانی، درختان برگ پهن است. 

پ: اروپاییان پس از پیشرفت در دریانوردی، قاره‌ی آمریکا و آفریقا را کشف کردند. 

جاهای خالی را با کلمات مناسب کامل کنید.

الف: خط استوا از جنوب آسیا می‌گذرد.

ب: به خشکی‌های وسیع در میان آب‌ها در روی کره‌ی زمین، گفته می‌شود. **قاره**

پ: به چاله‌های بزرگی که در سطح زمین از آب پر شده‌اند، **اقیانوس** می‌گویند.

ت: و **هند** از پرجمعیت‌ترین کشورهای جهان‌اند.

با انتخاب گزینه‌ی مناسب به پرسش‌های داده شده پاسخ دهید.

الف: پرجمعیت‌ترین قاره‌ی جهان کدام است؟

(۱) اروپا

(۲) آفریقا

✓ (۳) آسیا

(۴) استرالیا

ب: اسکیموها در کدام ناحیه زندگی می‌کنند؟

(۱) خط استوا

✓ (۲) سیبری

(۳) نواحی بیلبانی

(۴) بیابان‌های عربستان

پ: نام کدام اقیانوس دوبار روی نقشه نوشته شده است؟

(۱) منجمد شمالی

✓ (۲) اقیانوس آرام

(۳) اقیانوس اطلس

(۴) اقیانوس هند

ت: کدام یک از ویژگی‌ها به نواحی بیلبانی کره‌ی زمین مربوط نمی‌شود؟

(۱) مزارع موز و نارگیل در این ناحیه وجود دارد. ✓

(۲) پوشش گیاهی فقیر دارد.

(۳) زیستگاه حیواناتی مانند شتر و انواع خزندگان است.

(۴) آب و هوای گرم و خشک دارد.

اقیانوس‌های جهان را نام ببرید.



آرام، هند، اطلس، منجمد شمالی، منجمد جنوبی

حیواناتی که در قطب زندگی می‌کنند، را نام ببرید؟

۶

سگ، گوزن های قطبی

نواحی مختلف جهان از چه جهاتی باهم متفاوتند؟

ناهمواری، آب و هوا، پوشش گیاهی و منابع

طبیعی مانند آب و خاک و معدن زیر زمینی



چرا در جنوب آسیا جنگل‌های انبوهی به وجود آمده است؟



زیرا هوا در طول سال گرم است و هر روز باران می بارد.

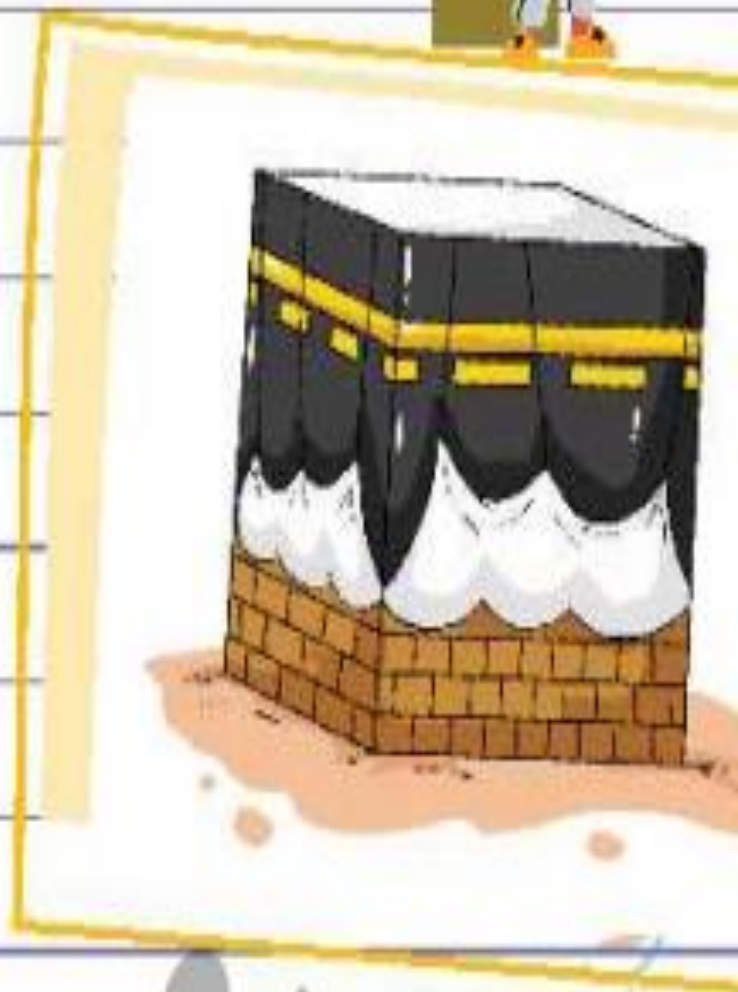


درس پانزدهم

«بازگشت از سفر حج»

آموختنی‌ها

- ۱ آشنایی با مفهوم شبه جزیره
- ۲ شناخت شهرهای مهم عربستان
- ۳ توانایی نمایش جهت قبله روی نقشه
- ۴ درک شرایط پیامبر و یارانش در شعب این طالب
- ۵ توانایی نمایش رویدادهای مهم زمان پیامبر روی خط زمان



تمرین



موارد مرتبط را به یکدیگر وصل کنید.



مسجد الحرام



مهم‌ترین شهر مقدس مسلمانان جهان

غار حرا



مهم‌ترین مسجد جهان

مکه



محل راز و نیاز پیامبر (ص)

مسجد انبی



درستی و نادرستی هر عبارت را مشخص کنید.

الف: قبله‌ی مسلمانان ایران به سمت جنوب‌غربی است.

ب: پیامبر اسلام سه سال به‌صورت علنی مردم را به دین اسلام دعوت کرد.

پ: ابوطالب پدر بزرگ پیامبر (ص) خبر خورده شدن عهد نامه توسط موریانه را به کافران داد.

جاهای خالی را با کلمات مناسب کامل کنید.

الف: خانه‌ی کعبه در شهر مکه قرار دارد.

ب: پیامبر و یارانش به مدت سه سال در شعب ابی طالب به سختی زندگی کردند.

پ: عربستان در ناحیه‌ی بیابانی واقع شده است و دارای آب و هوای گرم و خشک است.

با انتخاب گزینه‌ی مناسب به پرسش‌های داده شده پاسخ دهید.

الف: نخستین تصمیم کافران و ثروتمندان مکه برای بازداشتن حضرت محمد (ص) از راه خدا چه بوده؟

۱) آزار و اذیت حضرت محمد (ص) و پیروانش

۲) پیشنهاد دادن پول و مقام به حضرت محمد (ص) ✓

۳) قطع رابطه با مسلمانان و قطع خرید و فروش و ازدواج

۴) تبعید پیامبر و یارانش به شعب ابی طالب

ب: علت آزادانه زندگی کردن مسلمانان در حبشه چه بود؟

۱) نزدیکی با عربستان

۲) ثروتمند بودن مسلمانان

۳) عادل بودن پادشاه ✓

۴) دوری از عربستان

شبه جزیره را تعریف کنید.



به سرزمینی که از سه طرف به آب و از یک طرف به خشکی راه داشته باشد، شبه جزیره می گویند.

چرا شهر مکه در زمان ظهور اسلام مهم‌ترین شهر عربستان بود؟

این شهر بر سر راه کاروان‌های بازرگانی قرار داشت و خانه کعبه نیز در آنجا بود.

زمان طواف و معنای آن چیست؟



در هنگام حج، ما خانه خدا را طواف می‌کنیم یعنی ۷ بار به دور آن می‌گردیم.

چرا کافران از گسترش دین اسلام احساس خطر می‌کردند؟



زیرا نمی‌خواستند بت پرستی از بین برود و مردم با هم برابر باشند بلکه دوست داشتند همچنان با ظلم و ستم بر مردم حکومت کنند.

۹ عهدنامه‌ای که برای جلوگیری از گسترش اسلام بود شامل چه مواردی می‌شد؟

رابطه خود را با مسلمانان قطع کنند و با آنها خرید و فروش و ازدواج نکنند.