

## مطالعات اجتماعی

جمله‌های زیر را با استفاده از کلمه‌های زیر کامل کنید.

مسجد الحرام - خانه کعبه - قبله‌ی - طواف،

الف) خانه کعبه قبله‌ی مسلمانان جهان است.

ب) خانه‌ی کعبه در مسجد الحرام قرار دارد.

پ) در هنگام حج، ما خانه‌ی کعبه را طواف می‌کنیم.

ت) بزرگ‌ترین و مهم‌ترین مسجد دنیا مسجد الحرام است.

کلمه‌ی صحیح را از داخل کمانک انتخاب کنید و در جای خالی قرار دهید.



الف) مهم‌ترین و بزرگ‌ترین مسجد دنیا که خانه‌ی کعبه در آن قرار دارد، مسجد الحرام است. (مسجد الحرام - بیت المقدس)

ب) به سرزمینی که از سه طرف به آب و یک طرف به خشکی راه دارد، جزیره می‌گویند. (جزیره - شبه جزیره)

پ) در زمان ظهور اسلام مهم‌ترین شهر عربستان مکه بوده است. (مکه - مدینه)

ت) قبله‌ی مسلمانان جهان خانه‌ی کعبه است. (بیت المقدس - خانه‌ی کعبه)

۳



کامل کنید.

الف) حضرت محمد (ص) پس از نقبت مأموریت یافتند که مردم را پنهانی به دین اسلام دعوت کنند.

ب) پیامبر و یارانش مجبور شدند سه سال در یکی از دره‌های مکه به نام شعب ابی طالب در کمال سختی زندگی کنند.

در زمان ظهور اسلام مهم‌ترین شهر عربستان کجا بود؟ چرا؟

مکه زیرا این شهر را سر راه کاروان‌های بازرگان قرار داشت و خانه‌ی کعبه نیز در آن جا بود.


## مطالعات اجتماعی

از داخل کمانک کلمه‌ی درست را انتخاب کنید.


- الف) دومین مسجد مهم مسلمانان مسجد النبی (مسجدالنبی - مسجدالحرام) است.  
ب) نخستین کار پیامبر در شهر مدینه، ساختن مسجد (ساختن مسجد - هجرت) است.

پاسخ پرسش‌های زیر را بنویسید.

- الف) نام قدیم شهر مدینه: پاسخ بیترب (ی):  
ب) آرامگاه پیامبر اسلام در این مکان است: پاسخ مسجد النبی (م):



۳



جملات درست را با  و نادرست را با  مشخص کنید.

الف) ابوسفیان سر دسته‌ی مخالفان پیامبر (ص) در مکه بودند.

ب) پیامبر اسلام (ص) در جنگ بدر شرکت نداشتند.

کدام مورد از اقدامات پیامبر (ص) پس از فتح مکه نبود؟


- ۱) شکستن بت‌ها  ۲) جنگ با افراد داخل کعبه  ۳) بیرون ریختن بت‌ها از داخل کعبه  ۴) دستور خواندن اذان بر بام کعبه

«سفر به کربلا (۱)»

آموختنی‌ها

۱ آشنایی با ویژگی‌های کشور عراق

۲ آشنایی با سرزمین بین‌النهرین



بخوان و بیاموز

کشور عراق از همسایگان غربی ایران می‌باشد. کربلا در کشور عراق قرار دارد که هم از راه زمینی و هم از راه هوایی می‌توان به آن جا سفر کرد. در جدول زیر با ویژگی‌های کشور عراق پیش‌تر آشنا می‌شویم.

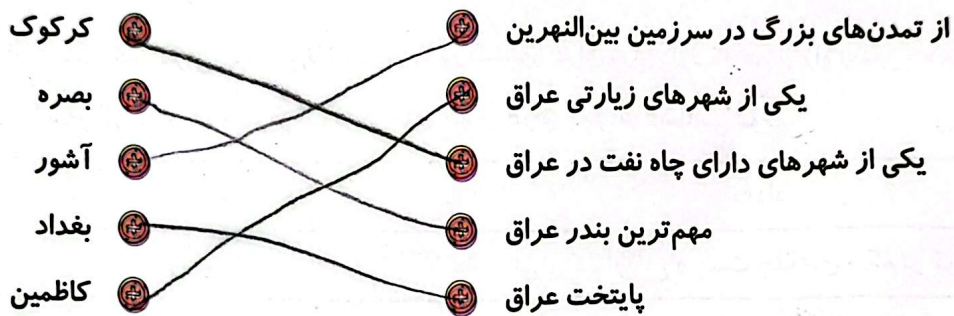
بغداد	پایتخت
بیش‌تر کم ارتفاع و پست جلگه‌ای و کم‌تر کوهستانی	سرزمین
اغلب گرم و خشک و در نواحی کنار دریا گرم و مرطوب	آب و هوا
بصره	مهم‌ترین بندر
خرما	مهم‌ترین محصول
نفت	مهم‌ترین تولیدات
اسلام	دین
عربی	زبان
دجله و فرات	رودهای مهم
صدام	حاکم ستمگر در زمان جنگ با ایران
سومر، آکد، آشور	تمدن‌ها
المطبخ	غذای مشهور
نمرود در نزدیکی موصل	شهر تاریخی
کرکوک و موصل	دو شهر دارای چاه نفت
سامرا - کاظمین - نجف - کربلا	شهرهای مقدس
خلیج فارس	دریا

## بیشتر بدانیم

در گذشته‌های دور به سرزمین‌های میان دو رود دجله و فرات، «بین‌النهرین» یا «میان دو رود» می‌گفتند. به همین دلیل در این منطقه، تمدن‌های کهن و بزرگی به وجود آمدند و پیامبران زیادی در این منطقه زندگی می‌کردند.

## تمرین

۱ موارد مرتبط را به یکدیگر وصل کنید.



۲ درستی و نادرستی هر عبارت را مشخص کنید.

الف: کشور عراق در ...  نادرستی  درستی ... ایران قرار دارد.

ب: ...  خرمشهر ... مهم‌ترین محصول کشاورزی عراق است.

پ: ...  نفت ... از مهم‌تری تولیدات عراق است.

ت: سرزمین بین‌النهرین بین دو رود ...  دجله ... و ...  فرات ... قرار داشته است.

۳ چرا مردم عراق در شرایط سختی زندگی می‌کنند؟

زیر بار دشمنی‌های زیادی هم در شمال، نفت این کشور هم با مشکل مواجه است و هم‌چنین خاطر حبیبت‌های داخلی و حضور آدم‌های خارجی باعث ایجاد ناامنی و ضعف اقتصادی و اجتماعی نامناسب برای مردم عراق شده است.

۴ چرا در کشور عراق بناها و آثار باستانی زیادی وجود دارد؟

حدود ده هزار سال پیش تمدن‌های بزرگی مانند سومر، اکد و آشور در سرزمین بین‌النهرین در میان دو رود دجله و فرات به وجود آمدند. همین دلیل در این کشور بناها و آثار باستانی زیادی وجود دارد.

۵ رود مشترک بین ایران و عراق را از روی نقشه نام ببرید.

رودهای دجله و فرات و سین کارون پدید آمده است.

