

رسالة الرجوع من الرجوع



دوسری سہ ماہی

سفر بہ اُتر بیللا (۱)



سفر به کربلا (۱)

عصر یک روز عماد با خوشحالی فراوان به خانه آمد و با صدایی بلند و شاد گفت: «مادر جان سلام! خیلی خوشحالم! زیارت کربلا نصیب من شده است! خدا را شکر!»

رضا، برادر عماد، از اتاق بیرون دوید. مادر نیز جلو آمد و گفت: «راستی؟ می‌خواهی بروی کربلا؟» عماد با هیجان توضیح داد: «من و هم‌کلاسی‌ام مسعود، در مسابقه‌ی علمی دانشگاه اول شدیم. «روباتی» که ساخته بودیم بالاترین امتیاز را آورد. یکی از جوایز آن مسابقه هم سفر به کربلا بود. ما هفته‌ی آینده عازم کربلا هستیم.»

عماد دانشجوی رشته‌ی مهندسی مکانیک بود و از کودکی به تحقیق و کارهای علمی علاقه‌ی زیادی داشت. مادر رو به عماد کرد و گفت: «پسرم، موفقیت تو را تبریک می‌گویم. خوش به حالت که چنین سعادت نصیب شده است! پدرت چقدر از شنیدن این خبر خوشحال می‌شود. باید خودت را برای این سفر مقدس آماده کنی.»



رضا پرسید: «کربلا کجاست؟ خیلی دور است؟»

عماد گفت: «کربلا در کشور همسایه‌ی ایران، عراق قرار دارد. هم از راه زمینی و هم از راه هوایی می‌توان به

عراق سفر کرد. ما از راه هوایی یعنی با هواپیما می‌رویم.»

رضا با هیجان گفت: «پس به یک کشور دیگر می‌روی؟» و عماد با خوشحالی جواب داد: «بله ... اما قبل

از سفر باید اطلاعاتی درباره‌ی آنجا به دست بیاورم. اگر تکالیفت را انجام داده‌ای بیا در اینترنت جست‌وجو کنیم.

می‌خواهم نقشه‌ی عراق و موقعیت مکان‌های زیارتی آنجا را ببینم.»

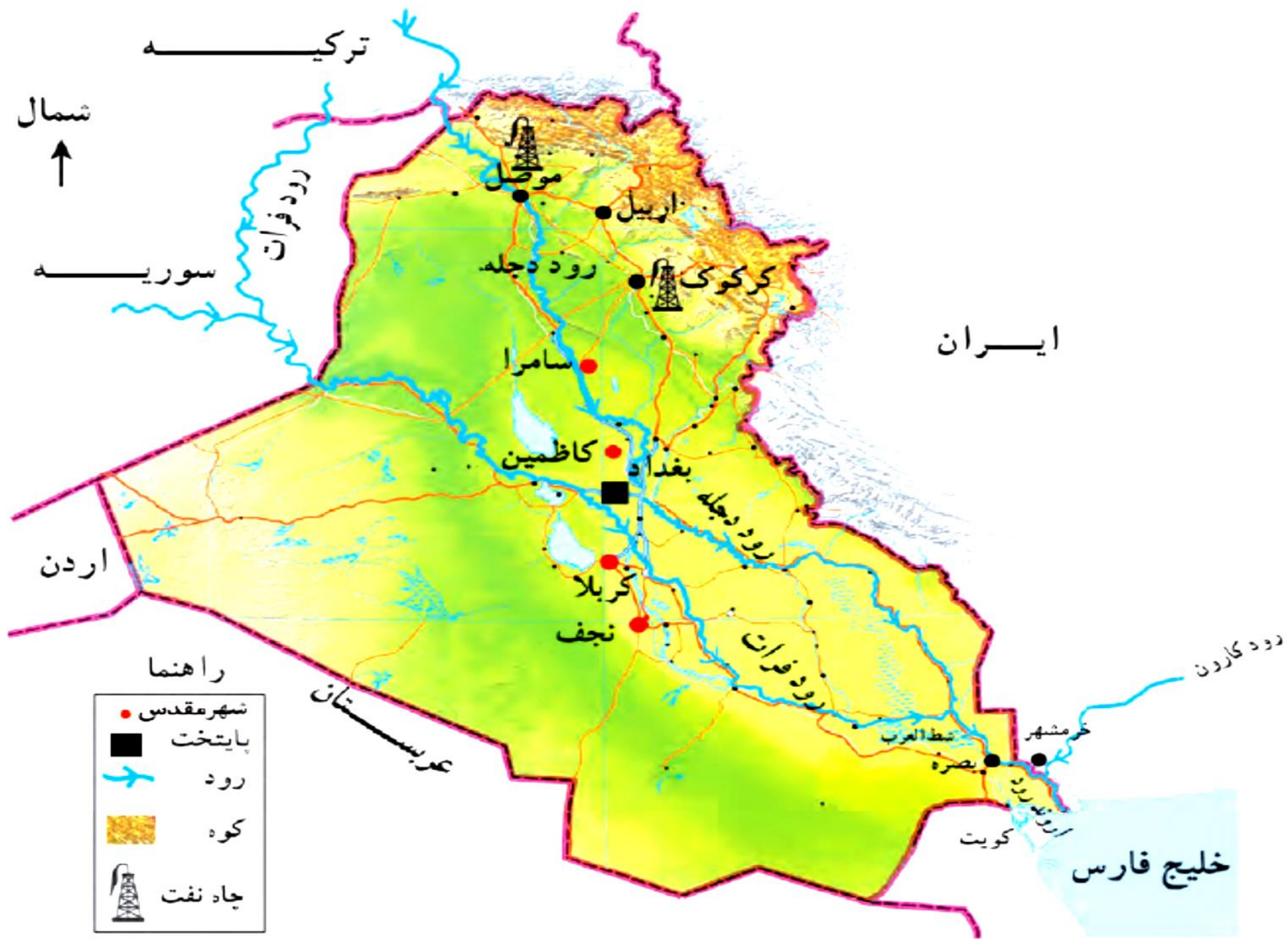


مطالعه برای
انجام فعالیت

جمهوری عراق

عراق، همسایه‌ی غربی ایران است.

بیشتر خاک عراق را زمین‌های کم‌ارتفاع و پست جلگه‌ای تشکیل می‌دهد و فقط قسمت کوچکی از شمال این کشور، کوهستانی است. جلگه‌ی پهناور عراق از آبرفت دو رود پرآب دجله و فرات تشکیل شده است. آب و هوای عراق بسیار گرم و خشک است و در تابستان‌ها، دمای هوا به بالاتر از 40° درجه‌ی سانتی‌گراد می‌رسد. البته در نواحی کنار دریا هوا گرم و مرطوب است.



عراق کشوری نفت‌خیز است و از تولید و صادرات نفت، درآمد زیادی دارد.

مهم‌ترین محصول کشاورزی عراق، خرماست و در این کشور، نخلستان‌های زیادی وجود دارد.

بیشتر مردم عراق مسلمان‌اند و بیش از نیمی از جمعیت این کشور را شیعیان تشکیل می‌دهند. اکثر مردم عراق به زبان عربی صحبت می‌کنند.

مردم عراق در سال‌های حکومت «صدام»، حاکم ظالم این کشور، زندگی سختی داشتند. حکومت صدام در سال ۱۳۵۹ به کشور ما حمله کرد و باعث شروع جنگی شد که هشت سال طول کشید. حکومت صدام، پس از اشغال نظامی کشور عراق توسط آمریکا سرنگون شد.



بندر بصره



حضور نظامیان در عراق

از آن زمان تاکنون نیز مردم عراق به دلیل جنگ‌های داخلی و حضور گروه‌های خارجی، در ناامنی به سر می‌برند و وضع اقتصادی و اجتماعی مناسبی ندارند.

حدود چهار هزار سال پیش، تمدن‌های بزرگی مانند سومر، آکد و آشور در سرزمین بین‌النهرین (میان دو رود دجله و فرات) به وجود آمدند. به همین دلیل، در این کشور بناها و آثار باستانی زیادی وجود دارد.




شهر تاریخی نمرود در نزدیکی موصل



یکی از غذاهای محلی عراق

غذای مشهور مردم عراق «المطَبک» است که از گوشت و برنج تهیه می‌شود. نوعی شیرینی هم که با آرد، روغن، شکر، خرما و کنجد درست می‌شود، در بین بچه‌ها طرفداران زیادی دارد.



فعالیت

۱- متن درس جمهوری عراق را مطالعه کنید و کاربرگی شماره‌ی (۱۳) را در کلاس انجام دهید.



عراق

متن مربوط به جمهوری عراق را بخوانید و با توجه به نقشه و متن، به طور گروهی به پرسش‌ها پاسخ دهید.

نقشه‌خوانی

- ۱- کشور عراق به کدام دریا راه دارد؟ **خیلج فارس**
- ۲- مهم‌ترین بندر عراق چه نام دارد؟ **بصره**
- ۳- جلگه‌ی پهناور عراق از آب‌رفت کدام رودها پدید آمده‌است؟ **دجله و فرات**
- ۴- دو شهر عراق را که چاه نفت دارند، نام ببرید. **کرکوک و موصل**
- ۵- شهرهای مقدس و زیارتی عراق را نام ببرید. **کربلا، نجف، کاظمین و سامرا**



دجله، فرات، شط العرب، اروندرود و کارون

۶- با توجه به نقشه‌ی روبه‌رو:

الف) نام رودها را بنویسید.

ب) بگویید کدام رود از داخل ایران به اروندرود می‌ریزد.

کارون

۷- ایران و عراق در صادرات کدام کالا، شبیه به هم هستند؟ **نفت و خرما**

در طول هزاران سال تمدن‌های بسیاری مثل آکد و آشور، در سرزمین بین‌النهرین (بین رودهای دجله و فرات) در عراق به وجود آمده. به همین دلیل عراق آثار باستانی زیادی دارد.

۹- چرا مردم عراق در شرایط سختی زندگی می‌کنند؟ **به دلیل جنگ داخلی و حضور نیروهای خارجی در این کشور**

درس

شانزده

سفر به گریلا (1)





کربلا در کشور همسایه ایران، عراق قرار دارد. هم از راه زمینی و هم از راه هوایی می‌توان به عراق سفر کرد.

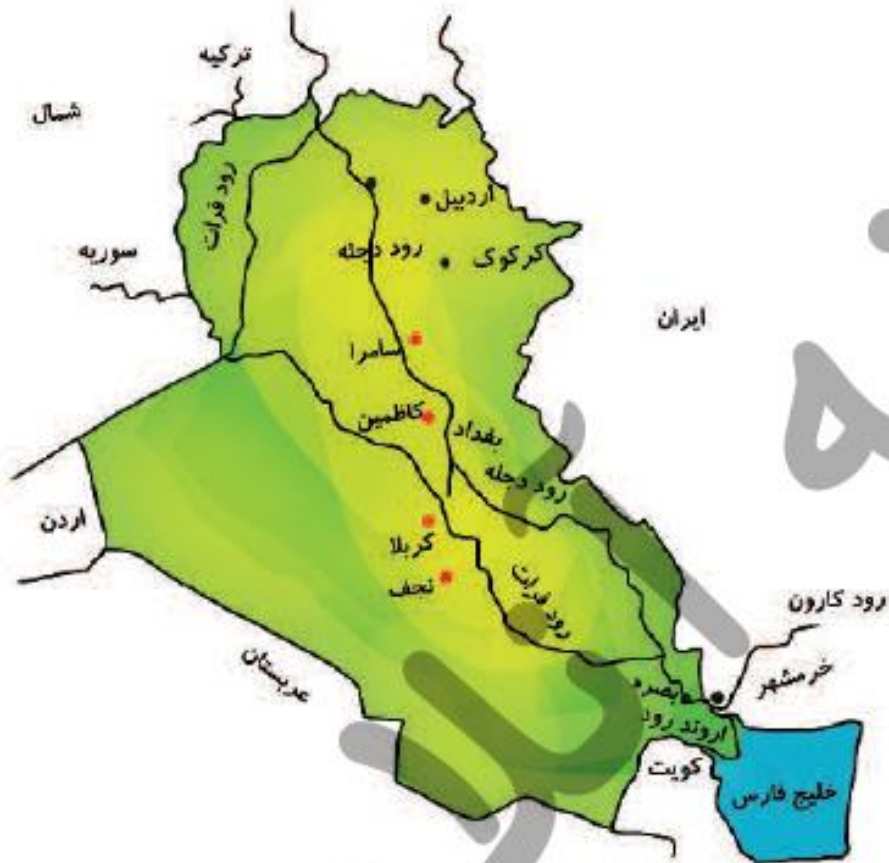
جمهوری عراق



عراق از همسایگان غربی ایران است.

بیشتر خاک عراق را زمین‌های کم‌ارتفاع و پست جلگه‌ای تشکیل می‌دهد و فقط قسمت کوچکی از شمال این کشور، کوهستانی است. جلگه‌ی پهناور عراق از آبرفت دو رود پر آب دجله و فرات تشکیل شده است.

آب و هوای عراق بسیار گرم و خشک است و در تابستان‌ها، دمای هوا به بالاتر از ۴۰ درجه‌ی سانتی‌گراد می‌رسد. البته در نواحی کنار دریا هوا گرم و مرطوب است.



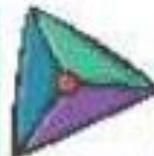
مهم‌ترین محصول کشاورزی عراق، خرماسست و در این کشور، نخلستان‌های زیادی وجود دارد.

بیشتر مردم عراق مسلمان‌اند و بیش از نیمی از جمعیت این کشور را شیعیان تشکیل می‌دهند. اکثر مردم عراق به زبان عربی صحبت می‌کنند.

مردم عراق در سال‌های حکومت «صدام»، حاکم ظالم این کشور، زندگی سختی داشتند. حکومت صدام در سال ۱۳۵۹ به کشور ما حمله کرد و باعث شروع جنگی شد که هشت سال طول کشید. حکومت صدام، پس از اشغال نظامی کشور عراق، توسط آمریکا سرنگون شد. از آن زمان تا کنون نیز مردم عراق به دلیل جنگ‌های داخلی و حضور گروه‌های خارجی، در ناامنی به سر می‌برند و وضع اقتصادی و اجتماعی مناسبی ندارند.

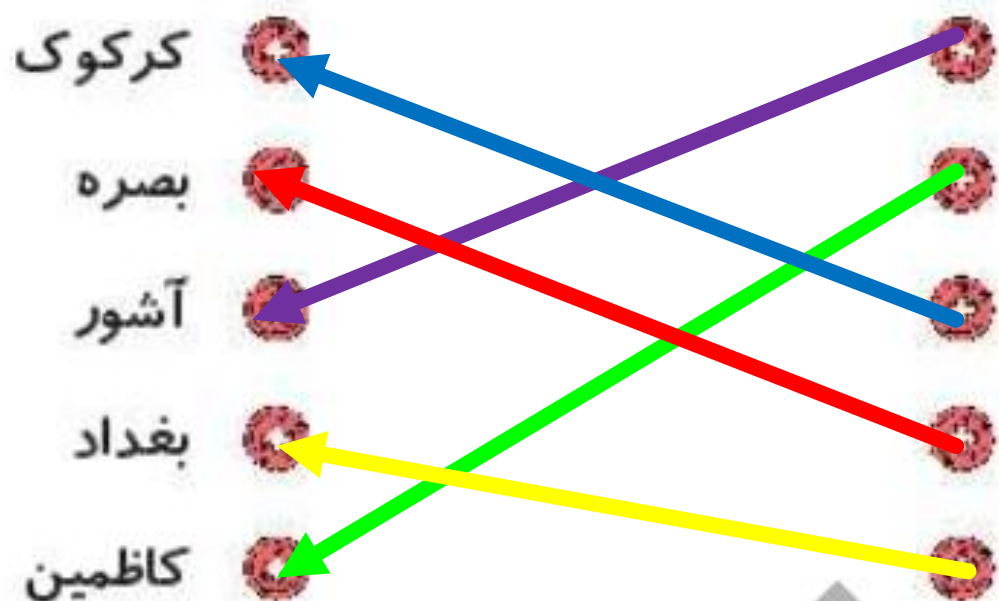
حدود چهار هزار سال پیش، تمدن‌های بزرگی مانند سومر، آکد و آشور در سرزمین بین‌النهرین (میان دو رود دجله و فرات) به وجود آمدند. به همین دلیل، در این کشور بناها و آثار باستانی زیادی وجود دارد.

تمرین



موارد مرتبط را به یکدیگر وصل کنید.

۱



از تمدن‌های بزرگ در سرزمین بین‌النهرین

یکی از شهرهای زیارتی عراق

یکی از شهرهای دارای چاه نفت در عراق

مهم‌ترین بندر عراق

پایتخت عراق

۲

درستی و نادرستی هر عبارت را مشخص کنید.

الف: کشور عراق در **غرب** ایران قرار دارد.

ب: **خرما** مهم‌ترین محصول کشاورزی عراق است.

پ: **نفت** از مهم‌تری تولیدات عراق است.

ت: سرزمین بین‌النهرین بین دو رود **دجله** و **فرات** قرار داشته است.

چرا مردم عراق در شرایط سختی زندگی می‌کنند؟

۳

به دلیل جنگ‌های داخلی و حضور نیروهای خارجی در کشورشان

چرا در کشور عراق بناها و آثار باستانی زیادی وجود دارد؟

۴

زیرا حدود ۴۰۰۰ سال پیش تمدن‌های بزرگی مثل سومر، آکد و آشور در سرزمین‌های بین‌النهرین (میان دو رود دجله و فرات) به وجود آمدند.

رود مشترک بین ایران و عراق را از روی نقشه نام ببرید.

۵

اروند رود

فعالیت عملکردی



۱

جاهای مشخص شده را نام گذاری کنید.

ترکیه

الف: نام همسایه‌ی شمالی عراق

ب: دو رود مهم کشور عراق دجله و فرات

پ: نام شهرهای مقدس کشور عراق کربلا و نجف

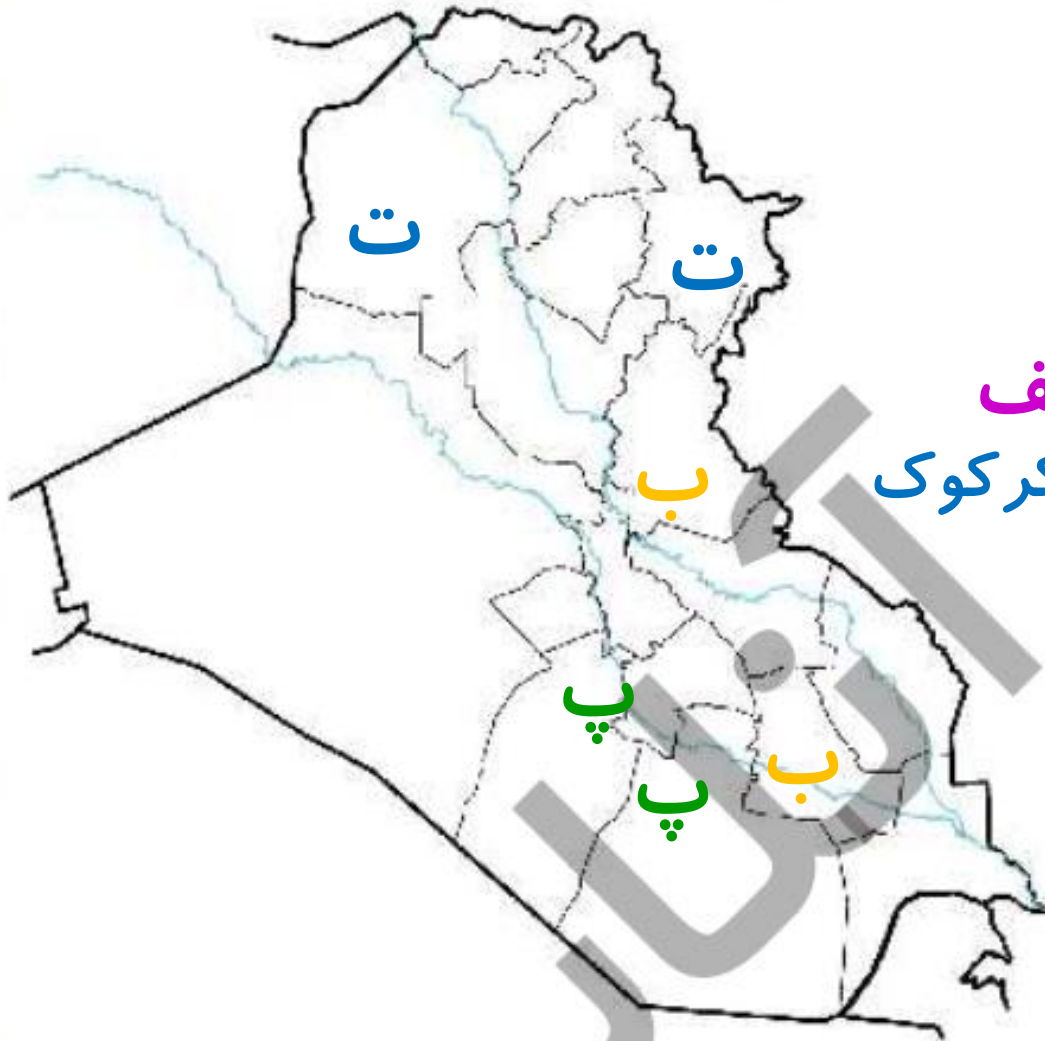
ت: نام دو شهر که دارای چاه نفت هستند. موصل و کرکوک

۲

با جست و جو در اینترنت بیان کنید که چه پیامبرانی

در بین النهرین به دنیا آمده یا زندگی می کردند.

الف



بِسْمِ اللَّهِ الرَّحْمَنِ الرَّحِيمِ
الْحَمْدُ لِلَّهِ الَّذِي
خَلَقَ السَّمَوَاتِ وَالْأَرْضَ
وَالَّذِي جَعَلَ الْقُرْآنَ
عَرَبِيًّا لَعَلَّكُمْ تَعْقِلُونَ



درس پانزدہم





نام قدیم شهر مدینه، یثرب است؛ اما زمانی که پیامبر اکرم (ص) از مکه به مدینه هجرت کردند، نام این شهر به **مدینه النبی** یا **شهر پیامبر** تغییر یافت.

دومین مسجد مهم مسلمانان **مسجد النبی** است که در شهر مدینه قرار دارد.



زمانی که آزار و اذیت کافران زیاد شد و گروهی از آنها تصمیم گرفتند، پیامبر را شبانه در خانه‌شان به قتل برسانند. حضرت محمد به اراده‌ی خداوند از تصمیم آن‌ها باخبر شد و ماجرا را با حضرت علی (ع) در میان گذاشت. حضرت علی (ع) داوطلب شد تا برای حفظ جان پیامبر، شب در بستر ایشان بخوابد و ایشان از مکه بیرون برود و به مدینه سفر کند. به سفر پیامبر از مکه به مدینه هجرت می‌گویند. با ورود پیامبر به مدینه، مسلمانان آن شهر به گرمی از ایشان استقبال

هجرت پیامبر اکرم از مکه به مدینه، رویداد مهمی در تاریخ اسلام است، به همین دلیل مسلمانان آن را مبدأ تاریخ خود می دانند.

وقتی می گوئیم سال ۱۳۹۰ هجری شمسی (خورشیدی) یعنی ۱۳۹۰ سال شمسی از هجرت پیامبر از مکه به مدینه گذشته است. نخستین کار پیامبر در شهر مدینه، **ساختن مسجد و سپس تشکیل حکومت اسلامی بود**. مسجد علاوه بر محل عبادت و نماز، مکانی برای آموزش و تربیت، داوری و حل اختلافات، مشورت و تصمیم گیری درباره‌ی مسائل مهم بود. پیامبر (ص) جنگ و خونریزی را دوست نداشت، اما چون می دید که دشمنان از مخالفت با مسلمانان و اذیت و آزار آنها دست برنمی دارد، به فرمان خدا برای حفظ دین و دفاع از مسلمانان بارها با دشمنان جنگید. به این نوع جنگ «جهاد در خدا» می گویند.

مهم‌ترین جنگ‌هایی که پیامبر در آن‌ها شرکت داشتند عبارتند از: بدر، احد، خندق، احزاب.

دعوت به اسلام هر روز با استقبال بیشتری روبه‌رو می‌شد. با وجود این، کافران از مخالفت و جنگ با مسلمانان دست بر نمی‌داشتند.

سرانجام پیامبر با سپاهی عظیم به طرف مکه حرکت کرد. ابوسفیان که سر دسته مخالفان پیامبر در مکه بود، با دیدن لشکر


نیرومند اسلام فهمید که مقاومت بی‌نتیجه است و اعلام کرد که مسلمان شده است. به دنبال او، مخالفان دیگر نیز تسلیم شدند و

به این ترتیب، مسلمانان بدون جنگ و خونریزی شهر مکه را فتح کردند. پس از فتح مکه حضرت محمد (ص) وارد خانه‌ی کعبه

شدند. بت‌ها را شکست و از آن‌جا بیرون ریخت و دستور داد که بر بام کعبه اذان بگویند.

پیامبر اسلام در ۶۳ سالگی در شهر مدینه، رحلت فرمود. آرامگاه ایشان در مسجدالنبی است.

ویژگی‌های رفتاری پیامبر (ص)



پیامبر اکرم (ص) با رفتار و کردار نیکوی خود به مردم درس می‌داد.



ایشان مانند مردم عادی زندگی می‌کرد.



خانه، غذا و لباسش ساده بود.



هرگز خود را از دیگران برتر نمی‌دانست.



نسبت به دوستان و مؤمنان، مهربان و نسبت به کافران و دشمنان، سرسخت بود و کودکان را بسیار دوست داشت. پیامبر



همواره با چهره‌ی خندان و اخلاق خوش با مردم روبه‌رو می‌شد. رفتار و کردار ایشان بهترین سرمشق و الگو برای ماست.

تمرین



موارد مرتبط را به یکدیگر وصل کنید.



- | | | | |
|---------|---|----------------------------------|--|
| مکه |  | مسجد النبی در این شهر قرار دارد. |  |
| مدینه |  | نام قدیم شهر مدینه است. |  |
| یثرب |  | شروع هجرت پیامبر از این شهر بود. |  |
| عربستان |  | | |
- Three colored arrows are drawn across the list: a blue arrow from the top-right icon to the 'مکه' icon, a pink arrow from the top-right icon to the 'مدینه' icon, and a green arrow from the top-right icon to the 'یثرب' icon.

۲ درستي و نادرستي هر عبارت را مشخص کنید.

الف: پیامبر در سن ۴۰ سالگی رحلت فرمودند. ۶۳ سالگی

ب: حضرت محمد (ص) ماجرای قتل خود توسط کافران را با عموبش ابوطالب در میان گذاشت.

پ: ابوسفیان سردسته‌ی مخالفان پیامبر (ص) در مکه بود.

ت: رفتار و کردار حضرت علی (ع) بهترین سرمشق و الگو برای ماست.

در میان گذاشت.

رفتار و کردار پیامبر اسلام بهترین سرمشق و الگوی ماست.

جاهای خالی را با کلمات مناسب کامل کنید.

الف: آرامگاه پیامبر (ص) در است.
مسجد النبی

ب: به سفر پیامبر از مکه به مدینه می‌گویند.
مدینه

تشکیل حکومت اسلامی

پ: نخستین کار پیامبر در شهر
مدینه
ساختن مسجد و سپس بود.

ت: وقتی کافران تصمیم به قتل پیامبر گرفتند امام علی (ع) داوطلبانه در بستر ایشان خوابید.

۴

با انتخاب گزینه‌ی مناسب به پرسش داده شده پاسخ دهید.

مبدأ تاریخ مسلمانان چه زمانی بوده است؟

هجرت پیامبر (ص) از مکه به مدینه 

۲) هجرت پیامبر (ص) از مدینه به مکه

۳) بعثت پیامبر (ص)

۴) ولادت پیامبر (ص)

۵ جهاد در راه خدا به چه معنی است؟



در اسلام جنگ برای حفظ دین و دفاع از مسلمانان را جهاد در راه خدا می نامند.

۶ مهم ترین جنگ هایی که پیامبر در آن ها شرکت داشتند را نام ببرید.



بدر ، احد و خندق (احزاب)

در مساجد علاوه بر عبادت و نماز چه فعالیت‌هایی انجام می‌شد؟



علاوه بر نماز و عبادت مکانی برای آموزش و تربیت ، حل اختلافات ،
داوری ، مشورت و تصمیم‌گیری در باره ی مسائل مهم

در سال ۱۵۰۰ هجری شمسی چند قرن از هجرت پیامبر گذشته است؟ ۱۵ قرن



فعالیت عملکردی



نمودارهای زیر را کامل کنید.

۱

مبدأ تاریخ: هجرت پیامبر از مکه به مدینه

آرامگاه: مسجدالنبی

تاریخ رحلت: ۶۳ سالگی

فتح (بدون جنگ): مکه

سر دسته مخالفان مکه: ابوسفیان

مهم ترین جنگها: بدر، احد و خندق (احزاب)

نخستین کار در مدینه: ساخت مسجد، تشکیل حکومت اسلامی

سن

پیامبر

نسخه

برای شروع نباید عالی باشی،
اما برای عالی بودن باید
شروع کنی.

