

دار سے

سنانز شاہ

سفر بہ گر بلا (1)





کربلا در کشور همسایه ایران، عراق قرار دارد. هم از راه زمینی و هم از راه هوایی می‌توان به عراق سفر کرد.

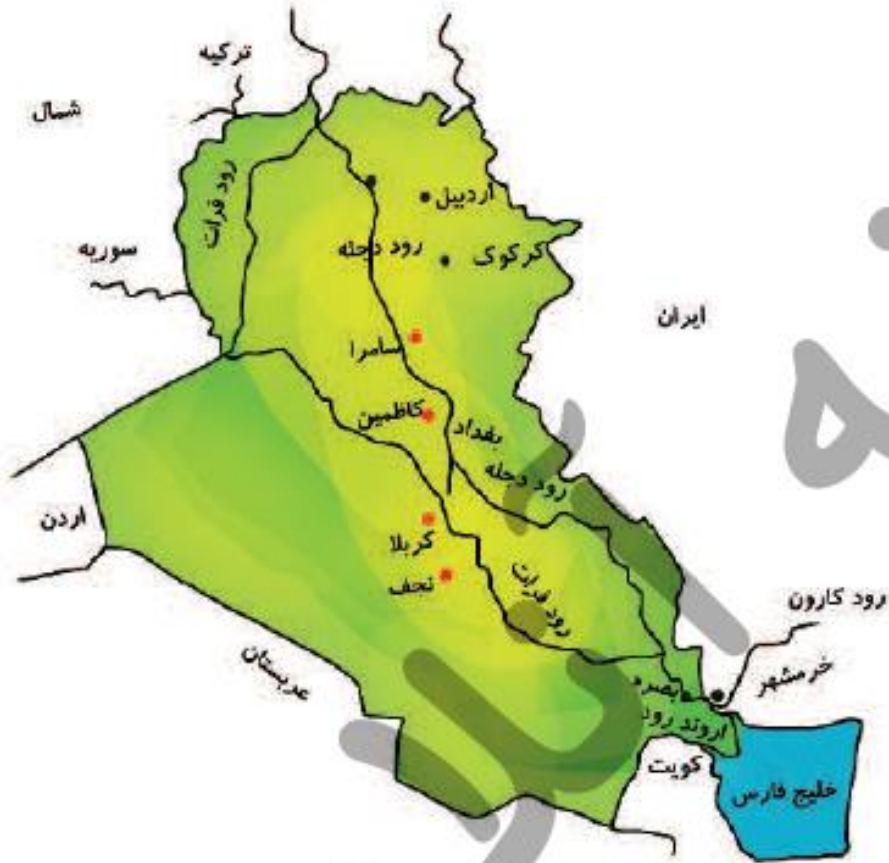
جمهوری عراق



عراق از همسایگان غربی ایران است.

بیشتر خاک عراق را زمین‌های کم‌ارتفاع و پست جلگه‌ای تشکیل می‌دهد و فقط قسمت کوچکی از شمال این کشور، کوهستانی است. جلگه‌ی پهناور عراق از آبرفت دو رود پرآب دجله و فرات تشکیل شده است.

آب و هوای عراق بسیار گرم و خشک است و در تابستان‌ها، دمای هوا به بالاتر از ۴۰ درجه‌ی سانتی‌گراد می‌رسد. البته در نواحی کنار دریا هوا گرم و مرطوب است.



مهم‌ترین محصول کشاورزی عراق، خرماست و در این کشور، نخلستان‌های زیادی وجود دارد.

بیشتر مردم عراق مسلمان‌اند و بیش از نیمی از جمعیت این کشور را شیعیان تشکیل می‌دهند. اکثر مردم عراق به زبان عربی صحبت می‌کنند.

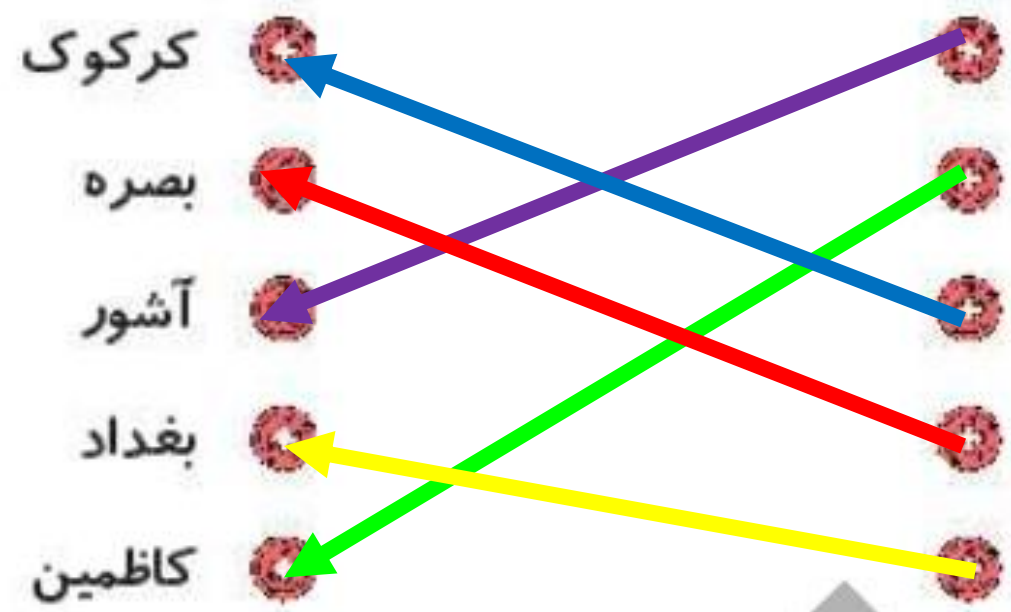
مردم عراق در سال‌های حکومت «صدام»، حاکم ظالم این کشور، زندگی سختی داشتند. حکومت صدام در سال ۱۳۵۹ به کشور ما حمله کرد و باعث شروع جنگی شد که هشت سال طول کشید. حکومت صدام، پس از اشغال نظامی کشور عراق، توسط آمریکا سرنگون شد. از آن زمان تا کنون نیز مردم عراق به دلیل جنگ‌های داخلی و حضور گروه‌های خارجی، در ناامنی به سر می‌برند و وضع اقتصادی و اجتماعی مناسبی ندارند.

حدود چهار هزار سال پیش، تمدن‌های بزرگی مانند سومر، آکد و آشور در سرزمین بین‌النهرین (میان دو رود دجله و فرات) به وجود آمدند. به همین دلیل، در این کشور بناها و آثار باستانی زیادی وجود دارد.

تمرین



موارد مرتبط را به یکدیگر وصل کنید.



- از تمدن‌های بزرگ در سرزمین بین‌النهرین
- یکی از شهرهای زیارتی عراق
- یکی از شهرهای دارای چاه نفت در عراق
- مهم‌ترین بندر عراق
- پایتخت عراق

۲ درست و نادرستی هر عبارت را مشخص کنید.

الف: کشور عراق در **غرب** ایران قرار دارد.

ب: **خرما** مهم‌ترین محصول کشاورزی عراق است.

پ: **نفت** از مهم‌تری تولیدات عراق است.

ت: سرزمین بین‌النهرین بین دو رود **دجله** و **فرات** قرار داشته است.

۳ چرا مردم عراق در شرایط سختی زندگی می‌کنند؟

به دلیل جنگ‌های داخلی و حضور نیروهای خارجی در کشورشان

۴ چرا در کشور عراق بناها و آثار باستانی زیادی وجود دارد؟

زیرا حدود ۴۰۰۰ سال پیشتمدن‌های بزرگی مثل سومر، آکد و آشور در

سرزمین‌های بین‌النهرین (میان دو رود دجله و فرات) به وجود آمدند.

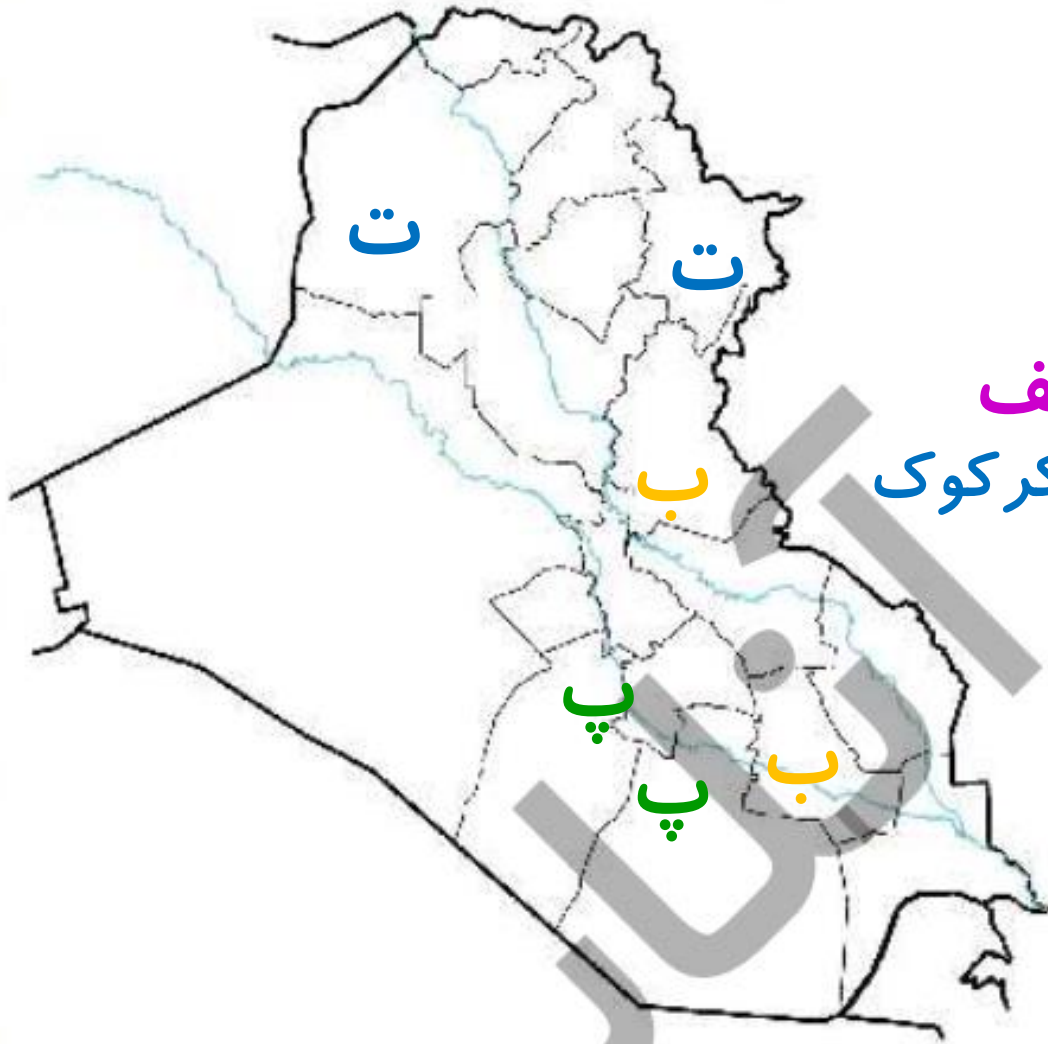
۵ رود مشترک بین ایران و عراق را از روی نقشه نام ببرید.

اروند رود

فعالیت عملکردی



الف



۱

جاهای مشخص شده را نام گذاری کنید.

ترکیه

الف: نام همسایه‌ی شمالی عراق

ب: دو رود مهم کشور عراق دجله و فرات

پ: نام شهرهای مقدس کشور عراق کربلا و نجف

ت: نام دو شهر که دارای چاه نفت هستند. موصل و کرکوک

۲

با جست و جو در اینترنت بیان کنید که چه پیامبرانی

در بین النهرین به دنیا آمده یا زندگی می کردند.

ج) فعالیت عملکردی

جاهای مشخص شده در نقشه را نام گذاری کنید.

الف) نام همسایه شرقی عراق **ایران**

ب) عراق به کدام دریا راه دارد؟ **خلیج فارس**

پ) مهم ترین بندر عراق **بصره**

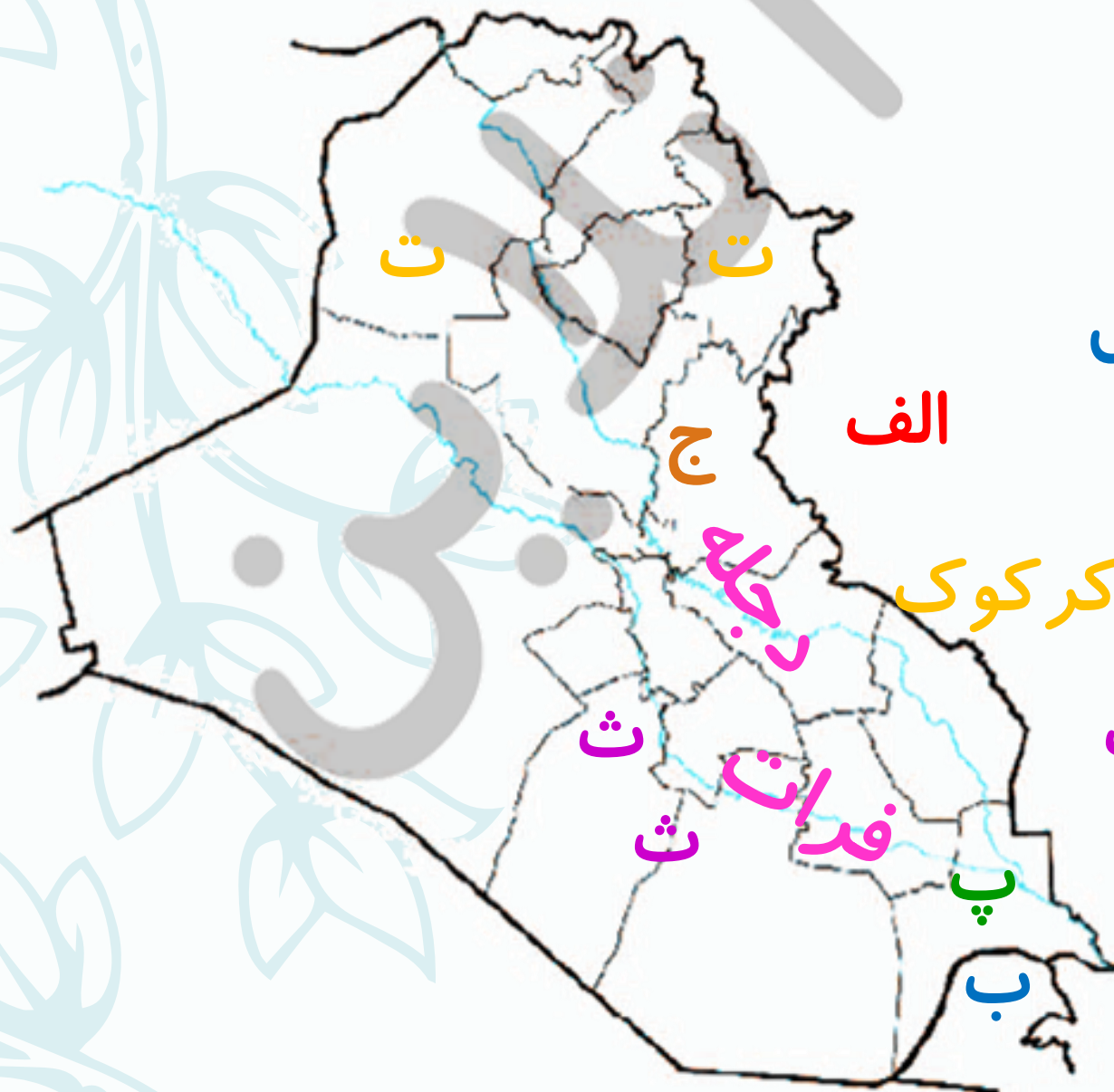
ت) دو شهر عراق که چاه نفت دارند **موصل و کرکوک**

ث) دو شهر مقدس و زیارتی **کربلا و نجف**

ج) پایتخت عراق **بغداد**

چ) نام رودهای مشخص شده را بنویسید.

دجله و فرات



امروز متعلق به توست

زیبا بسازش

