


# پرسش اجتماعی

## درس ۳





در جای خالی کلمات مناسب بنویسید.

پولی که از راه کار کردن به دست می آید، ..... نام دارد.





پولی که از راه کار کردن به دست می آید، **درآمد** نام دارد.







به جدولی که در آن درآمد، هزینه و پس انداز نشان داده شده است،  
جدول ..... می گوییم.







به جدولی که در آن درآمد، هزینه و پس انداز نشان داده شده است،  
جدول **بودجه** می گوییم.






در هر محله مکان هایی برای تولید بعضی کالاها یا دادن بعضی خدمات به مردم وجود دارد که هدف آن ها ..... ساکنان محله است.







در هر محله مکان هایی برای تولید بعضی کالاها یا دادن بعضی خدمات به مردم وجود دارد که هدف آن ها **رفع نیازهای** ساکنان محله است.









پولی که برای خرید کالاهای مورد نیاز خرج می کنیم، .....  
نامیده می شود.





پولی که برای خرید کالاهای مورد نیاز خرج می کنیم، **هزینه** نامیده می شود.




## هر جمله را به عبارت مربوطه وصل کنید.

- هزینه
  - درآمد
  - پس انداز
  - کیفیت
  - بودجه
- جدولی که در آن درآمد، هزینه و پس انداز نشان داده شده است.
  - پولی که از راه کار کردن به دست می آید.
  - پولی است که برای خرید کالاهای مورد نیاز خرج می کنیم.
  - مقدار پولی است که برای زمان هایی که نیاز داریم، نگه می داریم.



## درستی یا نادرستی عبارات های زیر را مشخص کنید.

هزینه پولی است که برای خرید کالاهای مورد نیاز ذخیره می کنیم.  
امکاناتی که در هر محله ایجاد شده است به همه ی مردم تعلق دارد.  
ما نباید همه ی پولی را که به دست می آوریم، خرج کنیم.  
انسان باید برای خرید کالاهای مورد نیازش برنامه ریزی کند.






## درستی یا نادرستی عبارات های زیر را مشخص کنید.

هزینه پولی است که برای خرید کالاهای مورد نیاز ذخیره می کنیم. **نادرست**

امکاناتی که در هر محله ایجاد شده است به همه ی مردم تعلق دارد. **درست**

ما نباید همه ی پولی را که به دست می آوریم، خرج کنیم. **درست**

انسان باید برای خرید کالاهای مورد نیازش برنامه ریزی کند. **درست**



## هر جمله را به عبارت مربوطه وصل کنید.

- جدولی که در آن درآمد، هزینه و پس انداز نشان داده شده است. □
- پولی که از راه کار کردن به دست می آید. □
- پولی است که برای خرید کالاهای مورد نیاز خرج می کنیم. □
- مقدار پولی است که برای زمان هایی که نیاز داریم، نگه می داریم. □
- هزینه □
- درآمد □
- پس انداز □
- کیفیت □
- بودجه □
-

گزینه ی درست را انتخاب کنید.

جدولی که در آن درآمد، هزینه و پس انداز نشان داده شده است، چه نام دارد؟

(ب) درآمد

(الف) خرید

(د) بودجه

(ج) کیفیت




جدولی که در آن درآمد، هزینه و پس انداز نشان داده شده است، چه نام دارد؟

الف) خرید  
ب) درآمد

د) بودجه ✕

ج) کیفیت




کدام یک از موارد زیر جزء امکانات عمومی یک محله نیست؟

الف) دستگاه خودپرداز  
ب) خانه های مسکونی

د) بوستان

ج) ایستگاه اتوبوس



کدام یک از موارد زیر جزء امکانات عمومی یک محله نیست؟

× (ب) خانه های مسکونی

(الف) دستگاه خودپرداز

(د) بوستان

(ج) ایستگاه اتوبوس

کدام مورد صحیح است؟

الف) درآمد = هزینه + پس انداز

ب) هزینه = درآمد + پس انداز

ج) پس انداز = درآمد + هزینه

د) هیچ کدام

کدام مورد صحیح است؟

الف) درآمد = هزینه + پس انداز ❌

ب) هزینه = درآمد + پس انداز

ج) پس انداز = درآمد + هزینه

د) هیچ کدام


به سوالات زیر پاسخ کامل دهید.

منظور از امکانات عمومی چیست؟




منظور از امکانات عمومی چیست؟


امکاناتی که برای استفاده ی همه ی مردم ایجاد شده است و متعلق به همه ی آن ها است.









برای خرید کالاهای مورد نیاز خود، به چه نکاتی باید توجه داشته باشیم؟







برای خرید کالاهای مورد نیاز خود، به چه نکاتی باید توجه داشته باشیم؟  
قیمت، کیفیت، علاقه و جنس



چرا نباید همه ی پولی را که به دست می آوریم، خرج کنیم؟




چرا نباید همه ی پولی را که به دست می آوریم، خرج کنیم؟  
زیرا ممکن است در زمان هایی به آن نیاز داشته باشیم، پس مقداری از آن را برای آن  
زمان ها، پس انداز می کنیم.






شغل ها به چند دسته تقسیم می شوند؟ برای هر کدام مثالی بزنید.






شغل ها به چند دسته تقسیم می شوند؟ برای هر کدام مثالی بزنید.  
دو دسته: خدماتی مانند بانک. تولیدی مانند قنادی.






چند مورد از امکانات عمومی که معمولاً در همه ی محله ها وجود دارد را بنویسید.





چند مورد از امکانات عمومی که معمولاً در همه‌ی محله‌ها وجود دارد را بنویسید.  
باجه‌ی تلفن، ایستگاه اتوبوس، باجه‌ی خودپرداز





درآمد را تعریف کنید.



درآمد را تعریف کنید.

پولی که از راه کار کردن به دست می آید، درآمد نام دارد.

