



الف) عبارتهای نادرست را تشخیص داده و آنها را به صورت درست بنویسید.

۱. کوروش رهبر قوم پارت بود. **نادرست**. رهبر قوم پارس بود.

۲. داریوش پادشاه هخامنشی بود. **درست**

۳. تخت جمشید ۱۵۰ سال پیش ساخته شد. **نادرست**. ۲۵۰۰ سال پیش ساخته شد.

۴. ستونهای سنگی تخت جمشید ده متر ارتفاع دارند. **درست**

ب) موارد مرتبط در ستون «۱» را به ستون «۲» وصل کنید.

(۱)

۱. تخت جمشید به فرمان او ساخته شد.

۲. از اقدامات مهم داریوش بود.

۳. جشن‌های نوروزی در آن مکان برگزار می‌شود.

۴. حکومت هخامنشیان را به وجود آورد.

(۲)

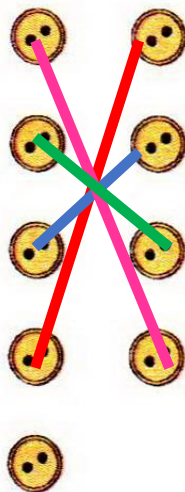
کوروش

تخت جمشید

راه شاهی

داریوش اول

هگمتانه



پ) جاهای خالی را با کلمات مناسب پر کنید.

۱. پاسارگاد در نزدیکی شهر **شیراز** قرار دارد.

۲. کوروش مردی از قوم **پارس** بود.

۳. کوروش پس از جنگ‌های فراوان **مادها** را شکست داد.

۴. پلکان اصلی تخت جمشید در هر طرف **۱۱۱** پله دارد.

۵. در زمان **داریوش** ایران وسعت زیادی پیدا کرد.

ت) پاسخ صحیح را با علامت «×» مشخص کنید.

۱. بنای تخت جمشید چند هزار سال پیش ساخته شد؟

(۱) ۲۵۰۰ سال

(۲) ۱۷۰۰ سال

(۳) ۱۵۰ سال

(۴) ۳۰۰۰ سال

۲. پایتخت هخامنشیان کدام شهر بود؟

(۱) هگمتانه

(۲) همدان

(۳) تخت جمشید

(۴) پاسارگاد





ث) به سؤالات زیر پاسخ دهید.

۱. طولانی‌ترین و مهم‌ترین راه در زمان داریوش اول چه نام داشت؟

.....راه شاهنشاهی

۲. تخت جمشید چگونه ساخته شد؟

این بنا به فرمان داریوش اول ساخته شد و ساختن آن سال‌ها طول کشید. در ساختن این بنا صدها

نفر از اقوام و ملیت‌های مختلف، که در قلمرو هخامنشیان زندگی می‌کردند، شرکت داشتند. آنها

برای این کار دستمزد می‌گرفتند. البته معماری اصلی تخت جمشید را اقوام پارسی انجام داده‌اند.

۳. در زمان داریوش به چه کسانی شهربان می گفتند؟

کسانی که اداره یک بخش را به عهده دارند.

۴. راه شاهی چه شهرهایی را به هم متصل می کرد؟

پاسارگاد - شوش - بیستون - ارمنستان - سارد

۵. چاپارخانه در زمان هخامنشیان به چه دلیلی ساخته شد؟

در چاپارخانه ها همیشه اسب های تازه نفس آماده ی حرکت بودند. پیک ها (نامه رسان ها)

در آنجا اسب خود را عوض می کردند و سوار بر اسب های تازه نفس، نامه ها را به دورترین

نقاط کشور می رساندند.

۶. داریوش چه اقداماتی را در کشور انجام داد؟

تقسیم ایران به بخش‌های مختلف - ساختن راه‌ها - ضرب سکه طلا - تشکیل سپاه ده هزار نفری

۷. نتیجه هر کدام از اقدامات داریوش را در جدول کامل کنید.

نتیجه	اقدام و کار داریوش
اداره‌ی بهتر کشور پهناور ایران	تعیین شهربان
ارتباط بهتر و سریع‌ترین شهرها با یکدیگر و با پایتخت	ساختن راه‌ها
رونق تجارت و بازرگانی	ساختن سکه‌ی طلا
آمادگی برای مقابله به دشمن	ایجاد سپاه ده هزار نفری



الف

ب ج

د ه

و ز

ح ط



سفری به شهرهای باستانی ► فصل چهارم



ج) فعالیت عملکردی

۱. روی نقشه قلمروی هخامنشیان را با قلمروی امروزی ایران مقایسه کنید.


۱۷

به عهده‌ی دانش آموز

۲. با مشاهده‌ی دقیق عکس‌ها و ویژگی‌ها و کاربرد هریک از وسایل را بیان کنید.

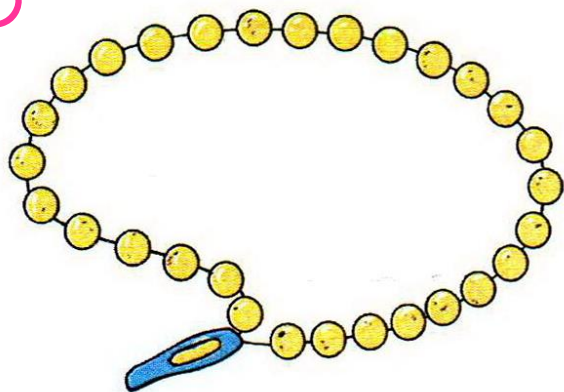


(ب)




(الف)

به عهده‌ی دانش آموز



(ت)



(پ)

با شکر از همراهی شما

