

الف) عبارتهای نادرست را تشخیص داده و آنها را به صورت درست بنویسید.

۱. هخامنشیان ۵۰ سال بر ایران حکومت کردند. ~~۲۰۰ سال~~ ^{۵۰ سال}
 ۲. اسکندر پادشاه یونان بود.
 ۳. پارتها حکومت هخامنشیان را از بین بردند. ~~اسکندر مقدونی حکومت سلوکیان~~
 ۴. اشکانیان با رومیها در حال جنگ بودند.
- ب) موارد مرتبط در ستون «۱» را به ستون «۲» وصل کنید.

(۲)		(۱)
پارتها		۱. حکومت هخامنشیان به دست او از بین رفت.
جانشینان اسکندر		۲. حکومت سلوکیان را تشکیل دادند.
اسکندر مقدونی		۳. از پادشاهان مهم اشکانی بود.
مهرداد دوم		۴. اشکانیان گروهی از آن قوم بودند.
مادها		

پ) جاهای خالی را با کلمات مناسب پر کنید.

۱. سلوکیان سعی کردند آداب و رسوم حفظ و زبان یونانی را در ایران رواج دهند.
۲. امپراتوری ایران با کشور روم همسایه بود.
۳. آریوبرزن با اسکندر مقدونی جنگید.
۴. کراسوس سردار رومی بود.

ت) پاسخ صحیح را با علامت «x» مشخص کنید.

۱. هخامنشیان چند سال بر ایران حکومت کردند؟
- (۴) بیش از ۲۰۰ سال
 (۳) ۱۵۰ سال
 (۲) ۱۰۰ سال
 (۱) ۲۵۰۰ سال





۲. آریوبرزن مربوط به کدام دوره است؟

(۱) مادها

(۲) ساسانیان

(۳) پارت‌ها

(۴) هخامنشیان

۳. چه کسانی موفق به بیرون راندن یونانی‌ها از ایران شدند؟

(۱) آریوبرزن

(۲) کوروش

(۳) پارتیان

(۴) سلوکیان

(ث) به سؤالات زیر پاسخ دهید.

۱. دلیل ضعف حکومت هخامنشیان چه بود؟ به دلیل اختلاف‌های داخلی و بی‌باختی شاهان

۲. سلوکیان چه کسانی بودند؟

یونانیان اسکندر مقدونی که بر ایران حاکم شدند حکومت سلوکیان را تشکیل دادند

۳. دلیل جنگ رومی‌ها با اشکانیان چه بود؟

زیرا پادشاهان رومی قصد داشتند ایران را تصرف کنند.

۴. پارت‌ها در چه زمینه‌ای مهارت داشتند؟ در فنون جنگی که تیراندازی و اسب سواری

۵. سورنا چه کار ارزشمندی انجام داد؟ کراسوس سردار رومی که می‌خواست ایران را

۶. اشکانیان چه کار مهمی در ایران انجام دادند؟ تصرف کنند را شکست داد و شکست

بیرون کردن سلوکیان از ایران

(ج) فعالیت عملکردی

۱. مسیر لشکرکشی اسکندر را روی نقشه بررسی کنید. کدام شهر یا کشورها را در این مسیر می‌شناسید؟

یونان، فلسطین، مصر، بابل، شوش، تخت جمشید.

هگمتانه، ریس

۲. اگر در محل زندگی‌تان موزه و آثار باستانی وجود دارد، از بزرگ‌ترها بخواهید شما را برای بازدید به آن مکان ببرند.

نام آن موزه را بنویسید.

موزه ملی ایران باستان

۳. برای بازدید از مکان‌های تاریخی چه وسایلی با خود می‌برید؟

نقشه، دوربین عکاسی، آب، لوازم شخصی





الف) عبارتهای نادرست را تشخیص داده و آن‌ها را به صورت درست بنویسید.

۱. اردشیر نوهی ساسان بود. ✓

۲. شاپور اول از شاهان هخامنشی بود. ✗ ساسانیان

۳. جندی شاپور در استان خوزستان بود. ✓

۴. طاق بستان از آثار تاریخی همدان است. ✗ کرمانشاه

ب) موارد مرتبط در ستون «۱» را به ستون «۲» وصل کنید.

(۲)

(۱)

- | | | |
|-----------|--|-----------------------------------------------|
| کرمانشاه | | ۱. پادشاه ساسانی که امپراتور روم را اسیر کرد. |
| شاپور اول | | ۲. طاق بستان از آثار تاریخی آن شهر است. |
| اوستا | | ۳. حکومتی که بعد از اشکانیان به وجود آمد. |
| ساسانیان | | ۴. نام کتاب مقدس زرتشتیان است. |
| انوشیروان | | |

پ) جاهای خالی را با کلمات مناسب پر کنید.



۱. شهر کرمانشاه در غرب ایران است و در میان رشته کوه‌های زاگرس قرار دارد.


۲. طاق بستان و بیسین از آثار باستانی کرمانشاه است.

۳. در زمان ساسانیان حجاری و سنگ تراشی پیشرفت زیادی کرد.

۴. زرتشتیان آتش را مقدس می‌شمردند و اهورا مزدا را نیایش می‌کردند.

۵. ظروف سفالی و کاشی از سوغاتی‌های همدان است.





ت) پاسخ صحیح را با علامت (x) مشخص کنید.

۱. صحنه‌ی تسلیم شدن امپراتور روم در کجا کنده‌کاری شده است؟

طاق بستان

بدنه‌ی کوهی در فارس

بیستون

گنج‌نامه

۲. در ایران باستان بیشتر مردم پیرو چه دینی بودند؟

اسلام

مسیحیت

زرتشتی

یهودی

ث) به سؤالات زیر پاسخ دهید.

۱. آثار کدام دوره‌ها در شهر کرمانشاه مشاهده می‌شود؟

دوره‌های هخامنشیان، اشکانیان، ساسانیان

۲. چرا طاق بستان گردشگران زیادی را جلب می‌کند؟

چون آثار تاریخی مهمی دارد و در مکانی زیبا و خوش منظره واقع شده است

۳. در طاق بستان چه آثار باستانی وجود دارند؟

مجموعه‌ای از سنگ‌نوشته‌ها و سنگ‌نگاره‌های دوره‌ی ساسانیان

۴. حکومت ساسانیان چگونه تشکیل شد؟

وقتی حکومت اشکانیان ضعیف شد، جنگ میان فرمانروایان مملکی شدت گرفت. یکی از فرمانروایان به نام اردشیرنوه ساسان پیروز شد و حکومت ساسانیان تشکیل شد.

۵. چند پادشاه مهم ساسانی را نام ببرید.

اردشیر اول، شاپور اول، خسرو انوشیروان، خسرو پرویز

۶. دلیل نام‌گذاری حکومت ساسانیان به این نام چه بود؟

چون اردشیرجد از پیروزی حکومتی به وجود آورد که نام جدش ساسانیان نامیده شد.

۷. شاپور اول که بود و چه کار مهمی انجام داد؟

یکی از پادشاهان قدرتمند ساسانی بود. رومی‌ها را شکست داد و امپراتور

روم را اسیر کرد.





۸. سنگ‌نگاره‌ی تاج‌گذاری کدام پادشاهان در طاق بستان قرار دارد؟

نسر و پرویز، اردشیر دوم، شاهپور دوم و سوم

۹. دانشگاه جندی شاپور به دستور چه کسی ساخته شد و چه دانشی در آن رونق داشت؟

نسر و اردشیر و اردشیر دوم، دانش پزشکی

۱۰. نام حکومت‌های تشکیل شده از مادها تا دوره‌ی اسلامی را به ترتیب بنویسید.

مادها، هخامنشیان، سلوکیان، اشکانیان، ساسانیان، حکومت اسلامی

۱۱. سه پایه‌ی اصلی دین زرتشت چه بود؟

پندار نیک، گفتار نیک، کردار نیک

۱۲. اهورا مزدا به چه معنایی است؟

خدای دانا

۱۳. در بیستون چه آثار باستانی وجود دارد؟

سنگ‌نگاره‌ی بزرگ که پیروزش داریوش بزرگ پرمخالفانش را

نشان می‌دهد

۱۴. حضرت محمد (ص) به کدام پادشاه نامه نوشت؟

خسرو پرویز

۱۵. دلایل نارضایتی مردم از حکومت ساسانی چه بود؟

۱. به دلیل مالیات زیاد از مردم می‌گرفتند تا هزینه‌های جنگ با رومی‌ها

را تأمین کنند و همچنین از آموزش و سواد محروم بودند ۲. پادشاهان خویش‌گزانش

داشتند که به مردم توجهی نمی‌کردند ۳. و به خاطر جنگ ضعیف

بودند

۱۶. ساسانیان چگونه از بین رفتند؟

وقتی عرب‌های مسلمان به ایران حمله کردند سپاه ساسانی را

شکست دادند و چون پیام دین اسلام برادری و برابری بود مردم

دین اسلام را با آغوش باز پذیرفتند و ساسانیان از بین رفتند





۱۷. پیام دین اسلام چه بود؟

برادری و برابری


۱۸. چند غذای محلی کرمانشاه را نام ببرید.

آتش کباب، سبزی، خورشید کمال

۱۹. سوغاتی‌های معروف کرمانشاه را بیان کنید.

گلیم، صنایع چرم، کلاش، نان برنجی، کباب

۲۰. به تصاویر زیر دقت کنید و بگویید هر کدام مربوط به کدام دوره بوده و در چه شهری قرار دارند؟





معبده چغازنبیل در شوش

شهر شوش در دوران تمدن

شهر شوش در دوران تمدن ایلام

ایلام در خوزستان امروزی



طاقستان، دوره ساسانی

سفرن‌های سنگی تخت جمشید

ساسانیان و در کرمانشاه

دوره ساسانیان



ج) فعالیت عملکردی

۱. چند مورد از سوغاتی‌ها و صنایع دستی شهرتان را بنویسید.

حصیر بافی، رشته قشلاک، برنج، بادام زمینی

۲. جدولی تهیه کنید و در آن دو ویژگی هر کدام از دوره‌های حکومت‌ها، از مادها تا دوره‌ی اسلامی را در آن بنویسید.

دوره‌ی ماد	دوره‌ی هخامنشیان	دوره‌ی ساسانیان	دوره‌ی اشکانیان	دوره‌ی ساسانیان
معماری خفین داشتند	پادشاهان خردند باهوش داشتند	جنگجو	مهارت در فنون جنگی	مهارت در سنگ تراشی
حاکمانه را تاسیس کردند	هر جا را تصرف می‌کردند با مردم آن جا به فوجی و مهربانی رفتار می‌کردند	آن‌ها می‌خواستند دنیا را تصرف کنند	مهارت در تیراندازی و اسب سواری	ساخت شهر های بزرگ و ساخت اولین دانشگاه

۳. یک روزنامه‌ی دیواری تهیه کنید و آثار باستانی شهرتان را در آن بنویسید و عکس‌های آن‌ها را روی روزنامه

دیواری بچسبانید.

