


مطالعات اجتماعی

پایه چهارم

درس هجدهم

پوشش گیاهی و زندگی جانوری در ایران



درس ۱۸ پوشش گیاهی و زندگی جانوری در ایران

گفتیم که در کشور ما آب و هواهای گوناگونی وجود دارد. در هر ناحیه‌ی آب و هوایی، گیاهان و جانوران مخصوص همان ناحیه می‌توانند زندگی کنند.

● مثلاً در ناحیه‌ی آب و هوایی گرم و خشک، که دوره‌ی گرما، طولانی و مقدار بارش کم است، گیاهان کمتری می‌رویند. این ناحیه از نظر پوشش گیاهی فقیر است و در آن فقط گیاهانی می‌رویند که در مقابل کم‌آبی مقاوم‌اند؛ مانند درختان نخل، گز، پسته‌ی وحشی و درختچه‌های خاردار. به تصویر نگاه کنید. در این منطقه بیشتر کدام جانوران زندگی می‌کنند؟ **مار، عقرب، یوزپلنگ**



نخل
بوته‌های خاردار
عقرب
یوزپلنگ
مار



درخت گز



پسته‌ی وحشی



شتر یکی از شگفتی‌های آفرینش خداوند است. این حیوان به گونه‌ای آفریده شده است که تحمل شرایط سخت بیابان و گرمای شدید و کمبود آب و غذا را دارد. در گذشته، شتر وسیله‌ی اصلی رفت و آمد ساکنان نواحی گرم و خشک بوده است. البته از شیر و گوشت این حیوان هم استفاده می‌شود.



کوهان عضوی است که در آن
غذا و آب را ذخیره می کند.



پاهای شتر پهن آفریده شده اند. به همین
دلیل، این حیوان به راحتی روی شن های نرم
وریز بیابان حرکت می کند و در آنها فرو نمی رود.





مژه‌های بلند و پلک‌های بزرگ شتر
از چشم‌های او در برابر طوفان شن و تابش
شدید آفتاب محافظت می‌کنند.



دهان شتر به گونه‌ای
است که می‌تواند گیاهان
خاردار را بجود و بخورد.

● در قلّه‌های بلند کوه‌ها به دلیل سرما و یخ‌بندان، گیاهان نمی‌توانند برویند، اما در دامنه‌ی کوه‌ها، مانند دامنه‌های زاگرس، جنگل‌های وسیع بلوط و پسته‌ی کوهی وجود دارد. همچنین در این دامنه‌ها مراتع سرسبزی به‌وجود آمده‌اند که چراگاه گوسفندان‌اند.



چند نمونه از جانوران این ناحیه را نام ببرید. **بز کوهی، روباه، گوزن**




● در ناحیه‌ی معتدل خزری باران فراوان می‌بارد. در این ناحیه جنگل‌های انبوه راش و افرا و

چمنزارهای سرسبز و زیبا پدید آمده است.


کدام جانوران در این جنگل‌ها زندگی می‌کنند؟ **خرس، پرندگان مختلف، گراز، لاک پشت و ...**



○ فعالیت




.....




.....

۱- شماره‌ی مربوط به هر تصویر را زیر آن بنویسید.



.....





.....

- ناحیه‌ی گرم و خشک (۱)
- ناحیه‌ی معتدل و مرطوب خزری (۲)
- ناحیه‌ی گرم و شرجی جنوب (۳)
- ناحیه‌ی معتدل و نیمه‌خشک کوهستانی (۴)


۲- تصویرها را به دلخواه رنگ کنید.

○ فعالیت



۱- شماره‌ی مربوط به هر تصویر را زیر آن بنویسید.

۲- ناحیه‌ی معتدل و مرطوب خزری
۴- ناحیه‌ی معتدل و نیمه‌خشک
کوهستانی



۱-۱- ناحیه‌ی گرم و خشک
۳- ناحیه‌ی گرم و شرجی جنوب

ناحیه‌ی گرم و خشک (۱)
ناحیه‌ی معتدل و مرطوب خزری (۲)
ناحیه‌ی گرم و شرجی جنوب (۳)
ناحیه‌ی معتدل و نیمه‌خشک کوهستانی (۴)

۲- تصویرها را به دلخواه رنگ کنید.

با شکر از همراهی شما