

شماره‌ی ۲۲

زرفتن هفته چهارم دبستان

نام و نام خانوادگی: تاریخ:

نام آموزگار:

موضوع: درس: فصل:

تاریخ: درس: فصل:

تقریب

۱) عددهای زیر را در جدول ارزش مکانی قرار دهید و با حروف بنویسید.

الف) $11214 = 11 \text{ هزار و } 214 \text{ صد}$

ب) $712 = 7 \text{ صد و } 12 \text{ ده}$

دهم	یکان
۱	۴
دهم	یکان
۷	۲

۲) قسمت های درست را با رنگ سبز و نادرست را با رنگ قرمز رنگ آمیزی کنید.

۲۲۴ یعنی ۲۲۴ (د) $34 + 217 = 5114$ ؛ هر یک واحد را می توان به ۱۱۵۱۰ تقسیم کرد. هر یک واحد را می توان به ۱/۸ تقسیم کرد.

۳) مقدار تقریبی هر یک از عبارتهای زیر را به دست آورید.

الف) $4/9 + 3/5 - 2/8 = 514$ **تقریب** → ۴

ب) $13/9 - 8/2 - 2/4 = 213$ **تقریب** → ۲

۴) حاصل عبارتهای زیر را به دست آورید.

الف) $11/7 + 13/2 - 4/8 = 7011$

ب) $14/8 - 8/1 + 3/6 = 1013$

۵) ظرفیت باک انجمنی ۳۵ لیتر است. اگر $12/3$ لیتر بنزین درون آن بریزیم، باک پر می شود. از قبل چند لیتر بنزین در باک وجود داشته است؟

$35 - 12.3 = 22.17$ **بنزین ۲۲.۱۷ لیتر بنزین درون باک وجود دارد**



Rotate



Crop




Extract Text



Share



More



سولول خالی را کامل کنید.

(الف) کوچکترین بخش سازنده‌ی بدن انسان، سولول ... است.

(ب) سولول‌ها با استفاده از ... زیاد می‌شوند.

(پ) سولول، ماهیچه و قلبه‌ی ... و سولول روده ... را به عهده دارند.

(ت) برای دیدن سولول از ... استفاده می‌شود که دارای ذره بین بسیار قوی است.

(ث) اندازه‌ی بدن موجودات زنده به ... بستگی دارد.

موارد مرتبط را به هم وصل کنید.



درباره‌ی سولول‌های بدن موجودات شکل معینی دارند. شکل سولول‌ها متناسب با کدام مورد است؟

- (1) نوع موجود زنده / نوع کار (2) میزان فعالیت (3) نوع تقسیم سولولی

بخش‌های گوناگون سولول را نام ببرید.

.....

.....

.....

روی هر گیلاس هم‌بندی کلمه را بنویسید.



Rotate



Crop



Extract Text



Share



More





شخصیت‌های داستان کافران

1 در بین فرشتگان خدا را با هم مقایسه کنید. در میان کافران و ایمان‌داران چه تفاوت‌هاست که در داستان می‌بینید؟

2 توجه به معنای صحیح واژگان، به هم وصل کنید.



شخصیت‌ها	
	عمر کوتاه بود
	به ایمان نماند
	بسی ایمان‌دار و خیر بود
	پوشش گرمی‌های مختلف
	پوشش گرمی‌های مختلف
	توجه‌ای نداشتند به مسائل باستان‌شناسی
	به رسیدن کلبان قرآن

شخصیت‌ها	
	به رسم خطوط نبود
	به آنت خطوط نبود و بخوبی در یادش بود
	به ساعت زنگی نداشت
	به رسم خطوط کوفی
	به رسم خطوط کوفی
	به رسم خطوط کوفی
	به زلفی نداشت
	به سارک

کافران

۱۴



Rotate



Crop



Extract Text



Share



More

ارمغان هفته چهارم چهلتن

شماره ۲۴

نام و نام خانوادگی: تاریخ:

نام آموزگار:

موضوع: درس: فصل: شماره درس: شماره کتاب:

موضوع: درس: فصل: شماره درس: شماره کتاب:

موضوع: درس: فصل: شماره درس: شماره کتاب:



جاهای خالی را با استفاده از عدد یا کلمه‌ی داخل پرانتز کامل کنید.

(الف) اگر خطی به‌طور عمود، دو خط موازی را قطع کند، زاویه‌ی مسامری در محل تقاطع ایجاد می‌شود. (۳) - (۸)

(ب) از یک نقطه خارج از یک خط خط عمود می‌توان بر آن خط رسم کرد. (بی‌نهایت) - (یک)

(پ) هرگاه دو خط باهم زاویه‌ی راست بسازند، آن دو خط برهم (موازی‌اند) - (عمودند)

(ت) دو خط عمود بر یک خط باهم هستند. (موازی) - (عمود)

درستی و نادرستی هر عبارت را مشخص کنید.

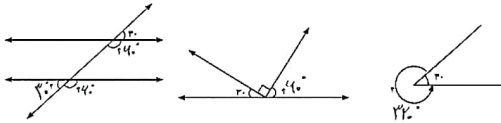
(الف) از پرگار برای تشخیص خطوط عمود استفاده می‌کنیم.

(ب) خطی که بر یک خط عمود باشد، با خطهای موازی با آن خط موازی است.

(پ) فاصله‌ی دو خط موازی، در تمام نقاط از یکدیگر به یک اندازه هستند.

(ت) دو خط موازی، در یک نقطه یکدیگر را قطع می‌کنند.

اندازه‌ی زاویه‌های خواسته شده را به‌دست آورید.



Rotate



Crop



Extract Text



Share



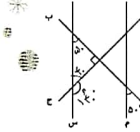
More





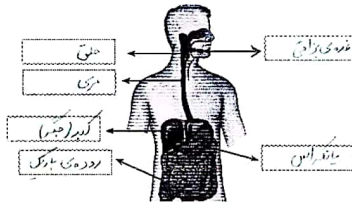
خطهای (س) و (م) با هم موازی اند. با توجه به شکل به سؤالات پاسخ دهید.

الف) زاویه‌ی مشخص شده چند درجه است؟ 140° درج
ب) کدام یک از خطوط زیر برهم عمودند؟ l_1 و l_2

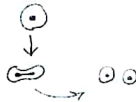


علوم

برچسب‌ها را در جای مناسب قرار دهید.



شکلی که در تصویر نشان داده شده است را نام ببرید.



وظیفه‌ی قلب در بدن انسان چیست؟ (این (نظام) ما را از خون‌های کثیف و آلوده خون را تصفیه می‌کند و در بدن پمپ می‌کند.)

سپارگ‌ها در کدام قسمت بدن هستند و وظیفه‌ی آنها چیست؟ (در گوارش غذا را هضم می‌کنند و در تنفس هوا را تصفیه می‌کنند.)

۲



Rotate



Crop




Extract Text



Share



More



کلمه ی مناسب را برای جای خالی انتخاب کنید.

- (الف) شیر گفت، ای موش لوس یک (قاضی - خاکی)
- (ب) پسر سال برای جواب آماده شد. (خورد - خورده)
- (پ) این حرف از باطل است. (اساس - اثاث)

متضاد (متضاد) هر واژه را بنویسید.

خفته = بیدار گریه = خنده خوب = بیداری رهایی = اسارت

برای واژه های مفرد زیر، جمع بنویسید.

بیچاره جمع = بیچارگان حال جمع = احوال

زیر واژه هایی که از نظر املائی نادرست نوشته شده اند، خط بکش و درست هر یک را بنویس.

شیرکراز این رابع رجم حاصل کرد - هول و هوش - شاه وهوش - در حراس افتاد
حرف سحر لام حاصل حواله حوتین و حوتین حراس

توضیح

ویژگی های زیر را طبق تصویر کامل کنید.

- (الف) این جانور در ناحیه ی آب و هوایی زندگی می کند.
- (ب) مژه های بلند و پلک های شتر از چشم های او در برابر محافظت می کند.
- (پ) کوهان عضوی است که را ذخیره می کند.
- (ت) دهن شتر به گونه ای است که می تواند را بخورد.
- (ث) باهای شتر بهمن آفرینو شده اند به همین دلیل این حیوان می کند.
- (ج) به اطلاعات دیگری درباره ی شتر دانه ؟ آن ها را بنویسید. (به بررسی دانش خود بپرداز)



به سوالات زیر پاسخ دهید.

(الف) چرا در قلّه های بلند کوه ها، گیاهان نمی رویند؟

(ب) چند نمونه از جانوران ناحیه ی معتدل خزری را نام ببرید.

این مسائل تستی است. حتماً بنویسید.



Rotate



Crop



Extract Text



Share



More



کدام یک از گیاهان زیر در ناحیه‌ی معتدل خنثی می‌روید؟

- (۱) بلوط (۲) گز (۳) راش (۴) نخل

کدام گیاه در آب و هوای گرم و خشک نمی‌روید؟

- (۱) نخل (۲) بلوط (۳) پسته‌ی وحشی (۴) گز

شاهای خالی را با کلمات مناسب پر کنید.

(الف) پیناسیر (ص) فرمود: به کسی که از او ششم می‌آموزید، احترام بگذارید.
 (ب) امام زین‌العابدین (ع) می‌فرماید: «شاگرد نباید صدایش را در برابر معلم بلرز کند.»

بهترین راه تشکر از معلم چیست؟

عبارت قرآنی زیر را بخوانید و معنای آن را بنویسید.

أَمِّنَ حَيْثُ الْمُتَمَكِّنُ إِذَا نَعَاةً وَ يَكْتِيفُ السُّوْدَةَ

کجا می‌تواند آن محسن را در روز قیامت با خود همراه کند؟

مشاهده‌ی متن	
✓	مع کلمات مفرد
✓	معنی دست کلمات
✓	بزرگ‌نویس و دست‌نویس را با هم مقایسه کنید
✓	تعمیر و تشکر از معلم
✓	بزرگ‌نویس و دست‌نویس را با هم مقایسه کنید
✓	معنی کلمات مشخص بر دست‌نویس را بنویسید
✓	بررسی معانی کلمات قرآنی

مشاهده‌ی متن	
✓	در متن معانی کلمات را بنویسید
✓	معنی و کاربرد کلمات را بنویسید
✓	تعمیر و تشکر از معلم
✓	بزرگ‌نویس و دست‌نویس را با هم مقایسه کنید
✓	معنی کلمات مشخص بر دست‌نویس را بنویسید
✓	بررسی معانی کلمات قرآنی



Rotate



Crop



Extract Text



Share



More



Image

Word

100/132

شماره‌ی ۲۵

رفتن هفته چهارم دبستان



شماره‌نگار

تعداد تم‌مرغ‌های رنگی در شکل دهم چقدر است؟

شماره‌نگار

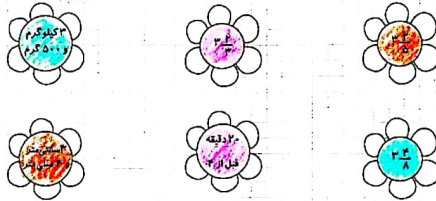
۱۰	۳	۲	۱
۱۱	۷	۵	۳

(۱) (۲) (۳) (۴)

بدر بزرگ سعید ۱۳ توله دارد. او من خواهد در روز اول عید نوروز به هر کدام از توله‌های خود ۱۵۰۰۰ تومان عیدی بدهد. او باید روی هم چند تومان برای عیدی دادن آماده کند؟

پایله ۱۸۰۰۰۰ تومان عیدی برده.

گل‌های برابر را هم‌رنگ کنید.



مادر در ۵ متر رویان خرید و سفرته‌ی هفت‌سین را با ۳ تکه رویان ۰/۳ متری و یک تکه رویان ۰/۴ متری تزئین کرد. چند متر از رویان باقی‌ماند؟

۴.۰۰ متری ۳.۰۰ متری

$$(۴ \times ۰.۳) + (۱ \times ۰.۴) = ۱.۴$$

۱.۴ متری بیشتر

۴.۰۰ - ۱.۴ = ۲.۶ متری

۲.۶ متری



Rotate



Crop



Extract Text



Share



More





Image

Word

101/132

عبارات مرتبط را به هم وصل کنید.

اکسیژن را از شش‌ها به ساقول می‌برد.

لوله‌ی تنفسی به طول ۱۰ سانتی‌متر و غشروی شکل

در انسان هر دقیقه ۱۲ بار این عمل انجام می‌شود.

دم و بازدم

نای

گلبول قرمز

شکل مدار موازی و مدار متوالی را رسم کنید. در فضای خالی مدار ترانزیستور را رسم کنید.

سلسل مدارک از (انتزاعی ترین مدار)

مدار موازی:

مدار متوالی:

با توجه به ۲ مدار بالا به سؤالات زیر پاسخ دهید.
در کدام مدار با افزودن لامپ‌ها، روشایی آن‌ها کمتر نمی‌شود؟

مدار موازی
در کدام مدار اگر یکی از لامپ‌ها بسوزد، بقیه‌ی لامپ‌ها خاموش می‌شوند؟
مدار متوالی

اسم سیاره‌ها را به ترتیب در جای خود بنویسید.

نبتون زحل اورانوس مریخ زمین مشتری زحل اورانوس نپتون

درستی و نادرستی هر عبارت را مشخص کنید.

(الف) مهم‌ترین اندام دستگاه تنفسی شش‌ها هستند.

(ب) ورود هوا به دستگاه تنفسی را دم و خروج آن را بازدم می‌گویند.

(پ) وجود مو داخل بینی تأخیری در هوای ورودی به آن ندارد.

(ت) ورود هوا ابتدا به دهان و بینی به علت عدم ورود مستقیم هوای سرد به دستگاه تنفسی می‌باشد.

(ث) نایزک‌ها از کیسه‌های هوایی تشکیل شده‌اند.



* شن زیر را با دقت بخوانید و به سؤالات پاسخ دهید.

مردی در بازارچه‌ی شهر حجرهای داشت و پارچه می‌فروخت. شاگرد او پسر خوب و مژدبی بود ولیکن کسی خجالتی بود. مرد تاجر هسری کدیانو داشت که دستپخت خوبی داشت و آش‌های خوش‌مزهی او دهان هرکسی را آب می‌آنداخت. روزی مرد بیمار شد و نتوانست به دکانش برود. شاگرد در دکان را باز کرده بود و جلوی آن را آب و جارو کرده بود ولی هرچه منتظر ماند از تاجر خبری نشد.

قبل از ظهر به او خبر رسید که حال تاجر خوب نیست و باید دنبال دکتر برود. پسرک در دکان را بست و دنبال دکتر رفت. دکتر به منزل تاجر رفت و او را معاینه کرد و برایش دارو نوشت.

پسریرون رفت و دارو را خرید و وقتی به خانه برگشته دیگر ظهر شده بود. پسرک خواست دارو را بدهد ولی هسری تاجر خیلی اصرار کرد و او را برای ناهار به خانه آمد. هسری تاجر برای ناهار آش پخته بود سفره را انداخته و کاسه‌های آش را گذاشتند. تاجر برای شستن دست‌هایش به حیاط زیبایی خانه رفت و هسریش به آشپزخانه بازگشت تا قاشق‌ها را بیاورد.

پسرک خیلی خجالت می‌کشید و فکر کرد تا بهانه‌ای بیاورد و ناهار را آنجا نخورد. فکر کرد بهتر است بگوید دانشش درد می‌کند. پسرک دستش را جلوی دهانش گذاشت و در آن هنگام تاجر به اتفاق برگشت و تا او را دید، گفت: «دهانت سوخت؟ حالا چرا اقتدر عجله کردی؟ صبر می‌کردی تا آش سرد شود آن وقت می‌خوردی!»

زن تاجر که با قاشق‌ها از راه رسیده بود به تاجر گفت: «این چه حرفی است که می‌زنی؟ من که تازه قاشق‌ها را آوردم. او که آش نغورده که دهانت بسوزد؟ داستان برگرفته شده از منگ‌ها و منگ‌ها.

این داستان بیان کننده‌ی کدام ضرب‌المثل است؟ *آش نخوردم و دکانم سوختم*

دو جمله از داستان انتخاب کنید و نمودار آن را بکشید.

(پسریکی دانش آموز)

یک جمله‌ی خبری و یک جمله‌ی پرسشی را انتخاب کنید و بنویسید.

(پسریکی دانش آموز)

چرا مرد تاجر فکر کرد پسرک آش خورده است؟

پسرک دیده‌اش را با دستش لمس کرد.



Rotate



Crop



Extract Text



Share



More





بِسْمِ اللَّهِ الرَّحْمَنِ الرَّحِيمِ

موضوع: سفرنامه - قرآن

روز دهم در ایام نوروز دوست دارید به کدام یک از شهرهای ایران مسافرت کنید. (الف) سواقش های این شهر را بنویسید.

ب) این شهر در کدام ناحیه ی آب و هوایی قرار دارد؟

پ) آیا در این شهر آثار باستانی و تاریخی قرار دارد؟

موضوع: سفرنامه - قرآن

روز دوم فروردین روز جهانی آب است. از قرآن کریم آیه ای در این باره پیدا کنید و با معنی آن را بنویسید.

(بِسْمِ اللَّهِ الرَّحْمَنِ الرَّحِيمِ)

معای عبارات قرآنی زیر را بنویسید.

وَمَا تَلْقَاءُ الْقُلُوبَ وَالْأَنْصَارَ بِمَا كُنْتُمْ لَللَّيْلِ وَالنَّهَارِ بِمَا كُنْتُمْ لَللَّيْلِ وَالنَّهَارِ بِمَا كُنْتُمْ لَللَّيْلِ وَالنَّهَارِ

این ترجمه را بنویسید و معنی کلمات را بنویسید. (بِسْمِ اللَّهِ الرَّحْمَنِ الرَّحِيمِ)

بیشتر بخوانید	
به تشخیص ضرب السطاح	
به نوشتار صفت	
به جمله ی خبری و پرسشی	
به درک مطلب	
به آشنایی با نشانه ی آب و هوایی و آثار باستانی هر منطقه	
به آشنایی آب در اسلام	
به معنای عبارت دعایی اهل حق در دعای توسل	

بیشتر بخوانید	
به تشخیص تکرار حدسی	
به ضرب اعداد چند رقمی	
به کسر	
به محاسبات اعداد اعشاری	
به آشنایی با دستگاه سنجش	
به انواع معارفه و نمودی تکرار در کدام	
به ترتیب ساردها	



Rotate



Crop



Extract Text



Share



More



** دانش آموزان عزیزم، حکایت زیر را با دقت بخوانید.

دانش آنکرت بشنوی، گفته سعدی بگوی دامن گوهر بیار، بر سر مجلس بیار

دو شاهزاده در قصر بودند، یکی علم اندوخت و دیگری مال اندوخت، عاقبت آن یکی علامه عصر گشت و این یکی سلطان مصر شد. پس از آن توانگر با پشم حقارت در فیه نظر کرد و گفت: من به سلطنت رسیدم و تو همچنان در سنگت بماندی، عالم گفت: ای برادر، شکر نعمت حضرت باری تعالی بر من واجب است که میراث پخشبران یاتم و تو میراث فرعون و هامون که در حدیث نبوی (ص) آمده: العلماء مرته الاثیاء، من آن مورم که پاسبم ببالند نه زنبورم که از دستم بنالند کجا خود شکر ایتم نعمت گوارم که زور مردم آزاری ندارم

گلستان سعدی

فایده‌ها را در بیت‌های زیر مشخص کنید.

من آن مورم که پاسبم ببالند نه زنبورم که از دستم بنالند
کجا خود شکر ایتم نعمت گوارم که زور مردم آزاری ندارم

در حکایتی که خواندید یک جمله ی خبری و یک جمله ی عاطفی بنویسید.
خبری: _____
عاطفی: _____

عالم در پاسخ سلطان که به او گفته بود من به سلطنت رسیدم و تو همچنان در سنگت بماندی، چه جوابی داد؟

ز دانشم بیار دامن گوهر بر سر مجلس بیار



با شروع طرح، یکی از اجناس مورد علاقه‌ی خود را در نظر گرفته و مبلغی را که در هر روز عیدی گرفتید در جدول وارد کنید و با یک برنامه‌ریزی دقیق برای خرید آن اقدام کنید. (جدول زیر می‌تواند شما را هدایت کند)

روز	روز عید یا برنامه‌ریزی	عیدی پولی که خرج می‌کنم	پس انداخته‌ام که ذخیره کنم
فروردین			
فروردین			
فروردین			
فروردین			
فروردین			
فروردین			
فروردین			
فروردین			
فروردین			
فروردین			



به گروه‌های دانش آموز



Rotate



Crop



Extract Text



Share



More



