

۵ فعالیت درس ۱۵

به تصویر دقت کنید. با توجه به آنچه خوانده‌اید، در مقابل هر عدد در جای خالی کلمه‌ی مناسب (رشته‌کوه، قله، دشت، کوهپایه، رود و جلگه) بنویسید.



۵ فعالیت درس ۱۵

۱- آیا در اطراف محل زندگی شما کوه، دشت یا جلگه‌ای وجود دارد؟ اگر وجود دارد، تأثیر آن بر زندگی مردم منطقه چیست؟
پاسخ بر عهده‌ی دانش‌آموز است.

- ۲- به تصویر بالا دقت کنید. سرزمین‌های پست را از نظر زندگی و سکونت با سرزمین‌های بلند (مرتفع) مقایسه کنید.
- کدام یک برای خانه‌سازی مناسب‌تر است؟ چرا؟ **پاسخ** زمین‌های پست؛ زیرا زمین‌های هموار برای کشاورزی مناسب و برای خانه‌سازی و حمل مصالح راحت‌تر است و آب‌وهوای بهتری دارد.
 - کدام یک برای ساختن راه و جاده مناسب‌تر است؟ چرا؟ **پاسخ** زمین‌های پست؛ زیرا به دلیل صاف بودن این زمین‌ها کندن آن آسان‌تر و از لحاظ اقتصادی به صرفه‌تر است.
 - کدام یک برای فعالیت‌های کشاورزی مناسب‌تر است؟ چرا؟ **پاسخ** زمین‌های پست؛ زیرا خاک حاصلخیز و آب‌وهوای بهتری دارند.



پاسخ رنگ قهوه‌ای تیره، نشانه‌ی کوه‌ها، رنگ سبز، نشانه‌ی جلگه‌ها و رنگ زرد، نشانه‌ی دشت‌هاست.

۵ فعالیت درس ۱۵

۱- روی نقشه، دو قلّه‌ی مهمّ رشته‌کوه البرز و دو قلّه‌ی مهمّ رشته‌کوه زاگرس را نشان دهید و نام ببرید.

پاسخ رشته‌کوه البرز: علم‌کوه، دماوند / رشته‌کوه زاگرس: دنا، زردکوه

۲- رشته‌کوه‌ها، دشت‌های وسیع و جلگه‌های ایران را نشان دهید.

۳- کاربرگه‌ی شماره‌ی ۱۰ (ناهمواری‌های ایران) را در کلاس کامل کنید و نام قلّه‌ها، دشت‌ها، رشته‌کوه‌ها و جلگه‌های مهمّ ایران را روی نقشه بنویسید.

کاربرگه‌ی

ناهمواری‌های ایران

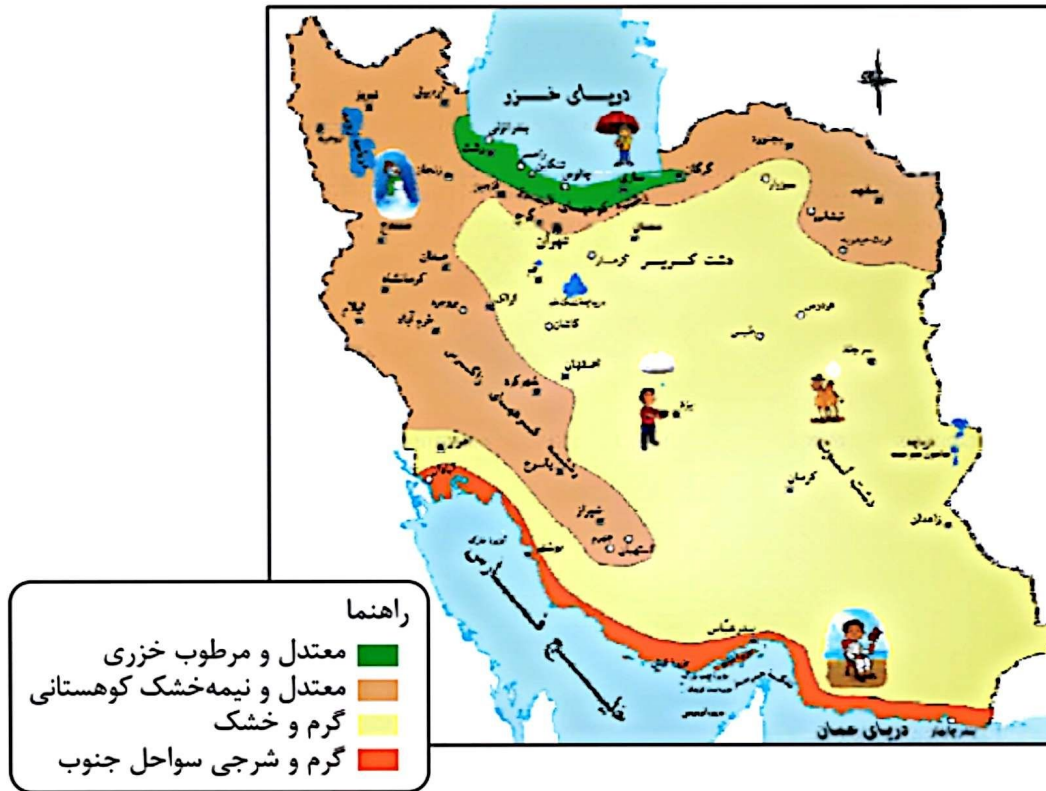
شماره‌ی ۱۰

۱- رشته‌کوه‌ها را با مداد قهوه‌ای و دریاها را با مداد آبی رنگ کنید. نام دریاها را بنویسید.



۵ فعالیت درس ۱۷

۱- با توجه به نقشه، بگویید چند ناحیه‌ی آب‌وهوایی در ایران وجود دارد؟



۱) **پاسخ** معتدل و مرطوب خزری (۲) معتدل و نیمه‌خشک کوهستانی (۳) گرم و خشک (۴) گرم و شرجی سواحل جنوب

۲- از هر ناحیه‌ی آب‌وهوایی یک شهر را نام ببرید. **پاسخ** معتدل و مرطوب خزری: رامسر

معتدل و نیمه‌خشک کوهستانی: همدان

گرم و خشک: بم

گرم و شرجی سواحل جنوب: بندرعباس


○ فعالیت درس ۱۷




- ۱- ارسلان در شهرکرد زندگی می‌کند. دی ماه است و او می‌خواهد با خانواده‌اش به بندر چابهار مسافرت کند. چه نوع لباسی باید همراه ببرد؟ چرا؟ **پاسخ** لباس نازک و نخی با رنگ روشن، زیرا در چابهار هوا گرم و شرجی است.
- ۲- گلناز و خانواده‌اش می‌خواهند در بهمن‌ماه با اتومبیل برای دیدن عمویشان، که از سفر زیارتی برگشته است، به همدان بروند. پدر گلناز چه وسایل و تجهیزاتی را باید با خود ببرد؟ چرا؟ **پاسخ** باید لباس‌های گرم و ضخیم و تجهیزاتی مانند زنجیر چرخ و ضدیخ برای اتومبیل خود همراه داشته باشد؛ زیرا همدان در ناحیه‌ی کوهستانی قرار گرفته است.
- ۳- فرید و خانواده‌اش می‌خواهند برای تعطیلات نوروزی به رامسر بروند؛ چه وسایلی باید به همراه ببرند؟ **پاسخ** باید وسایلی مانند چتر، کلاه آفتاب‌گیر، بادبزن و لباس‌های نخی و آستین‌دار را با خود ببرند؛ زیرا رامسر در ناحیه‌ی خزری قرار گرفته و هم امکان بارش و هم تابش آفتاب و میزان رطوبت زیاد وجود دارد.

۵ فعالیت درس ۱۸


۱- شماره‌ی مربوط به هر تصویر را زیر آن بنویسید.




(۲)



(۴)



(۱)



(۳)

ناحیه‌ی گرم و خشک (۱)

ناحیه‌ی معتدل و مرطوب خزری (۲)

ناحیه‌ی گرم و شرجی جنوب (۳)

ناحیه‌ی معتدل و نیمه خشک کوهستانی (۴)

۲- تصویرها را به دلخواه رنگ کنید. پاسخ بر عهده‌ی دانش‌آموز است.

فعالیت درس ۱۹



- ۱- آیا در منطقه‌ی شما جانوران یا گیاهانی هستند که تعداد آن‌ها نسبت به سال‌های قبل کم شده باشد یا از بین رفته باشند؟ از بزرگ‌ترها در این باره پرس و جو کنید و نتیجه را در کلاس بگویید. **پاسخ** بر عهده‌ی دانش‌آموز است.
- ۲- چرا در بعضی از فصل‌ها شکار جانوران یا صید ماهی در بعضی جاها ممنوع است؟ **پاسخ** زیرا معمولاً در زمان تولیدمثل جانوران، برای جلوگیری از انقراض آن‌ها شکار را ممنوع می‌کنند؛ برای مثال هنگام تخم‌ریزی ماهی‌ها یا زمان تولد ماهی‌های کوچک صید آن‌ها ممنوع است که اگر این ممنوعیت نبود آسیب بزرگی به اکوسیستم وارد می‌شد.

فعالیت درس ۱۹

۱- به نظر شما کدام یک از این کارها برای تفریح مناسب‌تر است؟ چرا؟



پاسخ تصویر سمت راست، زیرا به اطرافیان آسیب نمی‌رساند.

۲- اگر به همراه خانواده به سفر بروید و در یک محیط طبیعی غذا بخورید، چه کارهایی انجام می‌دهید تا به محیط زیست لطمه وارد نشود؟ **پاسخ** (۱) به درختان و گیاهان آسیب نمی‌زنیم. (۲) در جای نامناسب آتش روشن نمی‌کنیم. (۳) در محیط زیست زباله نمی‌ریزیم.

۳- به این تابلوهای مربوط به محیط زیست توجه کنید. هر کدام چه پیامی دارد؟ شما نیز سه نشانه‌ی دیگر طراحی کنید.



شکار ممنوع




محل عبور حیوانات اهلی




محل عبور حیوانات وحشی



آتش روشن کردن ممنوع



صید ماهی ممنوع



محل برپا کردن چادر