

شماره‌ی

۲۲

ارمغان هفته - چهارم دبستان

نام و نام خانوادگی: تاریخ: نام آموزگار:

ریاضی < فصل ۵: عدد مخلوط و عدد اعشاری - جمع و تفریق اعشاری
 مطالعات اجتماعی < درس ۱۷: نواحی آب و هوایی ایران
 علوم < درس ۸: آسمان در شب (۲)
 هدیه‌های آسمان < درس ۱۷: آقای بهاری، خانم بهاری (۱)
 فارسی < درس ۱۴: ادب از که آموختی؟
 قرآن < درس ۱۲: جلسه ی دوم و سوم

ریاضی

۱ حاصل عبارت های زیر را بنویسید.

$$2/8 + 3/1 - 2/4 =$$

$$4/2 - 0/7 + 3/5 =$$

۲ طول یک مستطیل ۸/۳ سانتی متر و عرض آن ۵/۹ سانتی متر است. محیط این مستطیل را به دست آورید.

۳ مقایسه کنید (> = <).

$$7/1 \bigcirc 6/2 \quad 0/7 + 0/2 \bigcirc 2/7 \quad 2/6 - 1/4 \bigcirc 2/2 \quad 0/5 \bigcirc 1/4$$

۴ وزن علی ۲۹/۳ کیلوگرم و وزن حمید ۲۳/۹ کیلوگرم می باشد. در این صورت:

الف) کدام یک وزن بیش تری دارد؟ چقدر؟


ب) مجموع وزن این دو نفر چند کیلوگرم است؟

۵ مجموع سه عدد ۷ می باشد. اگر عدد اول ۱/۹ و عدد دوم ۴/۳ باشد، عدد سوم چند است؟



علوم

۱ اشکال ماه را در طول یک ماه شماره گذاری کنید.



۲ جهت چرخش زمین به دور خودش و به دور خورشید را با فلش مشخص کنید.



۳ درستی و نادرستی هر عبارت را مشخص کنید و درست آن ها را بنویسید.

- الف) دب اکبر ستاره‌ای است در منظومه‌ی شمسی و معروف ترین ستاره‌ی آن می‌باشد.
- ب) طولانی‌ترین شب و روز سال، ۳۱ شهریور است.
- پ) جنس سیاره‌ی بهرام از گاز اکسیژن است.
- ت) سیاره‌ی زهره را می‌توانیم گاهی بعد از غروب خورشید مشاهده کنیم.

۴ کدام گزینه می‌تواند حاصل گردش ماه به دور زمین باشد؟

۱) شبانه روز

۲) ماه رمضان

۳) سال شمسی

۴) سال میلادی

۵) شهاب سنگ چیست؟

فارسی

۱ کلمات هر ستون را با هم ترکیب کنید و کلمات غیرساده بسازید.



شنا
نمای
ناپذیر
فایده
آور

نفوذ
کسالت
هنر
بی
نا

۲

۲ در کدام گزینه تمام واژه ها هم خانواده هستند؟

(۱) ادب، آداب، مؤذّب (۲) عطر، عطر، مشک (۳) نظر، منظم، ناظر (۴) عالم، معلوم، عمل

۳ با واژه‌های به هم ریخته‌ی زیر، جمله بسازید.

ببوید - مشک - عطر - آن که - خود - آن - نه - است - که - بگوید،

معنای ضرب المثل به دست آمده را بنویسید.

۴ «عالم بی عمل به چه ماند، به زنبور بی عمل، این جمله به چه معناست؟

۵ معنی واژه‌های داده شده را مقابل آن بنویسید.

	←	طبّه	←	میان‌تهی
	←	عطر	←	ناپسند

مطالعات اجتماعی

۱ با توجه به نقشه و با استفاده از شهرهایی که در زیر نوشته شده است، جدول را کامل کنید.

بندرعباس - گرگان - کرمان - ایلام - کیش - یاسوج - بیرجند - تنکابن،



معتدل و مرطوب خزری	گرم و خشک	گرم و شرجی سواحل جنوب	معتدل و نیمه خشک کوهستانی

۳

جاهای خالی را با کلمات مناسب، کامل کنید.

الف) در اوایل فروردین ماه، هوا در شهر بندرعباس و در شهر تبریز است.

ب) در ناحیه‌ی معتدل و نیمه خشک کوهستانی در بیش‌تر ماه‌های سال هوا است.

پ) ناحیه‌ی تبستان‌هایی معتدل دارد.

ت) سواحل جنوب به دلیل بارش کم، جز نواحی است اما به علت هوا در آن‌جا حالت شرجی پیدا می‌کند.

هدیه‌های آسمان - قرآن

بهترین راه تشکر از معلم چیست؟

با توجه به فرمایشات امام سجاد علیه السلام جاهای خالی را کامل کنید.

الف) حق معلم بر تو این است که زمانی که یکی از شاگردان از او سؤال کرد، تو ندهی.

ب) حق معلم بر تو این است که او را شماری و به او بگذاری.



پ) وقتی معلم صحبت می‌کند کنید و خوب به حرف‌هایش گوش کنید.

ت) شاگرد نباید صدایش را در برابر کند.

عبارات قرآنی را بخوانید و ترجمه‌ی آن‌ها را کامل کنید.

الف) سبح بالعشي و الابكار ← و خدا را تسبیح کنید در و صبح

ب) قَالَ يَا قَوْمِ اَتَّبِعُوا الْمُرْسَلِينَ ← ای من پیروی کنید از

	شناسایی اجزای اصلی جمله
	هم‌خانواده‌ی لغات
	کلمات ترکیبی و معنی ترکیب کلمات
	ویژگی نواحی مختلف آب و هوای ایران
	بزرگداشت و احترام به معلم
	معنای عبارات قرآنی

	جمع و تفریق اعداد اعشاری
	حل مسئله‌ی اعداد اعشاری
	مقایسه‌ی اعداد اعشاری
	شکل‌های مختلف ماه در طول یک ماه
	جهت چرخش زمین به دور خودش و خورشید
	شهاب سنگ

شاخص‌ها

-  غلبه غروب
-  غروب
-  قابل قبول
-  نیاز به تلاش بیشتر