



شماره‌ی
۲۶

ارمغان هفته - چهارم دبستان

نام و نام خانوادگی: تاریخ: نام آموزگار:

مطالعات اجتماعی < نوز
هدیه‌های آسمان < نوز
قرآن < نوز

ریاضی < نوز
علوم < نوز
فارسی < نوز

ریاضی

۱ کسر $\frac{3}{4}$ را روی شکل نشان دهید و ۲ کسر مساوی بنویسید.

۲ الگوهای زیر را ادامه دهید.

و و و و ۵ و ۲ و ۱ و ۱ (الف)

و و و و ۱۸ و ۶ و ۲ (ب)

و و و و ۱۲۲۴ و ۱۲۳ و ۱۲ و ۱ (پ)

۳ در هر ردیف از جدول زیر یک کسر باقیه مساوی نیست. آن را رنگ بزنید و سپس حرف مربوط به آن کسر را در پایین جدول در جای مناسب بنویسید تا رمز جدول به دست آید.

ک	$\frac{4}{8}$	ب	$\frac{4}{7}$	پ	$\frac{1}{2}$	س	$\frac{8}{16}$	۱
ق	$\frac{15}{21}$	ج	$\frac{10}{14}$	ح	$\frac{9}{21}$	د	$\frac{5}{7}$	۲
ه	$\frac{18}{24}$	س	$\frac{6}{8}$	ا	$\frac{5}{8}$	و	$\frac{12}{16}$	۳
ر	$\frac{12}{18}$	ا	$\frac{18}{24}$	د	$\frac{15}{20}$	ن	$\frac{9}{12}$	۴
ه	$\frac{8}{40}$	م	$\frac{6}{30}$	ا	$\frac{10}{25}$	ر	$\frac{5}{25}$	۵
ع	$\frac{12}{18}$	ن	$\frac{17}{36}$	ب	$\frac{24}{36}$	ی	$\frac{4}{6}$	۶

رمز:
۶ ۵ ۴ ۳ ۲ ۱



علوم

برچسب تبدیل‌های انرژی مربوط به هر تصویر را در جای خود قرار دهید.



شیمیایی به نورانی



الکتریکی به نورانی



الکتریکی به حرکتی



الکتریکی به صوتی

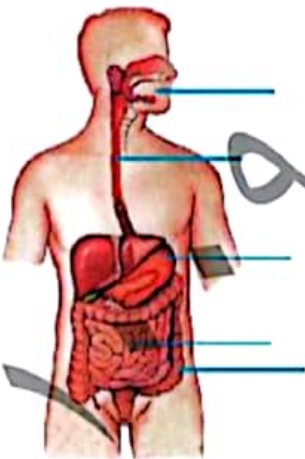


الکتریکی به گرمایی



حرکتی به گرمایی

نام اجزای مشخص شده در شکل را نوشته و وظیفه‌ی هر قسمت را بنویسید.



- (۱) _____
- (۲) _____
- (۳) _____
- (۴) _____
- (۵) _____



فارسی

دانش آموزان عزیزم، حکایت زیر را با دقت بخوانید.

دختر فکرت بشوی، گفته سعدی بگوی دامن گوهر ببار، بر سر مجلس ببار

دو شاهزاده در مصر بودند، یکی علم اندوخت و دیگری مال اندوخت، عاقبت آن یکی علامه عصر گشت و این یکی سلطان مصر شد. پس از آن

توانگر با چشم حقرت در فقیه نظر کرد و گفت: «من به سلطنت رسیدم و تو همچنان در مسکنت بماندی.» عالم گفت: «ای برادر، شکر نعمت حضرت

باری تعالی بر من واجب است که میراث پیغمبران یافته‌م و تو میراث فرعون و هامون که در حدیث نبوی (ص) آمده: «العلماء مرثه الانبیاء»

من آن مورم که پایم بماند نه زنبورم که از دستم بنانند

گلستان سعدی

کجا خود شکر این نعمت گزارم که زور مردم آزاری ندارم

تأییدها را در بیت‌های زیر مشخص کنید.

من آن مورم که پایم بماند نه زنبورم که از دستم بنانند

کجا خود شکر این نعمت گزارم که زور مردم آزاری ندارم

۲ در حکایتی که خواندید یک جمله‌ی خبری و یک جمله‌ی عاطفی بنویسید.

خبری:

عاطفی:

۳ عالم در پاسخ سلطان که به او گفته بود «من به سلطنت رسیدم و تو همچنان در مسکنت بماندی.» چه جوابی داد؟

مطالعات اجتماعی

۱ با شروع طرح، یکی از اجناس مورد علاقه‌ی خود را در نظر گرفته و مبالغی را که در هر روز عیدی گرفتید در جدول وارد کنید و با یک برنامه‌ریزی دقیق برای خرید آن اقدام کنید. (جدول زیر می‌تواند شما را هدایت کند.)

روز	درآمد یا پول توجیبی	هزینه (پولی که خرج می‌کنی)	پس‌انداز (پولی که ذخیره می‌کنی)
فروردین			
فروردین			
فروردین			
فروردین			
فروردین			
فروردین			
فروردین			
فروردین			
فروردین			
جمع			

با توجه به تصویر منطقه‌ی آب و هوایی هر گیاه را در زیر آن بنویسید.



--	--	--	--	--

هدیه‌های آسمان - قرآن

جواب سوالات را از جدول پیدا کنید و رنگ کنید.

م	د	ا	و	ج	د
د	ت	ث	ع	ب	ش
ی	ش	ا	ض	ر	خ
ن	ه	م	ق	ذ	د
ه	ن	ا	ر	ی	ا
ف	د	ع	ب	ل	م

- ۱) شبی که حضرت محمد (ص) به پیلگیری رسید.
- ۲) فرشته‌ای که اولین پیام خدا را برای حضرت محمد (ص) آورد.
- ۳) یکی از لقب‌های امام نهم.
- ۴) محل تولد امام نهم.
- ۵) سن به امامت رسیدن امام نهم.
- ۶) هشتمین امام ما.
- ۷) نام شهری که حرم حضرت معصومه (س) در آن قرار دارد.
- ۸) نام یکی از شاعران زمان امام رضا (ع).
- ۹) ترجمه دالاه، به فارسی

	آشنایی با مناطق آب و هوایی
	آشنایی با جدول بودجه بندی
	عید مبعث
	مشخصات امام نهم
	مشخصات امام هشتم
	محل حرم حضرت معصومه (س)
	معنای واژه‌ی دالاه

	نمایش کسرهای مساوی
	انگوهای عددی
	تبدیل انرژی
	وقیفه‌ی اندام‌های بدن
	تشخیص قلبیه
	تشخیص جمله‌های خبری و عاطفی
	کلمات هم خانواده
	درک مطلب

شاخص‌ها

- خیلی خوب
- خوب
- قابل قبول
- نیاز به تلاش بیشتر



ارمغان هفته - چهارم دبستان

نام و نام خانوادگی: تاریخ: نام آموزگار:

مطالعات اجتماعی < نوروژ
هدیه‌های آسمان < نوروژ
قرآن < نوروژ

ریاضی < نوروژ
علوم < نوروژ
فارسی < نوروژ

ریاضی

۱ تعداد تخم‌مرغ‌های رنگی در شکل دهم چقدر است؟



(۱)



(۲)





(۳)

(۱۰)

۲ پدر بزرگ سعید ۱۲ نوه دارد. او می‌خواهد در روز اول عید نوروز به هر کدام از نوه‌های خود ۱۵۰۰۰ تومان عیدی بدهد. او باید روی هم چند تومان برای عیدی دادن آماده کند؟

.....
.....

۳ گل‌های برابر را هم‌رنگ کنید.



۴ مادر درسا ۵ متر روبان خرید و سفره‌ی هفت‌سین را با ۳ تکه روبان ۰/۳ متری و یک تکه روبان ۰/۴ متری تزیین کرد. چند متر از روبان باقی‌ماند؟

.....
.....



علوم

عبارات مرتبط را به هم وصل کنید.

- اکسیژن را از شش‌ها به سلول می‌برد.
- دم و بازدم
- لوله‌ی تنفسی به طول ۱۰ سانتی‌متر و غضروفی شکل
- نای
- در انسان هر دقیقه ۱۲ بار این عمل انجام می‌شود.
- گلوبول قرمز

پرچسب شکل مدار موزایی و مدار متوالی را در جای خود قرار دهید.

مدار متوالی:	مدار موزایی:

با توجه به ۲ مدار بالا به سؤالات زیر پاسخ دهید.

در کدام مدار با افزودن لامپ‌ها، روشنایی آن‌ها کم‌تر نمی‌شود؟

در کدام مدار اگر یکی از لامپ‌ها بسوزد، بقیه‌ی لامپ‌ها خاموش می‌شوند؟

اسم سیاره‌ها را به ترتیب در جای خود بنویسید.



درستی و نادرستی هر عبارت را مشخص کنید.

- الف) مهم‌ترین اندام دستگاه تنفسی شش‌ها هستند.
- ب) ورود هوا به دستگاه تنفسی را دم و خروج آن را بازدم می‌گویند.
- پ) وجود مو داخل بینی تأثیری در هوای ورودی به آن ندارد.
- ت) ورود هوا ابتدا به دهان و بینی به علت عدم ورود مستقیم هوای سرد به دستگاه تنفسی می‌باشد.
- ث) نایزک‌ها از کیسه‌های هوایی تشکیل شده‌اند.

فارسی

* متن زیر را با دقت بخوانید و به سؤالات پاسخ دهید.

مردی در بازارچه‌ی شهر حجره‌ای داشت و پارچه می‌فروخت. شاگرد او پسر خوب و مؤدبی بود ولیکن کمی خجالتی بود. مرد تاجر همسری کدبانو داشت که دستپخت خوبی داشت و آش‌های خوش‌مزه‌ی او دهان هر کسی را آب می‌انداخت. روزی مرد بیمار شد و نتوانست به دکانش برود. شاگرد در دکان را باز کرده بود و جلوی آن را آب و جارو کرده بود ولی هرچه منتظر ماند از تاجر خبری نشد.

قبل از ظهر به او خبر رسید که حال تاجر خوب نیست و باید دنبال دکتر برود. پسرک در دکان را بست و دنبال دکتر رفت. دکتر به منزل تاجر رفت و او را معاینه کرد و برایش دارو نوشت.

پسر بیرون رفت و دارو را خرید و وقتی به خانه برگشت، دیگر ظهر شده بود. پسرک خولست دارو را بدهد و برود، ولی همسر تاجر خیلی اصرار کرد و او را برای نهار به خانه آمد. همسر تاجر برای نهار آش پخته بود سفره را انداخته و کلمه‌های آش را گذاشتند. تاجر برای شستن دست‌هایش به حیاط زیبای خانه رفت و همسرش به آشپزخانه بازگشت تا قاشق‌ها را بیاورد.

پسرک خیلی خجالت می‌کشید و فکر کرده تا بهانه‌ای بیاورد و نهار را آن‌جا نخورد. فکر کرد بهتر است بگوید دندان‌ش درد می‌کند. پسرک دستش را جلوی دهانش گذاشت و در آن هنگام تاجر به اتاق برگشت و تا او را دید، گفت: «دهانت سوخت؟ حالا چرا انقدر عجله کردی؟ صبر می‌کردی تا آش سرد شود آن وقت می‌خوردی!»

زن تاجر که با قاشق‌ها از راه رسیده بود به تاجر گفت: «این چه حرفی است که می‌زنی؟ من که تازه قاشق‌ها را آورده‌ام. او که آش نخورده که دهانش بسوزد؟» داستان برگرفته شده از متل‌ها و مثل‌ها.

۱ این داستان بیان‌کننده‌ی کدام ضرب‌المثل است؟

۲ دو جمله از داستان انتخاب کنید و نمودار آن را بکشید.

۳ یک جمله‌ی خبری و یک جمله‌ی پرسشی را انتخاب کنید و بنویسید.

۴ چرا مرد تاجر فکر کرد پسرک آش خورده است؟

مطالعات اجتماعی

۱) فرزندم در ایام نوروز دوست دارید به کدام یک از شهرهای ایران مسافرت کنید؟
الف) سوغاتی‌های این شهر را بنویسید.

ب) این شهر در کدام ناحیه‌ی آب و هوایی قرار دارد؟








پ) آیا در این شهر آثار باستانی و تاریخی قرار دارد؟

هدیه‌های آسمان - قرآن

۱) روز دوم فروردین روز جهانی آب است. از قرآن کریم آیه‌ای در این باره پیدا کنید و با معنی آن را بنویسید.

۲) معنای عبارت قرآنی زیر را بنویسید.

يَا مُقَلَّبَ الْقُلُوبِ وَ الْأَبْصَارِ يَا مُدَبِّرَ اللَّيْلِ وَ النَّهَارِ يَا مُحَوِّلَ الْخَوَلِ وَ الْأَخْوَالِ خَوِّنَا إِنِّي أَحْسَنُ الْخَالِ،

	تشخیص ضرب المثلها
	نمودار جمله
	جمله‌ی خبری و پرسشی
	درک مطلب
	آشنایی با ناحیه‌ی آب و هوایی و آثار باستانی هر منطقه
	ارزش آب در اسلام
	معنای عبارت دعایی لحظه‌ی سال تحویل

	تشخیص الگوی هندسی
	ضرب اعداد چند رقمی
	کسر
	معلقات اعداد اعشاری
	آشنایی با دستگاه تنفس
	انواع مدارها و نحوه‌ی کار هر کدام
	ترتیب سیاره‌ها



شماره‌ی
۲۵

ارمغان هفته چهارم دبستان

نام و نام خانوادگی: تاریخ: نام آموزگار:

مطالعات اجتماعی < نوروز
هدیه‌های آسمان < نوروز
قرآن < نوروز

ریاضی < نوروز
علوم < نوروز
فارسی < نوروز

ریاضی

تعداد تخم‌مرغ‌های رنگی در شکل دهم چندتا است؟

شماره شکل	۱	۲	۳	...	۱۰
تعداد تخم‌مرغ	۳	۵	۷	...	۲۱



(۱)



(۲)





(۳)

(۱۰)

پدر بزرگ سعید ۱۲ نوه دارد. او می‌خواهد در روز اول عید نوروز به هر کدام از نوه‌های خود ۱۵۰۰۰ تومان عیدی بدهد. او باید روی هم چند تومان برای عیدی دادن آماده کند؟

باید $۱۲ \times ۱۵۰۰۰ = ۱۸۰۰۰۰$ تومان عیدی بدهد.

گل‌های برابر را هم‌رنگ کنید.



مادر درسا ۵ متر روبان خرید و سفره‌ی هفت‌سین را با ۳ تکه روبان $۰/۳$ متری و یک تکه روبان $۰/۴$ متری تزئین کرد. چند متر از روبان باقی‌ماند؟

$۵۰۰ \text{ سانتی‌متر} = ۵ \text{ متر}$

۴ cm

۳ cm

$(۳ \times ۳۰) + (۱ \times ۴۰) = ۹۰ + ۴۰ = ۱۳۰$

۱۳۰ سانتی‌متر

$۵۰۰ - ۱۳۰ = ۳۷۰ \text{ cm}$

۳۷۰ متر

علوم

عبارات مرتبط را به هم وصل کنید.



شکل مدار موازی و مدار متوالی را رسم کنید. در جای خود قرار دهید.

مدار موازی:	مدار متوالی:
-------------	--------------


با توجه به ۲ مدار بالا به سوالات زیر پاسخ دهید.

در کدام مدار با افزودن لامپ ها، روشنایی آن ها کمتر نمی شود؟

مدار موازی

در کدام مدار اگر یکی از لامپ ها بسوزد، بقیه ی لامپ ها خاموش می شوند؟

مدار متوالی



زهره (ناهد)

مرخ (براهم)

۴) درستی و نادرستی هر عبارت را مشخص کنید.

- الف) مهم ترین اندام دستگاه تنفسی شش ها هستند.
- ب) ورود هوا به دستگاه تنفسی را دم و خروج آن را بازدم می گویند.
- پ) وجود مو داخل بینی تأثیری در هوای ورودی به آن ندارد.
- ت) ورود هوا ابتدا به دهان و بینی به علت عدم ورود مستقیم هوای سرد به دستگاه تنفسی می باشد.
- ث) نایزک ها از کیسه های هوایی تشکیل شده اند.

۲

* متن زیر را با دقت بخوانید و به سؤالات پاسخ دهید.

مردی در بازارچه‌ی شهر حجره‌ای داشت و پارچه می‌فروخت. شاگرد او پسر خوب و مؤدبی بود ولیکن کمی خجالتی بود. مرد تاجر همسری کدبانو داشت که دستپخت خوبی داشت و آش‌های خوش‌مزه‌ی او دهان هرکسی را آب می‌انداخت. روزی مرد بیمار شد و نتوانست به دکانش برود. شاگرد در دکان را باز کرده بود و جلوی آن را آب و جارو کرده بود ولی هرچه منتظر ماند از تاجر خبری نشد. قبل از ظهر به او خبر رسید که حال تاجر خوب نیست و باید دنبال دکتر برود. پسرک در دکان را بست و دنبال دکتر رفت. دکتر به منزل تاجر رفت و او را معاینه کرد و برایش دارو نوشت. پسر بیرون رفت و دارو را خرید و وقتی به خانه برگشت، دیگر ظهر شده بود. پسرک خواست دارو را بدهد و برود، ولی همسر تاجر خیلی اصرار کرد و او را برای ناهار به خانه آمد. همسر تاجر برای ناهار آش پخته بود سفره را انداخته و کاسه‌های آش را گذاشتند. تاجر برای شستن دست‌هایش به حیاط زیبای خانه رفت و همسرش به آشپزخانه بازگشت تا قاشق‌ها را بیاورد. پسرک خیلی خجالت می‌کشید و فکر کرد تا بهانه‌ای بیاورد و ناهار را آنجا نخورد. فکر کرد بهتر است بگوید دندانش درد می‌کند. پسرک دستش را جلوی دهانش گذاشت و در آن هنگام تاجر به اتاق برگشت و تا او را دید، گفت: «دهانت سوخت؟ حالا چرا انقدر عجله کردی؟ صبر می‌کردی تا آش سرد شود آن وقت می‌خوردی!» زن تاجر که با قاشق‌ها از راه رسیده بود به تاجر گفت: «این چه حرفی است که می‌زنی؟ من که تازه قاشق‌ها را آورده‌ام. او که آش نخورده که دهانش بسوزد؟» داستان برگرفته شده از مثل‌ها و مثل‌ها،

۱) این داستان بیان‌کننده‌ی کدام ضرب‌المثل است؟ *آش نخوردن در دکان بسوزد.*

۲) دو جمله از داستان انتخاب کنید و نمودار آن را بکشید.

(به همسری دانش‌آموز)

۳) یک جمله‌ی خبری و یک جمله‌ی پرسشی را انتخاب کنید و بنویسید.

(به همسری دانش‌آموز)

۴) چرا مرد تاجر فکر کرد پسرک آش خورده است؟

پسرک دهانش را جلوی دهانش گذاشته بود.



(به همراهی دانش آموز)

مطالعات اجتماعی

فرزندم در ایام نوروز دوست دارید به کدام یک از شهرهای ایران مسافرت کنید.

الف) سوغاتی‌های این شهر را بنویسید.

ب) این شهر در کدام ناحیه‌ی آب و هوایی قرار دارد؟

پ) آیا در این شهر آثار باستانی و تاریخی قرار دارد؟

هدیه‌های آسمان - قرآن

روز دوم فروردین روز جهانی آب است. از قرآن کریم آیه‌ای در این باره پیدا کنید و با معنی آن را بنویسید.

(به همراهی دانش آموز)

معنای عبارت قرآنی زیر را بنویسید.

يَا مَعْشَرَ الْقُلُوبِ وَ الْأَبْصَارِ يَا مُدَبِّرِ اللَّيْلِ وَ النَّهَارِ يَا مُخَوِّلَ الْخَوَالِ وَ الْأَخْوَالِ خَوْلًا خَالِنًا إِلَيَّ أَحْسَنِ الْخَالِ،

ای گروه دل‌ها و بیننده‌ی دل‌ها، ای سرگردان‌کننده‌ی خواران و اقربان، ای خوارکننده‌ی خواران و اقربان، ای خوارکننده‌ی خواران و اقربان، ای خوارکننده‌ی خواران و اقربان.

عشق و مهر	عزت و کرامت	عزت و کرامت	عشق و مهر	شاخص‌ها
				تشخیص ضرب المثل‌ها
				نمودار جمله
				جمله‌ی خبری و پرسشی
				درک مطلب
				آشنایی با ناحیه‌ی آب و هوایی و آثار باستانی هر منطقه
				ارزش آب در اسلام
				معنای عبارت دعایی لحظه‌ی سال تحویل

عشق و مهر	عزت و کرامت	عزت و کرامت	عشق و مهر	شاخص‌ها
				تشخیص الگوی هندسی
				ضرب اعداد چند رقمی
				کسر
				محاسبات اعداد اعشاری
				آشنایی با دستگاه تنفسی
				انواع مدارها و نحوه‌ی کار هر کدام
				ترتیب سیاره‌ها



نام و نام خانوادگی: تاریخ: نام آموزگار:

مطالعات اجتماعی < نوروژ
هدیه‌های آسمان < نوروژ
قرآن < نوروژ

ریاضی < نوروژ
علوم < نوروژ
فارسی < نوروژ

ریاضی



$$\frac{4}{4} = \frac{4}{8} = \frac{9}{12}$$

کسر $\frac{3}{4}$ را روی شکل نشان دهید و ۲ کسر مساوی بنویسید.

الگوهای زیر را ادامه دهید.

۳۴، ۲۱، ۱۳، ۸ و ۵ و ۳ و ۲ و ۱ و ۱ (الف)
 ۱۴۵۱، ۴۸۴، ۱۴۲، ۵۴ و ۱۸ و ۶ و ۲ (ب)
 ۱۲۳۴۵۶۷۸، ۱۲۳۴۵۶۷، ۱۲۳۴۵۶، ۱۲۳۴۵، ۱۲۳۴، ۱۲۳۳، ۱۲۳ و ۱۲ و ۱ (پ)

در هر ردیف از جدول زیر یک کسر با بقیه مساوی نیست. آن را رنگ بزنید و سپس حرف مربوط به آن کسر را در پایین جدول در جای مناسب بنویسید تا رمز جدول به دست آید.

س	$\frac{8}{16}$	پ	$\frac{1}{2}$	ب	$\frac{4}{7}$	ی	$\frac{4}{8}$
د	$\frac{5}{7}$	هـ	$\frac{9}{21}$	ج	$\frac{10}{14}$	ق	$\frac{15}{21}$
و	$\frac{12}{16}$	ز	$\frac{5}{8}$	س	$\frac{6}{8}$	ح	$\frac{18}{24}$
ن	$\frac{9}{12}$	د	$\frac{15}{20}$	ا	$\frac{18}{24}$	ر	$\frac{12}{18}$
ر	$\frac{5}{25}$	ز	$\frac{11}{25}$	م	$\frac{6}{30}$	ح	$\frac{8}{40}$
ی	$\frac{4}{6}$	ب	$\frac{24}{36}$	ن	$\frac{17}{36}$	ع	$\frac{12}{18}$

رمز: ب ۱ هـ ۲ ۱ ۳ ۴ ۵ ۶

۱



علوم

تبدیل‌های انرژی مربوط به هر تصویر را در جای خود بنویسید. در آرد رسید.



سیمیایی به نورانی




الکتریکی به نورانی



الکتریکی به حرکتی



الکتریکی به صوتی

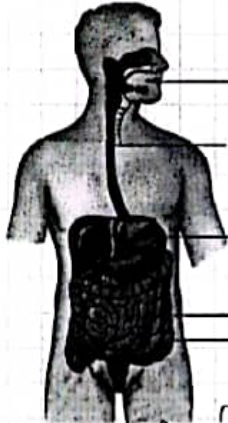


الکتریکی به گرمایی



حرکتی به گرمایی

نام اجزای مشخص شده در شکل را نوشته و وظیفه‌ی هر قسمت را بنویسید.



- ۱- دهان
- ۲- مری
- ۳- معده
- ۴- روده باریک
- ۵- روده بزرگ

- ۱
- ۲
- ۳
- ۴
- ۵

سوارش از دهان شروع می‌شود و وقتی غذا وارد دهان می‌شود در دهان با آن مایعی جویم.
 غذا با آب دهان (بزاق) مخلوط شده و نرم می‌شود سپس غذا را معده می‌دهیم و با این کار از راه لوله‌ای به نام
 مری غذا را به معده انتقال می‌دهیم. غذای نرم شده در معده به سبک‌های مختلف در می‌آید. این مایع غلیظاً
 از معده به آرامی وارد روده باریک می‌شود. در این مرحله ذره‌های غذا از میان‌های روده به سلول‌های بدن
 می‌رسند. مواد نوارش بیادتم ما نقد پوست میوه‌ها و دانه‌ها با لوله‌های بزرگ رفته در آن جا دفع می‌شوند.



فارسی

** دانش‌آموزان عزیزم، حکایت زیر را با دقت بخوانید.

دفتر فکرت بشوی، گفته سعدی بگوی دامن گوهر بیار، بر سر مجلس ببار

دو شاهزاده در مصر بودند، یکی علم اندوخت و دیگری مال اندوخت، عاقبت آن یکی علامه عصر گشت و این یکی سلطان مصر شد. پس از آن توانگر با چشم حقارت در فقیه نظر کرد و گفت: «من به سلطنت رسیدم و تو همچنان در مسکنت بماندی.» عالم گفت: «ای برادر، شکر نعمت حضرت باری تعالی بر من واجب است که میراث پیغمبران یافتم و تو میراث فرعون و هامون که در حدیث نبوی (ص) آمده: «العلماء مرثه الانبياء»

من آن مورم که پایم بمانند نه زنبورم که از دستم بنالند
کجا خود شکر این نعمت گزارم که زور مردم آزاری ندارم

گلستان سعدی

۱ قافیه‌ها را در بیت‌های زیر مشخص کنید.

من آن مورم که پایم بمانند نه زنبورم که از دستم بنالند ← بمالند - بنالند
کجا خود شکر این نعمت گزارم که زور مردم آزاری ندارم ← نزارم - ندارم

۲ در حکایتی که خواندید یک جمله‌ی خبری و یک جمله‌ی عاطفی بنویسید. (بم‌نمودی دانش‌آموز)

خبری:
عاطفی:

۳ عالم در پاسخ سلطان که به او گفته بود «من به سلطنت رسیدم و تو همچنان در مسکنت بماندی»، چه جوابی داد؟

دانشمندان وارث پیغمبران هستند

مطالعات اجتماعی

۱ با شروع طرح، یکی از اجناس مورد علاقه‌ی خود را در نظر گرفته و مبالغی را که در هر روز عیدی گرفتید در جدول وارد کنید و با یک برنامه‌ریزی دقیق برای خرید آن اقدام کنید. (جدول زیر می‌تواند شما را هدایت کند)

روز	درآمد یا پول توجیبی	هزینه (پولی که خرج می‌کنی)	پس‌انداز (پولی که ذخیره می‌کنی)
..... فروردین			
..... فروردین			
..... فروردین			
..... فروردین			
..... فروردین			
..... فروردین			
..... فروردین			
..... فروردین			
..... فروردین			
..... فروردین			
جمع			

بم‌نمودی دانش‌آموز

با توجه به تصویر منطقه‌ی آب و هوایی هر گیاه را در زیر آن بنویسید.



هدیه‌های آسمان - قرآن

جواب سؤالات را از جدول پیدا کنید و رنگ کنید.

- ۱- شبی که حضرت محمد (ص) به پیامبری رسید. *مبعوث*
- ۲- فرشته‌ای که اولین پیام خدا را برای حضرت محمد (ص) آورد. *جبرئیل*
- ۳- یکی از لقب‌های امام نهم. *جواد*
- ۴- محل تولد امام نهم. *مدینه*
- ۵- سن به امامت رسیدن امام نهم. *حسین*
- ۶- هشتمین امام ما. *رضا*
- ۷- کشوری که مرقد امام هشتم در آن قرار دارد. *عراق*
- ۸- نام شهری که حرم حضرت معصومه (س) در آن قرار دارد. *همدان*
- ۹- نام یکی از شاعران زمان امام رضا (ع). *عبد*
- ۱۰- ترجمه «الله» به فارسی *پهروا*

د	چ	و	ا	د	م
ش	ب	ع	ث	ت	د
خ	ر	ض	ا	ش	ی
د	ث	ق	م	ه	ن
ا	ی	ر	ا	ن	ه
م	ل	ب	ع	د	ف

تفاوت	تفاوت	تفاوت	تفاوت	شاخص‌ها
				آشنایی با جدول بودجه بندی
				آشنایی با مناطق آب و هوایی
				عید مبعث
				مشخصات امام نهم
				مشخصات امام هشتم
				محل حرم حضرت معصومه (س)
				معنای واژه‌ی «الله»

تفاوت	تفاوت	تفاوت	تفاوت	شاخص‌ها
				نمایش گسره‌های مساوی
				الگوهای عددی
				تبدیل انرژی
				وظیفه‌ی اندام‌های بدن
				تشخیص قایم
				تشخیص جمله‌های خبری و عاطفی
				کلمات هم‌خانواده
				درک مطلب