

نام کلاس:

نام و نام خانوادگی:

(۳۱) هر جمله را به عبارت مربوطه وصل کنید.

- | | |
|--|----------------|
| • (الف) کوه‌هایی که مانند زنجیر به یکدیگر متصل‌اند. | • (۱) رود |
| • (ب) از به هم پیوستن جویبار به وجود می‌آید. | • (۲) کوهپایه |
| • (پ) زمین‌های پایین کوه را می‌گویند. | • (۳) آبرفت |
| • (ت) شن و ماسه و گل و لای که رودها همراه خود می‌برند. | • (۴) رشته کوه |



(۳۲) جملات درست را با علامت ✓ و جملات نادرست را با علامت ✖ مشخص کنید.

- (الف) هخامنشیان کم‌تر از دویست سال بر ایران حکومت کردند.
- (ب) مادها گروهی از آریایی‌ها بودند که حکومت اشکانیان را به وجود آوردند.
- (پ) سلوکیان سعی کردند آداب و رسوم و خط و زبان یونانی‌ها را در ایران رواج دهند.
- (ت) رومی‌ها در فنون جنگی و اسب‌سواری و تیراندازی بسیار ماهر بودند.



(۳۳) گزینه‌ی صحیح را مشخص کنید.

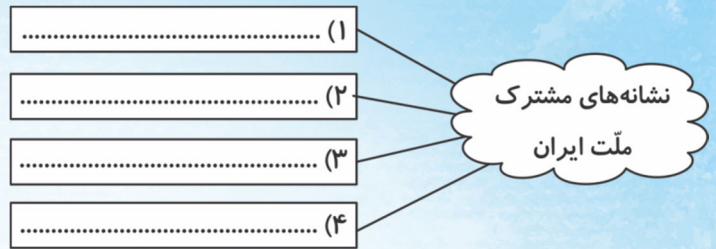
- | | | | | |
|--|-----------------------|------------------|------------|---------------------|
| (الف) کدام ناحیه از نظر پوشش گیاهی فقیر است؟ | (۱) کوهستانی | (۲) گرم و خشک | (۳) خزری | (۴) گرم شرجی و جنوب |
| (ب) شتر آب و مواد غذایی را در کجا ذخیره می‌کند؟ | (۱) گردن | (۲) پاها | (۳) شکم | (۴) کوهان |
| (پ) کدام یک، از گیاهان ناحیه‌ی معتدل خزری است؟ | (۱) پسته‌ی وحشی | (۲) نخل | (۳) افرا | (۴) بلوط |
| (ت) کدام یک از گزینه‌های زیر برای «چراگاه گوسفندان» مناسب است؟ | (۱) مراتع سرسبز زاگرس | (۲) قله‌های بلند | (۳) بیابان | (۴) ارتفاعات |



(۳۴) جاهای خالی را با کلمات مناسب کامل کنید.

- (الف) ایران یعنی سرزمین یا محلّ
 (ب) آریایی‌ها سه گروه بودند: مادها، و
 (پ) مادها در دامنه‌ی کوه الوند شهری ساختند و نام آن را گذاشتند.

۳۵) نمودار زیر را کامل کنید.

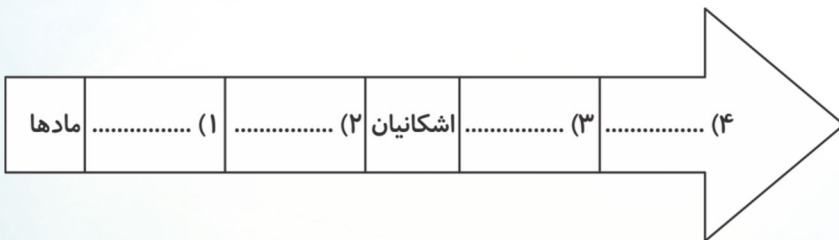


۳۶) به سوالات زیر پاسخ کوتاه دهید.

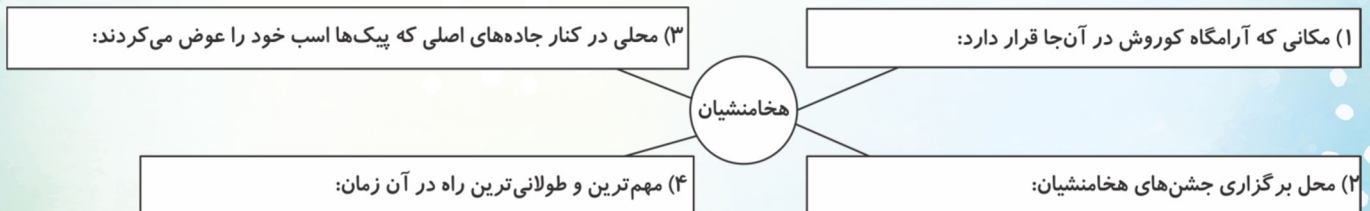
- الف) هدف از ایجاد بوستان یا فضای سبز در یک محله چیست؟
 ب) یکی از امکانات عمومی جدید که ممکن است باعث تغییر در محله شود، را نام ببرید.
 پ) عبارت «محل برگزاری مراسمی چون دعا و عزاداری و جشن‌های مذهبی است» مربوط به کدام یک از محل‌های اجتماع مردم محله است؟



۳۷) خط زمان را کامل کنید.



۳۸) سوالات زیر که مربوط به حکومت هخامنشیان است را پاسخ دهید.



۳۹) روزهای تعطیل در ایران به چند دسته تقسیم می‌شود؟ نام ببرید و برای هر کدام، یک مثال بزنید.



۴۰) چرا در بعضی از فصل‌ها، شکار جانوران یا صید ماهی در بعضی جاها ممنوع است؟