



سنجش ۵





درنا از برنا پرسید: آیا می‌توانی اعدادی را که یاد گرفته‌ای به ترتیب بنویسی؟
اعداد را در جدول زیر به ترتیب از چپ به راست بنویس.

→			
---	--	--	--

به دسته‌های زیر نگاه کن. دسته‌ای که عدد آن درست است را رنگ کن.



در هر جعبه چند میوه وجود دارد؟ دور عدد درست خط بکش.




به تعداد شکل‌های سمت چپ شکل‌های سمت راست را رنگ بزن.



شکل‌ها را بشمار و به تعداد هر شکل خانه‌های مقابل آن رنگ کن.

★				
---	--	--	--	--



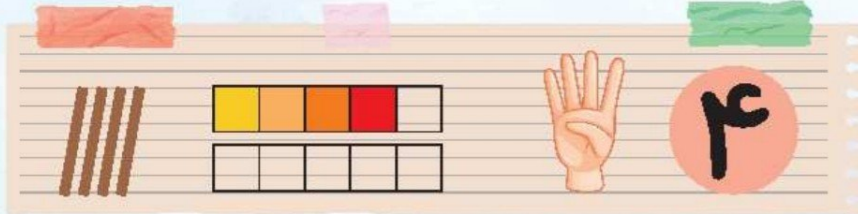


شکل‌ها را بشمار و به تعداد هر شکل خانه‌های مقابل آن رنگ کن.

به دسته‌های زیر نگاه کن و تعداد هر شکل را با انگشت دست نشان بده و زیر هر دسته به همان تعداد گل بکش.


جدول زیر را کامل کن و برچسب مناسب را از انتهای کتاب جدا کرده و بچسبان.

انگو را ادامه بده.





در بین موارد زیر کدام تصویر چهار پا یا چهار پایه دارند؟ به تصویر انگشت عدد ۴ وصل کن. ?




درنا گفت: آیا می‌توانی عدد ۴ را با انگشتان دست به من نشان بدهی؟ حالا شما هم عدد ۴ را با انگشتان دست نشان بده و حال چوب خط انگشتان باز را بکش و برچسب عدد ۴ را در کادر بچسبان.



نقطه‌چین‌ها را به هم وصل کن. چه شکلی درست می‌شود؟ آن را رنگ بزن. ?

نقطه‌چین‌ها چه عددی را نشان می‌دهد؟ عدد ۴ را رنگ کن.



حالا که با عدد ۴ آشنا شدی باید بدانی که عدد ۴ چه شکلی نوشته می‌شود. مانند نمونه بنویس. ?



اشنایی با مفهوم عدد ۴

در چینه‌ی زیر چند خانه رنگ شده است؟ چوب خط آن را بکش و عدد آن را در کادر بنویس. ?



حالا که با عدد ۴ آشنا شدی باید بدانی که عدد ۴ چه شکلی نوشته می‌شود. مانند نمونه بنویس.

۴ ۴ ۴ ۴ ۴ ۴

آشنایی با مفهوم عدد ۴



۵۵

شمارش و مفهوم اعداد فصل چهارم

در چینه‌ی زیر چند خانه رنگ شده است؟ چوب خط آن را بکش و عدد آن را در کادر بنویس.



دور دسته‌ای را که عدد ۴ را درست نشان داده است بکش.



۴

۳


۴

۲

حیوانات با ۴ پا را پیدا کن و رنگ بزن.



به تعداد لباس‌های روی طناب چینه‌های زیر را رنگ بزن.



عدد ۴ را مانند نمونه بنویس.

۴

آشنایی با مفهوم عدد ۴

