








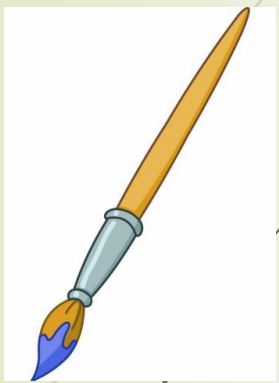
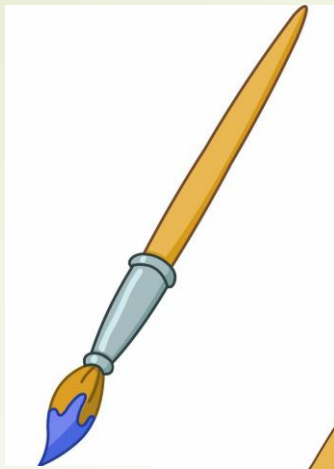
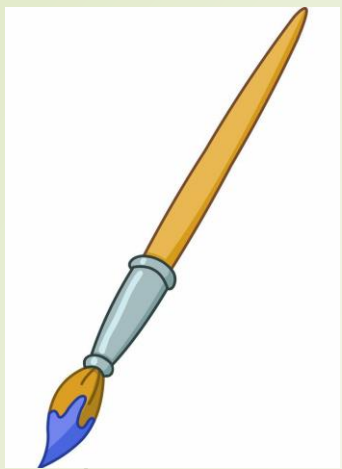


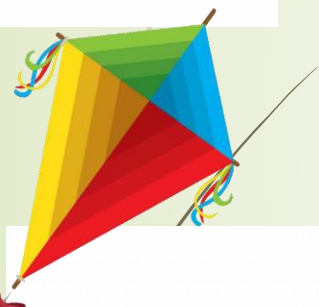






کلاس قاصدک
آموزگار: خانم رضی
مفاهیم ریاضی
آموزش عدد پنج





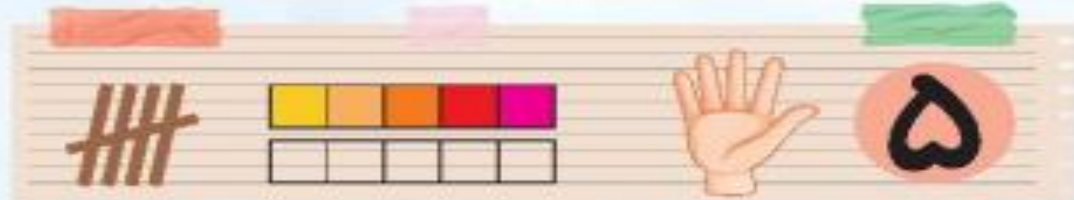












درنا به برنا گفت: آیا می‌دانی یک دست چند انگشت دارد؟ برنا گفت: نمی‌دانم.
به دست خود نگاه کن و بگو چند انگشت داری؟ تا به حال به انگشتان پاهایت دقت کرده‌ای؟
حالا تصویر دست و پاهایی که ۵ انگشت دارد به دست و پای انسان وصل کن.



درنا گفت: آیا می‌توانی عدد ۵ را با انگشتان دستت به من نشان بدهی؟ شما هم عدد ۵ را با انگشتان دست
تشان بده. سپس چوب خط آن را بکش و برچسب آن را در کادر بچسبان.



نقطه چین‌ها را به هم وصل کن. چه شکلی درست می‌شود؟ آن را رنگ کن. نقطه‌چین‌ها چه عددی را نشان
می‌دهد؟ عدد ۵ را رنگ کن.



حالا که با عدد ۵ آشنا شدی باید بدانی که عدد ۵ چه شکلی نوشته می‌شود. مانند نمونه بنویس.



نگارهای با مفهوم عدد ۵

در داخل کدام یک از مجموعه‌های زیر ۵ شکل وجود دارد؟ آن را علامت بزن.



به تعداد صبرگرها از چینه‌ها رنگ کن و عدد مناسب را علامت بزن.



کدام یک از شکل‌های زیر ۵ گوشه دارد؟ آن را رنگ بزن.



در داخل قوطی برنا چند تیله وجود دارد و چند تیله روی زمین ریخته است؟ آیا تعداد تیله‌های درون قوطی با تیله‌های پخش شده در بیرون برابر است؟ با کشیدن یک تیله آن‌ها را برابر کن.



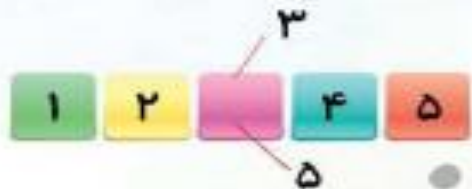
عدد ۵ را مانند نمونه بنویس.



سنجش ۶



۱؟ یک عدد در جدول زیر جا مانده است. آیا می‌دانی آن چه عددی است؟ دورش خط بکش و آن عدد را داخل چینه بنویس.



۲؟ خانه‌های جدول را به ترتیب از چپ به راست کامل کن.



۳؟ به عددی که در سمت چپ نوشته شده با دقت نگاه کن و به همان تعداد خانه‌ها را رنگ بزن.



۴؟ به تعداد پروانه‌ها از چینه‌ها رنگ بزن.



--	--	--	--	--

برای انگشتان هر دست چوب خط بکش. ?



Five empty boxes for writing the numbers corresponding to the hands above.

به تعداد عددی داده شده برای بدن حیوانات زیر خال بکش. ?



به تعداد سوراخ‌های دکمه‌ها در کادر چوب خط بکش. آیا می‌توانی هر عدد را با انگشتان دست نشان بدهی؟ ?



هر دسته از ستاره‌ها چه عددی را بیان می‌کند؟ آنها را به عدد مناسب وصل کن. ?



Numbers 1, 2, 3, 4, 5 in different colors.



۱ - ۱


۲ - ۲

۳ - ۳

۴ - ۴

۵ - ۵

تمرین نوشتن اعداد یک تا پنج



قاصدک قشنگم موفق باشی

