





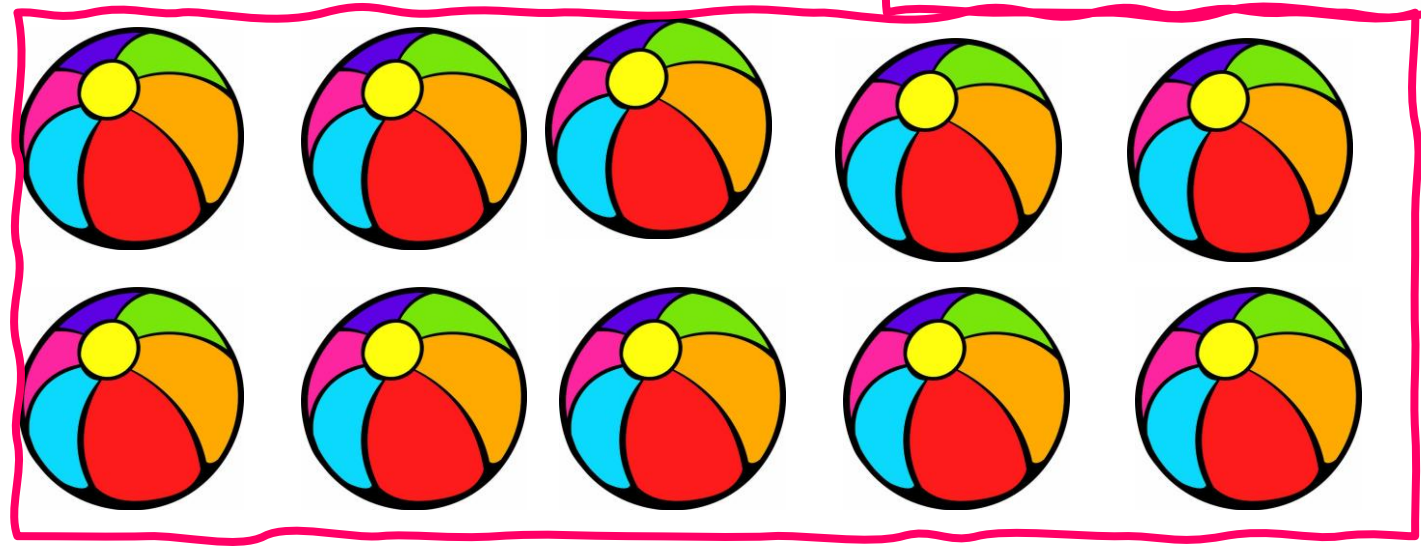

کلاس قاصدک
آموزگار: خانم رضی
مفاهیم ریاضی
آموزش عدد ده






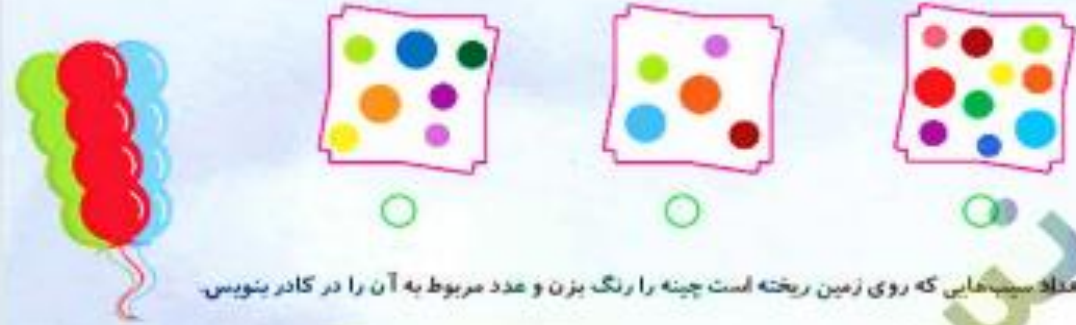








کدام دسته ۱۰ تایی است؟ آن را علامت بزن.



به تعداد سیب‌هایی که روی زمین ریخته است چینه را رنگ بزن و عدد مربوط به آن را در کادر بنویس.

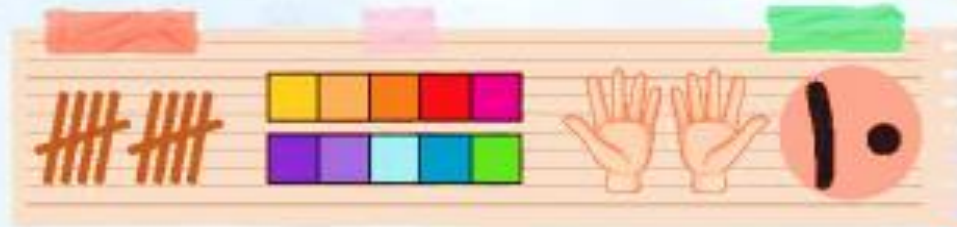


تعدادی قاشق و چنگال اینجا می‌بینیم. به آن‌ها چند قاشق و چنگال اضافه کن تا هر کدام ۱۰ تا بشود.



عدد ۱۰ را مانند نمونه بنویس.

۱۰



در سبزه برنا گفت: می‌دانی چند انگشت در دستانت داری؟ دو تا دست را بالا بیاور و انگشتت را بشمار.

حالا شما هم هر دو دست خود را بالا بیاور و انگشتان دو دست را بشمار. تعداد انگشت‌های پاهایت چند تا است؟ حالا فقط انگشتان دست و پا را رنگ کن.



درنا گفت: آیا می‌توانی عدد ۱۰ را با انگشت‌های دستت به من نشان بدهی؟ شما هم عدد ۱۰ را با انگشتان دستانت نشان بده. حالا به تعداد انگشتان دست چوب خط بکش و برجسب عدد آن را در کادر بچسبان.



تقطیعین‌ها را به هم وصل کن. چه شکلی درست می‌شود؟

تقطیعین‌ها چه عددی را نشان می‌دهد؟

عدد ۱۰ را رنگ کن.



حالا که با عدد ۱۰ آشنا شدی باید بدانی که عدد ۱۰ چه شکلی نوشته می‌شود؟ مانند نمونه بنویس.



ستاره‌ها را از سمت راست بشمار و هفتمین ستاره را رنگ کن.



کیف‌های مدرسه را بشمار و از سمت راست یک دسته‌ی شش تایی جدا کن.



سست راست هر گل یک پروانه نشسته است. به تعداد گلبرگ‌های هر گل روی بدن پروانه خال بکش و تعداد آن را در وسط هر گل بنویس.



نمکدان‌ها را از سمت چپ بشمار و زیر دهمین نمکدان خط بکش.



درنا به برنا گفت: حالا می‌تونی اعداد ۱ تا ۱۰ را بشماری.

اعداد ۱ تا ۱۰ را به ترتیب در بادکنک‌ها از چپ به راست بنویس.



آیا می‌تونی ۱۰ تا میوه داخل سبد بکشی؟



به تعداد عددهای داده شده شکل‌های هر دسته را رنگ بزن.



برنا در حیاط به گل‌ها آب می‌داد. تعدادی پروانه به سست گل‌ها آمدند. آیا می‌توانی ۹ تا از پروانه‌ها را داخل یک خط بسته قرار دهی؟



پسران باهوش و زرنگم موفق باشید

