



آموزگار: صدیقه پالاهنگ





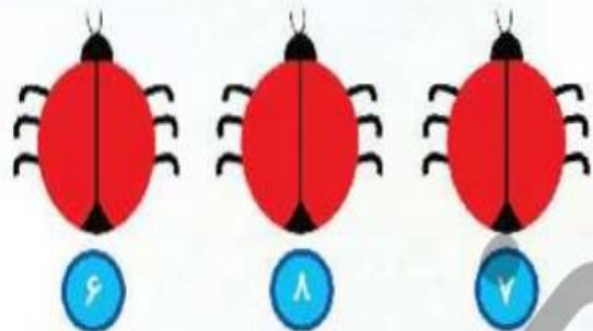
سنجش ۷



جدول زیر را کامل کن و در جاهای خالی اعداد مناسب بنویس.

۱		۴	۵	۷	
---	--	---	---	---	--

به تعداد عددی که زیر هر کفشدوزک هست روی بال آن خال بکش.



علوی



درنا به برنا گفت: آیا می‌توانی دسته‌هایی که تعداد شکل‌هایشان مثل هم است را به هم وصل کنی؟
و به تعداد هر دسته در زیرش چوب خط بکش.

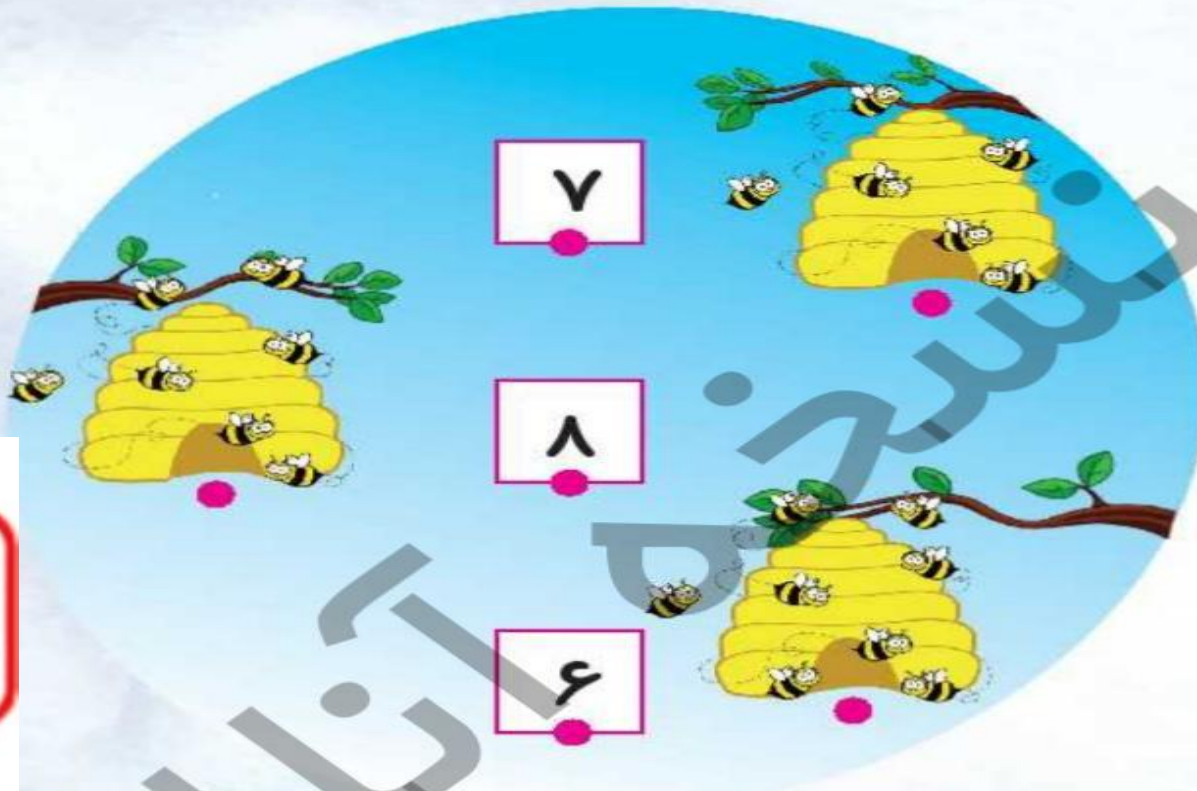


۱۳۸/۶۸

علوی



برنا سه کندوی زنبور عسل دید. زنبورها به دور کندوها جمع شده بودند. دور هر کندو چند زنبور می‌بینی؟
 بشمار و با انگشتان دست نشان بده. زنبورهای هر دسته را به عدد آن وصل کن و برای هر زنبور در ردیف
 خود یک گل بکش.



علوی



برنا با توپ‌هایش بازی می‌کرد، ناگهان پایش به سبد توپ‌ها خورد و تعدادی توپ روی زمین ریخت.
چند عدد توپ داخل سبد و چند عدد توپ بیرون سبد است؟ توپ‌های روی زمین را رنگ کن و به تعداد توپ‌های
داخل سبد چوب خط بکش.



علوی

به دسته‌ی خرگوش‌های زیر نگاه کن. به تعداد هر خرگوش در دسته‌ی سمت راست یک هویج بکش. چند خرگوش و چند تا هویج در دسته می‌بینی؟ بشمار و بگو.



به تعداد اعداد داده شده در هر ردیف دایره بکش.


۸

۶

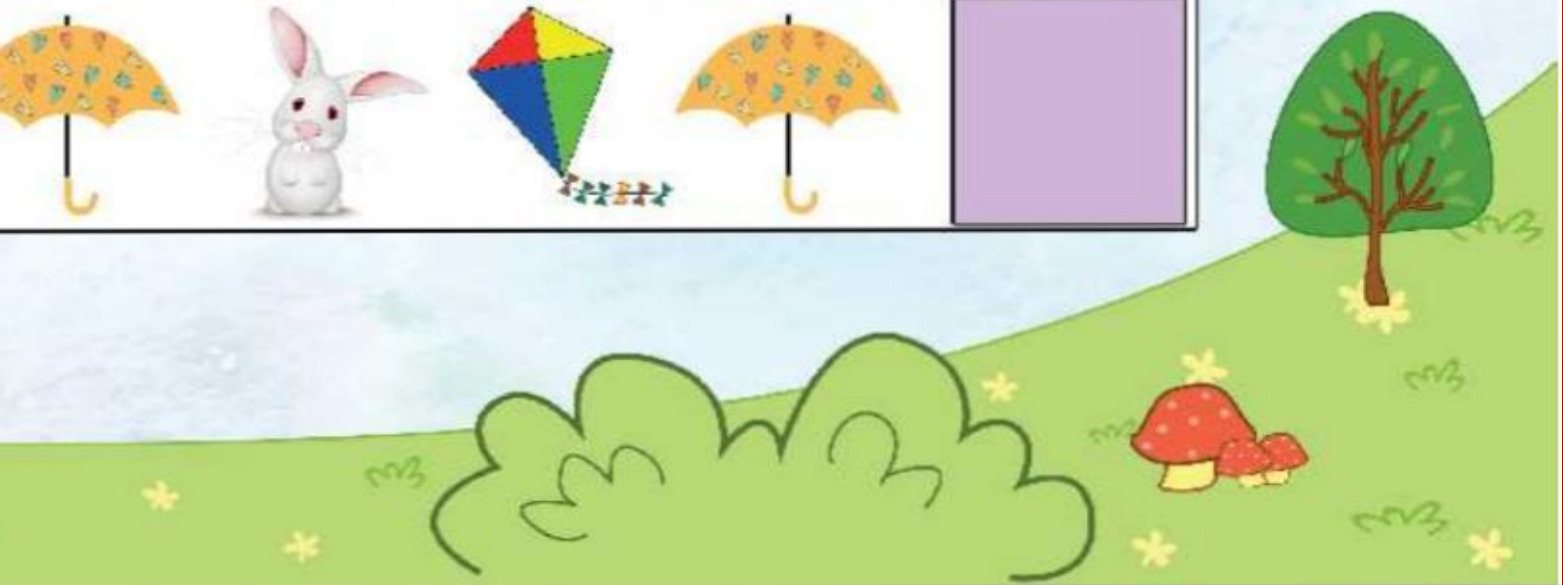
۷

علوی

به الگوها نگاه کن و ادامه‌ی آن را از آخر کتاب جدا کن و در جای مناسب بچسبان.



علوی





۳	۵	۷	۴
۷		۵	۳
	۷	۳	۵
۵	۳	۴	

جداول زیر را کامل کن. 

۶	۲		۲		۶
۸		۲	۸	۶	
	۸	۶		۲	۸
	۶	۲	۸	۶	
۶		۸		۲	۸
۲	۸		۲		۶

هر دسته از تصاویر را بشمار و به اعداد وسط تصاویر وصل کن. ?



۶



۴



۸



۷

الگورا ادلمه بده. ?

۱ ۲ ۳ ۴ ۵ ۶ ۷ ۸



علوی