










برنا رفت تا به حیواناتش سر بزند. آیا می‌توانی حیوانات را بشماری و به تعداد آن در جدول پایین رنگ آمیزی کنی؟




									
									
									
									
									
									



درنا تعدادی مداد را دسته بندی کرد و از برنا خواست تا به هر دسته از مدادها یک مداد اضافه کند.
حالا تعداد مدادهای هر دسته را به انگشت مناسب است وصل کن.



به تعداد انگشتان دست به اشکال اضافه کن و چوب خط آن را بکش.




آشنایی با مفهوم اضافه کردن به دسته

هر یک از دسته‌های زیر چند شکل دارد؟ به هر دسته دو شکل اضافه کن.



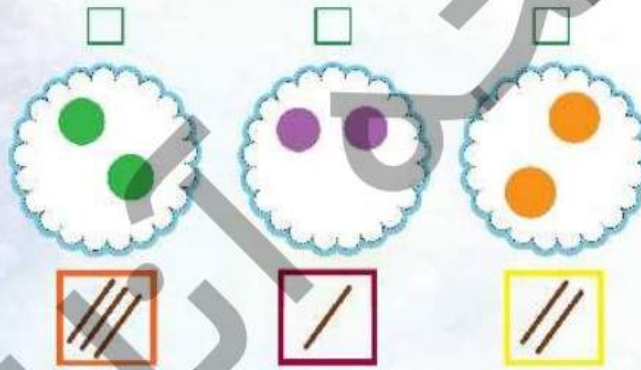
سپس در زیر هر دسته بنویس چند شکل دارد؟




به تعداد چوب خط‌ها نگاه کن. هر تعداد چوب خط در زیر هر دسته می‌بینی، به همان تعداد به شکل‌های



داخل دسته اضافه کن. حالا هر دسته چند شکل دارد؟ عدد جدید را بالای هر دسته بنویس.



به دسته‌های سمت راست شکل‌هایی را اضافه کن تا تعدادش با دسته‌ی سمت چپ برابر باشد.



آشنایی با مفهوم اضافه کردن به دسته

